

新北市立中正國民中學113學年度第一學期九年級社會科第一次段考試題

範圍：公民 B5L1~2、歷史 B5L1~2-1、地理 B5L1~2 班級：_____座號：____姓名：_____

【讀卡科目請依規定畫卡，若有違反畫卡規定而影響讀卡作業之情事，一律扣總分 5 分。】

一、選擇題


(第1~16、29~45題，每題2分，共33題，66分；
第17~20、22~25題，每題3分，共8題，24分；
第21、26~28題，每題2.5分，共4題，10分。)

1. 有關「選擇」的內涵，下列哪位同學的說明正確？

(P.141,142,143)

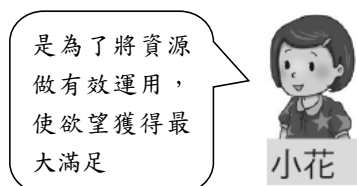
(A)

(B)



(C)

(D)




2. 中正里的里民反映住家周邊常有免費停車格遭到特定人士長期占用，里長為此召開里民大會，並邀請相關人員與會。最終里民大會表決通過，取消中正里的免費汽車停車格，全面納入收費管理以改善停車秩序，區公所則表示會全面配合里民大會的決定。上述停車格分配方式的變化為何？ (P.150)

- (A) 預約登記改為相互協調
- (B) 先占先贏改為使用者付費
- (C) 相互協調改為先占先贏
- (D) 輪流使用改為預約登記。

3. 情人節即將來臨，花卉價格上漲，尤其象徵愛情的玫瑰花價格更是居高不下。此時花店業者最可能採取何種做法？ (P.155)

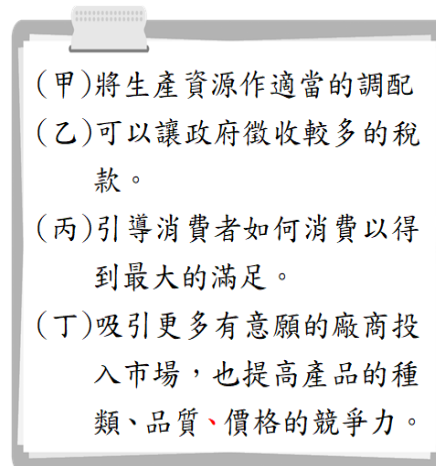
- (A) 增加花卉的供給量
- (B) 提高生產成本
- (C) 降低產品價格
- (D) 減少銷貨數量。

4. 以下是苡蓀生產蛋糕時所考量生產方式的示意圖——(P.154)



- (A) 生產什麼 (B) 如何生產
- (C) 為誰生產 (D) 為何生產。

5. 當商品的價格隨著廠商與買家雙方的選擇來調整時，對消費者及生產者而言，可以帶來附圖中哪些好處？ (P.151)

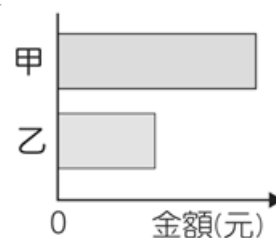


- (A) 甲乙丙(B) 甲乙丁
- (C) 乙丙丁(D) 甲丙丁

6. 同一件事可能因為不同誘因的加入，導致機會成本發生改變，進而影響我們的選擇。下列何項行為不適合以誘因解釋？ (P.144,145)

- (A) 小明因吃到過期食品而不停跑廁所
- (B) 大祥想獲得獎品而參加比賽
- (C) 小芬為贏得獎盃而辛苦練舞
- (D) 小露希望受關注而努力練跑。

7. 附圖為930班在園遊會擺設水煎包攤位的營收結果，其中甲代表銷貨收入，乙代表利潤。若後來發現生產成本中少列入「兩罐辣椒醬」的費用，在此筆費用列入計算後，圖中甲、乙最可能出現的情況為下列何者？(習作)



- (A) 甲不變，乙下降
- (B) 甲不變，乙上升
- (C) 甲上升，乙不變
- (D) 甲下降，乙不變。

8. 大雄和女友靜香正在討論情人節的燭光晚餐，網路上有甲、乙餐廳均推出情人節特餐，在價格方面，甲餐廳較乙餐廳優惠；在服務品質上，乙餐廳則較優。若靜香僅想到服務品質較好的餐廳用餐，而大雄只想以優惠價格用餐，則對兩人而言，到哪一間餐廳用餐的機會成本較高？ (P.142)

- (A) 皆為甲餐廳
- (B) 皆為乙餐廳
- (C) 靜香：乙餐廳，大雄：甲餐廳
- (D) 靜香：甲餐廳，大雄：乙餐廳。

後面尚有試題，請繼續作答

新北市立中正國民中學113學年度第一學期九年級社會科第一次段考試題

範圍：公民 B5L1~2、歷史 B5L1~2、地理 B5L1~2 班級：_____座號：____ 姓名：_____

9. 請根據附圖爾康和曉萱聊天的內容判斷，曉萱的消費行為主要是受到哪些因素影響？(習作)

- (A) 產品價格和預期心理
- (B) 個人偏好和所得水準
- (C) 個人偏好和廣告行銷
- (D) 產品價格和個人偏好。



10. 幸福遊樂園為了配合防疫措施，實施人流管制，遊樂設施採預約制。大雄和家人共9人同遊，若他們想一起預約使用相同的遊樂設施，下列何者會出現資源「稀少性」的問題？(P140.)

- (A) 空中纜車
- (B) 咖啡杯
- (C) 旋轉木馬
- (D) 海盜船。

| 遊樂設施 | 10:00~12:00 時段 剩餘可預約的座位 |
|------|----------------------------|
| 空中纜車 | 9 |
| 旋轉木馬 | 8 |
| 咖啡杯 | 10 |
| 海盜船 | 11 |

11. 小浚在一家麵包店工作，因為已經累積相當的經驗和人脈，決定辭去工作，利用原本租給他人的店面，自己開業當麵包店老闆。下表所示為小浚經營麵包店的資料——(P.143)

| 項 目 | 金額(元/月) |
|--------|---------|
| 員工薪資 | 10 萬 |
| 麵包成本 | 20 萬 |
| 水電瓦斯 | 1 萬 |
| 原薪資收入 | 2 萬 |
| 店面出租收入 | 5 萬 |

小浚在計算總生產成本時，根據附表中資料，麵包店每個月的銷貨收入至少要達到多少金額，經營這家麵包店才划算？

- (A) 20萬元
- (B) 31萬元
- (B) 36萬元
- (D) 38萬元。

※12至14題為題組，閱讀下列圖文後回答問題：

欣好今年大學畢業預備投入職場，如果不考慮其他因素，單純以工作月薪來比較，她目前可以選擇的工作、薪資和機會成本的對照如下表，請回答下列問題：

| 項目 | 月薪 | 機會成本 |
|------|----------|----------|
| 人資專員 | 35,000 元 | 33,000 元 |
| 銷售業務 | 甲 | 35,000 元 |
| 公關助理 | 32,000 元 | 乙 |
| 超商店員 | 31,000 元 | 35,000 元 |

- 12. 銷售業務的薪資「甲」應為多少錢？
(P.141,142,143)
(A) 35,000元 (B) 33,000元
(C) 32,000元 (D) 31,000元。
- 13. 擔任公關助理的機會成本「乙」應為多少錢？
(P.141,142,143)
(A) 35,000元 (B) 33,000元
(C) 32,000元 (D) 31,000元。
- 14. 如果單純以薪資為考量，欣好應該選擇哪一個工作？
(P.141,142,143)
(A) 人資專員 (B) 銷售業務
(C) 公關助理 (D) 超商店員。

※15至16題為題組，閱讀下列圖文後回答問題：

志強是一位家庭主夫，附表是他最近購買蔬菜的數量與價格表。

| 日期 | 價格 (每把) | 購買數量 (把) |
|----------|------------|-------------|
| 4 月 1 日 | 20 | 6 |
| 4 月 6 日 | 30 | 4 |
| 4 月 11 日 | 15 | 8 |
| 4 月 16 日 | 40 | 3 |

- 15. 志強在4月11日與4月16日的購買數量有差異的主要原因為何？(P.154,155)
(A) 家中臨時有客人到訪
(B) 蔬菜的價格變動導致
(C) 突然流行吃蔬菜養生
(D) 颱風使蔬菜產量大減。
- 16. 在這四天當中，志強在哪一天購買蔬菜的成本最低？
(P154,155.)
(A) 4月1日 (B) 4月6日
(C) 4月11日 (D) 4月16日。

後面尚有試題，請繼續作答

新北市立中正國民中學113學年度第一學期九年級社會科第一次段考試題

範圍：公民 B5L1~2、歷史 B5L1~2、地理 B5L1~2 班級：_____座號：____姓名：_____

17. 《致伊亞納希爾的投訴碑》是一塊被送往古代城邦烏爾的泥板，書寫於約公元前 1750 年。這是一位名叫納尼（Nanni）的客戶對一位名叫伊亞納希爾（Eanāšir）的商人的投訴。這塊泥板以 O O 文字寫成，可能是已知「最古老」的書面客戶投訴信。

內文摘要：

投訴 1：你（Eanāšir）明明答應要給我（Nanni）銅礦，結果你送來之後噲我說「你要就拿、不要拉倒」

投訴 2：我的態度這麼好，你的態度怎麼這麼差，貨物還敢給我遲交！

投訴 3：我要求你賠償！

投訴 4：我以後不跟你做生意了！

由於這塊泥板上的內容，尤其是對伊亞納希爾的那段抱怨，在 2015 年開始被作為網路迷因而走紅。根據你的歷史學知識，請問下列推論何者「正確」？



- (A)根據投訴碑文可窺見烏爾城商業發展的活躍
(B)O O 應為由腓尼基所簡化並傳播的文字系統
(C)此泥版的書寫方式應使用當地植物榕樹所刻寫而成
(D)發明這套文字的民族居住於台伯河畔
(課本 P.84-86、93)
18. 埃及《亡靈書》中描述「Ra」：「祂是最初即存在的至高神祇」，而法老則是作為拉 Ra 的子嗣，以神的名義來統治人間。根據前述，請問埃及神明 Ra 所執掌的內容應為何者？(A)週而復始的再生能力 (B)必定能戰勝邪惡的光明神 (C)主宰宇宙的存在 (D)掌管眾生輪迴轉世的判官。(課本 P.85-86、89)
19. 《摩奴法典》中寫道：「剎帝利辱罵婆羅門，罰款 100 帕那（錢的單位）。吠舍辱罵婆羅門，罰款 150 到 200 帕那。首陀羅辱罵婆羅門，用滾燙的油灌入他的口中和耳中；婆羅門污辱剎帝利，罰款 50 帕那。婆羅門污辱吠舍，罰款 25 帕那。婆羅門污辱首陀羅，罰款 12 帕那。高級種姓的人，如果殺死一個首陀羅，僅用牲畜抵償。」請問：以文中內容作為證據，可以得到下列哪一個「最合適」的結論？(A)說明阿利安人建立種姓制度的緣起(B)從文中責罰條件未見報復主義，可見法律面前人人平等 (C)根據法典內容可見國王為鞏固自身地位，他應為吠舍階層 (D)從文中可通過處罰輕重排序各階級地位(課本 P.85.88)

20. 哈佛大學的校訓，「Amicus Plato, Amicus Aristotle, Sed Magis Amicus VERITAS」，拉丁文的譯文即「與柏拉圖為友，與亞里士多德為友，更要與真理為友」，這是哈佛學生學習和為人的準則。請問關於柏拉圖與亞里士多德的敘述何者「正確」？(A)他們是希臘文化下的代表哲學家 (B)他們對歷史的貢獻為雅典民主政治制度開創者(C)他們分別寫下《歷史》及《奧德賽》(D)他們兩位與蘇格拉底合稱「希臘三哲人」(課本 P.91-92)

21. 請閱讀下列文章並回答問題：

根據 2011 年的英國報導，一位名叫艾倫比利斯的英國男子因為肺癌去世。在他生前，他與英國的研究團隊達成協議，要把自己的屍體交給團隊實驗重現古老的木乃伊技術。艾倫的所有器官除了心臟之外都被摘除，屍體浸泡至特殊液體中長達一個月之久，之後再經過長時間的風乾。經歷超過三個月的製程後，艾倫的皮膚呈現皮革般的質感，研究團隊將它包覆在亞麻布中，並宣稱這是一場極為成功的實驗，艾倫的木乃伊重現古文明的智慧結晶。

艾倫的妻子珍妮特並沒有因為丈夫的特殊「葬禮」而感到悲傷或恐慌，她還曾開玩笑說：「我是本國唯一一個有個木乃伊丈夫的人。」、「孫子們可以跟朋友說，爺爺是個木乃伊了。」

請問艾倫所重現的古文明智慧結晶，其原本的作用目的為下列何者？(A)取悅神明祭神之用(B)期望死而復生 (C)追求長生不老(D)使靈魂得以超脫輪迴（課本 P.84-86、88-89、93）

22. 現在西方語言中的「政治」politics 一詞，來自於古希臘文的「城邦」polis 一詞，即城邦的事物。根據詞源，後代的我們可以理解到希臘城邦誕生的城市管理原則影響現代政治的建構。請問以下關於古希臘城邦政治的相關敘述，何者「錯誤」？(A)希臘因崎嶇地理條件形成許多城邦，其中雅典是希臘最為著名的城邦，有良好公平的政治氛圍，只要是居住當地的所有人民都有參與公眾事務的權利 (B)此外，雅典有陶片放逐法，利用此機制，讓居民可以通過投票放逐對城邦有害之人(C)在波希戰爭後，斯巴達與雅典對立，而斯巴達以嚴格的軍事訓練為著名，重視紀律 (D)雅典與斯巴達各自召集聯盟引發希臘城邦內戰，最終由馬其頓王國脫穎而出（課本 p.90-91）
23. 2015 年 10 月，印度北部哈里亞納邦一個村落爆出兩名賤民幼童被高階種姓村民活活燒死的事件，家屬傷心地哭喊，這起事件也點出印度社會仍有種姓歧視。有關種姓制度，請問下列敘述何者「正確」？(A)追溯種姓制度，其創立者是希伯來人，種姓制度森嚴，世代不能通婚(B)以吠陀經為教義，只要多做善事，就能超脫因果報應與輪迴(C)種姓階級的高低順序，依序為剎帝利、婆羅門、吠舍、首陀羅，賤民並不在種姓系統中(D)釋迦摩尼不滿種姓制度的階級觀念，奠基於婆羅門教義，提倡改革的新宗教，成為現在流行於東亞、東南亞等地的普世宗教(課本 P.88)

後面尚有試題，請繼續作答

新北市立中正國民中學113學年度第一學期九年級社會科第一次段考試題

範圍：公民 B5L1~2、歷史 B5L1~2、地理 B5L1~2 班級：_____座號：____ 姓名：_____

※第 24-25 題閱讀下列圖文後回答問題：

甲



乙



丙



丁



24. 明朝時期，第一個來華的傳教士利瑪竇與中國學者於 1607 年時合作推出《幾何原本》的譯本。請問關於《幾何原本》的敘述，何者「正確」？(A)《幾何原本》的作者為阿基米德(B)收錄之內容成為現代數學的基礎，六十進位法正是作者原創的發現(C)這位與利瑪竇合作的中國學者應為徐光啓(D)幾何原本為「甲」時代下的產物。(課本 p.92)

25. 請閱讀文章回答題目：

「瑣羅亞斯德教是由一名 OO 人瑣羅亞斯德所創立的，他出生於一個信仰原始多神宗教的家庭。瑣羅亞斯德出生的時代，是個具極重階級觀念的社會，地位最高的是祭司和統治階層，而往往這兩個階層的人都會透過演繹宗教教義去壓迫和控制平民百姓，情況與古印度的 XX 教相近。瑣羅亞斯德不滿這種以宗教為中心的社會階級制度，因此他毅然脫離這個原始宗教，創立了瑣羅亞斯德教。

瑣羅亞斯德教的核心思想為其提倡的「二元論」，認為宇宙中所有東西都存在正反兩面，例如有善便有惡，有創造也有毀滅。善神與惡神永無止盡的爭鬥，如世界中白天與黑夜的交替，而人類無可避免地捲入這場爭鬥中，在瑣羅亞斯德教的教義中，人類擁有自由

意志，可依其自由意志去選擇善與惡。

然而，現代的瑣羅亞斯德教義與原教義不同之處，在於現代教義認為人類始終是性本善，善最後都能戰勝惡，這與原瑣羅亞斯德教的二元論是不相符的。」

根據文中所述，請問瑣羅亞斯德教是因為哪一個帝國奉行此教，而廣泛流通於世界？(A) 甲(B) 乙(C) 丙(D) 丁。(課本 p.85)

26. 承上題，請問 XX 教為何？(A) 婆羅門教 (B) 猶太教 (C) 佛教 (D) 祆教。(課本 p.85)

27. 他為了奪取王位與手足進行激烈的內鬥，並謀殺了兄弟姐妹九十九人，最後成功登上王位。他即位後不久，便積極對外擴張，其中最大規模的一次擴張是對羯陵伽國的遠征，此次軍事行動有十五萬人被俘虜，十萬人被殺，死傷數十萬。這次的戰爭對他帶來了深遠的影響，之後他開始大力推崇某一宗教，並舉辦宗教集會，派出許多傳教團體向周遭國家宣揚此一宗教。請問文中所描述的君主，其生平事蹟「符合」哪一個選項的描述？(A) 帶領族人回到上帝的應許之地，傳播一神信仰的觀念(B) 以自身經歷證明光明會戰勝邪惡，廣播善惡對立的宗教(C) 重視肉體防腐技術，幫助因戰爭而死亡的人民追求復生(D) 這位君主對此宗教傳播的貢獻影響深遠(習作第一課 P.23)

28. 以下節錄自 OOO 法典：「第 104 條：若大商人把穀物、羊毛、油或其他貨物交給小商販出售，則小商販應結算金額給大商人。小商販交給大商人的錢，要收取蓋章的文件。第 105 條：小商販交給大商人的錢，若沒有收取蓋章的文件，則這些錢就不算數。第 196 條：若一個平民打瞎另一個平民的眼睛，前者的眼睛應該被打瞎。第 199 條：若一個平民打瞎一個奴隸的眼睛或打斷他的骨頭，平民應該賠償此奴隸身價的一半。」以下為根據法條的論述，請問何者「錯誤」？(A) 根據第 104、105 條的條文，可推知該民族重視簽訂交易的契約(B) 根據第 196 條的條文，可知此部法典主要具有報復原則(C) 綜合第 196、199 條的條文，可知該民族社會中平民打奴隸不受罰(D) 此為民族應為兩河流域的巴比倫人(習作第一課 P.22)

後面尚有試題，請繼續作答

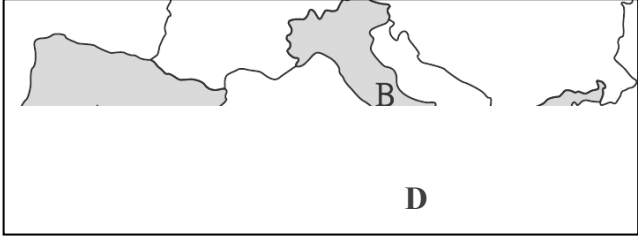
新北市立中正國民中學113學年度第一學期九年級社會科第一次段考試題

範圍：公民 B5L1~2、歷史 B5L1~2、地理 B5L1~2 班級：_____座號：____ 姓名：_____

29. 荷蘭男生平均身高達 184 公分、女性平均身高 170 公分，堪稱「巨人國」這與人民在日常飲食中大量攝取富含鈣質的牛奶和乳酪有關，有關此國的酪農業發達何者正確？(P.16)

(A)地廣人稀、人力不足，而發展酪農業
(B)地勢陡峭、氣候涼爽，適合開闢牧場
(C)填海後的圩田，大量種植耐鹽的牧草以飼養乳牛
(D)配合當地雨量少，酪農的發展優勢大於農業

30. 下圖為南歐簡圖，有關南歐的敘述何者敘述正確？(P.18)



(A)海岸線曲折是因長年的冰河侵蝕
(B)此區多為地中海農業區，是歐洲重要蔬果產區
(C)C國臨近直布羅陀海峽，航運業發達
(D)降雨呈現夏雨冬乾，年溫差大

31. 桑拿浴(Sauna)也就是俗稱的三溫暖源於芬蘭，已有兩千年以上的歷史，當地人在湖畔小屋內享受高溫蒸氣，然後跑出屋外躍入湖中，利用冷冽的湖水收縮肌膚。現在北歐多數飯店有提供桑拿浴的服務，可藉此去除身上的寒氣，運用蒸氣對人體進行理療。請問該地區的湖泊成因最可能為下列何者？(P.13)

(A)板塊運動 (B)火山活動
(C)斷層陷落 (D)冰河侵蝕

32. 下表為歐洲與俄羅斯中某四城市的地理資料，表格中的甲至丁最可能位在哪些國家 (P.12)

| 國 | 經度 | 緯度 | 一月均溫 | 七月均溫 |
|---|-------|------|-------|------|
| 甲 | 0° | 51°N | 6.8 | 19.6 |
| 乙 | 131°E | 43°N | -11.9 | 18.1 |
| 丙 | 21°W | 64°N | -0.5 | 10.8 |
| 丁 | 12°E | 41°N | 7.4 | 24.2 |

(A)甲義大利、乙瑞典、丙俄羅斯、丁法國
(B)甲挪威、乙芬蘭、丙俄羅斯、丁希臘
(C)甲法國、乙烏克蘭、丙葡萄牙、丁西班牙
(D)甲英國、乙俄羅斯、丙冰島、丁義大利。

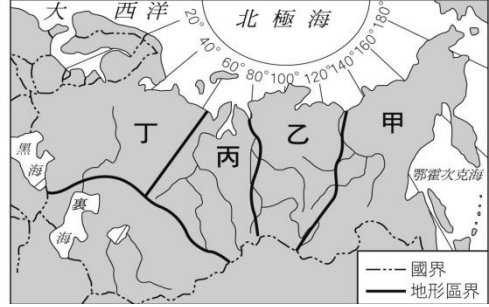
33. 承上題，表格中的乙跟丁兩地在最冷月時溫度相差近20℃，主要是受到哪項因素的影響最明顯？(P.14)

(A)洋流性質 (B)距海遠近
(C)地形屏障 (D)緯度高低。

34. 下列有關歐盟(EU)的敘述，何者正確？(P.24)

(A)臺灣生產的產品出口至歐盟不需課稅
(B)成員國以英文為單一官方語言
(C)歐盟會員國皆須使用歐元為單一貨幣
(D)法國核發的醫師執照，到德國也能執業

35. 下列有關俄羅斯的敘述何者正確？(P.26)



(A)甲區的地形多受板塊擠壓影響
(B)丙區氣候條件相對佳，為俄國人口精華區
(C)丁區降雨多是透過東南風帶來太平洋水氣
(D)俄羅斯河川大多向南流。

36. 據英國《金融時報》報導，2024年5月歐洲從俄羅斯進口的天然氣近兩年來首次超過美國天然氣，俄羅斯重新成為歐洲天然氣最大供應國，自烏俄戰爭以來儘管歐洲想方設法與俄羅斯能源「脫鉤」、在能源供應上去風險，但卻看到俄羅斯天然氣仍在歐洲市場份額增加，這結果「令人震驚」。有關俄羅斯產業何者敘述錯誤？(P.29)

(A)國內大型工業區多臨近北極海，方便進出口
(B)透過大量礦產及原物料出口賺取外匯
(C)利用管線運輸，密集連通歐洲及亞洲多國
(D)積極與新興工業國家合作，提高國際經貿影響力

37. 總部位在法國的空中巴士公司(Airbus S.A.S)是歐洲最大的民航飛機製造公司，由數個國家公司出資成立，並跨國合作研發與設計，再由法國負責生產飛機控制系統、英國製造引擎、德國生產機體、西班牙負責尾翼。歐洲國家共同製造飛機的主要原因為何？(P.24)

(A)資金籌措不易，公司互助合作
(B)整合各國優勢，建立歐洲品牌
(C)人口少，各國市場狹小
(D)勞力昂貴，生產成本過高

38. 近年來，台灣有部分產業如半導體、汽車零組件等，為了開拓歐洲市場，紛紛在歐洲設置海外分公司與生產工廠，一方面可利用當地高素質且低工資的勞力，一方面可成為產品進入歐洲主要市場的據點，根據上述台灣廠商最可能選擇在歐洲何區設廠？(P.19)

(A)甲 (B)乙 (C)丙 (D)丁。

39. 瑞典因創業風險較低，新創企業數量頗多，但是多數企業在發展成熟後，往往難以在瑞典存續，甚至選擇遷往他國發展。造成這些企業選擇外移，最可能面臨的是何種困境？(P.19)

(A)勞工薪資與權益過高，企業難以負擔
(B)冰河地形發達，地表崎嶇，交通不便
(C)近北極圈且氣候嚴寒，不宜人居
(D)需繳納高額稅率給政府，壓縮獲利空間



後面尚有試題，請繼續作答

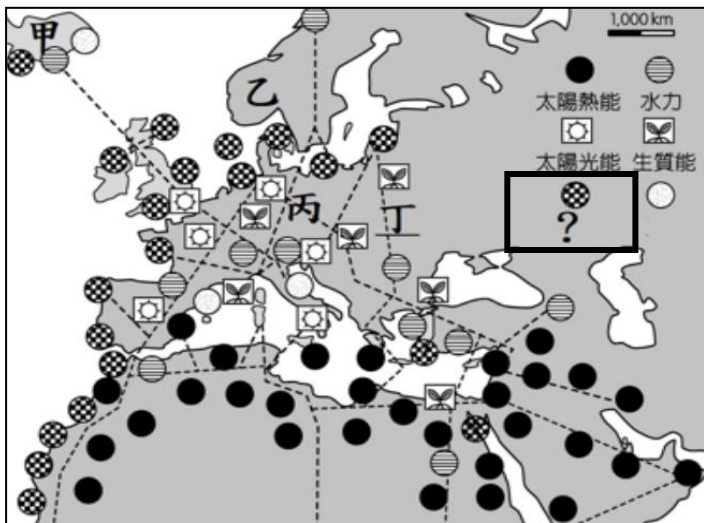
新北市立中正國民中學113學年度第一學期九年級社會科第一次段考試題

範圍：公民 B5L1~2、歷史 B5L1~2、地理 B5L1~2 班級：_____座號：____ 姓名：_____

40. 據調查此區每6人中就有一人有SAD，SAD是病名「季節性情緒失調」的字首縮寫，俗稱「冬季憂鬱症」。季節性的情緒波動與陽光有很大的關係，此區入冬後晝短夜長，當人無法獲得充足的日照，除了維他命D不足外，生理、心理、內分泌皆受影響，長期下導致情緒低落，上文現象最常見於何種氣候區？(P.14)

(A)寒帶 (B)高地 (C)溫帶海洋性 (D)溫帶大陸性

41. 為保護歐洲共同環境，歐盟一直積極推動「歐洲清淨能源計畫」，要善用歐洲各地的再生能源，並結合北非撒哈拉沙漠的太陽熱能發電達到高科技、省能源、低污染的目標。附圖為再生能源發電廠的分布地點，圖中方框未標示種類的圖例，最可能是哪種再生能源？(P.14)



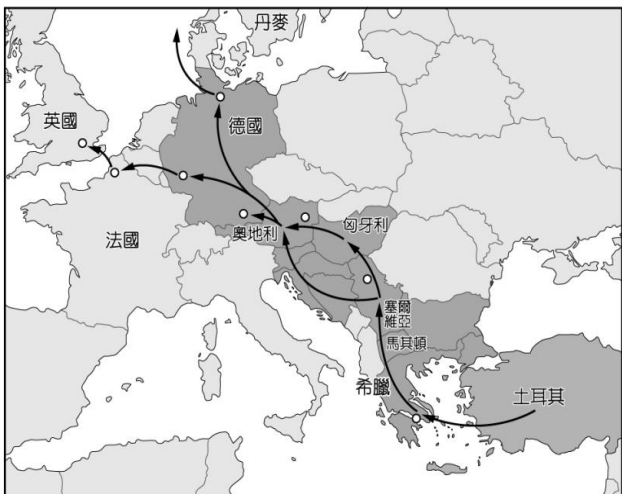
(A)核能 (B)地熱 (C)潮汐 (D)風力

42. 「莫斯科的聖瓦西里大教堂被視為該國的代表性建築，以九顆鮮豔繽紛的『洋蔥頭』教堂頂為一大特色，外觀氣勢驚人、色彩迷人，教堂內部還收藏16至17世紀的壁畫和文物，在1990年時被列入世界遺產。」上文提及的宗教應為何者？(P.28)

(A)天主教
(B)東正教
(C)伊斯蘭教
(D)印度教



43. 附圖為土耳其難民偷渡到歐洲的路線，基於人道原則歐洲國家收容大量難民，但由於人數過於龐大，而引起歐洲各國間內政上的爭端，依此路線這些難民不會經過哪個地理區？(P.13)



(A)伊比利半島 (B)地中海 (C)歐洲大平原 (D)巴爾幹半島

44. 2018年的世界盃足球賽，德國在小組賽就慘遭淘汰，土耳其裔的德國足球大將厄齊爾賽後被德國輿論就土耳其裔的身份大肆抨擊。厄齊爾表示：「贏了球，我是德國人，輸了球，我就是個移民。」土耳其目前是德國境內最大的移民群體，約有 300 萬人人數眾多，其主要原因為何？(P.15)

(A)同屬歐盟成員國，國民能互相流通
(B)土耳其位處巴爾幹半島，毗鄰德國
(C)德國經濟發展程度較佳，拉力強
(D)兩國宗教信仰上都以伊斯蘭教為主

45. 8個時區，87個城市，154個車站，168個小時，9288公里，這些關鍵詞彙聚到一起，便構成了世界上最為壯麗、傳奇的鐵路「西伯利亞鐵路」，若要搭乘這條鐵路由東向西前行，沿途最常見的景觀可能為何？(P.27)

(A)苔原 (B)針葉林 (C)闊葉林 (D)灌木叢。

試題結束