

# 新北市立中正國民中學112學年度第二學期七年級社會科第一次段考試題

範圍：公民 B1L1~2、歷史 B1L1~2、地理 B1L1~2 班級：\_\_\_\_\_座號：\_\_\_\_ 姓名：\_\_\_\_\_

【讀卡科目請依規定畫卡，若有違反畫卡規定而影響讀卡作業之情事，一律扣總分 5 分。】

## 一、選擇題：每題2分，共100分

1. 勞動部對於颱風天勞工是否要出勤表示：「雇主應以安全為首要考量，如果有違反勞動基準法規定的狀況，勞工可撥打『1955』專線申訴。」上述內容說明下列哪種事實？(習作P.44)  
(A)以宗教的力量感化人心 (B)以法律規範外在行為  
(C)以道德的力量約束雇主 (D)以各種社會規範共同降低颱風的損害。
2. 下列四位同學對於「文化」的描述，何者正確？(習作P.40改寫)  
(A)小芬：文化是透過先天遺傳的影響，代代相傳  
(B)小傑：文化不是人類社會特有的現象，動物界也有文化  
(C)小文：大自然的變化也可以稱為是文化的一部分  
(D)小蕙：文化是人類的生活方式，所以會受到環境的影響而有所不同。
3. Cosplay最早起源為美國迪士尼樂園卡通人物扮裝，後傳入日本，結合當地動漫文化而形成的一種文化。其名稱起源於Comic Market（日本同人誌即賣會）召集人米澤嘉博先生，於1978年首度以Costume Play指稱裝扮為動漫角色人物的行為。在1984年，日本動畫家高橋伸之以「和製英語」Cosplay確立名稱。Cosplay扮演類型包括：動漫畫、遊戲、電玩、電視劇、電影、節目吉祥物、布袋戲角色等。請問，Cosplay 屬於下列何種文化？(習作P.40)  
(A)次等文化 (B)主流文化  
(C)次文化 (D)弱勢文化。
4. 下列是醫界奉行的四個原則：

- 一、不加害原則：絕對不能故意讓病人比原來的情况更糟糕。
- 二、施益原則：每一個醫療的處置，都要對病人有益處。
- 三、自主原則：每位病人都有權利決定要接受或不接受某個醫療處置。
- 四、公義原則：對於有限的資源，必須謹守公義原則做合理的分配。

根據上述內容判斷，其為哪種社會規範？

- (A)風俗習慣 (B)倫理道德 (C)宗教信仰 (D)法律。  
(P.135~138)
5. 下面四位同學，對文化特性的描述，何者正確？(P.126)  
(A)小新：人類為求生存，不論是住在世界何處，都會發展出圖畫、語言、文字等溝通方式，以適應環境。這是文化的「差異性」。  
(B)妮妮：豎起大拇指的手勢，在我國表示「真棒」，但在孟加拉卻是侮辱人的意思。顯示了文化具有「制約性」。  
(C)正男：地理環境的差異使得每個社會的主食不盡相同，例如：中國是南稻北麥、阿根廷是玉米、墨西哥

是豆類等。這展現了文化的「普遍性」。

- (D)阿呆：歷史課學到史前時代的臺灣，可分為舊石器時代、新石器時代及金屬器時代，其所使用的工具愈趨精緻，甚至發展出陶器和打磨的金屬器。歷史學家如此區分，顯示了文化的「累積性」。
6. 學校正在進行「再靠近一點點，次文化！」活動，誰的說明最接近次文化的概念，就可以獲得禮物。下列何者最有機會獲得禮物？(P.127)  
(A)酥酥：被大多數人遵循與認同的文化  
(B)好好：與主流文化對立互斥  
(C)小巫：次文化比主流文化低等  
(D)子虔：次文化是一種與主流文化不同的獨特文化。
  7. 柯南決定迎娶小蘭為妻子，他參考結婚迎娶流程一覽表於下：

STEP 1：男方祭祖

STEP 2：鳴炮、拜轎

STEP 3：喝甜茶、闖關

STEP 4：拜別女方父母

STEP 5：擲扇、潑水

STEP 6：鳴炮、拜轎

STEP 7：拜堂

STEP 8：吃甜湯圓、入洞房

STEP 9：進行婚禮喜宴

請問，上述結婚流程，屬於何項社會規範？(P. 135~138)

- (A)風俗習慣 (B)倫理道德 (C)宗教信仰 (D)法律
8. 民國九十六年五月二十三日立法院修正民法第九八二條，並經總統公布，改採所謂的「登記婚」：「結婚應以書面為之，有二人以上證人之簽名，並應由雙方當事人向戶政機關為結婚之登記」。將我國婚姻制度由「儀式婚」修正為「登記婚」，這是為了杜絕騙婚、重婚。目前國人結婚不再以公開儀式為認定標準，而是必須要向戶政機關登記，婚姻才算正式生效。文中修正案屬於下列何種社會規範？ (A)風俗習慣 (B)倫理道德 (C)宗教信仰 (D)法律。(P. 135~138)
  9. 浩子：搭捷運讓座給老弱婦孺，是大家熟知的觀念。阿翔：新冠肺炎防疫期間，搭捷運不戴口罩，最高可能會被罰15,000元。

上述兩人提及的兩項社會規範，在約束個人行為效果方面有何差異？ (A)違反前者不會有強制性處罰；違反後者會受到強制處罰 (B)前者可規範外在行為及內在良心；後者僅能規範個人內在良心 (C)違反前者會受公權力制裁；違反後者只會受到他人的批評 (D)兩者皆基於良心約束而產生制裁力。(P.138~139)

背面尚有試題，請繼續作答

# 新北市立中正國民中學112學年度第二學期七年級社會科第一次段考試題

範圍：公民 B1L1~2、歷史 B1L1~2、地理 B1L1~2 班級：\_\_\_\_\_座號：\_\_\_\_ 姓名：\_\_\_\_\_

10. 「艋舺青山王遶境」是臺北萬華地區重要的廟會活動，青山王原本是泉州惠安人的地方信仰，經過多年發展成為地方上重要的宗教活動，為了讓民眾真正了解此活動的內涵，有民間團體舉行收費式的導覽活動，讓參加導覽的成員能近距離接觸陣頭儀式、深入了解遶境文化，希望能達到此文化活動代代流傳的目的。關於上文所述，下列說明何者最正確？(P.127~129)
- (A)遶境活動呈現在政策上落實各族群的平等  
(B)導覽活動採取收費方式將會形成文化位階的現象  
(C)廟會活動屬次文化，須透過文化創新才能成為主流文化  
(D)文中的導覽活動，是透過了解多元文化的內涵來落實文化傳承。
11. 中正國針對日益嚴重的酒駕問題，邀請各方代表參與公聽會，表達自己的看法：
- 專家甲：宴會時總有勸酒習慣，導致這些人喝酒後去開車易發生車禍，因此應從這一舊文化下手，應能降低比例。
- 專家乙：這些酒駕者應被要求去看酒駕事故的慘狀影片，讓他們今後若想酒駕時，會不斷回想影片內容而畏懼不敢去做。
- 專家丙：亂世用重典！唯有透過嚴刑峻法和科技執法才能讓這些酒駕者不會再犯，因此，我認為不加重處罰是沒有效的啦！
- 請分析上述三位專家的主張內容具有何種效力？
- (A)三位專家均主張人民輿論施壓可改善現況  
(B)專家甲的意見是發揮強制力規範約束行為  
(C)專家乙的說法是啟迪內在良知來解決問題  
(D)專家丙的看法是在強調科技倫理的重要性。(P.135~138)
12. 哈利說：「昨天(甲)到南部掃墓祭祖，路上一不小心就(乙)開車撞到前面的車子，必須損害賠償。回到家，居然看到(丙)孩子為了誰先用電腦在吵架，我還得忙著排解兩兄弟糾紛，晚上覺也沒睡好，因為樓下(丁)鄰居三更半夜打麻將，加上吆喝的聲音，實在太吵了。」經理聽了說：「中午請波利和大家(戊)吃豬腳麵線，去霉氣兼補運氣，明天以後大家事事順心。」以上短文中，哪些可運用「法律」來處理？(P. 135~138)
- (A)乙丁 (B)丙丁 (C)甲乙 (D)丙戊。
13. 環保署近年來推動減香、減金、減炮之「一尊三減一目標」措施，部分宗教團體及民眾誤解環保署是以禁燒、封爐的強制方式管制民間信仰及民俗活動，環保署表示，將持續以宣導方式，鼓勵宮廟及民眾減少燒香、燒紙錢而產生的空氣懸浮微粒，以保護民眾的健康。上述方式顯示政府是用什麼方式在推行政策？
- (A)宗教信仰的宣傳 (B)風俗習慣的變革 (C)環境倫理的倡議 (D)法律制度的改變。(P.135~138)

14. 公民老師正在介紹文化的「制約性」，邀請同學們舉出實際例子，下列何者的描述較為貼切？(P.126)
- (A)咚咚：華人社會大多以大圓桌共食的方式進行  
(B)西西：東方人吃飯用碗筷，西方人用餐多用刀叉  
(C)喃喃：許多年輕人喜歡用「隱眼」代稱隱形眼鏡  
(D)北北：在信奉伊斯蘭教的國家中，女性外出必須戴頭巾。

※15至16題為題組，閱讀下列圖文後回答問題：

世界各地都使用語言來作為溝通的工具，而中文、西班牙文、英文等8種是最通行的世界語言，使用者占全球40.5%的人口，另外59.5%的人口則使用超過七千種語言，若人們停止使用這些語言，該語言便會面臨滅絕的困境。根據聯合國教科文組織「世界瀕危語言地圖」顯示，目前全世界約有兩千五百種語言瀕危，光是過去半世紀就有數百種語言滅絕。西元2019年是聯合國的「國際原住民語言年」，設立目的在讓民眾更重視這些瀕危語言，並提醒大家語言比許多人想像的還要脆弱，只要上一輩沒有教導孩子使用，語言很可能就此失傳與滅絕。請回答下列問題：

15. 畫線部分顯示出文化的哪一項特性？(A)普遍性 (B)差異性 (C)累積性 (D)制約性。(P.126)
16. 下列哪一種做法最可能為「國際原住民語言年」的設立目的？(A)將新元素納入自我文化 (B)提醒各國守護自身語言 (C)鼓勵推行官方語言 (D)不以自身文化評價他人。(P.128~129)

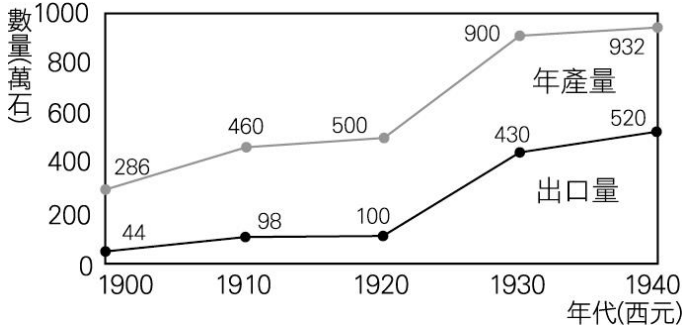
後面尚有試題，請繼續作答

17. 日治時期，總督府設立日月潭水力發電所，使臺灣西半部獲得充足穩定的電力供應。請問：當時設立日月潭水力發電所的目的為何？(P.82)
- (A)臺灣從日本引進許多新電器用品，用電量大增
- (B)配合日本南進政策，臺灣工業用電需求大幅增加
- (C)日本已工業化，希望臺灣供應日本用電量的需求
- (D)開發臺灣的廉價電力，供應東南亞國家的需求
18. 育瑄是生活在日治時期的人。她在撰寫1930~1945年的日記，請問以下記錄何者不可能出現在育瑄的日記中？(P.72~P.74、P.80)
- (A)臺南地區爆發抗日事件，統治當局運用現代化武器強力鎮壓、掃蕩，並迫使倖存族人遷居
- (B)嘉南平原水利設施完工，使得農業生產量增加
- (C)說日語、穿和服，並與同學一起參拜神社
- (D)此時統治當局既有文官出身、也有武官出身的臺灣總督
19. 附表為日治時期臺灣稻米生產的情形，表中可見在來米與蓬萊米的稻作面積及產量。根據日治時期的農業發展政策，可推知蓬萊米的出現應與下列何者較為相關？(P.80~P.81)
- (A)設立日月潭水力發電廠
- (B)總督府推動農業品種改良
- (C)工業臺灣，農業南洋政策
- (D)日本推動土地調查，掌握地籍資料

西 元 年	耕作面積 (公頃)		糙米 產量 (公噸)
	在來米	蓬萊米	
1920	450,169	0	691,764
1925	482,139	68,696	920,452
1930	483,221	131,169	1,052,931
1935	313,207	365,422	1,303,164

20. 學者對日本統治時期臺灣學生的校外旅行有以下敘述：「臺北因是政治中心，常是外地學校旅行的首選，當時參訪景點包含臺灣神社、臺北市街、總督府等，讓學童藉此感受臺北的文明進步。隨著此一史事的發生，日本展開對外作戰，之後的旅遊行程則以到臺灣神社參拜、為國祈福，並前往醫院慰問戰爭中受傷士兵為主。」文中的「史事」應為下列何者？(P.73)
- (A)臺灣民主國抗日
- (B)西來庵事件
- (C)霧社事件
- (D)中日戰爭爆發
21. 20世紀初，霍亂、瘧疾等傳染病在臺灣相當普遍。對當時政府而言，防治傳染病是刻不容緩的議題。下列何者最不可能是當時官方及民間採行的措施？(P.71)
- (A)警察協辦衛生及防疫宣導演講
- (B)公學校加強衛生教育課程
- (C)保甲要求居民定期清潔環境
- (D)政府實施全民健康保險

22. 下圖為臺灣稻米年產量及出口數量圖。圖中稻米的年產量與出口量的大增，可能與下列哪一項政策有關？(P.80~P.81)
- (A)公地放領，農地重劃
- (B)南進政策，工農並重
- (C)農業臺灣，工業日本
- (D)農地農有，農耕農享



23. 下表是臺灣某時期官方書籍所推薦當時北部地區參訪地點的整理，根據內容判斷，表中的「？」最可能是下列何者？(P.70)
- (A)臺灣府
- (B)臺灣總督府
- (C)臺灣省政府
- (D)臺灣省行政長官公署。

參訪地點	性質
國語學校	教育機構
臺北郵便局(郵局)	通訊機構
臺灣神社	統治象徵
？	最高統治機關

24. 下圖為臺灣某年報紙刊登的二則社會新聞。根據內容判斷，新聞報導的事情最早可能發生於下列何時？(P.71、P.78~P.79)
- (A)1895 年臺灣民主國成立之時
- (B)1915 年西來庵事件平定之後
- (C)1930 年霧社事件之後
- (D)1937 年皇民化政策開始之際

：跳上開往打狗的列車逃逸

他的行蹤。他當時正想要

與警察在臺南火車站發現

九歲的女友私奔，其兄長

長現金一百二十圓，帶十

某位二十五歲男性竊取兄

某位三十四歲男性在艋舺

玩樂而散盡積蓄，想在自

來水源地尋短，卻因為

害怕而放棄。最後因為在

龍匣口街白吃白喝，遭店

家報警逮捕。

背頁尚有試題，請繼續作答

25. 西元1915年9月28日《臺灣日日新報》報導：「□□市亭仔腳西來庵，者番因諸匪徒等謀為不軌，假藉該廟神靈矯造神勅、神符，以誘惑迷信之徒，且藉為陰謀議會之所。……請將該廟一部充作元會境派出所，一部充作六保保甲聯合事務所。聞已蒙准許，不日諸保正籌將釀金致祭諸神像，然後焚毀……。」關於以上報導，下列敘述何者有誤？(P.72)
- (A)文中空格□□應填入臺南  
(B)文中匪徒應以余清芳為首  
(C)該廟因此事件而被移作他用  
(D)此事後武裝反抗事件暴增
26. 有份資料提到：「臺灣銀行最初設置目的是使臺灣在財經上能保持獨立，除了提供臺灣各種產業資金，以利資源開發，也是發行鈔票的機構。後來，更成為政府對中國、南洋貿易和經濟擴張的後盾，所以臺灣銀行被稱為『萬能銀行』。」
- 上述情況最可能出現在下列何時？(P.78~P.79)
- (A)臺灣開港通商之際  
(B)臺灣民主國成立時  
(C)日治初期基礎建設  
(D)工業臺灣，農業南洋
27. 「第一次世界大戰結束後，帝國主義國家多遭逢殖民統治的困境，包括如何面對殖民地蓬勃發展的民族運動，及如何繼續利用殖民地的資源以擴張經濟。」針對上述局勢，當時的統治者在臺灣採取下列何項措施？(P.72)
- (A)頒布「六三法」  
(B)征討臺灣民主國  
(C)推行警察制度  
(D)實行內地延長主義
28. 當局編列大筆經費實行某一政策，企圖在一定的年限內平定凶蕃，並下令軍警以武力澈底討伐原住民，迫使全臺灣的原住民歸順。歸順者，交出槍枝武器，即發予補償金，並遷移至以鐵絲電網形成的隘勇線內定居農耕；不從者，則以武力攻擊，加以震懾。根據上述內容判斷，這是什麼政策？後續造成哪一事件的發生？(P.74)
- (A)五年理蕃計畫，西來庵事件  
(B)五年理蕃計畫，霧社事件  
(C)七年理蕃計畫，西來庵事件  
(D)七年理蕃計畫，霧社事件
29. 下圖是臺灣歷史上某個政權的旗幟與印章，印章上面刻有「民主國之寶印」。關於此政權的敘述，下列何者正確？(P.70)
- (A)當時臺灣的百姓推舉丘逢甲為民主國總統  
(B)這個政權的建立與牡丹社事件有關  
(C)民主國最後被日本擊敗，重要領導人逃回中國  
(D)民主國建立時，以西來庵為集結地點



30. 一篇以日治時期為時代背景的小說中，有以下描述：「巡警們，專在搜索小民的細故，來做他們的成績，犯罪的事件，發見(現)的多，他們是不勝枚舉。什麼通行取締、道路規則、飲食物規則、行旅法規、度量衡規紀，舉凡日常生活的一舉一動，通在法的干涉、取締範圍中。鄉下人，一見巡警的面，就怕到五分。」
- 小說所述情景顯示下列何種時代特色？(P.71)
- (A)總督體制建立，權力不斷擴大  
(B)警察無所不管，建立莫大權威  
(C)政府管制嚴格，各地民變不斷  
(D)政府下令戒嚴，民眾生活受限

※31至33題為題組，請根據文章內容回答問題：

某個時期開始，從臺灣北端的基隆到南端的打狗可以一日通勤，配合通勤搭車時間，在月臺上開始出現了便當叫賣，對於當時臺灣人民而言，這是新奇又特別的事情。

「辨當」(日本漢詞，後轉為中文「便當」)逐漸成為日常言語中普遍使用的詞彙，報紙為此特別將桃園、新竹、臺中、高雄四個車站的便當進行評比，仔細記錄菜色。

不過到了1930年代後期，由於戰爭的關係，社會大變調，統一推出「愛國辨當」，裡頭只放白飯糰、梅乾和黃蘿蔔乾，往後也只准賣這種便當。

31. 根據文章內容判斷，是描述哪一種交通方式帶來的影響？(P.78~P.79)
- (A)火車  
(B)郵輪  
(C)飛機  
(D)高速公路
32. 短文所述的「報紙評比四個車站便當」，最有可能出現在哪一個時期？(P.73)
- (A)鄭氏時期  
(B)清治時期  
(C)日治時期  
(D)中華民國時期
33. 短文中提到因為戰爭的關係而出現「愛國辨當」，應是指哪一場戰爭？(P.73)
- (A)清法戰爭  
(B)甲午戰爭  
(C)中日戰爭  
(D)牡丹社事件

後面尚有試題，請繼續作答



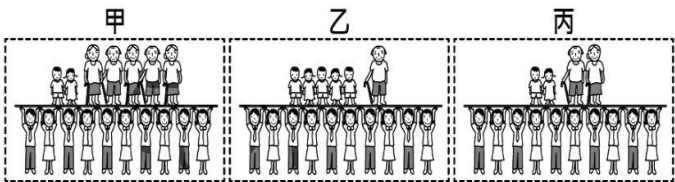
新北市立中正國民中學112學年度第二學期七年級社會科第一次段考試題

範圍：公民 B2L1~2、歷史 B2L1~2、地理 B2L1~2 班級：\_\_\_\_\_座號：\_\_\_\_ 姓名：\_\_\_\_\_

34. 根據教育部的統計資料顯示，在101學年度，全國大專院校的學生人數135萬5,290人，而後逐年減少，預計在109學年度將低於120萬人，屆時將有30~50家大專院校面臨倒閉的危機。請問：此種現象趨勢與下列哪一臺灣社會現象的關係最密切？(P7)


- (A)國民義務教育延長
- (B)設籍戶數減少
- (C)勞動人口增加
- (D)國內的生育率下降

35. 圖（一）為臺灣 1980年、2010年及推估2040年的扶養比示意圖，依據年代先後順序排列應為下列何者？



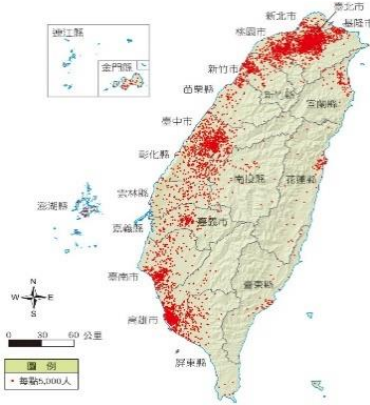
圖(一)

(P18)  
(A)乙丙甲 (B)甲乙丙 (C)甲丙乙 (D)乙甲丙  
36. 影響人口遷移的因素分為推力及拉力，圖（二）為推、拉力的示意圖。請問：下列何者符合圖中「甲」的力量？(P12)



37. 小芳觀察右下圖（三）台灣人口分布點圖，寫出以下觀察現象，請找出正確的說明？(P.11)

- (A)從面積與點圖來看，桃園市人口密度最高
- (B)台灣人口集中於西部和西部氣候濕潤有關
- (C)台灣大部分的都市人口密度與鄉村人口密度有明顯差距
- (D)東部人口密度較低和東部PM2.5濃度太高有關



38. 現在台灣大多數學校多有減班的情況，因此有許多的閒置教室，而這些教室會拿來發展成其他用途，例如：社區教室、樂齡教育中心等。請說出這些情況與台灣那些人口現象有關？（甲）少子化（乙）社會增加率增加（丙）扶養比提高（丁）高齡社會(P16)

- (A)甲乙丙 (B)甲丙丁
- (C)乙丙丁 (D)甲乙丁

39. 政府相關單位可以根據人口結構變化評估未來可能帶來的社會問題或衝擊，儘早提出因應方案。表（一）是某地區人口結構變化資料，根據表中內容判斷下列政府對策何者最適切？(P16)

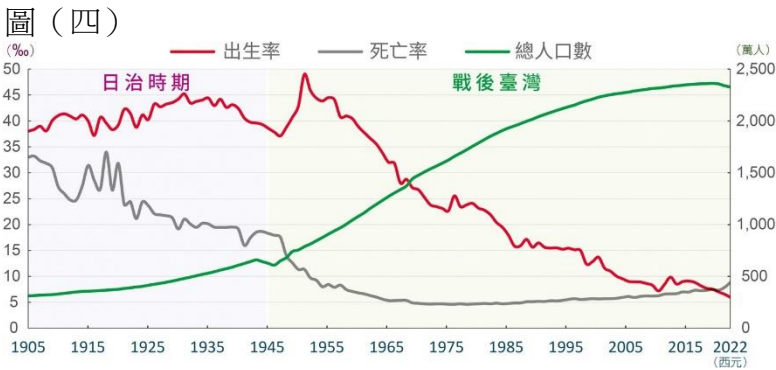
	109年度	110年度	111年度
甲、全區出生率	0.54%	0.51%	0.45%
乙、全區0~14歲人數	84227人	82176人	80576人
丙、全區死亡率	1.02%	1.05%	1.2%
丁、全區65歲以上人數	146353人	151173人	175575人

- (A)甲區呈現人口社會增加率降低，政府可以考慮開放移民相關政策。
- (B)乙區呈現該地區未來勞動力可能面臨短缺，政府應增加育兒津貼。
- (C)丙區顯示人口自然增加率上升，政府應該增建老人日間照護中心。
- (D)丁區顯示該地區折衷家庭較多，政府應協助發揮保護與照護功能。

40. 外流就業人口是指不住在戶籍地縣市，而住在外縣市之就業人口，例如某人戶籍地在嘉義縣，但因工作而住在臺南市，則計入嘉義縣的外流就業人口。附表為2012年桃園縣（已改制為桃園市）、雲林縣、臺東縣、澎湖縣四個行政區的外流就業人口統計資料，其中何者為臺東縣？(P12)

行政區	外流就業人口（千人）	外流就業人口佔該區就業人口比例（%）
甲	12	30.78
乙	31	29.86
丙	83	25.06
丁	59	6.28

- (A)甲 (B)乙
  - (C)丙 (D)丁
41. 小芳觀察下圖（四）台灣出生率死亡率總人口數統計圖並做成四點報告，請幫她找出正確的論述？(P9)



- (A)日治時期，台灣出生率較高，死亡率較高，自然增加率下降。
- (B)戰後初期，死亡率降低，出生率仍高，人口快速增加。
- (C)2022年因出生率高於死亡率，故人口持續增加
- (D)近年出生率銳減反映台灣經濟衰退。

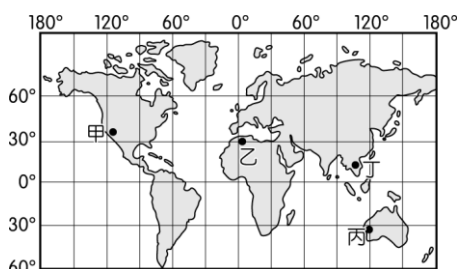
背面尚有試題，請繼續作答

# 新北市立中正國民中學112學年度第二學期七年級社會科第一次段考試題

範圍：公民 B2L1~2、歷史 B2L1~2、地理 B2L1~2 班級：\_\_\_\_\_座號：\_\_\_\_ 姓名：\_\_\_\_\_

42. 臺灣多元的族群特色

展現在飲食上。小芳日前吃到料理大多使用魚露、醬油、大米、新鮮香草、清新水果和生鮮蔬菜讓人想到：目前遷移來臺定居的新住民而言，以圖（四）中何處的比例最高？(P19)



- (A)甲 (B)乙  
(C)丙 (D)丁

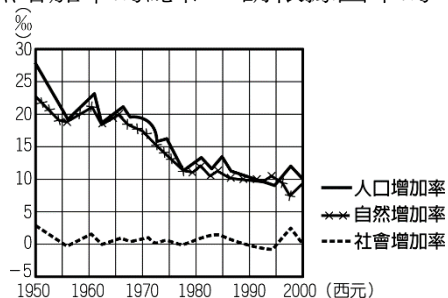
43. 「馬稠後工業區」位於嘉義縣鹿草鄉，近三年人口成長為負成長4.6%，65歲以上人口佔比近30%，因而有「老人村」之稱。2022年大成集團決定斥資24億元打造全台最大單一食品加工廠並大量招募食品IE專員、食品行銷員及儲備幹部。因應食品集團及台商回流建廠，鹿草鄉人口會出現何種現象？(P12)

- (A)人口老化 (B)出生率降低  
(C)移出率提高 (D)社會增加率提高

44. 台灣家庭結構迅速轉變，愈來愈多銀髮族未與子女同住，而是過著獨居的生活。研究顯示，社交上的隔離與孤獨感將會增加老年人的死亡率；同時，都市房價居高不下，也造成許多青年人買不起或租不起房子。在這樣的情形下，許多國家近來推動「青銀共居」，希望一方面解決銀髮族獨居所帶來的風險，一方面也緩和青年人的住屋問題。請問：下列何者並非青銀共居的理想狀態？(P16)

- (A)大學相關科系或民間組織積極舉辦短期的共居體驗或交流會。  
(B)主動成為好鄰居，偶爾一同用餐，或是輕鬆地聊天話家常及提供生活上的協助。  
(C)設立交誼廳，鼓勵銀髮族與年輕人交流互動。  
(D)各過各的生活，屋簷底下各過各的生活。

45. 圖（五）是近五十年來妙妙國人口增加趨勢圖，人口增加率是社會增加率與自然增加率的總和。請根據圖中的資料判斷，下列敘述何者正確？(P9)



- (A)總人口數將會逐年減少  
(B)人口增加主要是源於自然增加  
(C)人口增加率降低是因死亡率高  
(D)社會增加率大於自然增加率

46. 西元2020年臺灣的出生率僅7.01‰，持續創歷年新低，結婚率5.16‰則是逾十年來新低。請問：下列哪些環境因素是造成近年來全臺出生率持續降低的主因？(甲)物價高 (乙)薪資高 (丙)房價高 (丁)不婚主義 (戊)政府生育政策？(P9)

- (A)甲丙丁 (B)甲乙丙  
(C)乙丙丁 (D)丙丁戊

※47至48題為題組，請閱讀下列文章後回答問題：

我國的原住民族文化事業基金會於2009年成立，至今已達十年的里程碑，在大家的努力下，規模不斷茁壯擴大，目前已成立「原住民族電視臺」、「Alian 96.3 原住民族廣播電臺」和「原視界」等，涵蓋電視、廣播和書報雜誌等多種媒體，為保存其文化特色做出巨大的貢獻。請問：

47. 我國由於族群眾多，因此各種不同文化於此匯集，形成多元文化的特色。根據內政部的統計資料顯示，各縣市原住民族人口以○○縣9萬2千人占16.7%最多，其次為臺東縣7萬9千人占14.3%。桃園市第三，為7萬人占12.6%居第三。請問：上文中○○縣最可能為下列何者？(P19)

- (A)嘉義縣 (B)花蓮縣 (C)新竹縣 (D)彰化縣

48. 臺灣最早的居民來自於南島語族，其生活特色及文化被廣為保存，分布於各地。承上題，請問：我們若要參觀上題原住民族群的文化景觀，則應該前往哪一個國家公園較為適當？(P19)

- (A)太魯閣國家公園 (B)台江國家公園  
(C)澎湖南方四島國家公園 (D)金門國家公園

49. 人口的成長可分為自然增加及社會增加兩項因素。下列選項中，何者屬於自然增加？(P8)

- (A)民國38年百萬軍民遷來臺灣  
(B)舉家移民到加拿大的陳博士  
(C)來臺灣美語補習班教書的美籍老師  
(D)外籍配偶阮氏生下了一對雙胞胎

50. 台南被美國有線電視新聞網（CNN）評選為2024年最值得造訪的全球「多元街頭美食之都」，是唯一入榜的台灣城市，小芳踩點當地美食小吃街並品嚐以下四家小吃店美食。請問下列哪家店菜色符合該店名族群與餐點特色？(P22)

- (A)越南小吃→牛肉炒河粉  
(B)客家小館→雞肉飯  
(C)古早味台灣小吃店→紅油抄手  
(D)天津餐館→蚵仔煎

試題結束，請再仔細檢查