

【讀卡科目請依規定畫卡，若有違反畫卡規定而影響讀卡作業之情事，一律扣總分五分。】

【手寫答案卷需確實寫上班級、座號、姓名，違者一律扣總分五分。】

【手寫答案卷需用藍色或黑色墨水筆書寫，違者一律扣總分五分，使用鉛筆書寫扣五分。】

一、 選擇題

- 1.依據下列的敘述，請問何者符合「失業」的標準？
(甲)小花從霹靂小組請調為交通警察(乙)小玉被老闆裁員不用進公司了(丙)留職停薪在家照顧小孩的小美(丁)小麗碩士畢業之後投的履歷始終石沉大海(戊)退休在家含飴弄孫的陳爺爺。
(A)甲乙丙(B)甲丁戊(C)乙丁(D)丙戊。(第5課)
- 2.阿宜預計六個月後到法國深度旅遊，先上網預訂房間，發現以歐元計價，當時一間海景房要價 400 歐元 (當時匯率為歐元:台幣=1:40)，六個月後付款時，需多付新台幣 4000 元。請問如果無其他因素影響，此時匯率變為多少？
(A)歐元:台幣=1:36(B)歐元:台幣=1:52(C)歐元:台幣=1:50(D)歐元:台幣=1:45(第5課)
- 3.「信用卡」是一種常見的塑膠貨幣，有別於儲值卡，持卡人不需要預存金額於卡片中。下列關於敘述，何者「錯誤」？(第5課)
(A)使用信用卡償還債務時，對方不得拒絕(B)信用卡卡費如果未按期繳交，會產生高額利息(C)信用卡是屬於「先享受後付款」，所以使用者要注意自己的還款能力(D)並不是所有的交易，都可以使用信用卡交易。
- 4.每年到了農曆年節前，許多人都會到銀行領錢，而銀行也為了順應發紅包習俗，都準備了大量的新鈔供應民眾，甚至還提供「舊鈔換新鈔」的服務。請問：關於我們現在所使用的貨幣敘述，哪些是「正確」？(第5課)
(甲)貨幣的價值是以它能購買的商品數量來決定(乙)我國貨幣有紙鈔與硬幣(丙)我國貨幣-新台幣具有法律強制接受的特性(丁)我國貨幣發行數量的多寡，是由市場機制決定的。
(A)甲乙丙(B)乙丙丁(C)甲乙丁(D)甲丙丁。
- 5.小昊長期持續觀察幾個國家的經濟狀況，假設這些國家使用的法定貨幣相同，下方附表為三個年度四個國家用 2,000 元購買白米的數量，其他的民生用品也呈現同樣幅度的變化。請問：由表中顯示哪一個國家面臨較嚴重的通貨膨脹問題？(第5課)
(A)神奇國(B)寶貝國(C)花花國(D)草草國。

	神奇國	寶貝國	花花國	草草國
2020	160	195	185	175
2021	156	210	180	150
2022	150	195	175	115

- 。之後他們去逛書店，表妹本來想(乙)以現金 360 元買該電影原著，小愷則建議表妹(丙)以刷卡方式購買，既有優惠又可先享受後付款。表妹認為這樣可以(丁)省下一點錢來儲蓄，於是接受了此項建議。依據上述內容，畫底線處與貨幣功能的對應關係，何者「最正確」？
(A)(甲)代表衡量商品價值與交易(B)(乙)屬於價值儲存的功能(C)(丙)展現貨幣的價值衡量特性(D)(丁)具有交易媒介特性。(第5課)
- 8.幾位在金融機關上班的朋友某次聚餐中，大家各自說了自己的業務內容，請問：哪一人是在「中央銀行」上班？
(A)小凡：我平時在負責審核信用卡發卡業務(B)小城：我平時在替客戶操作股票買賣(C)小萱：我平時負責替客戶做存、放款的業務(D)阿璇：我平時負責管理國庫及新台幣的發行數量。(第5課)
- 9.小呂想利用課餘時間在便利商店打工，除了可以賺取學費，也可以累積一些社會經驗。請問：根據相關法律規定，小呂至少要年滿幾歲才可以打工？(第6課)
(A)15歲(B)16歲(C)17歲(D)18歲。
- 10.某電視新聞報導：「日本首相採貨幣寬鬆政策，造成日圓不斷貶值。」根據以上內容判斷，下列敘述何者「正確」？
(A)日圓貶值，有利於日本進口外國商品(B)日圓貶值，有利於他國出口商品至日本(C)日圓貶值，有利於日本人至他國觀光(D)日圓貶值，有利於外國人至日本觀光。(第5課)
- 11.某一篇報紙新聞報導：「台幣與美金匯率，早盤強升突破 30 元整數大關，盤中最高來到 30.559 元…」，此新聞對不同貿易業者與個人都影響很大。請問：依據此篇新聞報導，台幣匯兌現況對下列何人是「不利」的？(第5課)
(A)擁有美元存款的阿文(B)專門外銷花卉到美國的小語(C)在台灣從事進口美國名牌包的阿香(D)來台觀光的美國人傑克。
- 12.小勳想購買日本網站上一組 2,000 日圓的模型玩具，因此很努力的存錢，然後拜託日本的親戚幫忙購買。請根據附表判斷，若小勳在今年 10 月時購買，會比去年 10 月時購買多付或少付新臺幣多少元？(第5課)
(A)多付約 80 元(B)少付約 80 元(C)多付約 89 元(D)少付約 89 元。

年度	新臺幣：日圓
去年 10 月	1：3.2
今年 10 月	1：2.8

- 6.2016 年 6 月 23 日英國確定脫離歐盟後，英鎊就開始狂跌，新臺幣對英鎊呈現升值現象。請問下列何人所敘述才是「正確」的？(第5課)
(A)小紅：對要購買英國進口的哈利波特魔法棒的台灣人會較有利(B)小傑：對臺灣出口商品到英國是有利的(C)小雨：此時臺灣人去英國旅遊的人會變少(D)小威：對所有歐洲人要到臺灣旅遊的人會變多。
- 7.小愷和表妹相約去看電影，兩人各自(甲)花費 280 元買票

- 13.勞動參與不管是對個人及社會都是有貢獻和價值的，如受雇者可獲取工作收入提供家庭經濟來源，以下相關敘述何者「正確」？(第6課)
- (A)志工服務因為無法帶來經濟效益，因此對國家的貢獻不如市場勞動(B)在夜市擺攤是提供無形勞務的勞動成果(C)在家從事家務勞動的家庭成員，沒有從勞動中獲得實質報酬，是為有酬勞動(D)經濟要發展，社會上所有人就都必須參與市場勞動才是最好的經濟模式。
- 14.在我國，為了保障勞動基本權益，通過《勞動基準法》，關於我國對於勞動權益的保護，以下敘述何者「正確」？(第6課)
- (A)僱用童工只要當事人同意就可以了(B)《勞動基準法》規定職場性別歧視的禁止(C)法規規定員工基本工資及工時的保障，是在增加企業的生產成本，減少企業利潤(D)中正科技公司徵員工，限相關科系大學以上學歷者，且要為男性才能來應徵，是一種就業歧視的做法。
- 15.中正國中畢業多年後舉辦同學會，幾個同學分享了最近在做的事情。請問：哪一位同學提供了「無酬勞動」？

阿翔	我準備到德國攻讀碩士班。
小涵	我考到計程車駕照，在當計程車司機。
小靜	我回母校當公民科老師。
阿強	我結婚後辭掉工作在做志工服務。

(A)阿翔 (B)小涵 (C)小靜 (D)阿強。(第6課)

★鐵飯碗生鏽 零工經濟時代來臨！

找一份好工作，在公司一路升遷、加薪，享有退休後的保障，這是以前大眾熟悉的生涯工作型態。然而現在年輕世代開始追求工作的意義和熱情，以及工作與生活的平衡。有些人選擇在正職之外還兼一份差，也有人直接用接案方式維生，這樣的趨勢被稱它為「零工經濟」（Gig Economy），帶來的是企業聘僱模式的轉型，以及勞動力對自身價值的重新評估。

（鐵飯碗：只要好好工作，不犯錯，就可安穩到退休，意指工作非常穩定）

- 16.從上述可知，新時代的勞動者與傳統勞動者的「差異」在於(甲)傳統勞動者薪資收入較穩定(乙)新時代的勞動者工時較死板不可變 (丙)以接案的方式維生，是傳統勞動者最常見的行為(丁)對自身勞動價值的評估與省思，也比較常反應於新時代勞動者身上。
- (A) 甲乙 (B) 乙丙 (C) 丙丁 (D) 甲丁。

下一頁尚有試題，同學請繼續作答

17. 2021 年東京奧運，澳洲女子足球隊特地在首戰日拉起象徵澳洲原住民旗幟合影，表達支持掃除澳洲種族歧視。澳洲原住民土地資源遭哪國入侵後，成為當地弱勢族群？(A)西班牙 (B)英國 (C)葡萄牙 (D)荷蘭。(CH5)
18. 晴道利用課餘時間閱讀課外讀物以增進知識。他在一本書中看到下列人物：哥白尼、克卜勒、伽利略、牛頓。請問：他看的書名可能為下列何者？
(A)《天才的世紀》(B)《啟蒙運動的反思》(C)《文藝復興的復古與創新》(D)《經濟學的成就》。(CH6)
19. 《哥倫布大交換》作者克羅斯比：「自發現新大陸之後，這個星球上的生命，從此徹底並永遠地改變了。」源於美洲的植物改變了所有人的餐桌，像是□作物等，皆來自美洲，透過大交換才得以散布全世界，並帶動全球人口成長。請問：文中提到的□作物，最可能是下列哪些？(甲)咖啡 (乙)茶葉 (丙)玉米 (丁)香蕉 (戊)馬鈴薯 (己)甘蔗 (庚)可可豆。
(A)甲丙戊 (B)丙戊庚 (C)丁己庚 (D)乙丙丁。(CH5)
20. 資料一：
致最神聖的教宗保羅三世：「最神聖的父，我知道，某些人聽到我在書中提出了地球運動的觀念之後，就會大叫大嚷，把我趕下臺來，我對我自己的著作還沒有偏愛到這種程度，以致不顧他人的看法。不過哲學家與一般人見解相去甚遠，哲學家的目的是在上帝允許的範圍內，追求一切事物的真理。我深深地意識到，由於人們因襲許多世紀來的傳統觀念，所以當我提出見解時，肯定會被他們看成是荒唐的舉動……我之所以要將這部著作獻給陛下而不是別人，是因為陛下乃是至高無上的人……您的權威與判斷將迅速制止誹謗者的重傷……」
(註：教宗保羅三世即是將亨利八世逐出教會，推動反宗教改革並承認耶穌會的天主教領導者。)
- 資料二：
馬丁路德的看法：「所以現在是這樣一個情況。誰想要聰明就得反對大眾認為的事情。他必須有自己的東西。這正是『那個傢伙』所做的事情，他想把整個宇宙顛倒過來。儘管在這些陷入混亂的事情中，我依然相信《聖經》，因為約書亞命令太陽靜止不動，而不是地球！」
關於上述兩則資料，下列何者選項正確？
(A)資料一所述及的這本書籍主要是哥白尼的天體運行論 (B)資料一中提到許多世紀以來的傳統觀念為太陽是宇宙的中心 (C)資料二馬丁路德根據《聖經》反對地心說 (D)哥白尼的地球為宇宙中心學說獲得伽利略的證實。(CH6)
21. 啟蒙運動促進歐洲近現代化，開啟了歐洲歷史的新頁。這個運動最主要的內涵為何？(A)運用科學方法和理性態度，尋找人類社會的普遍原則 (B)闡明基督教教義，

促使歐洲人重新領會神的啟示 (C)海權時代的來臨，歐洲人開始探索東方未知世界 (D)科學方法與新技術的發明，改善人類物質生活。(CH6)

22. 國會殿堂裡立法委員嚴詞厲色批判政府官員的舞弊缺失，既使言論不當亦受法律保護，即「言論免責權」之存在。請問以下哪位學者特別倡議「言論自由」？
(A)孟德斯鳩 (B)洛克 (C)盧梭 (D)伏爾泰。(CH6)
23. 附圖是十五世紀以後，歐洲人的海外探險及拓殖的簡圖。此事件後歐洲諸國紛紛轉向海外發展，並且各自獲得極大的成果，導致歐洲勢力崛起。請問：關於地理大發現與海外拓殖的敘述，下列何者正確？
(A)尋找到亞洲新航路的動機，與義大利商人跟阿拉伯商人壟斷東西方貿易路線有關 (B)乙航線的探險家是得到葡萄牙國王支持的狄亞士，是他首先發現到東方的新航路 (C)丙航線是哥倫布的成就，雖然為西班牙帶來財富，卻也使中南美洲淪為西班牙的殖民地 (D)甲航線的探險家是繞過非洲南端的達伽馬，來到東方後以澳門作為據點，轉口中國與日本的貿易。(CH5)



24. 科學革命的產生是多方面相互配合的結果，請問：下列哪些因素與科學革命的出現最有關係？(甲)宗教改革後教會鼓勵科學發展 (乙)新工具的發明 (丙)工業生產技術的變革 (丁)科學研究機構的成立。
(A)甲乙 (B)乙丙 (C)乙丁 (D)丙丁。(CH6)
25. 歷史課時，有四名學生決定以歷史話劇來參加才藝表演競賽，根據他們的臺詞，哪位同學扮演的對象最有可能是洛克？(A)小丸子：行政、立法和司法權應該分立，彼此制衡，以免政府專制獨裁 (B)小玉：人生而平等，生命、自由、財產是不可剝奪的天賦人權 (C)丸尾：雖然我不贊成你的觀點，但我誓死維護你說這句話的權利 (D)花輪：政府的成立是人民將權力託付給政府，由政府來執行人民的公意。(CH6)
26. 羽田正在《東印度公司與亞洲的海洋：跨國公司如何創造二百年歐亞整體史》一書中提到：「○○人征服印度洋海域的港口，試圖透過武力支配並且管理當地的貿易活動。在此之前印度洋沒有人試圖支配海洋以及利用海洋進行交通及貿易。但是○○人出現後短短十餘年，印

度洋海域秩序就被迫大幅改變。○○人之所以會從事如此行為，是因為他們試圖壟斷胡椒與香辛料貿易。胡椒與香辛料原本都利用從印度西部海岸出發，途經非洲南端沿海航線運到歐洲。」請問資料中的○○人應該是哪一個國家的人？

(A)英國 (B)荷蘭 (C)西班牙 (D)葡萄牙。(CH5)

27. 中國在明、清時期的主要貨幣為白銀，請問白銀流入中國以及流出中國，分別主要是哪個國家造成的結果？

(A)葡萄牙、法國 (B)英國、西班牙 (C)荷蘭、法國 (D)西班牙、英國。(CH5)

28. 表一為 1514 至 1800 年黑人被販運到主要三大洲成為奴工的統計數據，請問乙最可能是下列哪一洲？

(A)非洲 (B)亞洲 (C)美洲 (D)歐洲。(CH5)

洲別 時間	甲	乙	丙
1514~1600 年	652	58,754	168
1601~1700 年	4,160	645,460	847
1701~1800 年	4,515	4,569,975	2,658

▲表一

29. 十八世紀時，一位法國學者聯合許多學者共同進行某項工作。雖然這些學者哲學觀點和宗教思想不盡相同，但都崇尚理性思維。他們在各自的領域發揮專長，進行知識學術的整合，使人們更便於檢索知識的相關內容。上述這些學者共同進行的工作為何？

(A)合力編寫《百科全書》(B)改革基督教教會腐敗弊端 (C)研究如何翻譯《聖經》內容 (D)探究古希臘、羅馬典籍精神。(CH6)

30. 宇多田光讀到：「『他們』在海外掠奪的成果相當豐碩，幾乎整個東南亞都已經被他們拿下……※※是他們在亞洲的總部……西元1642年，北上驅逐西班牙人後，他們拿下了整座小島……受惠於海外貿易，○○成為歐洲的貿易中心……。」請問，以下敘述何者正確？

(A)※※指的是菲律賓的馬尼拉 (B)「他們」指的是荷蘭聯合東印度公司 (C)「整座小島」指的是馬達加斯加島 (D)○○指的是威尼斯。(CH5)

31. 資料一：

我們的祖先是這片廣大土地的主人，但是你們的祖先越過大西洋，到達我們的家園，他們竟想要得到我們整個的家園。現在，你們成了一個龐大的民族，而我們卻幾乎連容身之地都快沒有了。

資料二：

這些魔鬼在廣大土地上進行蹂躪、破壞、殺戮，那裡原先是一片安樂景象，有美麗的大省、寬廣的谷地、可愛的區域、很大的村莊，人口眾多、黃金豐富。他們對各

個民族趕盡殺絕，不留下任何說別種語言的人，只有那些逃進山河或地洞的人才逃脫這殘酷可憎的命運。他們採用種種奇異、極端殘忍、不公正與褻瀆宗教的手段，屠殺、毀滅了這些無辜的人民。

關於上述兩則資料，下列何者選項正確？

(A)這兩則資料所指的「廣大土地」指的是澳洲 (B)資料一的「我們」、「你們」分別是指印第安人、英國 (C)兩則資料敘述的土地皆被天花、麻疹等疾病隨歐洲征服者傳播至此 (D)被大量販賣到歐洲礦場當苦工。(CH5)

32. 民國初年，陳獨秀在新青年上描述了他所知道的「科學」：「我們面對事物，『觀察、綜合客觀的現象，並憑著主觀的理性描述、解釋它而不產生矛盾』就是科學。」陳獨秀所描述的「科學」呈現出下列哪項理論？

(A)預選說 (B)歸納法 (C)因信得救 (D)演繹法。(CH6)

33. 巴西里約熱內盧的「基督像」是該市的著名地標，也是世界最知名的紀念雕塑之一。西元2007年入選為世界新七大奇景，象徵著美洲被歐洲人入侵後，原本的宗教信仰亦被「入侵者帶來的信仰」所取代。請問，「入侵者帶來的信仰」應為下列何者？

(A)英國國教派 (B)希臘正教 (C)伊斯蘭教 (D)羅馬公教。(CH5)

下一頁尚有試題，同學請繼續作答

【讀卡科目請依規定畫卡，若有違反畫卡規定而影響讀卡作業之情事，一律扣總分五分。】

34. 17世紀初期來到北美英國殖民地除了歐洲人之外，稍晚也有來自蘇格蘭與北愛爾蘭的移民，有些人離開家園是為了逃離戰爭、政治迫害、宗教迫害或死刑。當時移民北美的移民們，其橫渡的海洋是下列何者？ P.63

(A)大西洋 (B)太平洋 (C)印度洋 (D)北極海。

35. 某洲面積廣大、且海岸線長度居各洲之冠，未與其他洲接壤，其峽灣發達且島嶼眾多。該洲最可能是下列何者？ (A)亞洲 (B)美洲 (C)歐洲 (D)大洋洲。 P.62

36. 美國具備多元族群的文化特色，藉由其強大的經濟實力，將美式文化的生活方式推廣至世界各地。常見的美式文化中不包括下列何者？ (A)世界盃足球賽 (B)好萊塢電影 (C)迪士尼電視節目 (D)串流影音平臺。

P.72

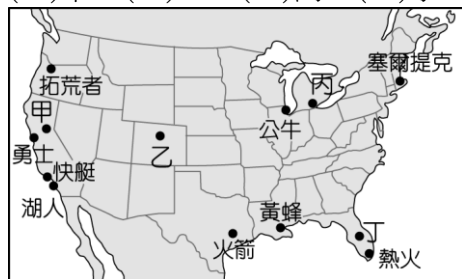
37. 2018年7月6日，美國對價值340億美元的中國輸美商品徵收25%的額外關稅。此外，為防止中國透過北美自由貿易協定，在下列哪一個國家的加工區設立工廠，主要是該國為組織內的會員國具有低廉的勞力以及免關稅的優勢？ (A)巴西 (B)墨西哥 (C)古巴 (D)阿根廷。

P.70.84

38. 美國的國家籃球協會（簡稱 NBA）是一個男子職業籃球組織，全美東、西區共有 30 支球隊，2012 年部分球隊的所在地如附圖。每年的 11 月至隔年 4 月舉辦的比賽為例賽，採循環賽制，每支球隊都要完成 82 場比賽。活塞球隊所在地因附近礦產豐富、交通便利、勞力充足，是著名的汽車工業城市，球隊創建人為汽車發動機生產商，而球隊的隊名也正好與此工業相關。該球隊位於圖中何處？

(A)甲 (B)乙 (C)丙 (D)丁。

P.70-72



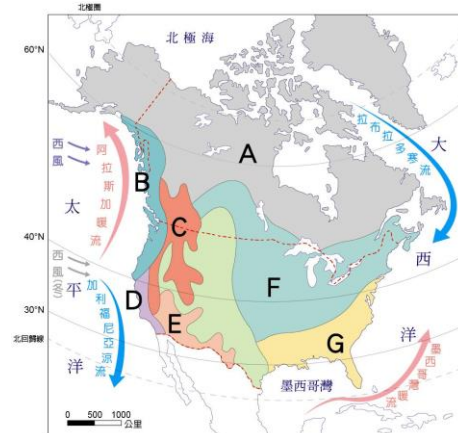
39. 美國生產的葡萄類別超過 70 種，基本上分為綠色、紅色、黑色，其產季從 5 月至隔年 1 月，每年約有 500 家葡萄種植者生產約 1 億箱的新鮮葡萄行銷到全世界超過 60 個國家。此外，美國也是歐洲以外最大的葡萄酒產區，加利福尼亞洋流 (California Ocean Current) 帶來的影響才是關鍵。上文中美國葡萄種植區主要分布於下圖中何處？

(A)甲 (B)戊 (C)辛 (D)壬。

P.69



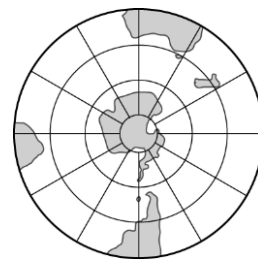
40. 下圖為北美洲氣候類型分布圖，依據附圖，下列何者敘述不正確？ P.65-68



(A) B--夏雨冬乾的海洋性氣候
(B) F--春、夏之交，易產生龍捲風
(C) E--位於盛行風背風側的沙漠氣候
(D) G--溫暖潮濕的夏雨型暖溫氣候。

41. 2007 年地理老師參加美國十天九夜一日情旅程，其中一天前往某城市的世界電影產業重鎮--好萊塢的環球影城，並走在星光大道上，與觀光遊客一起景仰世界級的巨星，包括國際著名華裔武術家、截拳道創始人、動作片演員、動作導演、武術指導、功夫片的開創者李小龍是好萊塢首位華人，也名列在大道上。上述的城市應是下列何者？ (A)西雅圖 (B)洛杉磯 (C)休士頓 (D)紐約。 P.70

42. 臺灣某一旅遊節目遠赴南半球某地拍攝壯麗的冰河景觀。根據導遊描述，當地海岸附近的冰河前端受全球暖化的影響，崩塌頻率增加。根據附圖的緯度判斷，該地最有可能位於下列哪一個國家？ (A)巴西 (B)南非 (C)智利 (D)澳洲。 P.80



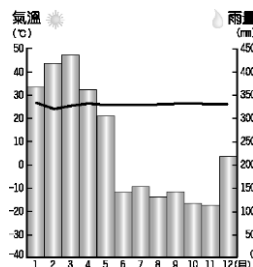
43. 「探險家巴布亞在 1513 年找到大西洋與太平洋之間的地峽。幾年後，西班牙人在此地峽建立殖民地，而掠取自南美洲西岸的金、銀礦產得以利用此地峽運至大西洋岸，送回歐洲。」文中所指的殖民地，應位於現今何國境內？

(A) 哥倫比亞 (B)墨西哥 (C)巴拿馬 (D) 巴西。 P.76-77

44. 附圖為巴西境內的貝倫氣溫雨量圖，請根據圖中資料加以判斷，當地應該屬於哪一種氣候類型？ (A)熱帶雨林氣候 (B)熱帶莽原氣候 (C)熱帶沙漠氣候 (D)高地氣候。

P.81

【讀卡科目請依規定畫卡，若有違反畫卡規定而影響讀卡作業之情事，一律扣總分五分。】



45.某國狂歡節（葡萄牙語：Carnaval do Brasil）是一年一度的重要節日，該國狂歡節受到當地的非洲文化的影響，聖徒不能在這天吃肉，人群會跟隨著節奏在城市的街道上跳舞、唱歌，狂歡節始於葡萄牙的統治後引入在葡萄牙本土舉辦的狂歡節。其嘉年華會每年的2月在里約盛大舉行森巴大遊行，舉國盡情狂歡。上述「森巴嘉年華會」是位於下列哪一個國家？

(A) 哥倫比亞 (B) 墨西哥 (C) 巴拿馬 (D) 巴西。

P.85

46.附圖是南美洲部分地區的簡圖，圖中甲地較乙地人口密集、經濟繁榮，其主要的原因是下列何者？

(A) 涼爽的海洋性氣候 (B) 高地氣候較涼爽
(C) 石油礦產資源豐富 (D) 觀光業發達。

P.80



47. 熱巧克力是受大眾喜愛的飲料，它濃郁的口感與香氣，易使人產生幸福的感覺。巧克力的原料——「可可」，有天使的食物之稱，屬於熱帶栽培業作物，在原產地被印第（地）安人以粥的形式或添加辣椒、香草等調味料的冷飲形式飲用，在當地亦被視為重要貨幣。後來，西班牙人將它傳入歐洲，發展出添加糖和牛奶的飲料形式，再演變成塊狀巧克力，廣受歐洲人歡迎。文中提到的原料，依其生長條件判斷，可可樹的原生地最可能分布於下列哪一區域中？

(A) 巴塔哥尼亞高原 (B) 巴西高原 (C) 拉布拉他平原 (D) 亞馬孫盆地。

P.83

48. 2022卡達世界盃4強告終，兩支都曾經兩度舉起大力神金盃的勁旅成了冠軍決賽的主角，由球王梅西領軍的阿根廷，將與PSG隊友新世代球王接班人姆巴佩領軍的法國，在可容納8.8萬名觀眾的路薩爾地標體育場對壘，法國希望能繼1958和1962的巴西之後，史上第3

支成功衛冕冠軍的球隊；阿根廷上一次奪冠是1986年，而梅西在2014年曾經帶領阿根廷闖進決賽但不敵德國無緣冠軍，今年捲土重來能否一圓冠軍美夢？2022卡達世界盃足球賽於12月18日（週日）晚上11點舉行「總決賽」，由梅西帶領的阿根廷隊對戰上屆冠軍法國隊和神童姆巴佩！整場比賽驚險萬分，姆巴佩追平2:2進入延長賽，再與梅西各進一球後，PK賽由阿根廷勝出、抱回大力金盃！上述2022世界足球賽冠軍的阿根廷位於下圖中何處？(A) A (B) B (C) C (D) D。

P.83



49. 2018 年的「世界音樂節@臺灣」邀請了世界各地的音樂團體來臺演出，其中來自厄瓜多的樂團帶來安地斯山風情的音樂，讓我們可以藉此欣賞該國的文化特色。上述文化特色，最可能為下列何者？

(A) 印加傳統音樂 (B) 印度舞曲 (C) 寶萊塢歌舞劇
(D) 愛爾蘭踢踏舞樂。

P.84

50. 樂樂觀賞了一部美國電影公司以拍攝加州某種自然災害為主題的電影，故事背景設定在此種災害發生頻率較高的地點，下圖中的甲地為拍攝主題，其自然災害最可能是下列何者？

(A) 暴風雪 (B) 颶風 (C) 地震 (D) 龍捲風。



試題結束。