

【讀卡科目請依規定畫卡，若有違反畫卡規定而影響讀卡作業之情事，一律扣總分 5 分。】

一、 選擇題

1. 建達企業因面臨經營危機，找來投顧專家提出可改善的建議，專家利用附圖來解說該企業出現的問題，哪一項說法適合放入此圖中？(P160) (A)甲的危機是客製化的商品獲利不高 (B)乙可透過價格來吸引更多消費族群 (C)該公司一開始投入非價格競爭市場 (D)塑造商品品牌形象可列為乙的做法。

第一年 進攻低價商品市場  
第二年 市占率逐年攀升  
第三年 該市場進入廝殺期  
第四年 出現 (甲) 危機

↓

建議：(乙)，才能脫穎而出

2. 以下摘錄騰達公司員工之間的對話：

今天你又要去同一家店買甲商品啦！

我發現這附近其他店家也有賣，現在煩惱的是，要換哪一家試試看！

小君

小竹

小君

也對！伴隨著集市效應，說不定會有更多賣甲商品的店家喔！

- 有關文中提及的集市效應，應與哪一項敘述有關？(P162,163) (A)同類型的店家匯集導致市場競爭激烈 (B)消費者選擇將會被集中在少數機會上 (C)產品販售會聚集在少數幾家廠商手上 (D)購物人潮會被集中只能任由廠商宰制。
3. 近年來，商場上流行「藍海市場」、「紅海市場」的說法，很多人覺得創業就是要進入「藍海市場」，這指的是企業應該開創尚未被開發的市場，進而提升自己的價值；但對於創業團隊來說，擠滿競爭者的「紅海市場」，尋找立足點的可能性較高，你可以在其他人遇到的問題上，快速測試新的商業模式，而不需要完全去開拓一個可能很難執行，或根本沒有足夠需求的市場。前面所論述的是在討論何種市場競爭的影響？(P162,163) (A)藍海市場指的是沒有任何競爭門檻的市場 (B)紅海市場指的是進入須花較高成本的市場 (C)紅海市場可提供給消費者不同的選擇機會 (D)藍海市場在廠商開發產品上競爭程度很高。

4. Wilson 獨自住在遠離塵囂的山澗裡，他一小時可以徒手捕獲 4 條魚，同樣的時間則可徒手抓到 16 尾溪蝦。Wilson 捕獲 1 條魚的機會成本為何？(P172,173) (A)0，在深山裡自給自足，因此無機會成本 (B)0，魚與溪蝦為每日必需，毫無選擇餘地 (C)捕 1 條魚的代價，就是不能抓到 4 尾溪蝦 (D)捕 1 條魚的代價，就是放棄抓 12 尾溪蝦。
5. 在荒島上的魯賓遜與土著星期五，每天各花 1 小時捕魚、1 小時採野果，兩人的產量如附圖。某日兩人協議分工合作，由魯賓遜專責採野果，星期五專責捕魚。分工後，魚與野果的總生產量有何變化？(P172,173) (A)沒有變化 (B)野果增加 1 公斤，魚增加 2 條 (C)野果減少 1 公斤，魚減少 2 條 (D)野果增加 2 公斤，魚增加 1 條。

魯賓遜每小時可捕魚 2 條，每小時可採野果 2 公斤，  
星期五每小時可捕魚 4 條，每小時可採野果 1 公斤。

6. 環球帝國召開經濟貿易論壇時，國內學者針對該國產業狀況提供建議。根據附表內容，下列哪一位學者提供的意見最值得列入參考？(P174,175) (A)學者甲：應協助紡織品產業廠商轉型，才利於其生存 (B)學者乙：出口塑膠製品的機會成本最低，最有利於出口 (C)學者丙：電子零組件產業應優先關注大量勞工的失業問題 (D)學者丁：國際分工時，應降低塑膠製品比重，將其轉移至紡織品。

出口項目			
年度	電子零組件	塑膠製品	紡織品
108 年	23,768	25,277	10,075
109 年	25,517	22,580	9,178
110 年	32,512	21,259	9,027
111 年	53,995	29,866	8,849
112 年	100,136	26,062	7,539

單位：百萬美元

7. 某製衣工廠內其中一組工作人員生產外套和帽子的產能如附表——

人員	外套	帽子
強哥	5	5
小容	6	3
麗華	2	4
仁德	7	5

單位：件／天

請由表中資料推論，何者最可能被工廠組長指定專業化生產帽子？(P170,171) (A)強哥 (B)小容 (C)麗華 (D)仁德。

後面尚有試題，請繼續作答

# 新北市立中正國民中學113學年度第一學期九年級社會科第二次段考試題

範圍：公民 B5L3~4、歷史 B5L2-2~4、地理 B5L2-2~4 班級：\_\_\_\_\_座號：\_\_\_\_ 姓名：\_\_\_\_\_

8. 小禾對於生活中廠商間的競爭方式感到很有興趣，因此她將觀察到的現象整理如附表。請根據表中內容判斷，何組的兩個觀察屬於價格競爭、非價格競爭各一的方式？(習作 P47)

選 項	觀 察 一	觀 察 二
A	火鍋店推出消費滿 10 鍋送 1 鍋的活動。	量販店推出冰品折扣活動。
B	超市祭出限時搶購，晚上 8 點全館商品 9 折。	早餐店推出漢堡配飲料折 5 元活動。
C	速食店與知名動畫合作，推出限量紀念杯。	超商推出咖啡買一送一優惠。
D	飲料店為響應環保，推出消費滿 300 元送環保吸管的活動。	比薩店要挑戰消費者的味蕾，推出榴槤口味披薩。

9. 媒體報導：「最近國內零售市場裡雞蛋的價格飆到每臺斤 50~52 元，超市裡的洗選蛋一盒售價更漲到 60 元左右，讓許多消費者叫苦連天。」【甲】指出，目前已經派人了解蛋雞的飼養和產蛋狀況，並訪查蛋商，了解蛋價上漲的真正原因是否涉及聯合漲價，一旦查出有人為操縱、違反【乙】的狀況，將嚴加處罰。」根據上述內容判斷，【甲】、【乙】應分別填入什麼？(習作 P48) (A)公平交易委員會、《公平交易法》 (B)消費者權益促進會、《消費者保護法》 (C)消費者保護委員會、《公平交易法》 (D)消費者文教基金會、《消費者保護法》。
10. 國際分工與貿易是經濟全球化的展現，下列關於甲國和乙國進行貿易的推論，何者較為正確？(習作 P51) (A)甲國若出口小麥至乙國，通常表示甲國生產小麥的機會成本較高 (B)甲國若從乙國進口玉米，通常表示甲國的玉米價格比乙國來得低 (C)甲國若從乙國進口玉米，通常表示乙國生產玉米的機會成本較高 (D)甲國若出口小麥至乙國，通常表示甲國的小麥價格比乙國來得低。
11. 電腦，是人們日常生活中的好幫手，在一部電腦的製作流程中，可能是將美國製的 CPU、臺灣製的主機板、日本製的顯示器、中國製的鍵盤和滑鼠進行組裝，即各國依據「甲」進行生產，再透過「乙」各取所需，生產者即可降低生產成本。根據內容判斷，甲、乙依序分別是指下列何者？(P174,175) (A)機會成本、銷貨收入 (B)國際分工、國際貿易 (C)機會成本、交易成本 (D)國際貿易、市場競爭。
12. 淑芬選擇在唱片行購買偶像的演唱會珍藏版 DVD，但回到家時，才發現自己選錯了品項，若他想退貨，哪一項敘述是正確的？(P164,165) (A)除非是瑕疵品問題，否則實體店面可不受理退貨要求 (B)這是消費者的權益，若店家不願意退貨，可直接報警 (C)只要是購買的商品未開封，皆可以享有 7 天的猶豫期 (D)當事人可依《公平交易法》，爭取應處理的消費爭議。

13. 志強在進入職場前想買一套新西裝，他特地去逛百貨公司，並看到西裝售價為 2 萬 5 千元，但對目前的他來說偏貴，因此他想等過一陣子推出折扣時再來購買。從志強的消費行為，可推論出什麼樣的訊息？(P170,171) (A)志強未完成交易，是因為較偏好無形市場 (B)志強與店家相比，他自己做更能專業化生產該項商品 (C)售價 2 萬 5 千元對志強來說，機會成本較低 (D)志強購買西裝的行為，受到機會成本的影響。

※14至16題為題組，閱讀下列圖文後回答問題：

動物方程式公司徵求經理、會計、業務、護理人員四種人才各一名。老闆從收到的履歷表中選出老虎、孔雀、無尾熊、貓頭鷹四位應徵者，依照他們提供的資料，歸納各自的優點及缺點，列表比較如下表所示。經面試後，安排適合四人專長的工作。請回答下列問題：

應徵者	優 點	缺 點
老虎	具備領導能力，善於判斷事情，適合做決策、下指令。	不喜低聲下氣，習於一人之下，萬人之上。
孔雀	善於溝通協調事務，人脈廣，交際能力佳。	不擅長處理數字、報表，以及瑣碎事務。
無尾熊	脾氣好，EQ 高，常扮演傾聽者、安慰者的角色	主見不夠，易舉棋不定，決策能力不足。
貓頭鷹	精於處理財務報表，精準計算金錢數字。	一板一眼，不擅變通。

14. 動物方程式公司需要接待客戶、擴展業務時，何者的機會成本最低？(P172,173) (A)孔雀 (B)老虎 (C)無尾熊 (D)貓頭鷹。
15. 處理複雜演算的會計工作，何者最能勝任？(P172,173) (A)老虎 (B)貓頭鷹 (C)無尾熊 (D)孔雀。
16. 老闆依照四個人的專長安排各自適合的工作，較可能帶來何種結果？(P172,173) (A)能力佳的人得不到好處 (B)提升公司的專業表現 (C)對所有人都沒有好處 (D)能力差的人才有好處。

試題結束

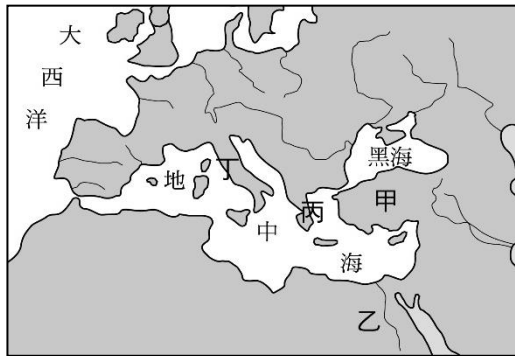
# 新北市立中正國民中學113學年度第一學期九年級社會科第二次段考試題

範圍：公民 B5L3~4、歷史 B5L2-2~4、地理 B5L3~4 班級：\_\_\_\_\_座號：\_\_\_\_ 姓名：\_\_\_\_\_

17. 西元前六世紀末，羅馬人驅逐外族國王，自此進入共和時期。共和政府的權力主要掌握在貴族手中，而羅馬在此時期也積極對外擴張，版圖橫跨歐、亞、非三洲。請問：由貴族所組成的權力組織為何？(P.93)

(A) 共和院 (B) 議會 (C) 城邦 (D) 元老院

18. 永祥在暑假參加了歐洲史蹟之旅，第一站參觀圓形競技場和萬神殿。這些建築氣勢雄偉，讓人驚訝於古人的智慧。請問：永祥的第一站來到了附圖中的何處？(P.95) (A) 甲 (B) 乙 (C) 丙 (D) 丁



19. 現今希臘、土耳其等國，都曾是東羅馬帝國的疆域範圍，我們拜訪這些國家時仍可以看到東羅馬帝國所遺留下來的歷史建築，如在土耳其伊斯坦堡的聖索非亞大教堂。有關東羅馬帝國的敘述，下列何者正確？(P.94)

(A) 最終滅亡於西元479年  
(B) 採用封建分封的體制統治政權  
(C) 定都於拜占庭，因此又被稱為拜占庭帝國  
(D) 亡國於塞爾柱土耳其人的攻勢之中

20. 把萬神殿與帕德嫩神廟相比，相形之下顯得粗糙、不精緻，這與此民族的精神相關。萬神殿的建築構成元素，源自一座較早的神廟建築，座落於城市中心，其特色為圓頂高度，相當於它在平面上的直徑，皆為43.3公尺。這座巨大的建築，大膽挑戰結構力學，直到西元1436年也以圓頂聞名的佛羅倫斯聖母百花大教堂完工之前，萬神殿是全世界最具震撼性的圓頂設計。請問：有關上述短文的說明，下列何者正確？(P.95, 100)

(A) 此民族應是指希臘人 (B) 此民族的精神應是重視務實 (C) 萬神殿在十五世紀為鄂圖曼土耳其人占領後，改建為清真寺，並陸續加建四座伊斯蘭式的尖塔 (D) 本文高度肯定希臘建築優於羅馬建築

21. 下列是某位君主頒布詔令的內容：「承認基督教為合法宗教，羅馬人有信仰基督的自由，歸還被沒收的教會財產，規定星期天為禮拜日……。」由其內容判斷，頒布這份詔令的君主應該是下列何人？(習作P.25改題)(A) 屋大維 (B) 君士坦丁 (C) 阿育王 (D) 狄奧多西

22. 近年來考古學家在以色列耶路撒冷附近發掘到兩千年前的洞穴，發現其中有十個裝骸骨的石匣，上方刻有「耶穌」、「約瑟」、「馬利亞」、「猶大」等字樣，此驚人的考古結果是否為耶穌之墓，引起各方議論。下列與這個考古遺址相關的史實，何者錯誤？(P.98)

(A) 由洞穴的年代來看，符合耶穌生存的時代(西元一世紀左右) (B) 耶穌受難後被門徒稱為「基督」，意思是「救世主」 (C) 約瑟、馬利亞與耶穌之間的故事，記載於《舊約聖經》中 (D) 猶太人認為自己是上帝耶和華的選民，然而耶穌認為神的愛是普世的，而不只限於猶太民族

23. 基督教為歐洲文明的重要元素，但其發展的過程曾出現過兩次大分裂，請問以下相關敘述何者正確？(P.100,115)

(A) 第一次大分裂發生於四世紀末，主要是因為教義分歧及爭奪教會領導權  
(B) 第一次大分裂發生於羅馬帝國晚期，分裂為希臘正教和羅馬公教  
(C) 第二次大分裂提升了君主的權力，有助於近代國家的興起  
(D) 第二次大分裂發生於十六世紀，主要是因為海外傳教爭奪勢力範圍

24. 大雄睡完午覺醒來，意外的發現他穿越時空，來到了歐洲某一時代。為了能生存下去，他四處觀察人們生活方式，並在她的日記中寫下紀錄：「修道院的修士遠離塵囂，以懺悔方式進行修行，祈禱與工作是他們的生活格言。他們也抄寫古書、努力耕種土地，不僅為了修道院生活的自給自足，也為了救助窮人。在動盪不安的時代，旅人可以在修道院過夜，得到安全照顧。修士們還指導附近的孩子們拉丁文，講解《聖經》。」請問大雄的日記中，還有可能會記錄下列何事？(P.99)

(A) 馬丁路德批判猶太教的腐敗  
(B) 年輕夫妻在教堂帶著新生兒參加洗禮  
(C) 帝國的皇帝同時掌管政治與宗教事務  
(D) 學校指定學生閱讀《天方夜譚》

25. 阿拉伯人與繼之而起的土耳其人先後成為伊斯蘭世界的主人。以下為幾位同學提出看法，請問有幾位同學說法正確？(P.102)

甲：阿拉伯帝國崛起於阿拉伯半島，八世紀時已橫跨歐、亞、非三洲。

乙：賽爾柱土耳其和鄂圖曼土耳其的版圖也都橫跨歐、亞、非三洲。

丙：鄂圖曼土耳其引起了十字軍戰爭

丁：麥加是阿拉伯帝國的首都，也是伊斯蘭世界最繁榮的城市，其發達的程度可從《天方夜譚》了解其盛況。

戊：土耳其人是東西貿易交流的媒介，曾將中國的造紙術和活字印刷傳到西方。

(A) 1位 (B) 2位 (C) 3位 (D) 4位

26. 下列關於阿拉伯世界的描述，何者錯誤？(P.102)

(A) 伊斯蘭教傳入中國後，又被稱為回教  
(B) 阿拉伯人對中國造紙術與指南針的傳播有貢獻  
(C) 大多信仰伊斯蘭教  
(D) 《十二表法》是阿拉伯人流傳的法律條文

新北市立中正國民中學113學年度第一學期九年級社會科第二次段考試題

範圍：公民 B5L3~4、歷史 B5L2-2~4、地理 B5L3~4 班級：\_\_\_\_\_座號：\_\_\_\_ 姓名：\_\_\_\_\_

27. 下圖是某史事的起源地區與傳播方向示意圖，下列何者最足以呈現該史事的內涵？(P.111)

- (A) 路德教派改革，主張因信得救
- (B) 研究古典文獻，強調人文主義
- (C) 穆罕默德死後，阿拉伯人積極擴張
- (D) 鄂圖曼土耳其人迅速擴張，攻滅拜占庭帝國



28. 下列文藝復興時期藝術家、作家與其作品的配對何者錯誤？(P.112)

- (A) 達文西—《最後的晚餐》
- (B) 米開朗基羅—《創世紀》
- (C) 佩脫拉克—《蒙娜麗莎》
- (D) 拉斐爾—聖母像

29. 文藝復興在十四世紀後興起於義大利，進而引領歐洲文明。史學家對此時期的歷史發展提出了許多解釋，下列何者可以視為義大利文藝復興的起因？(P.110)

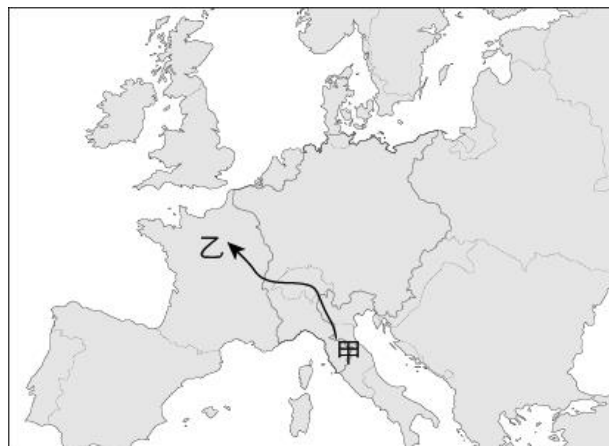
- (A) 義大利為拜占庭帝國的政治中心
- (B) 義大利在阿拉伯帝國的統治下文教興盛
- (C) 日耳曼民族入侵使教會控制力道減弱
- (D) 伊斯蘭世界翻譯古籍流回歐洲

30. 「浪費時間是所有罪中第一大罪和最重罪。」過去教會認為，人們不應該將時間浪費在追求財富，認為這是邪惡的行為。後來，某教派提出財富是勞動的果實、是神的祝福，受到社會的歡迎。請問此教派應為下列何者？(P.113)

- (A) 喀爾文教派 (B) 路德教派
- (C) 英國國教派 (D) 耶穌會

31. 小茸今年暑假計畫去歐洲自助旅行，預計開車由甲國出發前往乙國，規畫路線如附圖所示。若由甲至乙的方向來看，沿線所經過國家的基督教教派，依宗教改革後的分布來排列順序，應為下列何者？(P.115)

- (A) 舊教→新教→新教 (B) 東正教→舊教→新教
- (C) 舊教→新教→舊教 (D) 舊教→新教→東正教



32. 小夫寫出他對宗教改革的了解，下列何者有誤？(P.114-115)

- (A) 羅馬教會的權威在宗教改革後大為降低
- (B) 工商業者比較支持新教派
- (C) 羅馬教會並沒有因此反省革新
- (D) 引起宗教戰爭，但最後新舊教派都同意信仰自由

33. 義大利傳教士利瑪竇於明末來到中國，除從事傳教工作外還與士大夫徐光啟合譯《幾何原本》，對中國影響很大。關於利瑪竇所屬的教派，下列敘述何者正確？(P.114)

- (A) 屬於宗教改革後的新教系統
- (B) 由法國人喀爾文所創立
- (C) 神職人員具備科學知識及傳教熱忱
- (D) 成立背景是為改革希臘正教的內部問題

背面尚有試題請翻頁



# 新北市立中正國民中學113學年度第一學期九年級社會科第二次段考試題

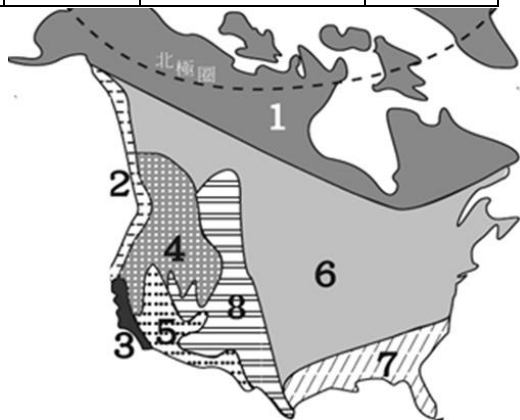
範圍：公民 B5L3~4、歷史 B5L2-2~4、地理 B5L3~4 班級：\_\_\_\_\_座號：\_\_\_\_ 姓名：\_\_\_\_\_

【讀卡科目請依規定畫卡，若有違反畫卡規定而影響讀卡作業之情事，一律扣總分 5 分。】

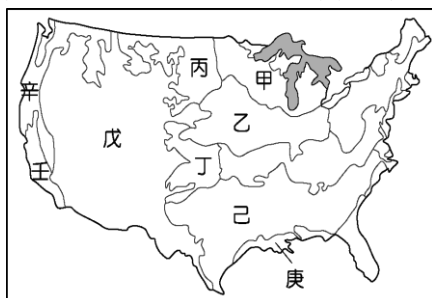
34. 有關北美洲自然景觀的敘述，何者錯誤？(P.36)
- (A)在美國可看到永晝現象  
(B)西部地區可發現地熱噴泉  
(C)東部經長期侵蝕，因此海拔高度不高  
(D)中部有聖羅倫斯河沖積而成的大平原
35. 某城市位於美國的內華達州，根據 1991 至 2020 年在當地的麥卡倫國際機場測量到的數據如下，請問該城市最可能位於下圖的何處？(P.38)

日最低氣溫 0°C 以下	9.8 天	最冷月均溫	9.0°C
日最高氣溫低於 10°C	7.5 天	極端最低氣溫	-13°C
日高溫 30°C 以上的	157 天	最熱月均溫	34.0°C
日高溫 40 以上的	48 天	極端最高氣溫	47°C
年均降水量	106mm		
年極端最少降水量	14mm		
年極端最多降水量	272mm		

- (A)5  
(B)6  
(C)7  
(D)8

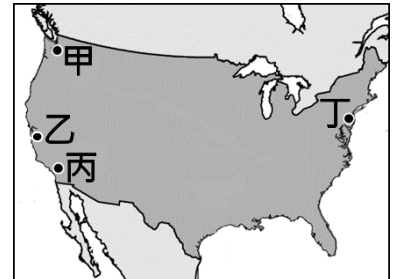


36. 中南美洲在不同時期，先後有不同族群進入居住，彼此的混血後代成為當地現今的主要居民，請問中南美洲主要包含了那些民族的後代？(甲)歐洲白人 (乙)印第安人 (丙)因紐特人 (丁)非洲黑人(P.50)
- (A)甲乙丙 (B)甲乙丁 (C)甲丙丁 (D)乙丙丁
37. 早在哥倫布發現新大陸的 500 年前，北歐維京人就已經乘船到達過北美洲東北部，但因受不了酷寒的冬季，不久後又返回歐洲。北美東北部與北歐緯度相同，但冬季氣溫卻有顯著差異的主要因素為何？(P.38)
- (A)氣團性質 (B)距海遠近  
(C)洋流性質 (D)地勢高低
38. 美國農場勞動力約占全國勞動人口的 1.6%，但農作物產量不僅養活 3 億美國人，而且還使美國成為全球最大的農產品出口國，造成上述美國農業成果的最主要原因為何？(P.41)
- (A)單位面積產量高，集約式種植 (B)高度機械化  
(C)高溫多雨利農業發展 (D)種植單一經濟作物
39. 「從 2021 年元旦起，臺灣開放美豬進口，美國養豬業主要分布於玉米帶，以玉米為飼料」，玉米帶位於右圖中哪區？(P.41)
- (A)甲 (B)乙  
(C)戊 (D)壬



定而影響讀卡作業之情事，一律扣總分 5 分。】

40. 當地居民很少使用矽谷這兩個字，而是稱這區為舊金山灣區(SF bay area)，美國收入中位數最高的前 10 個城市有 3 個都在灣區，其中有全美最貴郵遞區號之稱的阿瑟頓(Atherton)，以薪資中位數 45 萬美金(約 1300 萬台幣)排名第一，這裡的房價更是驚人，平均一棟落在 2.3 億台幣左右，三四千萬台幣在這只能買到美國人不偏好的房型，亞洲移民戲稱這些是所謂的「小黑屋」，此區為處在圖中何處？(P.42)



- (A)甲  
(B)乙  
(C)丙  
(D)丁

41. 2020 年墨西哥城的人口為 9,209,944 人，土地面積為 1,485 平方公里，與周邊的衛星都市相連形成大墨西哥城，人口為 21,804,515 人，為西半球第二大城市群，2011 年墨西哥城的 GDP 為 4110 億美元，該市貢獻墨西哥 GDP 的 15.8%，墨西哥城能吸引眾多人口居住，是具有何種特徵？(P.54)

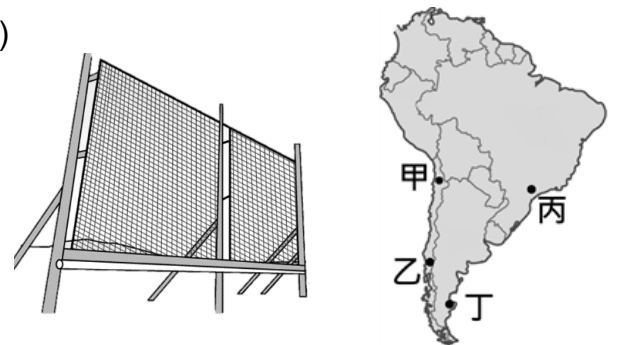
- (A)交通便利 (B)礦產豐富  
(C)氣候得宜 (D)天然災害發生頻率低

42. 下表為聯合國 2020 年發表的都市化程度資料，其中與歐、北美兩洲都市化程度相當的中南美洲，其經濟發展程度卻無歐、北美兩洲高。造成此現象的主要原因，最可能為何者？(P.54)

年分	全球	歐洲	北美洲	中南美洲
2000	46.7%	71.1%	79.1%	75.5%
2010	51.7%	72.9%	80.8%	78.6%
2020	56.2%	74.9%	82.6%	81.2%

- (A)鄉村推力太大導致大量人口湧進都市  
(B)都市的大量就業機會吸引鄉村人口移入  
(C)人口數量全球第一，且全部集中在都市  
(D)都市皆主要生產農牧加工品經濟價值低

43. 下圖為南美洲某地發明出的採霧設備，海上涼流的形成霧氣瀰漫到沙漠邊緣，霧氣經過採霧網凝結成水滴，再收集於蓄水槽中。此法集水效率高且水質乾淨，可作為民生或灌溉用水。上述的採霧設備最可能位於下圖中何處？(P.49)



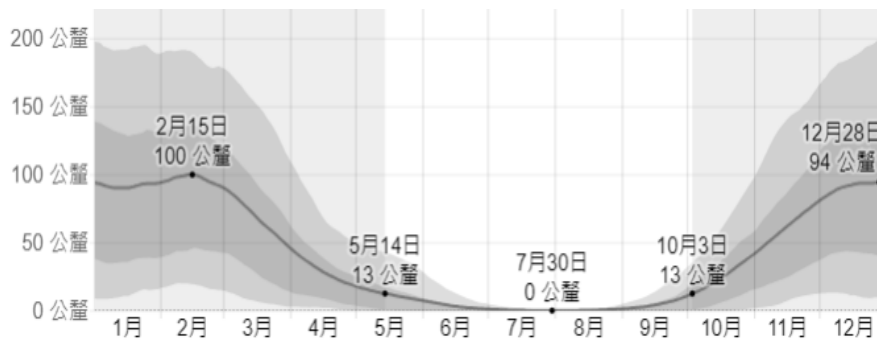
- (A)甲  
(B)乙  
(C)丙  
(D)丁

背面尚有試題

新北市立中正國民中學113學年度第一學期九年級社會科第二次段考試題

範圍：公民 B5L3~4、歷史 B5L2-2~4、地理 B5L3~4 班級：\_\_\_\_\_座號：\_\_\_\_ 姓名：\_\_\_\_\_

44. 下圖為北美某地區 2024 年的月平均雨量，有關此區的敘述何者正確？(P.38)



- (A)此區在春夏時節常有龍捲風  
(B)此區最可能出現在北美東南部  
(C)夏季因背風側導致雨量少  
(D)冬季受西風吹撫因此降雨增加
45. 1881 年法國人開始建造巴拿馬運河，但很快因技術問題及勞工的高死亡率而停工，美國於 1904 年接手工程，並於 1914 年 8 月 15 日建成，作為人類有史以來最大的工程項目之一，巴拿馬運河極大地縮短了船隻來往於大西洋和太平洋之間的時間，使船隻能夠避開遙遠而危險的麥哲倫海峽和德雷克海峽，請問下列何位置最有可能為巴拿馬運河及麥哲倫海峽？(P.47)

(A)甲乙 (B)丙丁 (C)乙丙 (D)甲丁

	甲	乙	丙	丁
緯度	9°N	61°N	0°	53°S
經度	79°W	149°W	78°W	70°W

46. 「美國考古學家分析在智利阿他加馬沙漠發現的鸚鵡木乃伊殘骸，認為依當地氣候條件判斷，鸚鵡應不是智利原生物種，推論可能是在900年前，商人將原本生活於亞馬孫河流域的鸚鵡越過高處運往沙漠。」文中的高處最可能為何？(P.47)

(A)巴塔哥尼亞高原 (B)落磯山  
(C)安地斯山 (D)墨西哥高原

47. 下表為 2018 年世界大豆、玉米、小麥前五大出口國，對於此表的說明何項說明錯誤？(P.43)

(A)全球 90%以上的大豆出口來自美洲國家  
(B)玉米的前五大出口國皆為美洲國家  
(C)小麥主要生產於溫帶國家  
(D)烏俄戰爭可能衝擊全球玉米、小麥的供應

排名	大豆	玉米	小麥
1	巴西 54.7%	美國 40.3%	俄羅斯 23%
2	美國 30.4%	巴西 13.6%	加拿大 12%
3	巴拉圭 3.9%	阿根廷 13.3%	美國 11.8%
4	加拿大 3.6%	烏克蘭 12.3%	法國 9.9%
5	阿根廷 2.3%	法國 2.9%	烏克蘭 8.6%
	其他 5.1%	其他 17.6%	其他 34.7%

48. 拉丁美洲受殖民文化影響非常深，即便脫離殖民獨立已久，但仍可從各方面看出殖民時期留下的影子，請問下列何者跟拉丁美洲的殖民背景無關？(P.51)
- (A)官方語言多以西班牙文或葡萄牙文為主  
(B)生產大量熱帶栽培業作物  
(C)鄉村地區基礎建設不足，城鄉發展差異大  
(D)美墨邊境地區設立加工出口區

49. 早年因為北美自由貿易協定(NAFTA)，墨西哥憑藉著低勞工成本以及關稅優惠，享有顯著的優勢，但在 2020 年 7 月美墨加協定(USMCA)生效後，這些優勢可能不再。汽車工業更受影響，其相關規定如下：(P.42)

(1)至少 75%零組件需來自北美  
(2)至少 70 %鋼鐵、鋁材需為北美  
(3)至少 40~45%零組件是由時薪 16 美元(約臺幣 471 元)的工人製造。

美墨加協定(USMCA)生效後，可能會產生哪些現象？

(甲) 汽車製造成本下降 (乙)汽車製造成本上升 (丙)墨西哥不再發展汽車產業 (丁)北美汽車製造職缺增加  
(A)甲丙 (B)乙丙 (C)乙丁 (D)甲丁

50. 墨西哥灣聯邦石油產量占美國的 15%，天然氣產量占全國的 5%，超過 47%的美國石油煉製能力和 51%的美國天然氣加工廠能力位於墨西哥灣沿岸，美國 WTI 原油 8、9 月下跌了約 0.7%，今年以來上漲了 1.2%，最糟的情況可能造成 8 月中旬到 10 月能源市場出現嚴重的供給中斷，造成上述情形的原因可能為？(P.39)

(A)少子化造成勞力成本增加  
(B)疫情後的通貨膨脹  
(C)板塊擠壓重創油井  
(D)大西洋地區的氣象災害

試題結束