

新北市立中正國民中學111學年度第一學期八年級社會科 第三次段考試題

範圍：公民 B3L5~6、歷史 B3L5~6、地理 B3L5~6 班級：_____座號：____ 姓名：_____

【讀卡科目請依規定畫卡，若有違反畫卡規定而影響讀卡作業之情事，一律扣總分5分。】

一、 選擇題

- 人口學家提出「德莫尼投票法」(Demeny Voting)，賦予父母代替其未成年子女投票的權利，希望藉以平衡老年選民占多數而可能偏向特定政策的弊病。但該方式也受到質疑，認為這些未成年選舉人的權利，可能受到其監護人的影響而喪失獨立性。該投票法可能違反下列哪一項原則？
(A)普通原則
(B)平等原則
(C)無記名原則
(D)直接原則。(p181)
- 具有投票資格的公民，在投票日當天，依規定應攜帶哪些物品到指定的投票所投票？(甲)印章 (乙)健保卡 (丙)選舉公報 (丁)國民身分證 (戊)投票通知單
(A)甲丁戊
(B)甲丙戊
(C)甲乙丙
(D)丙丁戊。(p182)
- 緬甸自西元 1962 年開始由軍人獨裁統治。西元 2007 年爆發反軍政府示威，是緬甸 20 年來規模最大的抗議遊行，此遊行本為抗議油價高漲，後轉為要求民主的示威遊行。西元 2011 年緬甸宣布解除 Facebook、Twitter、BBC、YouTube 等網站的封鎖，象徵進入網路自由時代。西元 2015 年緬甸舉行 25 年來首次大選，結束軍政府長達 54 年的統治。根據上述緬甸的政治發展，下列推論何者正確？
(A)政治參與行動由西元 1962 年至今一直蓬勃發展
(B)西元 2011 年起人民的政治參與行動大幅減少
(C)因人民需求未獲滿足而引發大規模的抗議活動
(D)文中大選展現政府服務品質與效率的提升。
(p168,179)
- 家住新北市的阿忠剛滿 23 歲，決定參加立法委員選舉以施展他的政治抱負。他家中經營便利商店的爸爸、在地政事務所工作的媽媽、小他 6 歲的妹妹、準備國中會考的弟弟、因販毒而被褫奪公權尚未復權的大哥，還有因失智而受監護宣告的爺爺。根據上述，阿興家有幾個人沒有投票資格？
(A)1 個
(B)2 個
(C)3 個
(D)4 個。(p 181)
- 小霈畢業後積極投入政黨活動，2020 年總統選舉，她賣力(甲)為所支持政黨推出的候選人拉票，也(乙)投下自己神聖的一票。在愛護動物的朋友提議下，她開始四處奔走(丙)請人連署「政府有責任結紮流浪貓狗」提案，希望提案成功後，可以藉由(丁)公民投票解決流浪動物的問題。下列敘述何者正確？
(A)(甲)不屬於政治參與
(B)(乙)是間接民主的展現
(C)(丙)提案者必須是公務人員
(D)(丁)是直接民主的展現。(p 173,180)
- 大選過後，正中國的主要政黨得票情形為：A 黨 62%、B 黨 32%、其他 6%，A 黨成功翻轉新政局。而在政權完成交接後，A、B 兩黨的新角色依序為何？
(A)在野黨，組織政府；執政黨，監督政府

- (B)在野黨，監督政府；執政黨，組織政府
(C)執政黨，監督政府；在野黨，組織政府
(D)執政黨，組織政府；在野黨，監督政府。(p 173)

- 西元 2022 年全臺大停電引發民怨，起因為臺電興達電廠機組的人為操作失誤，使得臺南龍崎超高壓變電所受到干擾跳脫，造成全臺高達 549 萬戶停電。最後臺電董座請辭，但外界仍要求經濟部長下臺，並希望政府提供有效的解決方式。由上文判斷，公共意見對於民主國家的重要性為何？(甲)作為施政的依據(乙)作為執政黨執政的基礎 (丙)背離民意即是觸犯法律(丁)符合民意才能順利推動政策。

(A)甲乙丙

(B)乙丙丁

(C)甲丙丁

(D)甲乙丁。(p168,169)

- 現代民主國家中，都有利益團體與政黨兩種組織的存在，但其對政治的影響並不相同，民眾若希望透過這二者讓公共意見產生影響力，下列哪一項敘述是正確的？

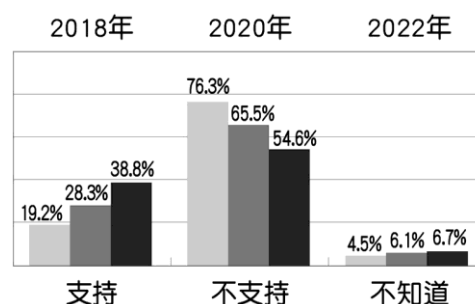
(A)利益團體為保持政治中立，不與任何政黨發生關聯，直接將匯集的公共意見提出請願

(B)利益團體目的在影響決策，政黨目的則是取得政權，兩者皆能彙整民眾意見發揮影響

(C)政黨必須透過利益團體的力量，整合團體所匯集的公共意見後，才能促使政府改變政策

(D)政黨不受任何利益團體影響，只為多數的民眾謀福利，直接透過服務處匯聚公共意見。(p172,173)

- 下圖為國人對日本福島暨周邊四縣市農產品及食品開放進口態度的三次民意調查數據：



由圖中內容可以看出公共意見的何種特性？

(A)複雜性、影響性

(B)變動性、影響性

(C)複雜性、變動性

(D)影響性、議題性。(p170,171)

後面尚有試題，請翻面繼續作答

新北市立中正國民中學111學年度第一學期八年級社會科 第三次段考試題

範圍：公民 B3L5~6、歷史 B3L5~6、地理 B3L5~6 班級：_____座號：____ 姓名：_____

【讀卡科目請依規定畫卡，若有違反畫卡規定而影響讀卡作業之情事，一律扣總分5分。】

10. 下表為我國選舉史上的幾個重要事件，下列相關敘述何者正確？

- (A)民國 83 年和 85 年的選舉，選舉人的資格僅有年齡上的不同
- (B)民國 105、106 年修正對事的投票相關法案
- (C)民國 83、85 年進行對人的投票
- (D)民國 105、106 年的修法，皆展現責任政治的精神。(p179,180)

時間 (民國)	重要事件
83 年	第一屆民選直轄市市長
85 年	第一屆民選正副總統
105 年	通過法律修正案，下修公職人員罷免門檻
106 年	通過法律修正案，下修公民投票提案、成案及通過門檻

11. 中正國的總統大選結果出爐，受到連續第三年經濟衰退，十幾萬個工作職位被砍，上萬家公司關閉的影響，現任總統爭取連任失敗，由反對黨候選人高票當選。民眾歡欣鼓舞的說：「這四年來政府缺乏作為，我丟了工作，生活愈來愈難過，今天終於有重見光明的感覺！」針對上述報導，下列說明何者不適切？

- (A)人民以選票檢視政府的施政效能
- (B)本次選舉實現創制、複決的權利
- (C)選舉有助不適任者負起政治責任
- (D)人民透過選票授權組成新的政府。(p179,180)

題組

※西元 2020 年我國舉行第 15 屆總統大選，當天投票結束後，投票所立即開票，並由【甲】公布選舉結果。民主進步黨贏得選戰，繼續執政；中國國民黨敗選，仍為在野黨。請回答下列問題：(p182)

12. 我國的選舉過程，下列何者正確？

- (A)登記參選→選舉公告→競選→投票→開票→當選公告
- (B)競選→選舉公告→登記參選→投票→開票→當選公告
- (C)選舉公告→登記參選→競選→投票→開票→當選公告
- (D)當選公告→競選→登記參選→投票→開票→選舉公告。

13. 根據上文判斷，投票所進行開票後，由【甲】公告選舉結果，【甲】應為下列何者？

- (A)總統
- (B)選舉委員會
- (C)立法院院長
- (D)司法院大法官。(p 182)

14. 這次總統大選，當選政黨憑藉民意的支持，取得執政權，展現出選舉的何種功能？

- (A)選出公職人員
- (B)合法組成政府
- (C)影響政府政策
- (D)展現分權制衡。(p178)

※沙烏地阿拉伯在西元 2005 年、2011 年舉行全國性地方政府選舉，這兩次選舉，女性皆被排除在外，不具備參選權和投票權，直到西元 2015 年才首次開放女性投票與參選。競選過程中女性面臨諸多挑戰，在沙國的男女隔離政策下，婦女不可公開露面宣傳政見，女性候選人不能直接面對男性選民發表演講，只能從隔離物後講話，或讓男性親屬代替她們說話。部分女性候選人則用網路來發聲，透過社群媒體的傳播，讓選民能接觸到她的政見。請回答下列問題：

15. 西元 2015 年的選舉，對沙國女性有何重要意義？

- (A)擁有表達意見與需求的機會
- (B)可針對政策自行提案
- (C)避免政府服務效率下降
- (D)罷免不適任公職人員。(p179)

16. 沙國在西元 2015 年的選舉中，落實了選舉的哪一項原則？

- (A)無記名原則
- (B)普通原則
- (C)直接原則
- (D)平等原則。(p 181)

後面尚有試題，請翻面繼續作答

【讀卡科目請依規定畫卡，若有違反畫卡規定而影響讀卡作業之情事，一律扣總分5分。】

17. 清朝年間，有大臣上奏，建議朝廷選擇聰明的兒童，將他們送到西方各國學習軍政、船政、數學、製造等學問，十餘年後，當幼童學成歸國並貢獻所學，中國便能熟悉西方技術與物質文明，國家可以逐漸壯大。清政府同意此一建議，將其頒布施行。請問：上述情況最早應出現於下列何時？（P.110）

(A)鴉片戰爭期間
(B)自強運動期間
(C)戊戌變法之際
(D)立憲運動後。

18. 恆銳報名參加一場學術研討會，相關主題如附表所示，由表中內容判斷，此次研討會的主題最可能為下列何者？（P.111）

(A)英法聯軍的過程與影響
(B)西化思想與自強運動
(C)甲午戰爭的過程與影響
(D)鴉片戰爭對中國的影響。

時間	主題
9：10 ～ 10：00	光緒 20 年 朝鮮內部動亂
10：10 ～ 11：00	弱肉強食的 瓜分風潮
11：10 ～ 12：00	中國民生工業 的發展

19. 明德是清代的知識分子，自小生活在上海，在清廷開放與外國通商後，明德在街道上經常可見外國人經商買賣、傳播宗教，有時他會與外國人交談，得知西方各國不同於中國的風俗民情，進而對西方國家物質文明與現代思想產生興趣。請問：明德可以透過哪一讀物更加了解西方國家的文明與思想？（P.114）

(A)《臺灣民報》
(B)《四書集注》
(C)《自由中國》
(D)《萬國公報》。

20. 十九世紀以來，英國大量走私鴉片進入中國，當時清朝官員出現嚴禁派與弛禁派(解除禁令)的紛爭，主張嚴禁鴉片有林則徐等人。請問：他們堅持嚴禁的理由最可能為下列何者？（P.109）

(A)白銀外流打擊清朝的經濟及影響人民的健康
(B)中國有自產鴉片，會影響中國鴉片的銷售
(C)鴉片進口會使許多人失業
(D)鴉片的售價太高昂，民眾消費不起。

21. 十九世紀以來，不只是中國面臨來自西方國家的進逼，日本也在美國等西方國家的壓力之下，進行了改革運動，史稱「明治維新」。這場維新運動讓日本脫胎換骨，使得其國力逐漸增強，之後也讓日本成為國際局勢的一大焦點。下列關於「明治維新」的敘述，何者正確？（P.111）

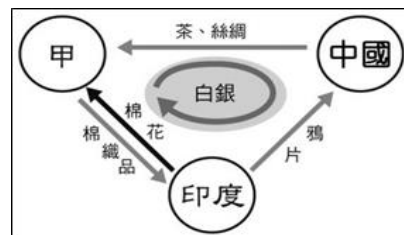
(A)「明治維新」主要是由日本的知識分子推動，其君王並沒有特別支持與推行
(B)在「明治維新」的成果影響之下，日本在「甲午戰爭」當中打敗清政府，並迫使清政府割讓臺灣和澎湖

等領土給日本

(C)「明治維新」的改革重點主要是推行唐化運動和接收中國儒家傳統的禮儀特色
(D)日本「明治維新」的成功，使得清廷學習日本的經驗，加以推行「自強運動」。

22. 附圖是十九世紀前期某國與中國的三角貿易關係，箭頭所示代表輸出的國家。請問：這種貿易狀況導致中國與甲國爆發哪一場戰爭？甲國是哪一國？（P.109）

(A)鴉片戰爭、法國
(B)甲午戰爭、英國
(C)鴉片戰爭、英國
(D)八國聯軍、法國。



23. 西元 1844 年，英國人愛德綏於浙江寧波成立寧波私塾，免收學費招收女學生，被認為是中國女子學校的開端。請問：依照當時鴉片戰爭剛結束，中國社會氛圍仍較保守的情況下，愛德綏的身分背景最有可能是下列何者？（P.116）

(A)道光皇帝的教育顧問
(B)英國政府的間諜
(C)光緒皇帝的教育顧問
(D)西方教會傳教士。

24. 女性獲得法律上的平等地位，是這一百年內的事。可見在人類歷史上的女性長期以來受到歧視或打壓，清朝末年的秋瑾可以說是近代中國女權第一人，他出身官宦之家，卻是提倡女權的先驅。請問：秋瑾之所以能反抗傳統，最可能是基於什麼原因？（P.117）

(A)家庭支持
(B)革命運動
(C)受過教育
(D)出身階級。

25. 西元 1850 年，英國商人們在上海組織了跑馬總會並開闢了第一個跑馬場。由於場地太小，騎手經常把馬騎到外邊的泥石路上，人們把這些路稱作馬路，即現在稱城市街道為馬路的由來。請問：賽馬開始成為上海部分市民的娛樂是在哪一時期？（P.115）

(A)《南京條約》簽訂後
(B)英使馬加爾尼到中國
(C)鴉片戰爭前
(D)利瑪竇到中國傳教。

26. 阿寶在整理清政府於鴉片戰爭後所簽定《南京條約》的相關條款時，做了以下的筆記，請問：筆記中哪個項目與內容的搭配是正確的？（P.109）

(A)片面最惠國待遇：「外國人在中國犯法，不必受中國法律制裁。」
(B)領事裁判權：「外國人可以在中國劃定區域自行發展，這便是國中有國。」
(C)租界：「中國同意給予外國貿易優惠，外國不會給中國相同的優惠。」
(D)協定關稅：「關稅額度必須先與外國協議，使國庫損失不少稅收。」

27. 「西元 1905 年，清廷明令廢除科舉，讀舊書已不是獲取功名及地位的敲門磚，具有現代知識的人，才有資格參加甄別考試，授以某科進士、某科舉人之銜。」請問：上述是清末哪項革新運動的舉措？這項改革運動是受哪一場戰爭的刺激？（P.113）

【讀卡科目請依規定畫卡，若有違反畫卡規定而影響讀卡作業之情事，一律扣總分5分。】

- (A)戊戌變法、甲午戰爭
(B)庚子後新政、八國聯軍
(C)庚子後新政、甲午戰爭
(D)戊戌變法、八國聯軍。
28. 中華民國第一任教育總長蔡元培，在第一任妻子過世後，開出以下徵婚條件：「第一，不纏足的女性；第二，需識字；第三，男子不得娶妾、不能娶姨太太；第四，如果丈夫先死那妻子可以改嫁；第五，意見不合可以離婚。」從以上條件，可看出蔡元培對於妻子在婚姻中的想法最接近下列何者？（P.116）
(A)男女平權
(B)三從四德
(C)夫唱婦隨
(D)兩不相干。
29. 右圖是一幅歷史漫畫，圖中清朝官員在感嘆時局的變化。請問：他會感嘆洋人勢力由沿海深入中國內地，是因為清政府在哪場戰爭失敗所導致的？（P.110）
(A)鴉片戰爭
(B)甲午戰爭
(C)英法聯軍
(D)中法戰爭



30. 自《南京條約》開港通商後，中國港口都市的生活產生各種變化，西式文化和器物陸續引入中國，造就不同的城市風貌。請問：下列何種狀況較不可能發生在此時期的港口都市？（P.115）
(A)民眾前往咖啡廳、公園等地休憩
(B)辮髮儒服長袍馬褂成為中西人士時髦的表現
(C)自來水、電燈等設施影響生活環境
(D)洋食、洋貨改變飲食消費習慣。
31. 光緒 24 年，西元 1898 年戊戌變法僅僅推動一百多天便宣告失敗，參與新政的人士不是被逮捕，便是被迫逃往海外。請問：導致新政失敗的最大原因為何？（P.112）
(A)強調軍事武器的革新不符合實際需求
(B)續任中央到地方上職務相同的多餘官員
(C)設立京師大學堂，措施過於激進
(D)慈禧太后發動戊戌政變。
32. 英法聯軍之役後，開放外人可至中國內地遊歷與傳教，使外國人的勢力更加深入中國內地，外國傳教士為拓展教務，在教民與一般民眾發生糾紛時往往袒護教民，干預中國地方官員的審判。請問：當時外國傳教士主要是憑藉哪項特權，得以不受中國的司法管轄？在中國民間與西洋文化差異與宗教衝突之下，終於引發了哪一事件？（P.113）
(A)領事裁判權、甲午戰爭
(B)協定關稅、義和團拳亂
(C)領事裁判權、義和團拳亂。
(D)協定關稅、甲午戰爭
33. 日俄戰爭的結果，使中國開始體認到君主立憲政體有其優勢存在，於是朝野開始鼓吹立憲運動，主張君民共治，但是此運動最後卻令人大失所望，其原因為何？（P.113）
(A)出現皇族內閣的現象
(B)立憲時間太過倉促

- (C)憲法的君權過重
(D)立憲的規畫不夠完善。

後面尚有試題，請翻面繼續作答

新北市立中正國民中學111學年度第一學期八年級社會科第三次段考試題

範圍：公民 B3L5~6、歷史 B3L5~6、地理 B3L5~6 班級：_____座號：____姓名：_____

【讀卡科目請依規定畫卡，若有違反畫卡規定而影響讀卡作業之情事，一律扣總分5分。】

一、選擇題

※34至36題為題組，閱讀下列圖文後回答問題：

「甲地」是日本較晚開發的區域，人口成長受限於寒冷的氣候較其他地區低。15世紀以來南方的大和民族進入原居此地的阿伊努人(愛奴人)的土地，使甲地逐漸融入近代的日本社會。

日本政府19世紀在推動開拓事業，數百萬人陸續到此從事農業、開採煤礦，至今甲地擁有日本四分之一的農地。受惠於暖流經過，較暖溼的夏季可種植與南方相同的「乙作物」，成為日本食糧的重要供應地。

甲地仍保有大面積未經干擾的自然環境，如登別溫泉、洞爺湖、擁有丹頂鶴的釧路濕地等，利於從事「丙產業」，是現代經濟的支柱。

34. 上文裡的「甲地」最可能是何處？(P.53、54)

(A)北海道 (B)本州 (C)四國 (D)九州。

35. 上文裡的「乙作物」最可能是下列哪種農作物？(P.56)

(A)小麥 (B)水稻 (C)玉米 (D)甘藷。

36. 上文裡敘述的「丙產業」，最可能是下列哪一種產業活動？(P.62)

(A)漁業 (B)觀光業
(C)金融業 (D)牧業。

37. 右圖有顏色標示的區域是季風氣候分布的範圍，稱為「季風亞洲」。請問：哪個亞洲分區「全境」都位在季風亞洲？(P.52)

(A)東亞 (B)東北亞
(C)西亞 (D)東南亞。



38. 日本有許多的「地獄谷」，如長野縣的地獄谷野猿公苑、北海道的登別地獄谷、神奈川縣的箱根大涌谷等，以「湧出的熱水冒著氣泡沸騰，不毛之地伴隨刺激性的煙霧，宛如惡鬼棲息的地獄」得名。地獄谷的景觀與下列哪個環境條件有關？(P.53)

(A)位於板塊交界帶 (B)暖流經過，水溫較高
(C)距海較近，溫差較小 (D)多山少平原，地形落差大

39. 右圖是日本2022年12月17日的天氣數據，圖內有標示的地點需留意天氣災害。請問：右圖的內容與哪個天氣項目有關？(P.54)

(A)當日氣溫
(B)日照時數
(C)PM2.5濃度
(D)積雪高度



40. 受到「環境條件」的影響，日本與朝鮮半島形成獨特的飲食文化，如：日本以醃製、發酵的方法製作野菜漬物；韓國以蘿蔔、大白菜製成韓式泡菜(辛奇)等。上述的飲食與哪個環境條件有關？(P.56)

(A)臨近海域，漁獲充足
(B)多山少平原的地形
(C)冬季寒冷，不利蔬果生長
(D)暖流經過，氣候較同緯度內陸地區暖溼

41. 日本與韓國的傳統文化包含許多外地的文化，經過長時間的演變，形成今日獨具的文化。以下是兩國某項目文化的形成過程，請問是哪個項目？(P.57)

1.西元5世紀以來，日本以「假名」拼寫日本語，名稱相對於來自中國的「真名」。假名是簡化的文字，性質如同注音符號。
2.15世紀中葉，朝鮮世宗與學者們創作「訓民正音」，後稱「諺文」，可簡易且正確地拼寫韓語文，避免用中國語言紀錄韓語的困難。

(A)文字 (B)建築 (C)音樂 (D)宗教。

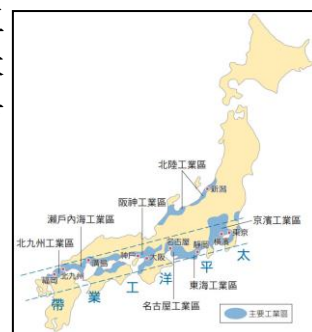
42. 日本媒體評選2020年「十大產業新技術」，以下是其中的3項。請問：下表是應用在哪一項產業的新技術？(P.60)

1.將檢測新冠病毒的PCR方式用在檢測甘藷的疾病。
2.在溫室安裝感測器，在手機安裝接收資訊的APP，即時獲得溫度、濕度、土壤水份等訊息。
3.一次操作5道程序的洋蔥栽培機。

(A)汽車製造 (B)資訊科技 (C)農業 (D)漁業。

43. 日本擁有發達的工業，主要的工業區域分布如右圖。請問：日本主要工業區在位置與發展條件方面，各具有哪一項特性？(P.61)

(A)位於沿海，原料充足
(B)位於沿海，海運便利
(C)位在內陸，有水力發電
(D)位在內陸，人口眾多。



44. 「這類產業」是日本的支柱產業，佔製造業總值的16%，產品多數出口，3個品牌的價值(見右圖)佔世界前10名。請問：上述的產業是什麼？(P.61)

(A)資訊業 (B)金融業
(C)電機業 (D)汽車業。

2022	2021	Logo	Name	Country
1	1		Toyota	
2	2		Mercedes-Benz	
3	6		Tesla	
4	3		Volkswagen	
5	4		BMW	
6	5		Porsche	
7	7		Honda	
8	8		Ford	
9	11		Nissan	
10	9		Volvo	

45. 日本自1980年代開始逐漸出現「產業空洞化」的危機，主因是「甲產業」將生產移至海外，成本低廉的產品回銷國內，更造成工人失業、產業衰退，可視為「全球化」的負面效應之一。上述的產業是什麼？(P.61)

(A)農、漁業 (B)製造業 (C)金融業 (D)生物科技。

新北市立中正國民中學111學年度第一學期八年級社會科第三次段考試題

範圍：公民 B3L5~6、歷史 B3L5~6、地理 B3L5~6 班級：_____座號：____ 姓名：_____

【讀卡科目請依規定畫卡，若有違反畫卡規定而影響讀卡作業之情事，一律扣總分5分。】

46. 「軟實力」(soft power)是由美國哈佛大學教授約瑟夫·奈伊提出的概念，是指一個國家在文化、政治與外交等方面影響他國的能力。以下是4位同學說明「日本經濟軟實力」的看法，哪一位看法最正確？(P.62)
- (A)日本漁船裝置探魚雷達，將海洋漁獲一網打盡，屬於漁業的軟實力
- (B)日本研發工業機器人，降低本國工業生產的勞力需求並提升產業，屬於工業的軟實力
- (C)日本推動動漫與遊戲產業，吸引全球人士購買相關商品與學習日本語文，屬於文化產業的軟實力
- (D)日本推動一帶一路政策，與世界各國進行貿易並推動基本建設，是經濟的軟實力
47. 「穿戴式省力機具(Assist Suit)」是近年日、韓等地致力發展的科技應用項目，運用模仿人類手臂的機具可搬運重物、進行反覆性的動作，對農村勞動力、居家照護方面最能發揮功能，臺灣亦積極推動。上述穿戴裝置的出現，最能反映日本、韓國社會的那項特色？(P.60)
- (A)響應節能減碳，避免地球暖化
- (B)女性人口較多，性別比失衡
- (C)內亂頻仍，人口大量外移
- (D)人口減少，勞動力老化

※48至50題為題組，閱讀下列圖文後回答問題：

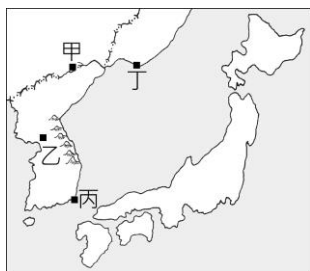
2019年播出的韓劇《愛的迫降》是當年收視最高的戲劇，引起了不同的話題。

劇情大致如下：南韓的財閥繼承人尹世理親自測試滑翔傘，遭到龍捲風吹襲，越過邊境降落在文化相同但政治敵對的「北方」，與隱藏、守護並喜愛她的軍官金正赫發生跨越國界的愛情故事。

這部戲劇結合神祕的北方因素、浪漫的愛情情節、反映朝鮮半島的社會樣貌、各有劇情的豐富角色，因此得到極大的成功。戲劇中出現的歌曲、商品、拍攝景點得到置入性行銷，同樣大受歡迎，《愛的迫降》成為韓國「產業」發達的例證。

有批評者認為，劇中對於北方社會的描述過於樂觀、正向，降低了韓國民眾的警覺心。曾是「脫北者」的編劇回應，這部戲劇單純是部愛情喜劇片，沒有政治的意圖。

48. 根據上述短文，若將劇情裡「迫降」的地點標示在地圖上，最可能是右圖中的哪個地點？(P.64)



- (A)甲 (B)乙
- (C)丙 (D)丁
49. 上述短文裡，敘述《愛的迫降》是韓國「產業」發達的例證，是指下列哪一項產業？(P.65)
- (A)消費性電子產業 (B)網路資訊業
- (C)文化產業 (D)觀光業。

50. 對《愛的迫降》批評的意見，主要是戲劇裡「北方社會」的現象與現況極不符合。請問：下列哪一種社會狀況符合真正的北方樣貌？(P.64)
- (A)政治獨裁，人民忠於領袖
- (B)文化自由交流，可由網路、電視收看《愛的迫降》
- (C)政府扶植大型財團，年輕人以進入私人公司為榮
- (D)偶像團體輩出，影視作品席捲全球。