

一、單一選擇題

- 1.( ) 臺灣素有「水果王國」之稱，各種水果不僅品質佳，還可加工為各種食品，成為當地特有的伴手禮。請問：臺灣水果種類豐富多元的主要因素為下列何者？ (A)季風氣候，乾溼分明 (B)位處低緯，地形高低落差大 (C)交通革新，運輸便利 (D)夏雨冬乾，日照充足。
- 2.( ) 「殖民地人民對母國的態度在 1763 年以前是世界上最好的，所以英國……要統治殖民地的人，除了筆、紙和墨水以外，什麼都不需要。可是還不到三年，殖民地的人民卻有了不平的情緒，這是因為母國國會漠視他們在憲法上的權利，使他們受到傷害……。」此為美國學者富蘭克林在當年的演說。其中「母國國會漠視他們在憲法上的權利」，這是指英國如何對待北美 13 州的殖民地人民？ (A)禁止殖民地人民與歐洲大陸國家直接貿易 (B)未得殖民地人民同意而開徵新稅 (C)取消殖民地的地方自治議會 (D)頒布殖民禁令，限制英國移民至此地開發。
- 3.( ) 附圖是 1905 年刊載的政治漫畫，圖中可見山姆大叔（美國擬人）兩腳分別踏在阿拉斯加與南美洲，手中的大棒上寫著「門羅宣言」。請問：這張漫畫主要是諷刺下列何事？



- (A)美國試圖藉著武力破壞美洲整體性 (B)美國藉著武力誓言保護美洲的安全 (C)美國藉著武力踐踏美洲居民的人權 (D)美國藉著門羅宣言將美洲納入囊中。
- 4.( ) 有一場演講，內包含了方言文學、德意志帝國的建立與義大利的統一運動。請問：這場演講的主題最可能是下列何者？ (A)歐洲軍備武器的進步 (B)歐洲科學革命的誕生 (C)歐洲宗教改革的開端 (D)歐洲民族意識的發展。【改寫自 100 年第一次基測】
- 5.( ) 附表是四個歐洲國家在第一次世界大戰爆發後的反應，根據表中內容判斷，何者屬於「同盟國」陣營？


國家	事件後的反應
甲	得到德國全力支持，向塞爾維亞宣戰。
乙	全面動員軍隊，對付奧匈帝國等國。
丙	為支持同一民族，同時向法國和俄國宣戰。
丁	因德軍入侵比利時，向德國宣戰。

(A)甲丙 (B)丙丁 (C)甲乙 (D)乙丁。【109 年會考】

- 6.( ) 下列「國際聯盟」的特質，哪些與其最終失敗有關？甲、本身毫無軍事力量；乙、美國最終並未加入；丙、以維護和平為目標；丁、無法有效制裁侵略者 (A)甲乙丙 (B)甲乙丁 (C)甲丙丁 (D)乙丙丁。
- 7.( ) 某書的簡介如下：「書中描寫一場革命結束了長達三百多年的沙皇專制統治，成立臨時政府，但在八個月之後，布爾什維克革命又推翻了曇花一現的臨時政府。」此書最可能是下列何者？ (A)1789 年法國大革命 (B)1871 年德意志的崛起 (C)1917 年變動的俄羅斯 (D)1949 年共產中國誕生。【改寫自 100 年北北基聯測】
- 8.( ) 玉敏在網路上求助，內容如下。請問：下列哪位網友的回答最為正確？

請問歌曲的智慧財產權規定？  
發問者：玉敏（3 級）  
我想請問我朋友創作了一首歌曲，關於這首歌曲的著作權保障期限如何計算呢？

- (A)阿依：任何著作權作品都沒有保障期限 (B)帆帆：只要向政府申請，你朋友可以自行決定保障期限 (C)小知：歌曲一被完成開始計算 50 年的保障期限 (D)大裘：從你朋友完成歌曲開始，到他死後 50 年為止。
- 9.( ) 芊芊看到一則新聞，從這則新聞我們可以得知下列哪項結論？  
萊克多巴胺原先是研發作為治療氣喘的藥物，因發現可以增加動物肌肉，使動物更為健美，而被使用為飼料添加物，俗稱瘦肉精。目前的實驗數據無法確定是否會對人體產生副作用，然而臨床實驗會出現心跳過速、四肢肌肉顫抖、頭暈、頭疼等症狀。但因人體實驗的樣本數太少，無法認定此藥物在科學上安全無虞，因此各國對於萊克多巴胺在肉類的殘留容許量標準不一。
- (A)萊克多巴胺對人體是否有幫助或有危害尚未有定論 (B)萊克多巴胺可以治療人類氣喘，也可增加人類肌肉 (C)目前各國禁止萊克多巴胺用於飼料作為生長促進劑 (D)萊克多巴胺已有足夠的人體實驗樣本證實其安全性。
- 10.( ) 大家在課堂上討論全球化所造成的影響，下列哪一位同學的舉例比較恰當？



- 11.( ) 17 世紀，荷蘭人來到臺灣探險，最早占據臺灣何處，作為東亞貿易的據點？ (A)北部 (B)中部 (C)南部 (D)東部。
- 12.( ) 下列哪一個臺灣的地名，反映先民開發臺灣的過程？ (A)三民 (B)四維 (C)五福 (D)六腳。

- 13.( ) 臺灣鄉村許多聚落常有一棵大榕樹，成為當地居民聚集、乘涼、聊天之所，這地方容易形成哪一個地名？ (A)崎頂 (B)楠梓 (C)烏松 (D)茄苳腳。

- 14.( ) 地名的命名與當地動植物相關，由附圖判斷，當地容易形成何種地名？



(A)糖廍 (B)牛墟 (C)鹿寮 (D)蚵寮。

- 15.( ) 臺灣養殖漁業興盛，下列哪一種魚是優質化的吳郭魚改良品種（如附圖），漁民導入人工智慧技術，控制水溫、水質，肉質鮮美，拓展外銷市場？



(A)烏魚 (B)鯨鯊 (C)臺灣鯛 (D)黑鮪魚。

- 16.( ) 為促進農業升級，目前實施的各種方法不包含下列何者？ (A)稻田轉作 (B)發展精緻農業 (C)發展觀光農業 (D)開發新生地以擴大耕地。

- 17.( ) 隨著低碳飲食的流行，消費者開始關注何種農業，以及食物的來源、生產過程？ (A)休閒 (B)觀光 (C)精緻 (D)有機。

- 18.( ) 民國 100 年塑化劑、民國 102 年毒澱粉、民國 103 年餿水油等事件發生，罔顧臺灣消費者健康，哪一議題吸引民眾的關心注意？ (A)糧食安全 (B)食品安全 (C)國防安全 (D)交通安全。

- 19.( ) 臺灣為移民社會，移民者經常將原鄉地名移植臺灣。請問：下列哪些地名反映臺灣移民社會的特徵？(甲)潮州鎮(乙)東石鄉(丙)石門區(丁)鹿港鎮 (A)甲乙 (B)丙丁 (C)甲丙 (D)乙丁。

- 20.( ) 隨著蘇聯的瓦解，共產主義現今已逐漸沒落。請問：共產主義興起的背景與下列何者有密切的關係？ (A)文藝復興 (B)工業革命 (C)科學革命 (D)啟蒙運動。

- 21.( ) 小玲研究美國建國的歷史時，發現引發美國獨立的導火線是下列何者？ (A)法律糾紛 (B)領土歸屬 (C)徵稅問題 (D)宗教爭執。

- 22.( ) 幾位同學探討有關美國獨立與法國大革命的經過，下列何人所言有誤？ (A)志齡：兩者皆在追求自由、平等 (B)立宏：兩者於革命後皆脫離英國，成為獨立國家 (C)小倫：兩者皆受啟蒙運動思潮的影響 (D)伊琳：兩者於革命後皆成立共和政府。

- 23.( ) 法國在 18 世紀與 19 世紀相交的時候，發生了一連串的大事。國王為了增稅而舉行會議，造成平民不服，另組「國民會議」。不滿的巴黎民眾攻陷巴士底監獄，開啟了法國大革命。之後政權不斷的輪替，周邊國家為了避免法國的自由思潮影響而組成「反法聯盟」。在這一連串的内憂外患之下，下列何者

逐漸掌握政治大權，之後甚至得以稱帝？ (A)華盛頓 (B)林肯 (C)路易十六 (D)拿破崙。

- 24.( ) 思螢研究拉丁美洲獨立的經過，發現下列哪一項主張，不可能出現於美國提出的「門羅宣言」內？ (A)歐洲列強不應將美洲國家當作殖民對象 (B)歐洲列強不應將歐洲的政治制度推展到美洲 (C)歐洲列強不應干涉美洲國家的政治、經濟事務 (D)歐洲列強應鎮壓拉丁美洲各國的獨立。

- 25.( ) 南方國中一年一度的歷史短劇表演，今年的主題是「恢復古羅馬光榮」。請問：下列哪一段劇情不會出現在短劇中？ (A)維也納會議後，法、奧勢力掌控義大利半島 (B)馬志尼宣揚民族意識 (C)加里波底將征服的地區獻給國王 (D)義大利國王趁德法戰爭，在巴黎凡爾賽宮即位。

- 26.( ) 造成帝國主義興起的主要因素，下列何者為非？ (A)新興工業國家為了爭奪原料、礦產和市場 (B)列強認為負有「教化」落後地區的使命 (C)列強在民族自尊與愛國榮耀驅使下，彼此競爭 (D)受到法國大革命的影響。

- 27.( ) 19 世紀前期開始，拉丁美洲展開風起雲湧的獨立運動，此時美國總統門羅發表宣言，有助鞏固各國的獨立。請問：門羅宣言的主要內容應為下列何者？ (A)美洲事務由美洲國家解決，反對歐洲干預 (B)以正統為原則，主張恢復各國王室統治權 (C)以武力威脅各國簽訂條約，開放通商口岸 (D)推廣自由、平等、博愛的精神，喚醒民族意識。

- 28.( ) 斐迪南夫婦被刺，原本只是兩國之間的衝突，後來卻演變為世界大戰，爆發大規模戰爭的主因為何？ (A)國際聯盟的失敗 (B)國家主權的爭奪 (C)民族自決的浪潮 (D)國際間的結盟對立。

- 29.( ) 因第一次世界大戰而解體的帝國中，原屬協約國陣營的是下列何國？ (A)德意志帝國 (B)奧匈帝國 (C)俄羅斯帝國 (D)鄂圖曼帝國。

- 30.( ) 一本老舊的歐洲史書這麼敘述：「19 世紀時，巴爾幹半島上因為列強的介入，各地區相繼獨立。同時也因為新興國家間的領土糾紛與列強干預，在 20 世紀初引發牽扯歐洲各國的大戰……。」由於書本老舊髒汙，之後的部分無法閱讀。請問：這個牽扯歐洲各國的大戰為下列何者？ (A)三十年戰爭 (B)拿破崙戰爭 (C)德法戰爭 (D)第一次世界大戰。

- 31.( ) 聯合國成立 70 周年的紀念活動中，祕書長致辭：「聯合國期待與世界各地的人們共同努力，謀求實現《聯合國憲章》的理想與目標，為所有人帶來安全、富裕和有尊嚴的生活。」關於聯合國的敘述，下列何者正確？ (A)第一次世界大戰後成立，是巴黎和會重要決議之一 (B)宗旨為維繫歐洲和平，並制裁任何侵略行動 (C)以提倡和平為目的，故不設置武力 (D)迄今仍是處理國際事務的重要組織。

- 32.( ) 第二次世界大戰結束後，受到戰爭波及的各國百廢待舉，此時，在歐洲地區以蘇聯為首的共產勢力悄悄蔓延。為抵制蘇聯壯大勢力，美國提出下列何者，以透過與友邦形成盟約，制衡蘇聯的影響？ (A)民族自決方針 (B)門羅宣言 (C)以消費刺激經濟政策 (D)圍堵政策。

33.( ) 猶太人相信上帝曾賜予他們一塊流著「奶與蜜」的土地，但阿拉伯人卻已在此地居住了千年之久，雙方的衝突因而持續不斷，這一塊土地位於何處？ (A) 巴伐利亞 (B) 巴基斯坦 (C) 巴勒斯坦 (D) 巴爾幹半島。

34.( ) 若以關鍵人物做為一個歷史階段先後起訖的代表，那麼「從列寧到戈巴契夫」，可以貼切地顯示什麼主義的興衰？ (A) 共產主義 (B) 資本主義 (C) 民主主義 (D) 自由主義。

35.( ) 小雲在報紙上經常看到「第三世界」一詞。請問：有關第三世界的敘述，下列何者正確？ (A) 以蘇聯為首的共產國家 (B) 都是歐洲聯盟的會員國 (C) 都是工商業發達的國家 (D) 通常不與美國或蘇聯結盟。

36.( ) 網路世界雖然提供人類很大的便利，但若使用不當反而會造成許多傷害，下列何者並非使用電腦網路應有的行為？ (A) 以 E-mail 傳遞訊息 (B) 網路購物 (C) 散布他人隱私 (D) 訂購火車票。

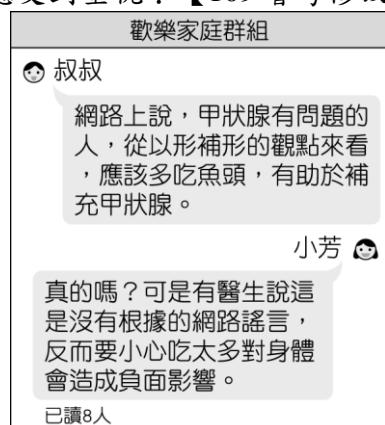
37.( ) 佩倩記錄暑假與同學外出所做的活動，下列何者有侵犯智慧財產權的疑慮？ (A) 到商場購買正版球鞋和後背包 (B) 看電影時錄下片段與朋友分享 (C) 去美術館參觀當代名家雕塑展 (D) 前往美食文化節試吃異國小吃。

38.( ) 瓏雯在個人社群網頁上發布以下一則消息，根據內容判斷，當中所稱智慧財產權應是指下列何者？

我在作品下方空白處會放上創用 CC 的授權，歡迎大家使用的同時，也請尊重我的智慧財產權，謝謝！

(A) 專利權 (B) 隱私權 (C) 著作權 (D) 商標權。

39.( ) 近年來由於網路軟體發達，大量訊息在手機的聯繫群組間快速流傳。附圖是小芳家庭群組裡的對話，根據圖中內容判斷，在網路科技發達的時代，下列何者更應受到重視？【109 會考修改】



(A) 媒體識讀的素養 (B) 醫療技術的提升 (C) 資訊科技的設備 (D) 個人隱私的保障。

40.( ) 跨國企業將生產基地分散至不同的國家或地區，其主要目的為下列何者？ (A) 創造就業機會 (B) 促進國內消費 (C) 降低生產成本 (D) 減少環境汙染。

41.( ) 幾位朋友在討論已開發國家的就業環境，下列何人的說明應與高技術及低技術勞工貧富差距擴大的問題最相關？ (A) 小瑋：開發中國家主導整個生產過程 (B) 小瑛：企業為減少成本而引進低薪移工 (C) 小瑋：低技術勞工轉為從事高技術工作 (D) 小瑜：政府提供失業勞工職業訓練課程。

42.( ) 政府部門召開一場記者會，附圖為記者的提問內容，下列何者較可能是負責官員的回應？



(A) 國內將增加甲類商品的產量 (B) 民眾對甲類商品的選擇變多 (C) 甲類商品在國內售價將上漲 (D) 國內生產甲類商品利潤上升。

43.( ) 附圖為國際知名大廠的手機生產流程示意圖，此圖在表達下列何種概念？



(A) 國際貿易分工 (B) 分散投資風險 (C) 貿易利潤共享 (D) 通訊科技發達。

44.( ) 「我們的商品是在法國設計，從智利進口原料，在東南亞生產。」請問：以上敘述應與下列何者最為相關？ (A) 都市化 (B) 全球化 (C) 商業化 (D) 集約化。

45.( ) 風靡全球的韓國團體 BLACKPINK，其中一位泰國籍成員 LISA 推出個人單曲，在 MV 中她身穿泰國傳統服飾，融合泰國傳統舞步等元素，時尚和傳統完美結合，各國粉絲也紛紛購入類似配件，感受泰國風情。請問：上述與下列哪一面向的全球化相關？ (A) 政治上的全球化 (B) 經濟上的全球化 (C) 文化上的全球化 (D) 教育上的全球化。

46.( ) 以下為公民老師與學生討論「全球化面臨的挑戰」所引用的新聞，從內容推知，應與下列何者最相關？

新型冠狀病毒疫情持續延燒，老年人尤其是新冠肺炎的高危險群。根據英國杜克大學的統計，目前可供使用的疫苗 60% 都被富裕國家買走，可是他們的人口只占全世界的 16%。針對此狀況，世界衛生組織的幹事長譚德塞表達了他的憂慮：「富裕國家裡健康的年輕人，比窮困國家中的醫護人員和老人還要早接種疫苗，這樣是不對的。」

(A) 財富集中在少數人手中 (B) 疾病跨國傳播 (C) 醫療資源分配不均 (D) 維護生物多樣性。

47.( ) 阿香自國外返國，在機場入關之前須經過下圖(一)、(二)所示的手續。此舉最主要是為了達成哪一項目的？



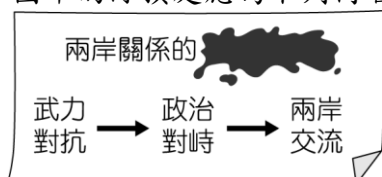
圖(一)



圖(二)

(A)改善醫療環境 (B)查緝跨國犯罪 (C)避免疾病跨國傳播 (D)保護弱勢族群人權。

- 48.( ) 沐沐統整課文重點時不小心將飲料打翻，如附圖所示。請問：圖中的汙損處應為下列何者？



(A)演變 (B)衝突 (C)影響 (D)困境。

- 49.( ) 學校邀請某國際組織的成員到學校進行演講，他在介紹時使用的投影片如附圖。根據附圖判斷，他是在下列哪一組織服務？

- 不具官方身分
- 由民間人士志願組成
- 獨立於政府之外的組織

(A)綠色和平組織 (B)聯合國 (C)世界貿易組織 (D)國際刑警組織。

- 50.( ) 美美在網路上看到下述的訊息。請問：我國無法以「中華民國」名義加入聯合國的原因為何？

1971 年我國退出聯合國，也被迫退出隸屬於聯合國之下的世界衛生組織。1997 年開始，我國積極重返 WHO 和 WHA，並嘗試以不同名義爭取參加，足足努力了 12 年，終於以中華臺北的名稱，取得 WHA 觀察員身分。

(A)國際條約的束縛 (B)經濟發展實力不足  
(C)國家主權不被承認 (D)已加入其他國際組織。

# 解答

## 一、單一選擇題（每題 2 分，共 100 分）

1. 答案：(B)

解析：臺灣位於低緯度地區，加上高山眾多，形成農產品隨地形垂直變化的特色。

2. 答案：(B)

解析：殖民地人民認為他們在英國國會沒有議會代表，英國政府無權任意徵稅，如果向他們徵稅，就是暴政。

3. 答案：(D)

4. 答案：(D)

5. 答案：(A)

6. 答案：(B)

7. 答案：(C)

8. 答案：(D)

解析：依照《著作權法》規定，保障年限為著作人完成開始，至著作人死後50年為止。

9. 答案：(A)

10. 答案：(B)

解析：英國脫歐造成全球股市狂跌，正是全球化所帶來的影響。

11. 答案：(C)

解析：(C)荷蘭人來到臺灣探險，最早占據臺灣南部，作為東亞貿易的據點。

12. 答案：(D)

解析：(D)六腳反映先民開發屯墾臺灣的過程。

13. 答案：(C)

解析：(C)烏松代表聚落附近有一棵大榕樹。

14. 答案：(B)

解析：(B)買賣牛隻容易形成牛墟。

15. 答案：(C)

解析：(C)臺灣鯛養殖業者導入人工智慧技術，控制水溫、水質，肉質鮮美，拓展外銷市場。

16. 答案：(D)

解析：(D)為促進農業升級，目前實施的各種方法不包含開發新生地以擴大耕地。

17. 答案：(D)

解析：(D)隨著低碳飲食的流行，消費者開始關注有機農業，以及食物的來源、生產過程。

18. 答案：(B)

解析：(B)塑化劑、毒澱粉、餿水油等事件發生，罔顧消費者健康，吸引民眾對食品安全的關心。

19. 答案：(A)

20. 答案：(B)

解析：共產主義的出現是為了解決工業革命所造成的社會問題。

21. 答案：(C)

解析：英國向北美殖民地徵收新稅，導致美國獨立。

22. 答案：(B)

解析：(B)法國大革命為法國國內爭取自由、民主的事件，與英國無關。

23. 答案：(D)

24. 答案：(D)

解析：「門羅宣言」反對歐洲國家干預美洲事務。

25. 答案：(D)

解析：(D)普魯士在德法戰爭中戰勝法國後，普魯士國王在巴黎凡爾賽宮即位。

26. 答案：(D)

解析：(D)無關。

27. 答案：(A)

28. 答案：(D)

解析：奧、塞衝突導致雙方盟國參戰，造成世界大戰。

29. 答案：(C)

解析：俄羅斯帝國是屬於協約國。

30. 答案：(D)

31. 答案：(D)

解析：(A)指的是國際聯盟(B)維繫世界和平(C)安理會有權要求會員國提供武力。

32. 答案：(D)

解析：第二次世界大戰後，歐美國家成立「北大西洋公約組織」，圍堵共產國家。

33. 答案：(C)

解析：猶太人在巴勒斯坦地區建國，引爆「以阿衝突」。

34. 答案：(A)

解析：實行共產主義的列寧在1917年十月革命上臺執政，蘇聯領導人戈巴契夫下臺，也結束了蘇聯的共產黨統治。

35. 答案：(D)

36. 答案：(C)

解析：(C)侵犯他人權益。

37. 答案：(B)

解析：在電影院錄影侵犯著作權。

38. 答案：(C)

解析：創用CC為著作權。

39. 答案：(A)

40. 答案：(C)

解析：跨國企業的形成，目的在降低成本，追求更多利潤。

41. 答案：(B)

解析：低技術勞工的工作機會被外籍移工占據，收入減少。

42. 答案：(B)

解析：民眾有更多的選擇，但對國內生產者而言，將增加競爭對手，商品在市場數量增加，將導致價格調降，利潤減少。

43. 答案：(A)

44. 答案：(B)

解析：商品製作過程跨越國界，顯示經濟全球化現象。

45. 答案：(C)

解析：傳播媒體強化了文化上的全球化。

46. 答案：(C)

解析：老人是新冠肺炎的高危險群，本應優先接種疫苗，但窮困國家未能買到疫苗，反而是富國中的年輕人更早接種，可看出醫療資源分配不均問題。

47. 答案：(C)

48. 答案：(A)

解析：由內容可看出臺海兩岸關係的演變。

49. 答案：(A)

解析：題旨為國際非政府組織。

50. 答案：(C)