

新北市立中正國民中學112學年度第二學期八年級社會科第一次段考試題

範圍：公民 B4L1~2、歷史 B4L1~2、地理 B4L1~2 班級：_____座號：____ 姓名：_____

【讀卡科目請依規定畫卡，若有違反畫卡規定而影響讀卡作業之情事，一律扣總分 5 分。】

一、選擇題

1. 依照我國法律位階來判斷，附圖中發言人所提及的法令應為下列何者？ (P.139)

今天的研討會是探討教育部於 104 年訂定此項法令後的施行成果。



- (A)《性別平等教育法》(B)《教師輔導與管教學生辦法》
(C)《教育人員任用條例》(D)《國民教育法》
2. 我國曾推動「立委席次減半」提升立法院問政效能，該運動的訴求於第七次修憲時通過。若現在我國欲進一步縮減立委人數，請問：下列修法程序之說明何者正確？
(A)司法院提出修正案 (B)公告 4 個月 (C)全體國民投票複決 (D)有效同意票須超過選舉人總額之 1/2 (P.138)
3. 我國《憲法》對於人民權利相當重視，附圖新聞報導中所提及的基本權利類型，與下列何者最為相近？

本報快訊

地方政府基於經費考量，決定廢除多所偏遠地區小學，民間教育團體認為此舉已經嚴重損害《憲法》保障的人民權利。

- (A)向法院提起訴訟 (B)報考司法人員考試
(C)公共場所規劃無障礙設施 (D)投書媒體評論政府施政 (P.141~142)
4. 小芬是一名非婚生子女，她最近發現生父是一位富商，和原配有有一子，她想透過DNA鑑定親屬關係，並確定繼承關係。上文中畫底線部分先後屬於《民法》中私人間哪一方面的權利義務關係？ (P.148)
(A)身分上、身分上 (B)財產上、財產上
(C)身分上、財產上 (D)財產上、身分上
5. 新型冠狀病毒(COVID-19)疫情延燒，為避免群聚感染，我國政府指示各級學校延後開學。有關附圖報導中的緊急應變措施，下列敘述何者正確？

為因應延後開學所帶來的學童照顧問題，中央流行疫情指揮中心下達緊急應變措施：勞工如有照顧 12 歲以下學童之需求，得請「防疫照顧假」。針對勞工需求，雇主應予准假且不得視為曠職與扣全勤獎金，若有違反，將被依勞動基準法處以罰鍰。

- (A)須基於法律而訂定 (B)屬於狹義的法律 (C)僅作原則性的規定 (D)由立法機關所制定 (習作 P.41)

6. 靜香向車商買了一輛二手車，後來卻發現是泡水車。依此情境判斷，下列哪項敘述正確？ (P.148)

(A)靜香與車商之間成立租賃契約 (B)車商有交付車輛的權利，靜香有使用車輛的義務 (C)車商須負侵權行為的損害賠償責任 (D)靜香可對車商要求解除契約或賠償損失

7. 外送服務日益普及，凸顯出雇傭關係不對等、保險未能落實等問題，因此相關人員欲組織工會，爭取工作上的保障。請問：上述外送人員欲爭取的基本權利為下列何者？ (P.141~142)

(A)參政權、受益權 (B)自由權、受益權
(C)自由權、平等權 (D)平等權、參政權

8. 18 歲的大雄買了一輛跑車，父母知情後不同意，但買賣契約仍然有效；同樣 18 歲的小夫買了一臺重型機車，但因某些原因，此交易行為無效。根據上述內容判斷，文中兩人的情形，不可能是下列何者？ (P.151)

(A)小夫遭受監護宣告
(B)大雄的婚姻狀態為已婚
(C)小夫屬於限制行為能力人
(D)大雄屬於限制行為能力人

9. 13歲的小風在教室嬉鬧，不小心打破玻璃，學校支付一筆修繕費後遂向小風索賠，班上的法律小達人逐一分析給小風聽，其中哪一項分析錯誤？ (P.152)

(A)因故意或過失不法侵害學校權利者，應負損害賠償責任
(B)打破玻璃屬於侵權行為
(C)損害賠償的方式是以金錢賠償為原則
(D)小風須與父母一起負起賠償的責任

10. 以下對於各種基本權利的舉例說明，哪些組合是正確的？ (P.141~142)

(甲)小齊將所研發的抗菌文具申請專利→財產權
(乙)皮皮和志同道合的朋友一起成立新政黨→參政權
(丙)立言暑假到美國自助旅行→人身自由權
(丁)政府提供地震災民安置住所與災害救助金→生存權
(A)甲乙 (B)丙丁 (C)乙丙 (D)甲丁

11. 小珍幫弟弟檢查有關《民法》行為能力的學習單作業，發現作業中有一處錯誤。請問：錯誤處應為下列何者？

(A) 19 歲的阿哲向銀行申請貸款—完全行為能力—有效
(B) 17 歲受監護宣告的亞軒自行與房東簽訂租屋契約—限制行為能力—效力未定
(C) 8 歲的湘婷參加抽獎，抽中一部個人電腦—限制行為能力—有效
(D) 5 歲的小新和同學約定以鋼琴交換腳踏車—無行為能力—無效 (P.151)

新北市立中正國民中學112學年度第二學期八年級社會科第一次段考試題

範圍：公民 B4L1~2、歷史 B4L1~2、地理 B4L1~2 班級：_____座號：____ 姓名：_____

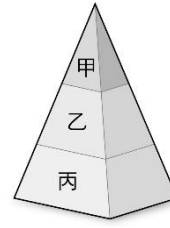
12. 柏任努力工作數年後，終於存到購買房屋的頭期款，決定買一間新房子。關於房屋買賣契約的敘述，下列何者正確？
- (A) 柏任和賣方簽訂的買屋契約可作為他擁有房屋所有權的證明
- (B) 柏任付清房屋價款，不論是否過戶，立即取得房屋的所有權
- (C) 柏任與賣方簽訂書面契約，可以避免日後口說無憑造成爭議
- (D) 若賣家未依約交付房屋，柏任可要求賣家負起侵權行為責任 (習作 P.45)
13. 以下為公民老師寫在黑板上的資料。他請同學根據內容來說明我國法律的位階，下列何者的說法最正確？
- (A) 鈴鈴：「甲須經總統公布後實施。」
- (B) 朗朗：「乙由行政機關依其權限制定修改。」
- (C) 叮叮：「甲屬於命令，是用來補充乙的規定。」
- (D) 噹噹：「乙的內容如果與甲的規定相牴觸，則乙無效。」 (P.139)

甲：《道路交通安全規則》
乙：《道路交通管理處罰條例》
《甲》第1條規定：
「本規則依『乙』第九十二條第一項規定訂定之。」

14. 附圖為大世和小敏簽訂的書面契約，根據內容判斷，下列敘述何者正確？
- (A) 簽名效力大於蓋章
- (B) 兩人成立身分上的權利義務關係
- (C) 身為債權人，小敏有取得借金的權利
- (D) 甲方的債務請求權期限為15年 (P.149)

契約書	
立約人 林大世(以下簡稱甲方) 黃小敏(以下簡稱乙方)	
茲因借貸事宜，經雙方同意訂立本約，其協議事項如下：	
甲方借壹仟萬元給乙方。	
乙方將於民國108年1月1日歸還。	
借款期間，不需支付利息。	
立約人	
姓名：林	
身分證號碼：X X X	
戶籍地址：X X X	
姓名：黃小敏	
身分證號碼：X X X	
戶籍地址：X X X	

15. 下圖是我國的法律位階圖，請問：《駐外機關組織通則》、《憲法法庭審理規則》、《中華民國憲法》、《兩岸人民關係條例》、《性霸凌防治準則》等法律的圖示代號依序為？ (P.139)



- (A) 乙丙甲乙丙 (B) 丙甲甲丙乙
- (C) 丙丙甲乙丙 (D) 乙丙甲丙丙
16. 附圖為小欣在政府官網上看到的一則憲法解釋文，根據內容判斷，有關憲法內涵的描述何者正確？ (A) 文中的「院」令是指立法院 (B) 刑法第 239 條失其效力顯示憲法具有最高性 (C) 該號解釋文高於憲法效力 (D) 不適用條文應由大法官審議修改 (P.140)

解釋字號	釋字第 791 號【通姦罪及撤回告訴之效力案】
解釋公布院令	中華民國 109 年 5 月 29 日院台大二字第 1090015723 號。
解釋文	……刑事訴訟法第 239 條但書規定：「但刑法第 239 條之罪，對於配偶撤回告訴者，其效力不及於相姦人。」與憲法第 7 條保障平等權之意旨有違，且因刑法第 239 條規定業經本解釋宣告違憲失效而失所依附，故亦應自本解釋公布之日起失其效力。

後面尚有試題

新北市立中正國民中學112學年度第二學期八年級社會科第一次段考試題

範圍：公民 B4L1~2、歷史 B4L1~2、地理 B4L1~2 班級：_____座號：____ 姓名：_____

17. 面對政治腐敗、外交不振的清廷，有人發動革命、力圖恢復中華，他說道：「民族革命的緣故，是不甘心滿洲人滅我們的國，主我們的政，定要撲滅他的政府，光復我們民族的國家。」請問：此人應為下列何者？（P. 82）
(A)康有為
(B)孫中山
(C)梁啟超
(D)李鴻章
18. 為了祝賀中華民國的生日，全國各地舉行慶祝國慶的活動。請問：中華民國國慶日，是為了紀念革命黨人士在何地起義成功？（P.82）
(A)上海
(B)廣州
(C)武昌
(D)北京
19. 中華民國臨時政府成立後，先後有哪兩人擔任過臨時大總統？（P.82）
(A)孫中山、康有為
(B)孫中山、宋教仁
(C)孫中山、袁世凱
(D)孫中山、梁啟超
20. 辛亥革命後，中華民國成立，中國終結了帝制時代，然而清末以來局勢動盪，民主政治仍未穩固，以致於出現了兩次「重返帝制」的事件。請問：這兩位「皇帝」分別是下列何者？（P.83）
(A)國務院總理段祺瑞與大總統袁世凱
(B)大總統袁世凱與清遜帝溥儀
(C)國民黨負責人宋教仁與清遜帝溥儀
(D)總統黎元洪與國務院總理段祺瑞
21. 中華民國立國之初，以《臨時約法》確定民主立國思維，更是後來憲法的前身，請問針對約法的描述，何者正確？（P.83）
(A)孫中山為了維護《臨時約法》，號召國會議員成立廣州政府
(B)雖然總統權力不大，但《臨時約法》仍受各路軍閥尊重
(C)袁世凱稱帝後廢除《臨時約法》，故孫中山發起「護法運動」
(D)民國初年《臨時約法》替「皇帝制」提供了法源
22. 民國初年軍閥割據問題嚴重，孫中山為了與各軍閥抗衡師法俄國，提出「聯俄容共」，並成立了一所新學校，該學校的畢業生活躍於國共兩黨，深深影響了二十世紀前半葉的東亞歷史。請問：該學校為下列何者？（P.85）
(A)中山大學
(B)北京大學
(C)廣州黃埔陸軍軍官學校
(D)清華大學
23. 民國2年，國民黨贏得國會大選的大半席次，使袁世凱深感威脅，有傳言他密謀刺殺國民黨的實際領袖。請問：當時國民黨的領袖為何人？（P.84）
(A)梁啟超
(B)黎元洪
(C)段祺瑞
(D)宋教仁
24. 北伐期間，某個政黨企圖瓜分國民政府的權力，蔣中正於是展開「清黨」。請問：此時是要清除哪個政黨背景的黨員？（P.86）
(A)共產黨
(B)共和黨
(C)進步黨
(D)民主黨
25. 中國共產黨在近現代的中國歷史中具有舉足輕重的地位，從共產黨進入中國後的相關經歷與重要發展來看，下列敘述何者正確？（P.86）
(A)孫中山想結合共產黨勢力以對抗日本的侵略
(B)在孫中山「聯俄容共」政策之下，共產黨在西元1921年成立
(C)蘇聯顧問的聘用主要是為對付共產黨的擴張。
(D)在北伐的過程中，共產黨在宣傳與組織上，給予國民革命軍很大的助力
26. 「西元1928年的皇姑屯事件（張學良的父親張作霖被日本人炸死），對於整個中國歷史的發展脈絡，具有非常關鍵性的影響。」關於皇姑屯事件的「關鍵性」影響，下列敘述何者正確？（P.110）
(A)促成中華民國達到政治上的統一
(B)當時中華民國最高統治者遭到暗殺，引發全國仇外的心理
(C)各強國之間化解糾紛爭議，進行密切合作
(D)中華民國自此之後解除了列強的侵略意圖
27. 西元1917年，他接任北京大學校長後，奉行「對於各家學說，依各國大學通例，循思想自由原則，兼容並包」，使北大洋溢多元學術的色彩。這位使北京大學校風為之一變的人物為何？（P.88）
(A)胡適
(B)蔡元培
(C)陳獨秀
(D)魯迅

後面尚有試題

新北市立中正國民中學112學年度第二學期八年級社會科第一次段考試題

範圍：公民 B4L1~2、歷史 B4L1~2、地理 B4L1~2 班級：_____座號：____ 姓名：_____

28. (甲)提倡君主立憲 (乙)排斥西方文化 (丙)引入共產主義思想 (丁)提倡白話文學 (戊)介紹「德先生」、「賽先生」的觀念。請問：以上敘述哪些與新文化運動有關？ (P.89)
- (A)丙丁戊
(B)甲丙戊
(C)乙丙丁
(D)甲乙丙
29. 民國初年某位學者發表言論道：「余甘冒全國學究之敵，高張文學革命大旗，以為吾友之聲援，旗上大書特書吾革命的三大主義，使得通俗的、寫實的平民文學成為一時流行的風潮。」請問：這應該是誰為支持胡適主張的白話文運動所發表的言論？ (P.89)
- (A)梁啟超
(B)宋教仁
(C)陳獨秀
(D)蔡元培
30. 「新文化運動」與「五四運動」為民國初年重要的文化與愛國運動，對近代中國的發展影響亦至為深遠。關於兩個運動的比較，下列何者正確？ (P.90)
- (A)五四運動促成新文化運動
(B)兩者皆得到新知識分子的支持
(C)兩個運動都偏重於制度層面的改革
(D)五四運動僅由學生參與
31. 北京政府發表一封公開對民眾談話的內容，文中說道：「許多學生為了山東的問題，向政府親日派的官員示威抗議，使得一些官員無辜受傷，政府希望學生能理智行動，並會將學生的訴求指示相關官員，在和會上積極的維護中國的權益……。」請問：北京政府的公開信是針對當時的什麼事件而發？ (P.90)
- (A)二次革命 (B)復辟事件
(C)護法運動 (D)五四運動
32. 民國以來的兒童教育，強調兒童教材的編寫需要符合心智年齡，並採用什麼方式來提升孩童的閱讀興趣？ (P.91)
- (A)沒閱讀到特定數量給予懲罰
(B)完成一定閱讀數量後給予獎勵
(C)使用艱澀難懂的文字引發兒童的好奇心
(D)圖文並茂引發內在動機
33. 文繡再也不願意作溥儀的「淑妃」，決心脫離皇室婚姻的桎梏，她受不了溥儀的冷落與皇后的打壓，自行離開居所並登報要求離婚，成為歷史上唯一一位「休夫」的妃嬪。請問：我們該怎麼理解這段論述？ (P.91)
- (A)清帝國風雨飄搖幾乎滅亡
(B)白話文運動所帶來的影響
(C)打倒孔家店促使這次離婚
(D)個人意識與女性自主提升

後面尚有試題

新北市立中正國民中學112學年度第二學期八年級社會科第一次段考試題

範圍：公民 B4L1~2、歷史 B4L1~2、地理 B4L1~2 班級：_____座號：____ 姓名：_____

34. 「2015年4月25日，尼泊爾發生7.9級地震。首都加德滿都近千人喪生，許多人被埋在瓦礫下，預估死傷人數會逐漸攀升。此地區過往發生過多次強烈地震，這次地震是尼泊爾81年來最強烈地震。」請問這起嚴重的災害發生在南亞的哪個地形區？

(A)印度北部 (B)印度中部
(C)印度南部 (D)南亞離島地區。(P.23)

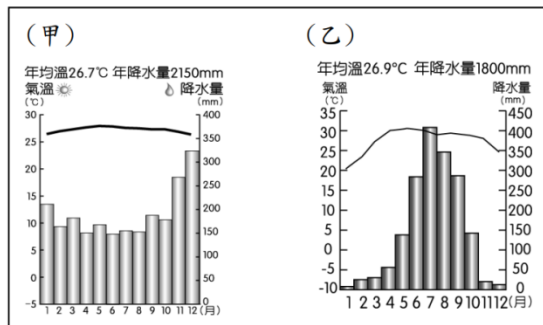
35. 承上題，此災害與下列何項環境特徵，成因相異？

(A)南洋群島島嶼數量眾多
(B)日本海岸線形狀曲折
(C)中南半島的河口三角洲為人口精華區
(D)印尼梅拉比火山噴發，造成多人喪生(P.15)

36. 位於中南半島的柬埔寨，境內有個東南亞最大淡水湖洞里薩湖，乾季湖泊面積僅2000km²，雨季時擴大為16000 km²，此現象可能是受何種風的影響？

(A)東北風 (B)西南風 (C)西北風 (D)颱風。(P.16)

37. 請比較甲、乙兩張氣候圖，下列敘述何者錯誤？



(A)甲區為全年高溫多雨、乙區為夏雨冬乾
(B)甲區緯度較低、乙地緯度較高
(C)甲區多降對流雨、乙區多降地形雨
(D)菲律賓群島多數地區為甲氣候類型(P.16)

38. 「南亞正遭逢嚴峻的熱浪挑戰，包括巴基斯坦中南部、印度北部，都各自打破高溫紀錄，在貧民區一般家庭會使用低配版的冷氣機降溫，這是一款鋪有稻草的水冷扇，據稱吹出的涼風可降低3到5度；富裕家庭則會利用週末到附近的山區避暑」上述新聞報導發布日期最可能為何時？

(A)1月19日 (B)4月22日
(C)8月1日 (D)10月6日。(P.24)

39. 2021下半年，不斷傳出台灣人受高薪誘騙到柬埔寨詐騙園區，遭毆打、拘禁、轉賣、限制自由。去年東盟峰會前，隨著警方掃蕩，才稍微降溫！沒想到國門解封，不法集團似乎又蠢蠢欲動，因東協國家近年的經濟發展迅速，許多外資企業將電子代工廠設置在柬埔寨等東南亞國家。請問東協國家的工業優勢為何？

甲、便宜的勞動力；乙、豐富的資源；丙、完善的交通；丁、高科技技術

(A)甲乙 (B)乙丙 (C)丙丁 (D)甲丁。(P.20)

40. 一位來自東南亞的外籍幫傭，他英語流利、信奉天主教，並來自一個常受颱風侵襲的國家。這位外籍幫傭，最可能來自哪一個國家？(P.17)

(A)印尼 (B)泰國 (C)越南 (D)菲律賓。

41. 過去歐美國家殖民東南亞，看中當地(甲)溼熱的氣候、充足的勞工，適合種植溫帶歐美國家所缺乏的(乙)熱帶經濟作物，例如：馬來西亞產的橡膠；菲律賓的蔗糖；越南的咖啡，均為本區重要的農產。這種(丙)採用大規模機械化耕種，以商業性、出口導向的農業經營方式，(丁)容易受到國際市場價格波動影響，市場風險大。」

畫底線處哪段敘述是錯誤的？

(A)甲 (B)乙 (C)丙 (D)丁。(P.18)

42. 據統計印度的邦加羅爾至少有15萬名IT工程師，數目遠超過美國矽谷的12萬人，印度已是世界第二大軟體供應國。商業周刊更指出如果沒有布局印度就等於失去競爭力，哪些是印度發展軟體工業的有利條件？(甲)資金充足 (乙)使用英語 (丙)種姓制度 (丁)海運便利 (戊)工資低廉。(A)甲乙 (B)丙丁 (C)乙戊 (D)甲戊。(P.28)

43. 黃麻是一種長而柔軟的、發出光澤的植物纖維，可以織成高強度的粗糙細絲，且黃麻是最廉價的天然纖維之一，種植量及用途僅次於

棉花，適宜生長的氣溫為20°C至40°C、相對濕度70%至80%，黃麻在播種期間需要比其他時期多5至8厘米/週的降雨。依上述介紹，請問黃麻適合栽種於何處？

(A)甲 (B)乙 (C)丙 (D)丁。(P.26)



44. 東南亞的湄公河超過一半的航道都在中國境內，中國作為上游的沿岸國，對下游國家有相當大的影響力，有鑑於大量人口的生存依賴於湄公河，尋找替代食物和經濟來源迫在眉睫。上述內容與中南半島河川源自中國哪一地形區最有關聯？

(A)東北平原 (B)青藏高原
(C)東南丘陵 (D)橫斷山脈。(P.15)

45. 2023年10月26日印度選擇不宣而戰，直接對巴基斯坦發起軍事打擊，巴基斯坦軍方透露，印軍出動了無人機，但被巴軍擊落，隨後印軍選擇直接向邊界沿線的巴軍開火。這是繼2019年2月印度對巴基斯坦進行空襲後，再次攻擊巴國。歷史上兩國衝突不斷，可能與下列哪些因素有關？①民族不同 ②宗教信仰 ③土地主權 ④爭奪礦產 ⑤爭奪水資源

(A)①②④ (B)②③④ (C)②③⑤ (D)①④⑤。(P.27)

46. 南亞由複雜的地形組成，其中何者造就了當地相對封閉的環境與文化特徵？(P.22)

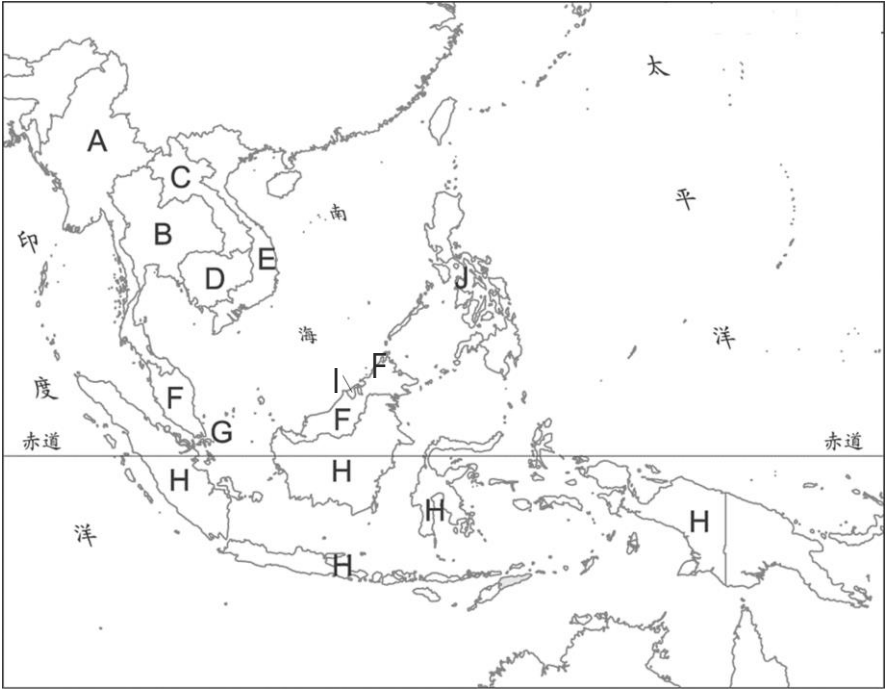
(A)德干高原 (B)印度大平原
(C)印度洋島嶼 (D)喜馬拉雅山。

後面尚有試題

新
北
市
立
中
正
國
民
中
學112學年度第二學期八年級社會科第一次段考試題

範圍：公民 B4L1~2、歷史 B4L1~2、地理 B4L1~2 班級：_____座號：____ 姓名：_____

47. 斯里蘭卡是中國「一帶一路」計畫中的重要合作對象，主要在於斯里蘭卡擁有下列何種重要的地理優勢(P.29)
- (A)完整保存南傳佛教的廟宇與經文
(B)擁有大量高等學歷且廉價的勞力
(C)位處印度洋貿易的中繼位置
(D)是全球最重要的茶葉生產地之一。
48. 瓦拉納西是印度著名的歷史古城，享有「印度之光」的稱號，信奉甲宗教的教徒們認為在瓦拉納西死去，並在「母親之河」的乙河畔火化，能夠超脫生死輪迴的循環，獲得救贖。文中的描述甲及乙分別代表？(P.27)
- (A)佛教、印度河 (B)印度教、恆河
(C)印度教、印度河 (D)伊斯蘭教、恆河。



49. 農、礦產品的出口是東南亞國家重要的收入來源，上圖中哪些國家生產大量石油及天然氣，是東南亞主要的能源出口國？(P.18)
- (A)A及B (B)I及H (C)E及D (D)F及G。
50. 部分東協國家的資料如下，請問甲、乙、丙、丁依序分別為何國家？(P.17)

	人口 (萬人)	面積 (千 km ²)	人均 所得	宗教信仰 (依比例排序)
甲	599	0.7	59,590	佛教、基督教、伊斯蘭教、道教、印度教
乙	44	5.7	32,230	伊斯蘭教、佛教、基督教
馬來西亞	3,192	329	11,230	伊斯蘭教、佛教、基督教、印度教
丙	6,884	513	7,260	佛教、伊斯蘭教
丁	26,904	1904	4,050	伊斯蘭教、基督教
越南	9,707	331	2,590	佛教、基督教
寮國	719	236	2,570	佛教
柬埔寨	1,641	181	1,530	佛教
緬甸	5,540	676	1,390	佛教、基督教

- (A)新加坡、汶萊、泰國、印尼
(B)汶萊、新加坡、泰國、印尼
(C)新加坡、泰國、印尼、汶萊
(D)泰國、印尼、汶萊、新加坡。