

【讀卡科目請依規定畫卡，若有違反畫卡規定而影響讀卡作業之情事，一律扣總分 5 分。】

一、選擇題

1. 莊小皓大學畢業工作多年後，即將步入結婚禮堂，邁進人生下一個階段。附圖是莊小皓的結婚喜帖，請根據此喜帖判斷莊承恩和田祖在我國《民法》上為何種親屬關係？ (p.174~175)



- (A)配偶 (B)血親 (C)姻親 (D)沒有親屬關係
2. 報載：「一名已故婦人，與丈夫育有 2 子，但次子已過世多年，她在生前曾立下遺囑，將財產全部留給孫子(次子的兒子)，長子因未分得財產，向法院訴請分配遺產。法官認定這份遺囑內容為真，判決長子無法繼承婦人留下的財產。」根據上述內容，長子最可能出現以下何種狀況，讓法院做出此判決？ (p.187)
- (A)薪水低，給老婦人較少撫養費
(B)無法照顧老婦人，將其移居安養中心
(C)長期辱罵老婦人，精神虐待
(D)在國外工作，無法長伴老婦人左右
3. 下方是小櫻為家族旅行所規畫的房間配置圖。若小櫻的房間兩旁，分別住了自己的「直系血親」與「旁系血親」，根據圖中內容判斷，她最可能是住在哪一個房間？ (p.174~175)



- (A)甲 (B)乙 (C)丙 (D)丁
4. 大華參加志工培訓，日後將負責家庭暴力防治的業務，但他在培訓課程中所做的筆記錯誤百出，下列哪一項筆記內容才是正確的？ (p.191)
- (A)經濟條件越好、教育程度越高的家庭，越不會發生家暴事件
(B)不具親屬關係的同居或非同居親密伴侶同樣是家暴防治的對象
(C)被害人可向家暴防治中心聲請保護令，以遠離傷害
(D)發現家暴案件時，可撥打 165 保護專線尋求協助

5. 幸福國中七年三十班上完公民課後，同學間彼此分享自己的家庭狀況——

皓皓：「我有好多家人，除了爸媽，還有 6 個兄弟姊妹，每天大家一起玩耍，一起寫功課！」

東東：「雖然我是養子，但爸媽視我如己出，我覺得自己很幸福！」

小竹：「我爸媽在外地工作，我和祖父母還有叔叔住一起，很開心！」

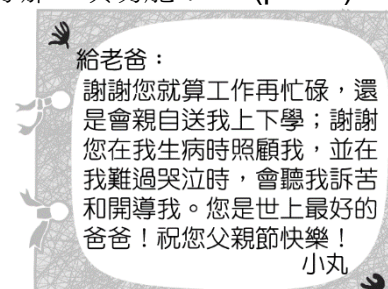
小翎：「每到連續假日我都很興奮，因為爸爸在臺北上班，只有假日才能從北部回來跟我們團聚。」

根據上文判斷，下列敘述何者正確？ (p.176~177)

- (A)皓皓家屬於小家庭
(B)東東家屬於繼親家庭
(C)小竹家屬於隔代教養家庭
(D)小翎家屬於新住民家庭
6. 根據附圖對話判斷，外出看展覽的三個人應屬於何種親屬關係？ (p.175)



- (A)連襟 (B)妯娌 (C)表姊妹 (D)堂姊妹
7. 小丸在父親節這一天，寫了一張如附圖的卡片給自己最喜歡的爸爸。從卡片中的內容來看，小丸的父親充分發揮家庭的哪一項功能？ (p.181)



- (A)教育功能 (B)保護與照顧功能
(C)經濟功能 (D)生育功能

後面尚有試題，請繼續作答

新北市立中正國民中學113學年度第一學期七年級社會科第二次段考試題

範圍：公民 B1L3~4、歷史 B1 2-2~ L4、地理 B1 2-2~ L4 班級：_____座號：____ 姓名：_____

8. 一則談話節目邀請已婚人士聊聊現在家庭型態的面貌，依照附圖對話判斷，下列敘述何者最為正確？
(p.176~177)



- (A)來賓甲的家庭型態由姻親所構成
(B)來賓乙的家庭成員之間皆為直系血親
(C)來賓丙的家庭應屬於聯合家庭
(D)來賓丁的家庭型態又稱為重組家庭
9. 以下是凱薩國的老年人口比率圖，根據圖中判斷，凱薩國會在某一時期進入高齡社會？ (p.190)
-
- (A) 1981~1991 年 (B) 1991~2001 年
(C) 2011~2021 年 (D) 2021~2031 年
10. 承上題，若凱薩國希望能減緩圖中的人口問題，則提出下列哪一種方案最有效？ (p.190)
- (A)制訂健全的醫療保險制度
(B)提高生育補助，完善公共托育政策
(C)積極落實長期照顧服務計畫
(D)辦理中高齡民眾就業輔導
11. 幾位好友利用通訊軟體分享近況，如附圖所示。請問：談話內容中呈現的多種家庭生活模式，最可能是受到下列何項因素的影響？ (p.178)



- (A)生育觀念的改變
(B)婚姻觀念的多元
(C)女性就業的增加
(D)工作地點的轉變

12. 姍姍從小遭爸爸家暴，只要她晚回家或爸爸喝醉了，就會對她拳打腳踢，導致姍姍童年非常不快樂。長大後，爸爸時常向她要錢，讓姍姍不堪其擾，決定利用〈甲〉法律伸張自己的權利，向〈乙〉機關請求免除扶養義務。請問：上述提及的〈甲〉、〈乙〉分別為何？
(p.191)
- (A)民法、法院
(B)家庭暴力防治法、法院
(C)民法、戶政事務所
(D)家庭暴力防治法、社會局
13. 對讀書不感興趣的阿偉，國中畢業後想直接就業，但父親不同意，他不知該如何是好而尋求好友協助。下列何人的回應最為正確？ (p.186)
- (A)小冬：查查看《性別平等教育法》，裡面有相關規定
(B)小夏：因為你未成年，只能由爸爸全權做主
(C)小希：男主外女主內，所以法律規定由母親行使親權，別擔心
(D)小泉：如果你爸媽意見不同，可請求法院來做裁決
14. 小齊的老婆即將臨盆，為了日後能安心撫育孩子，小齊開始研究我國有關「育嬰假」的法律規定。下列關於「育嬰假」的敘述，何者正確？ (p.189)
- (甲)規定於《勞動基準法》中
(乙)不論男女員工皆可申請
(丙)員工必須在子女滿6歲以前提出申請
(丁)政府推動育嬰留職停薪是為了提高國人生育率
- (A)甲乙 (B)丙丁 (C)甲丙 (D)乙丁
15. 建宏長期關注《民法》中有關兒少權益的部分，並將法律修正的部分，加以彙整。在建宏的紀錄中，應不會出現下列何種內容？ (p.186)
- (A)在性別平權下，未成年子女的親權多轉由母親取得
(B)對子女姓氏，由父母雙方協議，可書面約定從父姓或母姓
(C)子女生活費的負擔，由夫妻雙方依實際經濟情況共同分擔
(D)子女不分性別，親生或收養，都可以繼承遺產
16. 哲明某日心臟病發，緊急送醫急救，他的岳父、弟弟、舅舅、女兒，接到消息後都趕到醫院，醫院人員拿了下圖的「手術同意書」讓家屬簽名。請問：根據圖中之條件判斷，何人無法代為簽署同意書？ (p.174~175)

康健醫院手術同意書

.....

第 25 條

本同意書可由本人、配偶、直系或旁系血親代為簽屬。

- (A)岳父 (B)弟弟 (C)舅舅 (D)女兒

後面尚有試題，請繼續作答

新北市立中正國民中學113學年度第一學期七年級社會科第二次段考試題

範圍：公民 B1L3~4、歷史 B1 2-2~ L4、地理 B1 2-2~ L4 班級：_____座號：____ 姓名：_____

17. 右表為西元 1640-1653 年

「荷人在臺財務收支表」。根據圖表內容及你的歷史知識來進行判讀，請問：下列敘述何者**正確**？(課本 P.98-99)

(A)當時外銷獲利的主要商品為稻米、橡膠

(B)荷蘭以臺灣為轉運站，主要貿易對象為菲律賓及日本

(C)1640 至 1649 年間在臺轉口貿易的獲利逐年穩定攀升

(D)1643 年至 1649 年間應受到清代海禁政策影響而導致貿易額減少

18. 小新在整理臺灣歷史時，將兩個不同時期的經濟發展進行比較如下表。根據表中內容判斷，下列敘述何者**正確**？(課本 p.98-101、120)

(A)甲來臺主因是要將臺灣作為攻打中國政府的軍事基地

(B)乙離臺原因是被日本人以「保民」為理由被征服

(C)丙進口商品是絲織品

(D)丁是指英國東印度公司

項目	「甲」時期	「乙」時期
重要農作	甘蔗	稻米
出口商品	蔗糖、鹿皮、稻米	蔗糖、鹿皮
進口商品	白銀、香料	「丙」、民生用品
貿易對象	中國、日本、東南亞	中國、日本、東南亞、「丁」

※19至21題為題組，閱讀圖表再回答問題。下表為西元1659年，臺灣平埔族西拉雅族各社熟諳教理的信徒比例：

西拉雅族	比例
新港社	83%
麻豆社	51%
目加溜灣社	76%

19. 請問這個圖表中所謂「熟諳教理的信徒」，是指熟悉哪一種宗教的義理？(課本 p.110)

(A)天主教 (B)佛教

(C)神道教 (D)基督教

20. 以下為原住民部落與傳教者們的互動敘述，請問下列何者**正確**？(課本 p.98-99、109-110)

(A)當時統治者以漢人通事間接統治新港、麻豆等社

(B)傳教士為傳遞宗教義理，會在教堂授予部落長老權杖，賦予長老翻譯聖經達成傳教任務

(C)此教的教義認為閱讀聖經能與上帝溝通，因此傳教者以羅馬字母拼寫部落語言方便傳教

(D)傳教者是從歐洲出發到馬尼拉的亞洲總部，再被總部派往臺灣來進行傳教

21. 表中資料顯示新港社原住民熟諳教理的信徒比例較高，**最可能**的原因為何？(課本 p.108)

(A)新港社較其他兩社漢化程度較高

(B)新港社原住民為獲取商貿利益而主動傳教

(C)傳教者的政權利用部落間衝突，與新港社攻打他社而緊密聯繫，因此信仰意願高

(D)新港社較其他兩社開發時間較早

※22至23題為題組，閱讀下列圖文後回答問題：

根據史書記載，沈葆楨以欽差大臣身分來臺期間，特別聘請法國工程師帛爾陀(M. Berthault)興建砲臺，帛爾陀在設計時參考了法國巴黎的外圍防禦工事，砲臺部分的建材是取自於當時已經危傾的熱蘭遮城，此即全臺第一座西式砲臺「億載金城」。

22. 請問沈葆楨來臺督導防務，與下列哪一件事有關？(課本 p.98、120)

(A)荷蘭人占領臺灣南部

(B)西班牙人占領臺灣北部

(C)顏思齊帶領漢人來臺開墾

(D)日本出兵屏東

23. 根據文中內容以及你的歷史知識，請問下列敘述何者**正確**？(課本 p.98-99、117-122)

(A)推動這一連串建設臺灣防務的措施都與英法聯軍有關

(B)將臺灣行政區調整，並增設臺東直隸州，也是沈葆楨來臺所推動的政策之一

(C)億載金城的建材有部分是由西班牙人興建的熱蘭遮城殘骸所製成

(D)沈葆楨來臺後，廢止渡臺禁令，實行劃界封山

24. 鄭氏在臺期間，對於原住民採取鎮壓與安撫兼施的政策。他們如何治理願意歸順的原住民？(L3 習作題)

(A)集體遷往平地 (B)提供入學機會

(C)禁止原漢通婚 (D)禁止紋面活動

25. 閱讀下方資料，以下何者敘述**正確**？(L3 習作題)

(A)由資料判斷，其內容是在說明鄭氏對荷蘭人的統治

(B)據上述兩則資料的內容來看，鄭氏對此族群的統治方式採行推廣教化為主

(C)從文中可見，此族群與鄭氏政權相處和睦

(D)根據上述兩則資料來看，此族群應為中部地區的部落聯盟

資料一：

叔璫的番俗六考中記載：「沙轆社原有數百人，為部落中勢力最強大者；後為鄭氏將領劉國軒殺戮殆盡，只餘下六人，被迫潛逃藏匿在沿海口岸。」

資料二：

郁永河的裨海記遊一書中提到：「鄭氏繼荷蘭之後來到臺灣，立法尤其嚴格，誅殺時連小孩都不放過，大肚、牛罵等社的田地與房舍都因此廢棄了。」

新北市立中正國民中學113學年度第一學期七年級社會科第二次段考試題

範圍：公民 B1L3~4、歷史 B1 2-2~ L4、地理 B1 2-2~ L4 班級：_____座號：____ 姓名：_____

26. (1)臺灣建省 (2)興建承天府 (3)施琅攻臺 (4)日本鎖國政策 (5)清法戰爭 (6)英法聯軍 (7)牡丹社事件。有關上述臺灣歷史大事，請按照先後順序排列，下列選項何者正確？(課本 p.98-122)

(A)2345761 (B)4236715
(C)2436751 (D)4236751

27. 吉伊和朋友們一起規劃一個以臺灣歷史為主題的行程，他們各自分工安排一個景點，根據交通安排最順的動線，他們決定要從南往北來排定行程，請問這趟旅行的負責導覽的順序應該為何？(課本 p.101、119-122)

(A)吉伊、小桃鼠、烏薩奇、小八
(B)小桃鼠、吉伊、烏薩奇、小八
(C)吉伊、烏薩奇、小桃鼠、小八
(D)吉伊、烏薩奇、小八、小桃鼠

負責導覽人	歷史意義
吉伊	弔念19世紀死難的琉球漁民
烏薩奇	了解乾隆皇帝如何平定林爽文事件
小八	弔念19世紀死難的法軍士兵
小桃鼠	參觀全臺灣第一座孔廟

28. 閱讀下圖，以下分析敘述何者正確？(課本 p.119)
- (A)根據三張圖的變化，可以發現番界逐漸往西遷移
(B)見甲圖，原諸羅縣地區內逐年增設行政區，顯示最初清朝在臺劃定的行政區顯然有不合理之處
(C)從行政區變遷判斷，增設行政區是因應臺灣經濟重心逐漸北移而改變
(D)從乙圖到丙圖的變化，應該是發生了朱一貴事件後，政府為有效管理越界發展的漢人而增設行政區



29. 承上題，根據你的歷史知識，請問以下敘述何者正確？(課本 p.117-119)
- (A)在丙時期，政府正積極開通前往東部的八通關古道
(B)從甲圖變化到乙圖，主因是在臺的天地會引發民變，使政府調整行政區
(C)為了防止外國人來臺灣占領，因此大量派軍駐守在較易上岸的西部地區
(D)三張圖的共同點為，因相同的政策管理措施，造成社會性別比失衡
30. 小明在報紙上看一則新聞：「1990年代英國愛丁堡大學，確立遺骨遺骸及文物返還政策，要將其過去歷史中，從世界各處所蒐羅到的各民族遺骸還回去。在該校的博物館館藏中，則藏有4具幾經輾轉由日本流入英國

的排灣族人頭顱，這些頭顱是一百多年前日本以「保民」為口號出兵臺灣的戰利品，於2023年11月初在校方及排灣族巫師的努力下，這些遺骸得以回到臺灣故土。」請問：文中所提日本與排灣族的衝突事件最後造成什麼影響？(課本 p.118-122)

(A)開港通商 (B)獨立建省 (C)琉球滅亡 (D)劃界封山

※31至33題為題組，請依據圖文內容回答下列相關問題：



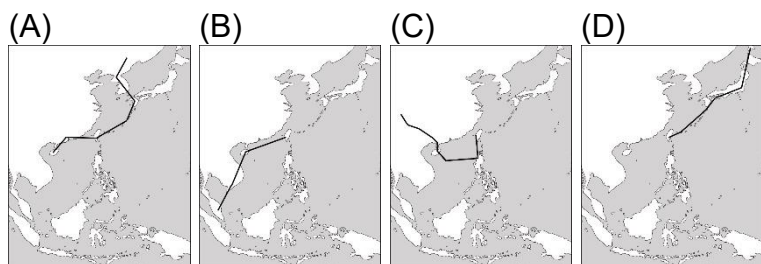
31. 劉銘傳為奉命來臺統治的重要官員，請問哪些與其統治政策有關？(課本 p.121-124)
- (A)甲己 (B)丙己
(C)甲丙丁 (D)甲丙丁己
32. 請問根據圖文分析，以下內容何者正確？(課本 p.100、116-117、120-124)
- (A)由甲跟己來分析，反映當時政府在統治政策的目的是防範外力入侵
(B)乙跟丙能展現政府為防臺而治臺的政策心態
(C)戊政策施行時，當時在臺的漢人多為軍人，施行寓兵於農
(D)己政策的施行，原因是越南爆發戰爭而波及臺灣因而施行的對策
33. 承上題，請問清朝在臺統治結束前，在臺灣的鐵路建設從基隆出發，最後蓋到哪裡為止？(課本 p.122)
- (A)臺北 (B)新竹 (C)臺南 (D)高雄

後面尚有試題，請繼續作答

新北市立中正國民中學113學年度第一學期七年級社會科第二次段考試題

範圍：公民 B1L3~4、歷史 B1 2-2~ L4、地理 B1 2-2~ L4 班級：_____座號：____ 姓名：_____

34. 黑面琵鷺是隨季節遷徙的水鳥，夏季在中國東北與南北韓交界地帶繁殖，9月起飛抵熱帶氣候的臺灣、香港、海南過冬，隔年3月北返。下列哪個圖示可正確表示黑面琵鷺的遷移路線？(P.26)



35. 鮭魚是具有「溯河洄游」習性的魚類，幼年期鮭魚生活在低水溫的河川，成年期遷徙到大海，繁殖期又溯河而上，回到淡水水域產卵。臺灣數萬年前的環境適宜鮭魚洄游，但「環境條件改變」使其他鮭魚滅絕，僅有臺灣鮭魚(櫻花鉤吻鮭)形成幼年、成年期均棲息在淡水水域的習性，稱為「陸封型鮭魚」。上述的「環境條件改變」指的是什麼？(P.27)

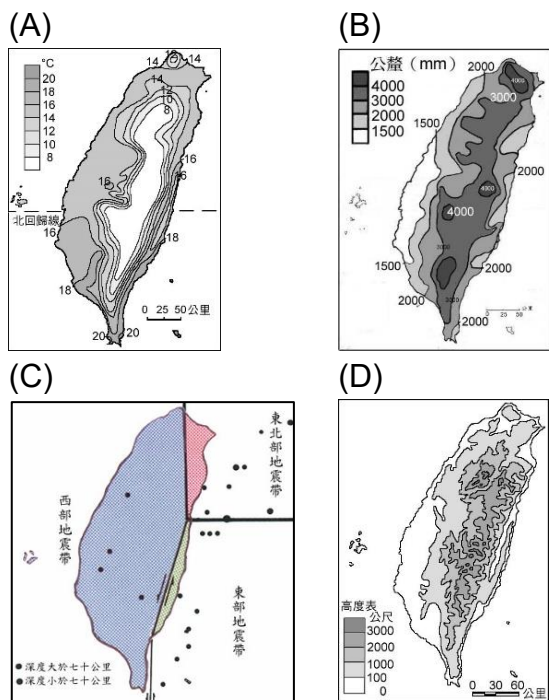
- (A)冰河期來臨，海平面下降
(B)冰河期結束，氣溫上升
(C)發生地震，河川改道
(D)火山噴發，地球降溫

36. 右圖是 2024 年 11 月 3 日的即時空中航班位置圖，可見到密集的班機列隊通過臺灣東側與西側，帶來可觀的「過境航路服務費」。臺灣有密集班機通過的原因是什麼？(P.28)



- (A)臺灣是荷蘭人在亞洲東部的貿易據點
(B)臺灣主要以空運與美國、澳洲進行貿易
(C)臺灣是聯繫亞洲東北部與東南部的樞紐位置
(D)臺灣位於太平洋東部與歐亞大陸西部往來捷徑

37. 臺灣的地形具有山地廣大、地勢高聳、坡面陡峭等特徵，下列哪個圖示可題示上述的地形樣貌？(P.38、35)

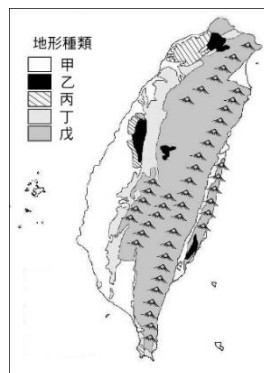


38. 以下是臺灣西北部林口臺地的成因，哪一個項目與地形的「外營力」有關？(P.35)

- (A)甲 (B)乙
(C)丙 (D)丁

林口臺地的北側有火山噴發形成的火山錐【甲】，原為山脈西側的沖積平原【乙】，因造山運動的持續而漸漸隆起近200公尺【丙】，後來東側的臺北盆地陷落【丁】，形成局部較高且平坦的臺地。

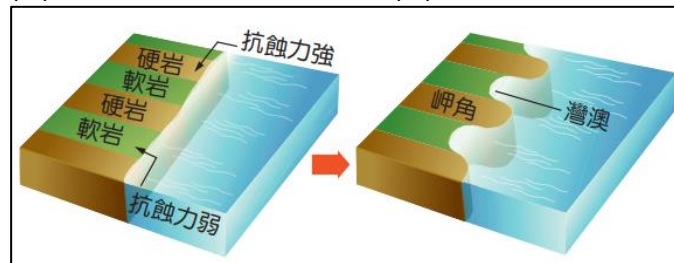
39. 右圖是臺灣五大類地形種類分布圖，哪中哪個代號具有「四周被丘陵、山地圍繞的盆狀地形，底部地勢平坦」的特徵？(P.36、37)



- (A)甲
(B)乙
(C)丙
(D)丁

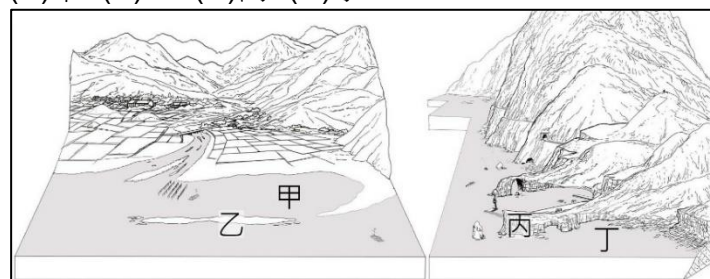
40. 下圖是說明臺灣某類海岸成因的圖示，圖示的海岸最可能出現在下列哪個地點？(P.47)

- (A)新北市萬里區的野柳 (B)桃園市新屋區的永安
(C)嘉義縣布袋鎮的好美寮 (D)花蓮縣秀林鄉的崇德

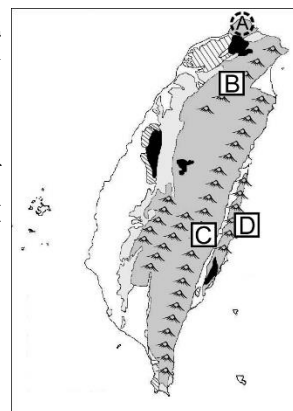


41. 潟湖是由沙洲與外海分隔的平靜海域，例如被臺南人稱為「內海仔」的七股潟湖，漁民在此養殖蚵仔、經營賞鳥、遊紅樹林等生態旅遊，是適度利用土地資源的證子。潟湖的位置與下圖中哪個地點相符合？(P.47、48)

- (A)甲 (B)乙 (C)丙 (D)丁



42. 「這座山脈」原本是菲律賓海板塊的海底火山，如同現在的綠島、蘭嶼。300萬年前菲律賓板塊上衝到臺灣島，將臺灣擠壓、隆起到2千公尺以上的高度，「這座山脈」露出海面與中央山脈並行，由於河川泥沙的堆積，與臺灣島連成一片。這座山脈位於右圖中何處？(P.35、習作 P.9)



- (A)A (B)B (C)C (D)D

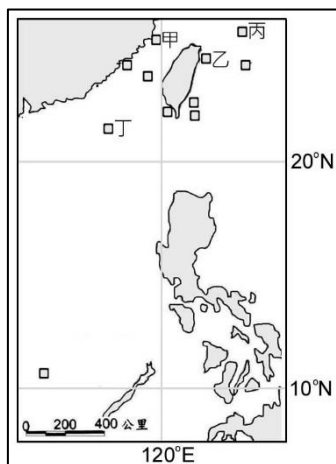
後面尚有試題，請繼續作答

新北市立中正國民中學113學年度第一學期七年級社會科第二次段考試題

範圍：公民 B1L3~4、歷史 B1 2-2~ L4、地理 B1 2-2~ L4 班級：_____座號：____ 姓名：_____

43. 一艘漁船向港口回報作業位置：「船隻位在東經 117 度、北緯 20.6 度，靠近某個島嶼的海域。」根據敘述，漁船最接近右圖中的哪個島嶼？(P.50)

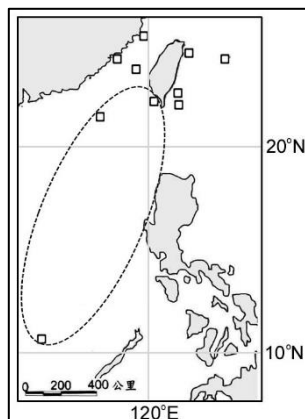
- (A)甲，馬祖列嶼
(B)乙，龜山島
(C)丙，釣魚臺列嶼
(D)丁，東沙島



44. 曾老師前往位在澎湖群島的南方四島國家公園旅遊，下列哪一項最符合當地的特有景觀？(P.52、51)

- | | |
|---|--|
| (A)
【人文景觀】
四草砲臺、鹽場
【自然景觀】
黑面琵鷺、濕地生態 | (B)
【人文景觀】
閩南建築、戰役史蹟
【自然景觀】
花崗岩、鸞、水獺 |
| (C)
【人文景觀】
東沙遺址
【自然景觀】
圓型環礁、珊瑚礁 | (D)
【人文景觀】
防範東北風的菜宅
【自然景觀】
柱狀玄武岩、珊瑚礁 |

45. 臺灣擁有數量眾多的離島，右圖中虛線圈起來的範圍內，島嶼的成因屬於下列哪一項？(P.51)
- (A)海平面上升，淹沒近海丘陵
(B)海平面下降，海底珊瑚礁隆起
(C)海底火山噴發，堆積物露出海面
(D)河流入海，海水圍繞堆積的泥沙



※46至47題為題組，閱讀下列圖文後回答問題：

為了保育特殊自然或人文景觀，我國自民國73年起陸續成立9座國家公園，以下是某座國家公園的簡介：

(1)陸地面積1.8萬公頃、海域面積1.5萬公頃；
(2)植物：熱帶季風雨林，特有種如恆春金線蓮；
(3)動物：伯勞鳥、灰面鷲、梅花鹿、珊瑚、抹香鯨等；
(4)特殊景觀：風吹沙(因馬路阻隔而消失)、「甲海岸」景觀(帆船石、貓鼻頭、青蛙石)等。

46. 上述短文介紹的國家公園，位在右圖中何處？(P.42)

- (A)甲
(B)乙
(C)丙
(D)丁



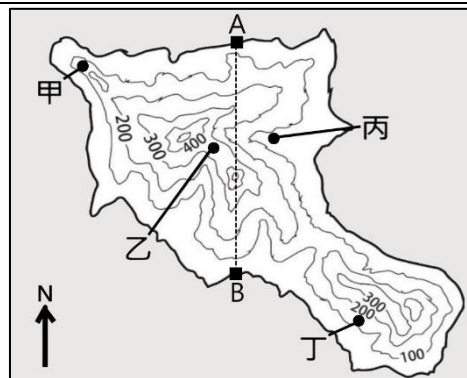
47. 述短文提到的甲海岸景觀，屬於哪一類海岸？(P.49)

- (A)岬灣海岸
(B)斷層海岸
(C)沙質海岸
(D)珊瑚礁海岸

※48至50題為題組，閱讀下列圖文後回答問題：

柚子老師到臺東的蘭嶼進行生態旅遊，等高線地形圖如右，行程如下：

第1天：在高度360公尺的地點採集標本。
第2天：在東清溪沿著河谷溯溪，東清溪向東注入太平洋，提供達悟族最大聚落—東清部落水源。
第3天：由圖中的A點步行至B點，調查不同海拔高度的植物種類。



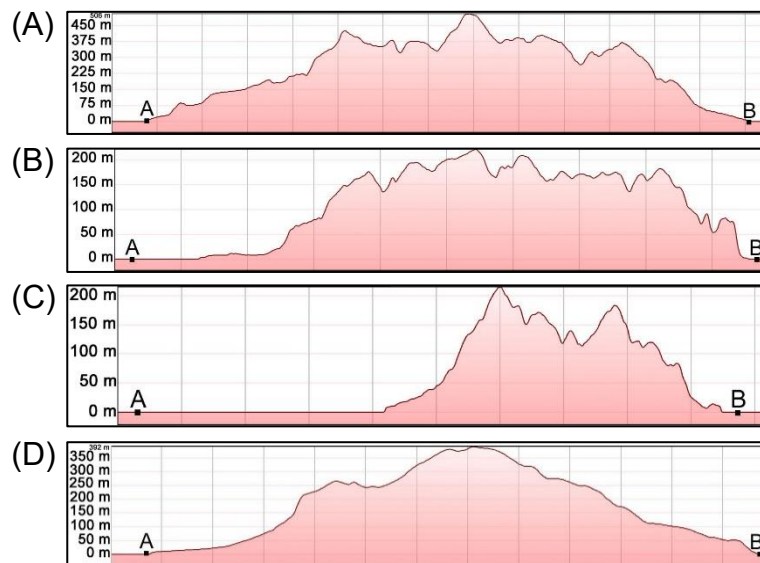
48. 柚子老師採集標本的地點，在蘭嶼地圖中的哪個地點？(P.38、43)

- (A)甲 (B)乙
(C)丙 (D)丁

49. 柚子老師溯溪的東清溪河谷，經過蘭嶼地圖中的哪個地點？(P.43、38)

- (A)甲 (B)乙
(C)丙 (D)丁

50. 將 A 點步行至 B 點的路徑繪製成地形剖面圖，可得下列哪個圖示的結果？(P.39)



試題結束