

【讀卡科目請依規定畫卡，若有違反畫卡規定而影響讀卡作業之情事，一律扣總分5分。

1. 依欣在網路上查詢訂立契約時，應遵守的相關法律原則，表(1)是他在網路上查詢到的資料，依據表(1)的事例，以下何者符合「正確使用」與民法有關的法律原則？

(P.145-素養)

項目	事例
甲	甲與乙以書面契約簽定，乙須在一個月內完成裝潢工作，每遲一天甲可以少付工程款1%給乙。
乙	店家不須主動告知，福利品的電動車是消費者退貨後重新整理的商品。
丙	甲借錢給乙，此項借款的5年後，甲跟乙要求返還借款，乙以消滅時效為由，拒絕甲。
丁	住在社區中的甲把雜物堆放在公共空間的走廊，導致乙乘坐電動輪椅時，無法通行，社區管理委員會以甲違反權利濫用禁止原則，向甲提出撤走雜物的要求。

表(1)

- (A)甲乙
(B)甲丙
(C)甲丁
(D)乙丙
2. 根據民法「契約自由原則」，圖中店員的行為主要違反了下列何種精神？ (P145-素養)



圖(1)

- (A)契約自由原則
(B)誠實信用原則
(C)公共利益原則
(D)平等互惠原則
3. 15歲的庫拉皮卡未經家長同意，擅自騎機車幫舅舅外出送貨打工。途中因超速不慎撞傷庫洛米，導致庫洛米骨折住院。事後庫洛米家屬要求賠償，但庫拉皮卡的舅舅辯稱：「庫拉皮卡是私下打工，與本店無關！」關於此事件的法律責任歸屬，下列敘述何者「正確」？ (P.155)
- (A)舅舅未善盡監督責任，應與庫拉皮卡連帶賠償
(B)庫拉皮卡超速肇事屬過失侵權，應該單獨賠償
(C)庫拉皮卡未滿 18 歲，父母應負連帶賠償責任
(D)機車屬「危險工具」，庫洛米未躲開也有責任

4. 16歲的小凱未經父母同意，用打工存下的錢與電信公司簽訂一份月租\$1,200的兩年手機合約。事後父母認為費用過高，拒絕承認此契約。根據民法契約成立要件的規定，下列敘述何者「正確」？ (P.144-148)

- (A)此契約是有效契約，因符合意思表示一致的條件
(B)此契約應無效，因為小凱的法定代理人拒絕承認
(C)此契約須有書面並向特定政府機關登記才能有效
(D)此契約產生的權利義務關係是基於身分關係而來

5. 13歲的米奇未經父母同意，開家裡的汽車外出，不慎撞壞巷口的麵攤。麵攤老闆要求賠償修繕費用，但米奇的父親說「車是小華自己開的，與我們無關」。以下是與此事件相關的法律見解，請問：何者「正確」？ (P.154)

- (A)依據題幹米奇的年齡，目前是無行為能力人
(B)米奇的行為是出於故意，依規定應自行負擔
(C)依米奇父親說法，在法律上他無須為此負責
(D)米奇開車不甚撞壞麵攤的行為屬於過失行為

6. 明天將要過7歲生日的小玲在未經父母同意下，自行在「下周」要交給學校的「校外教學同意書」簽上自己的名字，並交給老師。根據民法關於「行為能力人」的相關規定，下列敘述何者「正確」？ (P.147-148-素養)

- (A)小玲的簽名有效，因學校活動不涉及法律責任
(B)小玲的簽名自始無效，必須由父母代理簽署
(C)若學校已安排活動進行，視為家長默示同意
(D)需小玲的父母承認，此同意書才能具有效果

7. 就讀國二的小明開車門時，沒注意到後方來車，導致機車騎士摔車受傷，有關其行為衍生的法律責任問題，下列敘述何者「正確」？ (改編習作P.46)

- (A)小明的行為屬於過失，因此沒有法律責任
(B)小明涉及侵權行為，但因未成年不用負責
(C)因小明行為產生的損害，由法定代理人負連帶責任
(D)小明的行為是債務不履行，騎士可以請求賠償損害

8. 17歲的庫巴未經父母同意，在網路購買二手電競筆電，收到商品後發現螢幕損壞。賣家拒絕退貨，庫巴的父母想解決糾紛，並希望解決方案具法律強制力，請依據表(2)提供的資訊，幫庫巴的父母選出符合他們的需求，又耗費最少資源的方案？ (P.156-158-素養)

處理方案	參與人員	法律效力
方案 1	雙方當事人	僅具契約效力，無強制執行力
方案 2	雙方當事人、調解委員	經法院核定後具判決同等效力
方案 3	雙方當事人、法官	判決具強制執行力
方案 4	雙方當事人、法官	與判決同等效力

- (A)方案1（私下和解）
(B)方案2（調解）
(C)方案3（民事訴訟）
(D)方案4（訴訟上和解）

表(2)

後面尚有試題，請繼續作答

新北市立中正國民中學113學年度第二學期八年級社會科第一次段考試題

範圍：公民 B4L1~2、歷史 B4L1-2、地理 B4L1~2 班級：_____ 座號：____ 姓名：_____

9. 一名20歲的男大生在網路上表示：他在上課時間，不慎摔到女同學的手機，導致螢幕因此有些裂痕。女同學向他索賠3萬元，男大生覺得不合理，因為3萬元已經能買一支全新的同型號手機了。依據民法的規定，下列敘述何者「正確」？(改編習作P.47)
- (A)男大生的父母為此須負連帶的損害賠償責任
(B)男大生須負擔賠償責任且以恢復原狀為原則
(C)男大生無須為其不小心的行為負擔賠償責任
(D)男大生有義務依照對方的要求進行損害賠償
10. 剛上國中的柯南在網路平臺向博士訂購一組限量滑板，約定「貨到付款」。送貨員拓海送貨時因超速翻車，導致滑板嚴重損毀。柯南拒收後要求博士重新出貨，但博士堅持「貨物已寄出，風險由買家承擔」，拒絕處理。根據民法關於「侵權行為」與「債務不履行」的規定，下列敘述何者「正確」？(P.154-155)
- (A)博士未依約交付完好商品，屬「債務不履行」，需重新出貨
(B)拓海因過失損毀貨物，應依「侵權行為」賠償柯南
(C)柯南未滿18歲，故契約無效，博士無須負責，但博士須賠償拓海翻車損失
(D)損毀風險應由博士承擔，柯南需支付全額費用
11. 阿兩在公園騎腳踏車時不慎撞壞哪吒的風火輪，雙方當場簽署「和解書」，約定阿兩必須賠償。一週後阿兩反悔拒付，哪吒持和解書向法院聲請強制執行。根據民法關於「調解」與「和解」的規定，下列敘述何者「正確」？(P156)
- (A)私下簽訂的和解書經法院核定後，可直接強制執行
(B)阿兩向調解委員會聲請調解後，強制執行失效
(C)雙方已達成和解，法院應直接判決阿兩付款
(D)此和解書僅具契約效力，哪吒須另提民事訴訟
12. 艾莎因租屋糾紛向法院提起民事訴訟，要求房東唐老鴨返還押金。開庭當日，雙方在法官面前達成和解，同意唐老鴨分期退還款項。法官當場製作和解筆錄並簽名。請問：下列敘述何者「正確」？(P156-158)
- (A)和解成立後，若唐老鴨未履行，艾莎可持和解筆錄聲請強制執行
(B)法官應直接改判和解內容，無需製作筆錄
(C)訴訟上和解應由調解委員主持，法官不得參與
(D)此和解筆錄需經書記官核定後，才具強制執行力
13. 臺北市一名母親氣急敗壞怒罵超商店員，為何不阻止孩子買點數？據了解，該名母親的9歲兒子將壓歲錢拿去買遊戲點數，且金額竟高達1萬元。請問：該超商與男童之間的買賣契約，其效力為何？(習作P45)
- (A)該契約完全有效
(B)該契約自始無效力
(C)該契約經過男童的母親拒絕承認後無效
(D)該契約在店員詢問確認購買意願後生效

14. 民法限制某些人在法律行為上的效力，原因為何？(改編習作P.45)

(A)債務多於存款
(B)沒有大學畢業
(C)沒有我國國籍
(D)判斷能力不足

※15至16題為題組，閱讀下列文章後回答問題：

花輪是一位熱愛攝影的國中生，他在二手平台上看到廣志出售相機，描述相機功能完整、外觀良好，且價格遠低於市價。花輪與廣志聯繫後，雙方約定在咖啡廳面交。

面交當天，花輪仔細檢查了相機，確認外觀沒有明顯瑕疵，也簡單測試了幾個基本功能，覺得相機狀況不錯，便以現金支付了約定的金額。然而，回家後花輪仔細研究相機，才發現相機的部分按鈕無法正常使用。

花輪立刻聯繫廣志，希望能夠退貨或更換其他相機，但廣志卻表示，面交時花輪已經檢查過相機，確認沒問題才購買，現在反悔已經太遲了。

花輪認為廣志刻意隱瞞相機的瑕疵，憤而向消費者保護官申訴。消費者保護官建議花輪與廣志進行調解。然而，廣志態度強硬，拒絕調解，堅持不退貨也不換貨，認為雙方已完成交易，相機的所有權已轉移，他沒有任何義務須負責。

15. 根據民法，花輪與廣志之間所產生的權利義務關係，應被歸類為以下何項契約？(P.144)

(A)贈與契約
(B)買賣契約
(C)租賃契約
(D)借貸契約

16. 在此案例中，下列哪一種法律原則最能支持花輪的主張？

(A)誠實信用原則：雙方交易應具有誠實無欺的義務
(B)所有權絕對原則：所有權人對所有物有絕對支配權
(C)契約自由原則：雙方當事人能自由約定契約內容
(D)損害賠償原則：因故意或過失不法侵害他人權利者，應負損害賠償責任

後面尚有試題，請繼續作答

新北市立中正國民中學113學年度第二學期八年級社會科第一次段考試題

範圍：公民 B4L1~2、歷史 B4L1-2、地理 B4L1~2 班級：_____ 座號：____ 姓名：_____

※第17題~第19題為題組，請閱讀以下文章後回答問題：

今年2025年3月12日為國父孫中山逝世100周年。他主張以武裝革命手段，徹底推翻由滿人成立的皇朝及帝制，建立類似法國及美國的共和政體，但在中國行動容易遭到逮捕，故而當時革命人士多數集中在海外，以留學生、華僑青年為多，例如最早期的革命團體亦是在夏威夷成立。革命團體在辛亥革命後，也改組成國民黨。

17. 根據上文最早的革命團體於夏威夷成立，這是因為受到哪場戰爭失敗的刺激所成立？(P.88)

- (A)鴉片戰爭 (B)甲午戰爭
(C)英法聯軍 (D)八國聯軍

18. 請問關於上文提及的革命人物，下列何者最有可能^是他的革命夥伴？(P.88、P.90)

- (A)宋教仁 (B)陳獨秀
(C)袁世凱 (D)段祺瑞

19. 關於辛亥革命的敘述下列何者正確？(P.88)

- (A)辛亥革命能成功，是因為中國革命同盟會單方面發動起義，結束千年的帝制
(B)由於清廷強行收回鐵路，激起四川省民眾率先發動武裝起事，宣布脫離清朝
(C)革命後建立的民主共和體制，是為了讓國家主權屬於人民，元首由選舉產生
(D)黃花崗之役的慘烈犧牲，激起全民支持革命，因此所有省份皆脫離清朝獨立

※第20~22題為題組，請閱讀以下三份資料後回答問題：

資料一(右圖報紙)
關於「二十一條要求」的報導／文中表示這次提出的要求(《二十一條要求》)是為了增進中日兩國的親善關係以及維護東亞和平。
注：「支」，支那，「中國」之意。



資料二：親友注意：

- 一、勿購買日貨。
- 二、勿忘 5 月 9 日的國恥。
- 三、多練習體操，以便養成「軍人國民資格」保衛國家。

資料三：總體來說我國政府已努力將條約傷害降至最低，整場外交戰役可說是雖敗猶榮。我們必須牢記這天的恥辱，尋求未來反敗為勝的機會。

20. 根據資料一，日本提出二十一條最主要意圖得到何地特權？(P.91)

- (A)山東 (B)西藏
(C)台灣 (D)雲南

21. 甲午戰後，列強在中國劃分勢力範圍，根據資料一，請問該地原先是歐洲哪一個國家的勢力範圍？(P.91)

- (A)英國 (B)美國
(C)法國 (D)德國

22. 關於上述三則資料的敘述下列何者正確？(P.91、97)

- (A)資料三中的：「尋求未來反敗為勝的機會」，一戰後中華民國在巴黎和會上成功收復該地
(B)資料二中的勿忘「五九國恥」是指日方逼迫北京政府必須接受所有的「二十一條」條款
(C)日方的逼迫行為，使民眾累積了對日本的不滿，造成日後罷工、罷課的愛國運動
(D)北京政府欣然同意接受日方的「二十一條」，因此日方也積極支持袁世凱稱帝的行為

23. 西元 1926 年，出版家伍聯德在上海創辦了《良友》雜誌。

《良友》總共 174 期的畫報封面，其中有 161 張封面，以當時的女電影明星、名媛、女學生、女運動員等的照片，作為畫報的封面人物。右圖為楊秀瓊，是首位代表中國參加奧運會泳賽的女運動員。請問：在畫報的發行下，對當時的女性有何種影響？(P.98)




- (A)女性應強健身體達到保國強種的目標
(B)主張婦女應遵守父母之命與三從四德
(C)婦女走出家庭在社會各領域施展才能
(D)重視傳統價值，以「相夫教子」為重

24. 民國初年，某家報社的報導如下：教育部順應各界呼籲，頒發命令要求首都學務局、各省教育廳、各地高等與師範學校，根據國語統一籌備會函，將新式標點符號頒行全國。請問：教育部頒布此令的主要目的，最有可能是下列何者？(習作)

- (A)避免斷句不同造成誤解
(B)更便利閱讀文言文
(C)更有利於推廣印刷術
(D)能讓就讀小學者增加

25. 右圖是民國 7 年的諷刺漫畫「誰謂中國人民能享受幸福耶」。



- 甲、人民受到軍閥的奴役與壓榨
乙、軍閥掌握中國人民的生死大權
丙、人民在軍閥的引導下自立自強
丁、人民無法脫離軍閥控制的困境

- (A)甲乙丙 (B)甲乙丁
(C)甲丙丁 (D)乙丙丁

後面尚有試題，請繼續作答

新北市立中正國民中學113學年度第二學期八年級社會科第一次段考試題

範圍：公民 B4L1~2、歷史 B4L1-2、地理 B4L1~2 班級：_____ 座號：____ 姓名：_____

※第26~29題為題組，請閱讀以下人物介紹後回答問題：

人物一：某大學校長，在擔任校長期間，對各種學說均秉持思想自由的原則，使這所大學成為日後的新文化運動及學術重鎮。

人物二：他以人人讀得懂的白話文寫出《狂人日記》，發表於《新青年》雜誌上，該作品被認為「中國的新文學從這裡誕生，也在這裡成熟」

人物三：主編的《新青年》，介紹「德先生」與「賽先生」及西方文化，批評傳統，挑戰儒家思想的權威。

26. 上述三位人物分別是誰？順序應該如何排列？(P.96)

- (A)胡適、梁啟超、魯迅
- (B)魯迅、胡適、孫中山
- (C)蔡元培、魯迅、陳獨秀
- (D)段祺瑞、魯迅、宋教仁

27. 請問這三位人物期望在什麼層面對中國進行改革？(P.96)

- (A)軍事 (B)制度
- (C)經濟 (D)思想

28. 關於人物一所任職的大學，成為新文化運動重鎮，請問是下列何所大學？(P.96)

- (A)清華大學
- (B)北京大學
- (C)交通大學
- (D)中央大學

29. 人物三除了引進「德先生」與「賽先生」，當時還引進何種思想，影響日後中國政局深遠？(P.96)

- (A)共產主義
- (B)民主主義
- (C)民族自決
- (D)民族主義

30. 西元1917年以來，中國同時出現兩個政府組織，一個是「北京政府」，另一個則是南方的「廣州軍政府」。請問民初中國形成南北分裂情形的原因為何？(P.92)

- (A)第一次世界大戰中國戰敗導致分裂
- (B)袁世凱暗殺宋教仁導致二次革命
- (C)臨時約法與原有的國會遭到毀棄
- (D)袁世凱擴張權力，推行洪憲帝制

31. 袁世凱曾說：我不怕孫文，我最怕的是宋教仁。民國二年，國民黨贏得國會大選，當時擔任國民黨代理理事長的宋教仁具有黨主席的身分。如果沒有發生宋教仁遭刺殺事件，則依法宋教仁會是首任中華民國總理，也就是說由宋教仁掌握行政權。請問民初的臨時約法是採取下列何種制度？(P.90)

- (A)總統制
- (B)君主制
- (C)共和制
- (D)內閣制

32. 下圖為1930年代發行的《兒童晨報》該報刊載國內外時事、地理、科學等知識性內容，並加入大量圖像、讀者投稿作品以顯現其趣味性。圖中左邊的小孩說：「天天要用功，天天要活動」，右邊小孩說：「活動活動，快樂無窮」請問關於出現這樣專屬兒童的報刊，下列敘述何者錯誤？(P.99)




- (A)開始重視兒童本位，推動適合兒童的教育
 - (B)推廣文言文的教育，輕視兒童發展的能力
 - (C)開啟兒童文學創作風氣，擴大兒童的視野
 - (D)運用科學方式研究兒童心理與成人的差別
33. 民國八年五月四日，許多學生聚集在北京天安門前示威，抗議巴黎和會將山東的特權轉給日本，是為「五四運動」。關於五四運動的敘述下列何者錯誤？(P.97)
- (A)該運動的口號為「外爭主權、扶清滅洋」
 - (B)該運動加深民眾對國家與民族的認同
 - (C)全國各地響應，罷工、罷課、罷市
 - (D)北京政府在輿論壓力下拒簽對德合約

後面尚有試題，請繼續作答

新北市立中正國民中學113學年度第二學期八年級社會科第一次段考試題

範圍：公民 B4L1~2、歷史 B4L1-2、地理 B4L1~2 班級：_____ 座號：____ 姓名：_____

34. 東南亞「甲國」的文化深受北方大國影響，如13至19世紀使用右圖的「喃字」(圖中圓圈內的文字)，表達甲國當地的語言。下列哪項文化同樣受到北方鄰國影響？(P.17)



- (A)伊斯蘭教信仰
(B)稻米製作食品
(C)復活節與聖誕節
(D)種植橡膠與咖啡

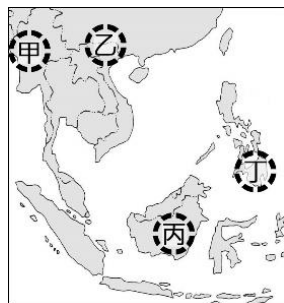
35. 昭披耶河三角洲是泰國最大的平原，擁有廣大、肥沃的耕地，被譽為「泰國糧倉」，「作物」的產量達到世界之冠。上述的作物最可能是什麼？(P.18)

- (A)水稻 (B)小麥
(C)棉花 (D)黃麻

36. 2024年12月26日在印度洋周圍的國家，共同悼念「天災」發生滿20週年，受害最嚴重的印尼亞齊省鳴放3分鐘的海嘯警報，政府提醒大眾不需驚慌，居民要暫停活動以紀念天災的罹難者。上述天災發生的原因，與下列哪項環境條件有關？(P.13)

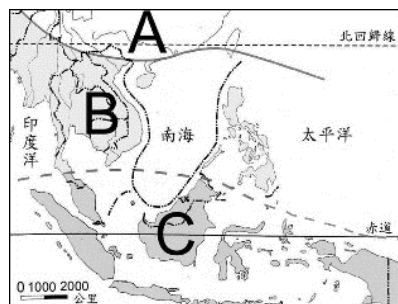
- (A)位於板塊交界帶
(B)位在颱風侵襲路線
(C)終年多雨，地勢低窪
(D)高壓籠罩，降水不足

37. 羅興亞人是近年國際援助的族群，主因是羅興亞人受到緬甸政府的迫害，威脅多年前占領土地且宗教信仰相異的羅興亞人，回到西方的孟加拉。根據敘述，羅興亞人生活的區域在右圖中何處？(P.16、28)

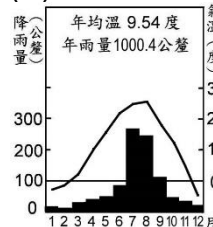


- (A)甲 (B)乙
(C)丙 (D)丁

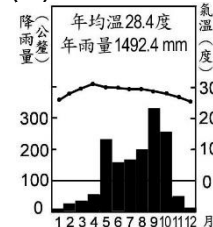
38. 右圖是東南亞的氣候類型分布，圖中的「C」氣候類型，可用下列哪個氣候圖代表？(P.14)



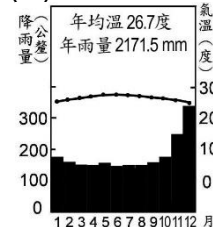
(A)



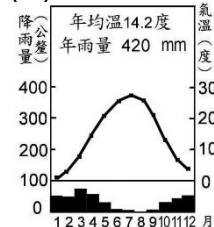
(B)



(C)



(D)



39. 桐桐寒假與爸媽到東南亞某國旅遊，以下是旅遊的見聞，根據內容，她可能去哪個國家？(P.18、習作P.3、4)

第1天：剛下飛機就感受到當地溼熱的天氣，導遊說這裡接近赤道，全年都是這樣的天氣。

第2天：到聖淘沙參觀濱海灣金沙酒店，屋頂是可俯瞰城市的無邊際泳池，酒店內是合法的賭場，隨處可見中文的標語。

第3天：參訪東南亞最大的裕廊工業區，龐大的油輪穿越麻六甲海峽到此裝卸石油產品。

根據桐桐的旅遊見聞，她可能去哪個國家？

- (A)越南 (B)柬埔寨
(C)泰國 (D)新加坡

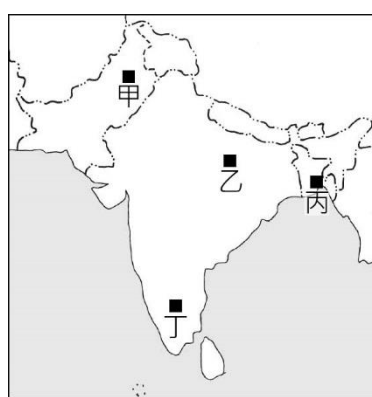
40. 受到殖民歷史的影響，東南亞各國的產業包括熱帶栽培業，這是以「商業性、大量生產、出口為導向」的農業生產方式，下列哪2種作物是東南亞至今仍普遍種植的熱帶栽培作物？(P.18)

- (A)芒果、香蕉 (B)甘蔗、茶葉
(C)油棕、棉花 (D)咖啡、橡膠

41. 巴斯可(Baseco)地區位在菲律賓首都馬尼拉近郊，是國際知名的貧民窟(Slums)，這片區域居住著1980年代以來由鄉村到城市工作的居民，由於缺乏資金與專業技能，被迫佔用土地並從事僅供糊口的工作；當地缺乏水電，住屋多以廢棄材料搭建，生活條件欠佳。根據敘述，貧民窟反映了什麼樣的社會現象？(P.19)

- (A)都市的人口推力大於拉力，居民向外遷移
(B)外國資金與技術前來投資，縮小貧富差距
(C)殖民統治偏重母國利益，忽略殖民地需求
(D)城市的交通等基礎設施不足，引發環境問題

42. 印度教大壺節號稱是「地球上規模最大朝聖集會」，2025年在恆河、亞穆納河與薩拉斯瓦地河三大聖河匯流處舉行，北方邦為眾多信眾搭建15萬頂帳篷、14.5萬間廁所，迎接5億人參與。上述的節慶在右圖中哪個地點舉辦？(P.24、28)



- (A)甲 (B)乙
(C)丙 (D)丁

43. 位在印度東部的乞拉朋吉(Cherrapunji)是全球降雨最多的地點，有世界雨極之稱。當地政府推動觀光活動，列入峽谷探險、叢林跋涉、欣賞瀑布、探索樹根橋等行程，為純屬大自然的景點。乞拉朋吉多雨的原因是什麼？(P.26)

- (A)位於赤道地區，終年對流旺盛
(B)位於西南季風迎風坡，多地形雨
(C)高山阻擋東北季風，使迎風坡多雨
(D)夏季與冬季季風均通過海洋，帶來水氣

後面尚有試題，請繼續作答

新北市立中正國民中學113學年度第二學期八年級社會科第一次段考試題

範圍：公民 B4L1~2、歷史 B4L1-2、地理 B4L1~2 班級：_____ 座號：____ 姓名：_____

44. 在印度西北部有一間著名的「帳棚旅館」，位於全國最大的野生動物保育區旁，由屋頂到隔間全數採用厚重的白色棉布搭建，遊客能完全體會野地野營的氣氛，同時使用木床、廁所、浴缸等設施。受限於自然條件，旅館只在每年10月至4月營運，其他時間則拆卸收藏。在上述帳棚旅館的營運期間，適宜經營的條件是什麼？

(P.27)

- (A)降水充足，物種繁殖
- (B)雨季來臨，動物遷徙
- (C)宗教節慶，遊客眾多
- (D)乾燥少雨，天氣涼爽

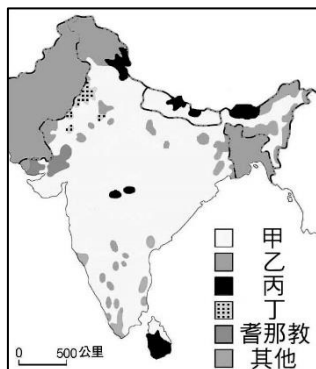
45. 「人口紅利」指勞動人口(壯年人)在總人口的比例上升，伴隨的經濟成長效應。由於壯年人是生產與消費的主力，充沛的勞力與年輕的人口結構，利於經濟發展。根據敘述，下列哪2個區域近期將維持人口紅利的成長？

(P.28)

- (A)南亞、東亞
- (B)東南亞、南亞
- (C)東亞、東北亞
- (D)東北亞、東南亞

46. 南亞擁有多元的宗教，在西元8世紀時，受從事貿易的阿拉伯人影響，在右圖中哪個區域帶來伊斯蘭教的信仰？(P.28)

- (A)甲
- (B)乙
- (C)丙
- (D)丁



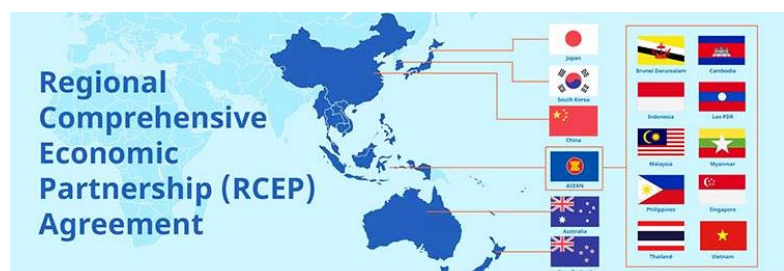
47. 印度大平原的地勢平坦、灌溉便利，擁有豐富、多樣的農產，由東向西種植黃麻、稻米、小麥等作物。造成上述作物種植差異的因素是什麼？(P.29)

- (A)年均溫高低
- (B)人口數多寡
- (C)降水量變化
- (D)地勢高低起伏

※48至50題為題組，閱讀下列短文後回答問題：

為了促進經濟發展，區域結盟是近年經濟發展的趨勢。以南亞為例，人口最多且使用英語作為官方語言的「甲國」，近年將經濟發展的範圍由國內市場走向國際，陸續與東協、日本、歐洲自由貿易聯盟(包括瑞士、挪威等非歐盟國家)簽署自由貿易協定，甲國降低上述區域的關稅，獲得「醫藥、機械、製造業」等領域的外來投資，將有助雙方的貿易成長。

2020年的區域全面經濟夥伴協定(RCEP，成員如下圖)，由東南亞國家發起，是全球最大的自由貿易經濟體，可促進成員間的合作，降低其他區域的競爭力。



48. 上述短文裡提到的「甲國」，是哪個國家？(P.29)

- (A)越南
- (B)印度
- (C)孟加拉
- (D)菲律賓

49. 藉由區域結盟與貿易協定，甲國將能獲得醫藥、機械、製造業等領域的外來投資，上述投資項目具有下列哪一項特色？(P.18、29)

- (A)產品單位價值較低
- (B)需要較高的資金與技術
- (C)生產環境需高溫多雨的氣候
- (D)生產過程需充足且廉價的勞工

50. 區域全面經濟夥伴協定(RCEP)的成員國，在位置上多具有下列哪一項特性？(P.12、19)

- (A)位處歐洲
- (B)位於北半球
- (C)鄰近西太平洋
- (D)位在東北亞與南亞