

【讀卡科目請依規定畫卡，若有違反畫卡規定而影響讀卡作業之情事，一律扣總分五分。

一、 選擇題

1. 神神為中正國中校慶創作一首歌並拍攝 MV，同學們針對著作權的保障給予他提醒。下列何者「最正確」？（P93-95）

(A) 任何人使用你的音樂，你都可以向他收取著作權利金。

(B) 必須在期限內提出申請，才能享有著作權的保障。

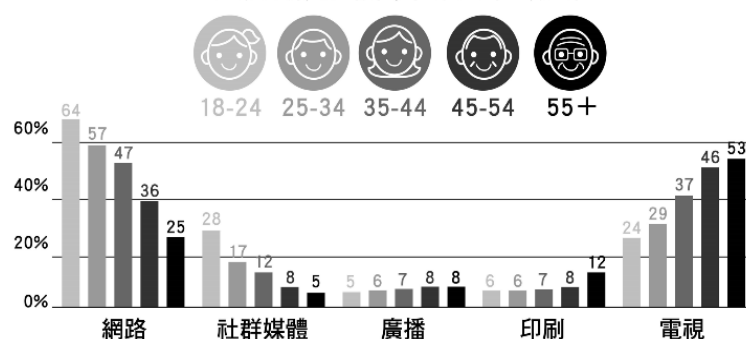
(C) 既然是為學校創作的歌曲，著作權即歸屬於學校。

(D) 著作財產權保障期間是著作完成到著作人死後的50年。

2. 一名研究生子毅在學期間致力於 3D 列印技術研究與 AI 產品開發，取得多項發明專利。關於上述專利的敘述，何者「正確」？
(A)屬於智慧財產權的一種
(B)要依照《著作權法》申請註冊
(C)小說和電影皆屬於專利權的範圍
(D)無須經申請審查，即獲法律保障。（P93-95）
3. 尊重智慧財產權，才能鼓勵有能力的人從事精神創作，以提升人類經濟、文化、科技的發展。下列有關「智慧財產」的敘述，何者「錯誤」？（P93-95）
(A)智慧財產是指人們透過構思、創作、發明等過程而產生價值的產物
(B)智慧財產權包括專利權、商標權和著作權
(C)《個人資料保護法》乃為保護智慧財產權而制定
(D)為促進資訊共享，我國制定法律限制創作者權利，使他人可在合理範圍內運用其智慧財產。
4. 有一部動畫電影最近上映，一名大學生利用手機拍攝幾張電影畫面的照片，並上傳到自己的社群，結果遭到發行商關切並移送地檢署。對於上述的拍照行為，下列敘述何者較「適當」？（P93-95）
(A)照片能吸引更多支持者進場，不應以法律追究
(B)照片侵害創作者的智慧財產權，應以法律追究
(C)照片占影片內容的比率極低、不應以法律追究
(D)照片只要不上傳到社群網路，不應以法律追究。
5. 有一位網紅因剪接知名電影，搭配搞笑旁白，製作出系列影片成功打開知名度。然而他的作品也引發了侵權爭議，遭到多家片商陸續提告。檢察官最可能以他違反以下哪一部法律的規定而將他起訴？（P93-95）
(A)《民法》
(B)《商標法》
(C)《專利法》
(D)《著作權法》。
6. 某網站針對不同年齡層主要閱讀新聞的媒介進行問卷調查，調查結果如附圖。以下有關此圖的分析，何者「正確」？（P100-101）

- (A)在各種新聞媒介中，人們最常使用的是網路
(B)閱聽人只有透過網路，才能對公共議題進行討論
(C)中年齡層是網路與社群媒體的主要使用者
(D)透過電視來獲得資訊的人，有日益增加的趨勢。

主要閱讀的新聞來源與年齡分布



7. 小花參加一場研討會，附圖為研討會會場的海報，從海報呈現內容來推論，他最有可能參加哪一項研討會？（P100-101）
(A)團體知多少
(B)媒體追追追
(C)社區你我他
(D)行政機關的角色。



8. 小小搜尋政府設置的網路參與平臺，發現附圖的討論區。下列哪一項敘述並非「不是」此網路平臺設置的目的？（P100-101）
(A)政府可以匯集民意做成公共政策
(B)人民可以透過管道表達個人意見
(C)僅方便閱聽人接收資訊
(D)藉由交流討論讓更多人參與公共政策。

議題：試想如何在資訊安全的前提下、在各界可負擔的成本內，讓健保卡可以更便利，同時有良好的授權機制、身分辨識、離線使用體驗，以推進行動生活政策？

發布於 2024-07-19 截止於 2024-08-07
24 則回應 2 關注

討論區

以生物特徵來驗證身分最快最好，因為不用帶卡。

我覺得不可行，人臉辨識的技術還不夠成熟，現階段根本沒辦法達成。

背面尚有試題

新北市立中正國民中學113學年度第二學期九年級社會科第一次段考試題

範圍：公民 B6L1~2、歷史 B6L1~2、地理 B6L1~2 班級：_____ 座號：____ 姓名：_____

9. 附圖是某個政府機關所架設的網路平臺：



從其內容判斷，下列何者為該機關提出此平臺的目的？（P102-103）

- (A)消除政策中的隱藏性歧視
 - (B)維持政府保持中立的立場
 - (C)促進民眾公共參與積極度
 - (D)培養民眾懷疑與探究精神。
10. 有民眾曾於公共政策網路參與平臺提案「國中小上課時間改為9點到15點」，其內容如附圖：
- （P102-103）

臺灣學生每日上課 10 小時，是世界上上課時間最長的國家。當學生上課時間過長，家長又安排課後補習，造成學生一天只能睡 5 至 7 小時，去學校時無法專心學習，且未達到一天睡 9 至 10 小時之標準，將影響小孩發育，所以希望能夠藉由縮短上課時數，減輕學生的負擔。

該提案通過附議門檻後，教育部做出回應，認為國中小教育屬地方政府權責範圍，學校可依各地方政府訂定的「國民中小學學生在校時間」規定自行安排。下列做法，何者「最符合」學生參與公共事務的理念？

- (A)學習為教育專業的領域，故應由專家及教育相關人員共同討論決定之
 - (B)學習時間的影響性可由學校提供客觀的價值引導，再讓學生理性判斷
 - (C)國中小的學生心智尚未發展成熟，故應由其監護人代為表達意見決定
 - (D)身為未來的公民，學生應該在課堂中好好學習，不適宜參與公共事務。
11. 針對下圖對話所出現的狀況，下列說明何者「恰當」？（P102-103）
- (A)資訊科技發達讓網路社群的盛行，改變人互動方式
 - (B)網路詐欺事件不斷，應提升民眾的資訊倫理
 - (C)科技帶來許多負面效果，只能減緩經濟發展的脚步
 - (D)科技侵害個人權益，有時須藉由法律加以規範。



12. 麥爾斯某天幫丈母娘修手機時，發現裡面除了很多早

安圖外，還有不少(甲)似是而非的消息，譬如說吃某食物會致癌，但另一篇又說吃同樣的東西會抗癌。他深怕丈母娘被騙，便做了一個「丈母娘筆記」，後來想想可能也有很多長輩遇到同樣的狀況，便成立了「MyGoPen」網站。該網站(乙)查證所有訊息，像是找專家、學者、政府單位協助幫忙闢謠，並(丙)採1對1真人回覆，不用聊天機器人，雖然不夠即時，但他們(丁)直接協助長輩解決問題，也讓長輩把他們當成朋友，每個月網站流量突破 200 萬次以上。上述畫線部分，下列敘述何者「較適切」？（P102-103）

- (A)甲呈現交易層面的風險
 - (B)乙方式可避免錯誤訊息以訛傳訛
 - (C)丙方式提高生產效率與消費競爭
 - (D)丁做法可能會導致許多職業被取代。
13. 《個人資料保護法》的制定，是為了保障個人資訊，下列何者的行為已違反該法的規範？（P93-94）
- (A)小龍在研討會上和教授交換名片
 - (B)小豪用行車紀錄器拍到的違規照片檢舉違規
 - (C)安親班買到附近學生的電話號碼並逐一電話行銷
 - (D)小晴為方便聯絡，經徵得全班同意後，為班上同學製作通訊錄。
14. 秀秀上網蒐集資料，以製作公民期末報告。她在引用下列哪一類資料時必須特別注意，以避免侵犯他人的智慧財產權？（P93-95）
- (A)法務部網站開放自由下載的法律宣導短片
 - (B)某位部落客在 IG 上發布的時事評論
 - (C)唐朝詩人李白的作品《早發白帝城》
 - (D)十八世紀莫札特的作品《安魂曲》。
15. 針對近期發生數起類似的詐騙社會事件，各電視臺紛紛推出不同的方式因應：

甲電視臺：
增加新聞播報次數與時間。
乙電視臺：
製作專題訪問專家探究成因。
丙電視臺：
設置網路平臺歡迎民眾留言。
丁電視臺：
邀請各方學者上談話性節目。
戊電視臺：
揭露政府處理的最新進度。

有關各電視臺的做法與其扮演的公共角色，下列哪一項分析是「正確」的？（P102-103）

- (A)甲、乙電視臺著重在報導事實提供訊息
 - (B)丙、丁電視臺強調透過討論來形成民意
 - (C)甲、戊電視臺選擇設定議題並引導關注
 - (D)乙、丁電視臺秉持監督政府施政的重要。
16. 某政治人物日前赴喪禮，遵循當地習俗摔筆以示哀悼，該行為被人錄下後剪輯，註明「殉職員警的會場，你不願意就別來，拽什麼拽，簽完名字，筆還用丟的」，並在網路上瘋傳。該政治人物解釋當時並非參與殉職員警的喪禮，且摔筆亦非不尊重，因此向警察機關檢舉，處罰製作影片的當事人 3,000 元罰款。若從媒體識讀的角度來解釋上述新聞內容，則下列說明何者「最正確」？（P100-101）
- (A)該新聞呈現事實與意見並存的狀況
 - (B)閱聽人應秉持懷疑態度並積極查證
 - (C)該影片顯示媒體存在著隱藏性歧視
 - (D)此影片接受廠商贊助而有廣告的嫌疑。

新北市立中正國民中學113學年度第二學期九年級社會科第一次段考試題

範圍：公民 B6L1~2、歷史 B6L1~2、地理 B6L1~2 班級：_____ 座號：____ 姓名：_____

※17至19題為題組，閱讀下列圖文後回答問題：

請根據下列歷史人物旁邊的描述，選出最適合的答案。



他是一位重要的軍事家、革命家，多次親率軍隊參與家鄉的統一運動，主導兩西西里地區併入薩丁尼亞；除獻身家鄉，他也曾在南美洲的巴西、烏拉圭等地進行軍事行動，而有「兩個世界的英雄」稱號。

17. 請問上述的歷史人物為下列何人？(P.50)

(A)馬志尼 (B)加富爾 (C)加里波底 (D)玻利瓦



我真正的光榮並非打了 40 次的勝仗；滑鐵盧之役抹去了這一切的記憶；但是有一樣東西是不會被人忘卻的，它將永垂不朽——那就是我的法典

18. 請問上述介紹的歷史人物還有做過下列哪一件事蹟？(P.49)

(A)他資助北美十三州獨立革命成功 (B)他曾率領民眾攻陷巴士底監獄 (C)他為徵收新稅曾召開三級會議 (D)他於1812年遠征俄國失敗



他是一位美國總統，他於1918年向國會兩院聯席會議提出戰後「十四點原則」，內容包含：廢除秘密外交，公海航行自由、撤除關稅壁壘、裁減軍備、依絕對公平的原則重新調整各國殖民地的爭執等。

19. 請問這位美國總統為下列何人？(P.60)

(A)華盛頓 (B)威爾遜 (C)門羅 (D)羅斯福

20. 阮呂阿喆之前和家人們一起出國到某個國家旅遊，他回學校後在聯絡簿上寫了一篇旅遊札記如下：「我來到這個國家才知道，這個國家曾殖民過北美十三州，而且原來有這麼多的發明源自於此，如發明飛機的凱伊、發明珍妮紡紗機的哈格里夫斯等人，這些成果都帶動日後工業革命的發展。」請問下列關於阮呂阿喆所旅行的這個國家的敘述，何者錯誤？

(A)該國是 18 世紀全世界主要的棉紡織輸出國 (B)該國曾於 19 世紀時攻打中國，並與中國簽訂不平等條約，讓中國開放五口通商 (C)該國於第一次世界大戰時加入同盟國陣營，與協約國進行交戰 (D)該國曾殖民統治澳洲、印度及非洲部分地區，為帝國主義的國家之一。(P.55、56、57、58)

21. 「香蕉」原為拉丁美洲常見的水果，19世紀末，有間聯合水果公司相中香蕉龐大的商業利益，在某國家的支持下壟斷了加勒比海、中美洲、巴拿馬、哥倫比亞

、厄瓜多等地的香蕉貿易，不僅剝削當地蔗農，甚至發動戰爭，干預拉丁美洲的政權。根據上面的敘述，支持聯合水果公司壟斷行為的國家，應為下列何者？

(A)美國 (B)英國 (C)西班牙 (D)葡萄牙 (P.55)

22. 英國史學家霍布斯邦在他的著作中提到歐洲在某一時期所爆發的新舊交替的『革命』：「舊政治體制與君王一起被送上斷頭台。這顯然是一個普遍性事件，沒有一個國家能倖免於它的影響。而其所推崇的思想成為極具渲染力的中心信仰，形塑現代西歐世界的民主制度。」根據上文的敘述，下列何者錯誤？(P.48)

(A)這場革命的發源地發生在美國 (B)這場革命發生的時間為18世紀 (C)被送上斷頭台的君王為路易十六 (D)這場革命所推崇的思想為自由、平等、博愛。

23. 某國中宿舍裡，住著來自四個不同國家的同學，他們各自介紹祖國的歷史如下列所示：

(甲)尼可拉斯·俊諺：「我國在18世紀是西方啟蒙運動的重鎮，19世紀時國內政治的變動激起革命的火苗，也使當時國際秩序重新洗牌。」

(乙)凱文·偉翔：「我國立國時間短暫，但卻是16世紀以後歐洲移民者的天堂。18世紀時反抗殖民母國，追求啟蒙思想的實踐，終於建立偉大的新國家。」

(丙)茱莉亞·妮可：「我國有淵源久遠的原住民文化，又融合了殖民母國葡萄牙及非洲移民的文化，發展成我國特有的森巴舞嘉年華會。。」

(丁)海倫·仟又：「我國國名直到19世紀末才出現在地圖上，在此之前都是分裂的諸個小國。當時有一位老謀深算的官員細心策畫，發動多次戰爭後完成統一。」

根據上面的內容來判斷，請問四位同學中祖國位於歐洲的有哪幾位？(P.47、48、50、51)

(A)甲乙 (B)乙丙 (C)丙丁 (D)甲丁

24. 下列是程小毅將19世紀一場國際會議對於國家邊界的影響所做的摘錄，請問對於這場會議的影響，何者敘述正確？(P.49)

- (1) 法國失去前段時間征服的領土，由舊有王室，恢復統治。
- (2) 俄羅斯獲得波蘭一部分領土，並維持對芬蘭的統治權。
- (3) 日耳曼地區數十個成員國組成邦聯，由奧國擔任主席

(A)蘇聯接收東歐部分地區，戰後共產勢力擴張
(B)日本無條件投降，放棄台灣、澎湖的統治權
(C)歐洲恢復了原有王室的統治權，獲得數十年和平
(D)成立國際聯盟維繫世界和平，但是效果不彰。

背面尚有試題

新北市立中正國民中學113學年度第二學期九年級社會科第一次段考試題

範圍：公民 B6L1~2、歷史 B6L1~2、地理 B6L1~2 班級：_____ 座號：____ 姓名：_____

25. 林阿冠在複習歷史時，看到歷史講義上寫著一段內容：「他們是19世紀歐洲某一個國家統一運動中的關鍵角色，甲是一位精神導師，喚起人民的民族意識，積極鼓吹統一；乙是一位愛國將領，率領紅衫軍征服半島南部，並將征服地區毫無私心的獻給國王；丙是一位靈活的政治家，擔任首相期間謀劃對外政策與戰爭，最終國家得以成立。後人因而將此人並稱為統一大業三傑。」請問下列有關於上面內容的敘述，何者正確？(P.52)

(A) 甲 指的是馬志尼 (B) 乙 指的是玻利瓦 (C) 丙 指的是俾斯麥 (D) 這個完成統一的國家在20世紀初加入「三國協約」的陣營。

26. 林小馨在網路上看到一段資料如下：「1899年，英國詩人吉卜林在雜誌上發表《白種人的負擔》：『挑起白種男人的負擔，去替你們的奴隸服務，讓他們揹負著沉重馬韁，去伺候那些剛被抓到又急躁又野蠻的人們。』」這段資料最可能跟哪項思想有關？(P.54)

(A) 天賦人權 (B) 民族自決
(C) 社會達爾文主義 (D) 人文主義

27. 羅小恩在學校圖書館看到一本書的內容如下：「德意志的各邦國，都設有自己的關稅，在高築稅壘的情況下，各邦的貨品不能暢銷，嚴重妨礙工商業的發展。其中一邦國有鑑於此，於1818年率先統一其邦聯的稅率，再於1834年邀請各邦國合組關稅同盟，以達到減低稅率，統一稅制的目的。」請問根據上述的內容，這本書的書名最可能是下列何者？(P.51)

(A) 美國獨立的始末 (B) 鐵血王國普魯士
(C) 義大利榮耀再現 (D) 拉丁美洲的獨立

28. 黃小怡在閱讀班上的好讀周報時看到某一國人的回憶錄如下：「1914那年我10歲，某天報社號外『戰爭將起』，之後不斷出現『最後通牒』、『同盟國』等字眼，鄰居受召入伍高喊：『教訓塞爾維亞！』4年後，依稀記得前一天聽說敵軍已遭擊退，隔日報紙卻是簽署停戰協議，雖然戰事結束了，但我們被認定是罪魁禍首，制裁與賠償條件相當苛刻！幾年內，馬克幣值劇烈波動，一磅馬鈴薯在前一晚僅50,000馬克，今天卻要花多一倍的價錢，大家苦不堪言。」請問下列有關上面回憶錄的敘述，何者錯誤？(P.57、59)

(A) 這本回憶錄的作者應為法國人 (B) 回憶錄中描述的戰爭導火線應為「塞拉耶佛事件」 (C) 回憶錄中描述的戰爭應為「第一次世界大戰」 (D) 回憶錄中描述戰後通貨膨脹情況嚴重，最主要的原因為該國簽署了《凡爾賽條約》負擔了巨額賠款所導致。

29. 20世紀有四位曾參與第一次世界大戰不同國家的士兵的談話記錄如下：

(甲) 顥翔·約科奇：「為封鎖敵軍海上的運輸補給，我軍出動了大量的潛水艇。」
(乙) 淮安·詹姆斯：「我國原本無意參戰，但商船數度遭擊沉，才決定加入戰局。」
(丙) 逢栩·杜蘭特：「雖然我們在西線陷入僵局，挖

壕溝苦戰，不過最後總算贏得勝利。」

(丁) 史蒂芬·佐軒：「我國雖投入大量人力參戰，但我們卻節節敗退，提早退出戰局。」

請問依照上面四位士兵的描述，哪一位最有可能是俄國的士兵？(P.58)

(A) 顥翔·約科奇 (B) 淮安·詹姆斯
(C) 逢栩·杜蘭特 (D) 史蒂芬·佐軒

30. 江阿毅和葉小洋在下課時討論歷史上的某一個地區：

「這個地區軍事戰略地位重要，為兵家必爭之地。但民族、宗教複雜，有希臘人、斯拉夫人、土耳其人等，加上各民族信仰宗教不同，常常產生紛爭，因此被稱為『歐洲火藥庫』，也是一次大戰的爆發地點。」

請問他們討論的內容應是指下列哪一個地區？(P.57)

(A) 義大利半島 (B) 巴爾幹半島
(C) 伊比利半島 (D) 阿拉伯半島

31. 「西元1919年初，世界大國們召開一場長達五個多月的會議，參與國家有27國，與會代表亦有1000多名。其中，法國希望這場會議，能協助他們從戰敗國手中奪回歐洲大陸的霸權；英國期望能取得戰敗國的殖民地以鞏固海上霸權；而美國則是企圖建立和平組織以削弱英、法兩國的勢力；中國則是在此會議中不斷堅持拿回屬於自己的土地。」下面是有關於上文中的敘述，請問哪些敘述是正確的？(P.59)

(甲) 上文中的會議為「維也納會議」
(乙) 法國藉由這場會議向德國提出苛刻的凡爾賽條約
(丙) 美國提倡建立的和平組織為「聯合國」
(丁) 中國在此會議中想拿回「山東」主權
(A) 甲乙 (B) 乙丁 (C) 甲丙 (D) 乙丙。

※32至33題為題組，閱讀下列圖文後回答問題：

十九世紀時，西方各國發展出帝國主義，到處攻城掠地，建立殖民地。下圖是世界簡圖，請回答下列問題：



32. 英國在19世紀時，佔領了上圖中的哪一區，取代了原本蒙兀兒帝國的統治，將此地作為侵略亞洲的大本營？(P.55)

(A) 甲 (B) 乙 (C) 丙 (D) 壬

33. 請問上圖中的哪一個地區自16世紀起大批黑人被捕捉為奴，19世紀後更被大規模侵略，各國普遍皆處於貧窮的狀態？(P.56)

(A) 丙 (B) 己 (C) 辛 (D) 壬

新北市立中正國民中學113學年度第二學期九年級社會科第一次段考試題

範圍：公民 B6L1~2、歷史 B6L1~2、地理 B6L1~2 班級：_____ 座號：____ 姓名：_____

34. 食品業者將食物進行加工，主要是基於那些原因？(P.31)
(甲)保持食物色澤鮮豔 (乙)使食物口感更佳
(丙)增加食物熱量 (丁)讓食物更易保存
(A)甲乙丙 (B)乙丙丁 (C)甲乙丁 (D)甲丙丁

35. 以下地方名稱的演變，何者最能反映解嚴後政府對多元族群及其文化的尊重態度？(P.16)

選項	地名演變
甲	吉野→吉安
乙	三民→那瑪夏
丙	打狗→高雄
丁	諸羅→嘉義

- (A)甲 (B)乙 (C)丙 (D)丁。
36. 以下表格為在台灣縣市中包含某農作物加工場所名稱之地名數量，由表中資訊判斷哪一地名與該加工場所最為相關？(P.18)

(A)樟腦寮 (B)鹹菜甕 (C)興化廊 (D)油車口					
基隆市	0	台中市	19	高雄市	26
台北市	1	南投縣	19	屏東縣	22
新北市	7	彰化縣	12	宜蘭縣	9
桃園市	4	雲林縣	27	花蓮縣	1
新竹市	1	嘉義市	2	台東縣	1
新竹縣	10	嘉義縣	36	澎湖縣	0
苗栗縣	2	台南市	58		

37. 光緒廿年有位生活清苦、志不得伸的人氏洪，仙人托夢要他搬到大饒厝即能致富，卻錯看成是火燒厝，洪君竟信以為真，放火燒掉住屋，因此無家可歸，某日洪君行抵大饒厝，猛然驚覺「大」字如「火」，「饒」字如「燒」，莫非仙公托夢即指此地而非要其放火燒厝？消息傳開後村人乃改稱「大饒厝」為「火燒厝」，請判斷此地早期為哪一族群的聚居地？(P.19)

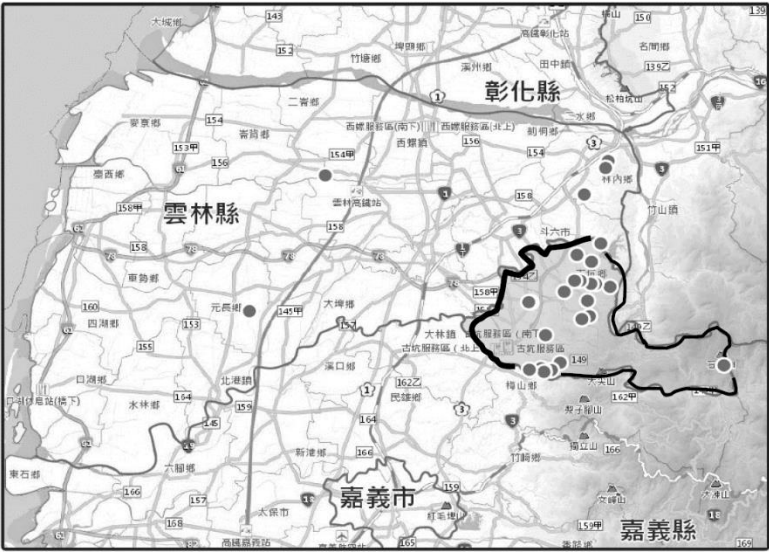
- (A)平埔族 (B)日本人 (C)客家人 (D)閩南人
38. 台灣在古書中曾被記為「大員」當時大員是指今日的台南市安平區一帶，其自然環境最接近何者？(P.12)
(A)有沙洲潟湖相隔的平靜海域
(B)船隻易觸礁的珊瑚礁海岸
(C)山地丘陵沒入海中的谷灣
(D)岬角灣澳互見的曲折岩岸

39. 根據 2012 年衛生署統計，台灣每年約進口 230 萬噸黃豆，其中高達 9 成是基因改造黃豆，這些基改豆在國外大部分都加工成動物飼料，也就是說○○國用來餵豬的黃豆，台灣人拿來製成豆漿、豆腐等。對於基改作物，過去沒有公開資訊，直到 2014 年 1 月食品安全衛生管理法修法後，海關必須將基改與非基改產品列號，2014 年 11 月開始終於有資料可查，若依世界主要基改作物種植面積判斷，○○國最可能為何國？(P.31)
(A)中國 (B)美國 (C)加拿大 (D)巴西。

40. 在地食材是由家庭菜園或在地農田生產的農作物，近年來此概念被積極提倡，強調「在地生產、在地消費」融入生活飲食中，在地食材帶來的好處何者為錯誤？(P.33)
(A)縮短食物里程 (B)提高糧食自給率
(C)促進在地經濟 (D)加速區域專業化

41. 知名鳳梨酥業者微熱山丘與當地農民簽訂契約，由農民栽種鳳梨提供業者製作鳳梨酥內餡，使得八卦山一帶遍地都是鳳梨園，根據上文，合作方式不具何特色？(P.27)
(A)作物單一化 (B)區域專業化
(C)農業企業化 (D)商品國際化

42. 下圖為以地名資訊系統查詢雲林縣聚落有「坑」字地名的分布圖，圖中有「坑」字的地名，其中以「古坑鄉」相對集中，文中所述的地名最可能的由來為何？(P.17)



- (A)地勢崎嶇 (B)河岸彎曲 (C)山間谷地 (D)灣澳地形
43. 地名可說是一個地方的歷史、地理、語言與文化的縮影，每個地名的緣起，皆有其來由和典故，下表的地名緣由依甲至丁何者正確？(P.19)

命名緣由	例如
甲	玉井、高雄
乙	林鳳營、左鎮
丙	北投、烏來
丁	龍崎、中和

- (A)外來語、軍事屯墾、原住民語、名稱合併
(B)自然環境、地緣關係、原住民語、軍事屯墾
(C)維生方式、人物紀念、外來語、人文宗教
(D)地緣關係、外來語、人文宗教、自然環境
44. 「地方創生」是日本政府為修正東京人口過度集中、減緩地方人口減少所提出的政策，近年台灣也結合產、官、學、研、社及新創等資源，進行人才深化培力、資源媒合、商業機制串聯等工作，凝聚社區意識，協助地方特色的發掘，吸引產業進駐及人口回流、繁榮地方，根據上文，台灣何地最適合發展地方創生？(P.20)
(A)台北內湖 (B)新北金山 (C)新竹竹北 (D)台中西屯

背面尚有試題

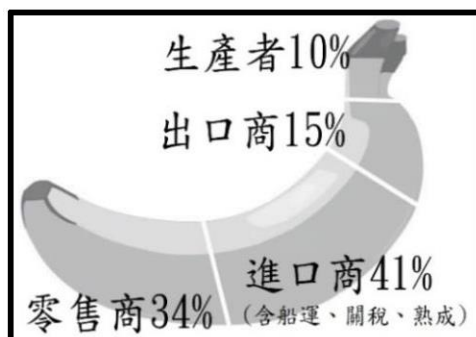
新北市立中正國民中學113學年度第二學期九年級社會科第一次段考試題

範圍：公民 B6L1~2、歷史 B6L1~2、地理 B6L1~2 班級：_____ 座號：____ 姓名：_____

45. 「凍頂烏龍茶」生產自臺灣南投縣鹿谷鄉，與文山包種茶、東方美人茶和日月潭紅茶等併稱為「臺灣十大名茶」，「凍」其實來自○○語的「凍」，指的是△△的地形，文中的○、△分別代表？(P.17)
- (A)閩南、盆地 (B)客家、山地
(C)日本、平原 (D)原住民、沙洲
46. 美國飲食作家 Michael Pollan 《雜食者的兩難》一書，為了探尋我們吃的食物從哪來，當他為了牛肉決心追蹤一頭牛時，他追蹤的不止是一頭牛，還有背後的牧草、農場，及食物供應體系，調查研究從產地到餐桌的流程，揭露現代人飲食的真相。根據上文其所做的事情與臺灣哪項作法類似？(P.34)
- (A)建立區域專業化 (B)科技結合農業
(C)提倡農業企業化 (D)落實生產履歷
47. 老鷹紅豆的誕生，最早開始是在 2012 屏科大接獲有兩隻老鷹體內含有劇毒農藥死亡，起因為避免鳥害造成的農損而使用農藥，後來開始改變耕種方法，使用機械播種將紅豆埋入土中，有效減少播種期的鳥害，並且過程中不用落葉劑、除草劑、農藥，讓紅豆自然熟成，但其中提高的成本只能由農夫自行吸收，直到企業看到報導才願意跟農民契作，解決銷售難題，有關慣用農法及有機農法的比較何者錯誤？(P.32)
- (A)甲 (B)乙 (C)丙 (D)丁

項目	慣行農法	有機農法
(甲)勞力需求	高	低
(乙)產量多寡	多	少
(丙)產品售價	較低	較高
(丁)環境友善程度	低	高

48. 下圖為歐盟地區銷售香蕉後的金額分配比例，然而這樣的金額分配並不公平，所以部分國際組織進行研擬，訂定一個合理的最低收購價格，以保障生產者可以獲利，如：2004 年南美洲的哥倫比亞出口至歐盟的香蕉在市面上售價約 1.7 歐元/公斤，但國際組織主張最低收購價格應為 0.2 歐元/公斤，根據上文敘述何者正確？(P.29)



- (A) 從中獲得金額最少的為第三級產業
(B) 市售價格應不得低於 1.7 歐元/公斤才算合理
(C) 可透過減少運輸成本來提高農家的獲利
(D) 農家與進口商簽更合理的收購協議以減少中間剝削

49. 「魚電共生」就是在魚塭上架設太陽能板，在不影響原本漁業產量的前提下，發展綠能發電設施，若符合規定台電公司也會收購所發的電，根據資料，何者可能是政府欲達成的正面效益？(P.26)
- (A) 提高單位面積的產值
(B) 增加魚獲的外銷產量
(C) 減緩地層下陷的速度
(D) 增加捕撈漁業的收益
50. 食品認證已成為消費者在選購商品時的指標之一，透過認證而購買的產品，形同消費者認可生產者的用心，能更清楚自己吃下什麼且更有保障，下表為通過右側認證的產品一覽表，根據下表判斷何選項可能錯誤？(P.29)



產品	原產地	產品類別
辣味醬油膏	印尼	調味料
厚生辣椒醬	越南	調味料
雞肉速食粥	泰國	食品
三合一微磨咖啡	馬來西亞	飲品
魚豆餅	沙烏地阿拉伯	零食

- (A) 此認證制度與宗教有高度相關
(B) 北非、西亞為此類商品的主要銷售區
(C) 此商品生產過程不可殘留過量農藥
(D) 台灣通過此認證的商品多為國外進口

試題結束