

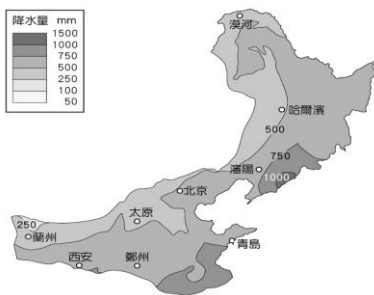
【讀卡科目請依規定畫卡，若有違反畫卡規定而影響讀卡作業之情事，一律扣總分五分。】

【手寫答案卷需確實寫上班級、座號、姓名，違者一律扣總分五分。】

【手寫答案卷需用藍色或黑色墨水筆書寫，違者一律扣總分五分，使用鉛筆書寫扣五分。】

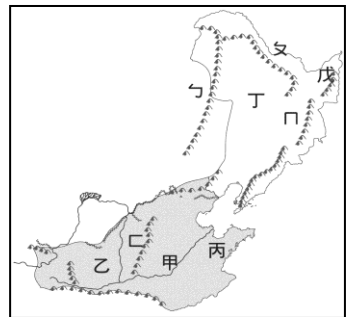
選擇題

1. 廣東省和福建省自古即有「中國僑鄉」之稱，造成該省人口大量外移的主要原因為何？P14
(A)政治紛擾，民不聊生 (B)耕地過少，謀生不易
(C)位置偏僻，民情野蠻 (D)水旱災不斷，民生疾苦。
2. 小銘到雲貴高原聽到導遊介紹現在他們正位於當地的「壩子」上。請問：關於導遊所介紹的「壩子」內容何者正確？ P9
(A)土壤貧瘠，耕種需要施肥 (B)多石灰岩，土壤肥沃
(C)地勢陡峭，乾燥少雨 (D)地勢低平，是人口聚集所在。
3. 下列俗諺中，何者最適合描述橫斷山脈的氣候特色？
(A)朝穿皮襖午穿紗 (B)中國 夏威夷 P13
(C)十里不同天 (D)蜀犬吠日。
4. 華北地形由西到東分別為黃土高原及華北平原的分布。請問：黃土高原及華北平原依序受到何種地形作用力的影響？P21.22
(A)風積作用、河川堆積 (B)風積作用、河川侵蝕
(C)河川堆積、風積作用 (D)風蝕作用、風積作用。
5. 右圖為中國北部區域年降水量分布圖。請問：圖中降水量最多的位置多分布於沿海，這樣的分布情形與下列何者最相關？P25
(A)東北季風自海上帶來水氣
(B)西南季風自陸上帶來水氣
(C)西北季風自陸上帶來水氣
(D)東南季風自海上帶來水氣。
6. 右圖是福建省沿海「谷灣式」海岸的示意圖。請問：形成此種海岸的最主要原因為何？P10
(A)相對海面上升
(B)河流侵蝕力強
(C)珊瑚礁堆積而成
(D)板塊交界地殼不穩
7. 中國東北成為主要的重工業地帶，除了本身的豐富礦產外，還有哪一項優越條件？P27
(A)勞工充足 (B)鐵路網密集 (C)僑資眾多 (D)平原廣。
8. 長江流域的大盆地有兩湖盆地、鄱陽湖盆地和四川盆地。盆地的氣候溫暖，物產豐富，人口密集，為長江流域的精華區。請問：養活這些大盆地眾多人口，主要是下列哪種糧食作物？P14
(A)稻米 (B)小麥 (C)玉米 (D)高粱。
9. 哆拉暑假日記，定為「白山黑水遊記」。有如下描述：「這裡有山有水，平原遼闊，夏短冬長，土壤的色澤黑潤，具有良好的保水、保肥性，人稱『土中之王』。作物以春麥、玉米大豆及甜菜為主，年僅一穫是著名的穀倉」請問他最可能要到右圖中哪一個地區旅行？P26

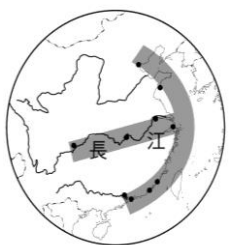


(A)甲 (B)乙 (C)丙 (D)丁。

10. 這裡是中國東北 T 字型鐵路交會點，這座充滿異國色彩與多元民族風情的美麗城市，包括俄羅斯建築如聖索菲亞教堂、日式洋行建築。每年定期舉辦國際冰雪節盛會，並以「冰雪文化運動」出名，根據敘述找出正確城市？P29
(A)哈爾濱 (B)大連 (C)瀋陽 (D)西安。
11. 右圖為中國北部區域的簡圖，其中ㄅ~ㄇ代表山脈：東北山脈呈現『ㄣ』字型分佈，根據圖其山脈名稱依ㄅ、ㄆ、ㄇ的正確順序為何？ P23
(A)大興安嶺、小興安嶺、長白山地
(B)長白山地、大興安嶺、小興安嶺
(C)小興安嶺、大興安嶺、長白山地
(D)大興安嶺、長白山地、小興安嶺

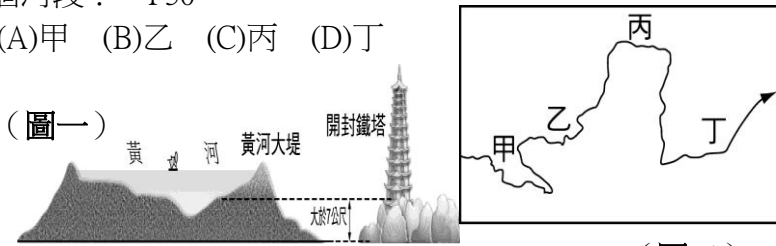


12. 下列有關華中各地區的別稱敘述，何者正確？ P11
(A)四川盆地湖群散布被譽為「水鄉澤國」
(B)兩湖盆地有「湖廣熟，天下足」之稱
(C)長江三角洲盛產糧食，有俗諺：「天府之國」
(D)重慶地形封閉，有「紅盆地」之稱。
13. 右圖是華中地區「T 字型」示意圖。請問：中國東部海岸像是一張弓，長江流域就是一支箭。下列哪個都市剛好位於這副弓和箭的「T」字交會點上？P16
(A)澳門 (B)重慶 (C)上海 (D)香港。
14. 天津為華北最大的港口，冬季時卻以新建的天津新港作為替代港口。請問：最主要的原因為何？P28
(A)冬季風浪過大 (B)冬季港口結冰
(C)冬季洋流經過 (D)冬季颱風侵襲。
15. 不知不覺「**」反送中抗爭運動，2019 年底已來到第七個月。不論數量或能號召上街的人數皆減少，抗爭似乎逐漸平息，運動陷入瓶頸。反送中運動六個月後，馬路、斑馬線、地鐵站出口、天橋的階梯、馬路的安全島、行人道的柱子、公車站廣告看板，示威者遺留的噴漆褪色的褪色、消失的消失；被撕去的文宣和傳單，留下黏著牢固的白色一角……。下圖是臺灣和中國東南沿海的地理位置圖。上文所敘述的「**」位於圖中的何處？P15
(A)甲 (B)乙 (C)丙(D)丁



16. 李白的「將進酒」寫著：「君不見，黃河之水天上來，奔流到海不復回！」黃河不只具有奔流到海不復回的壯闊，更有「河床高於兩岸」的奇景。**圖一**為懸河示意圖。請問：「地上河」的景觀最可能出現在**圖二**的哪一個河段？ P30

(A)甲 (B)乙 (C)丙 (D)丁



(圖二)

17. 不明原因傳染的「武漢新型冠狀病毒」疫情，過去 72 小時內引爆了中國輿論的明顯恐慌。疫情的爆發前線——武漢市——20 日晚間已確認了武漢肺炎的「第 4 起死亡病例」；是夜，中國國家主席習近平也「首度」針對這波神秘疫情發出指示。與此同時，官媒《中央電視台》也緊急邀訪了「抗 SARS 老將」、2003 危機的防疫領軍人物——鍾南山——出面向全國說明疫情，除了推翻官方早先「沒有人傳人跡象」的說法，更證實了武漢前線已出現「至少 15 名醫護」院內傳染的事實，「我們還無法判斷病毒的致死率與傳染性，因為疫情的擴散發作，現在才剛要開始。」

由於武漢的位置地處中國中部，是人流物流南來北往的「九省通衢」；再加上目前的中國已進入農曆新年的返鄉「春運」高峰，年節期間全國預計出現至少 30 億人次的交通流量，因此武漢肺炎的傳染疫情會否藉勢高速蔓延？中國各省各大城市都極度焦慮。

【2020. 1. 21中國】



上文所敘述的武漢位於圖中的何處？P11.16

(A)甲 (B)乙 (C)丙 (D)丁。

18. 四位同學在課餘討論清末列強對中國的瓜分風潮，許新：「瓜分風潮發生在《南京條約》簽訂之後。」；馬龍：「當時德、俄、英、法等國均成功劃分中國領土。」；振東：「列強除劃分勢力範圍外，沒有向中國租借港灣。」；高遠：「日本並沒有劃分到勢力範圍。」請問：上列哪位同學的說法正確？ (A)許新 (B)馬龍 (C)振東 (D)高遠。(2-3)
19. 阿智老師上課時說道：「中國簽訂了這個條約內容以後，若將來有其他國家與中國簽訂不平等條約，英國都能因此援例同享了。喪失權利給一個國家便等於喪失給所有簽訂此條款的國家，對中國的危害不小呢！」請問：這是指外國取得什麼權利？ (A)領事裁判權 (B)協定關稅 (C)片面最惠國待遇 (D)租界使用權。(1-2)

20. 中國開始出資建造南、北洋艦隊，以提升軍事戰鬥力，並且在各地設立機器製造局、紡織廠等，以生產新式武器與國防民生的必需品。請問：這應該是在何時出現的情景？ (A)英法聯軍期間 (B)甲午戰爭爆發以後 (C)鴉片戰爭期間 (D)自強運動期間。(2-1)
21. 附圖為《英國紀要》一書中提到的部分內容。請問：英使當時出使中國的目的為何？ (A)開啟對等的商貿關係 (B)向乾隆皇帝朝貢 (C)在中國派駐外交官員 (D)開闢新的航海路徑。(1-1)

乾隆 58 年，我國以祝壽的名義派遣馬加爾尼前往中國，但最後卻因為與中國天朝上國的觀念不合，並未達成出使的目的。

22. 許新的歷史報告主要探討兩個關鍵概念，如附圖所示。請問：許新的報告主題最可能是下列何者？ (A)廣西西林教案始末 (B)英國與亞羅船事件 (C)鴉片戰爭對中國的影響 (D)俄國的侵略。(1-4)

一、中國正值內憂外患之際。
二、斷送中國黑龍江以北與烏蘇里江以東的土地，因而，可以不費一兵一卒取得利權。

23. 一份清朝史料記載道：「因為地方軍隊平定亂事，使曾國藩等人的手下將領因為功績而被擢升，成為地方上實際掌握權勢者。」請問：這所造成的最大影響為何？ (A)地方軍隊成為亂源 (B)滿人處心積慮奪回地方權勢，造成地方政治的不安 (C)使漢人的勢力大為提升 (D)外國勢力介入中國內政。(1-5)
24. 阿亮老師在上歷史課時說道：「嘉慶年間，英國再度派遣使臣來華，希望改善與中國的貿易關係，但最後任務卻失敗了。」請問：最後任務未達成的原因為何？ (A)朝貢物品不符中國需求 (B)跪拜禮儀的爭議 (C)中國不願開放海禁政策 (D)中國需要西方的商品。(1-1)
25. 自強運動和維新變法都是清末的變法運動，兩者加以比較，請問何者正確？ (A)兩者都著重於政教制度 (B)前者由知識分子主導，後者則是大臣主導 (C)兩者都是著重於軍事國防 (D)兩者都受到保守的守舊派反對。(2-1 與 2-4)

26. 馬龍上完歷史課後，在家寫課後的複習與整理時，整理出如附表的内容，由其中的内容可知應該與何事有關？
(A)英法聯軍的影響 (B)甲午戰爭的影響 (C)鴉片戰爭的影響 (D)太平天國的主張。(1-5)

政制	習俗	社會
推行天朝田畝制度，土地一律充公。	禁止纏足以及吸食鴉片。	毀棄儒家文化與孔孟思想。

27. 詩夢到北京旅遊，想去參觀有「萬園之園」之稱的圓明園，但是一到那裡卻大失所望，到處都是斷垣殘壁，一片殘破不堪的景象，完全沒有萬園之園的豪華與氣派。請問：詩夢想了解圓明園殘破的原因，應該查閱下列何項資料？
(A)《炮火中國——英法聯軍之役》 (B)《南京條約下的中國》 (C)《中法戰爭始末》 (D)《鴉片戰爭始末》。(1-3)
28. 十九世紀以來，英國大量走私鴉片進入中國，當時清朝官員出現嚴禁派與弛禁派(解除禁令)的紛爭，主張嚴禁鴉片有林則徐等人。請問：他們堅持嚴禁的理由最可能為下列何者？
(A)白銀外流及影響人民的健康 (B)中國有自產鴉片，會影響中國鴉片的銷售 (C)鴉片進口會使許多人失業 (D)鴉片的售價太高昂，民眾消費不起。(1-2)
29. 附表是中國在西元 1890~1910 年之間，外國在中國設廠的資本額統計表。請問：由此統計表顯示出來的數據可知，這樣的變化應該與什麼有關？
(A)英法聯軍之役戰敗 (B)《馬關條約》的簽訂 (C)鴉片戰後開港通商 (D)清廷成立專責的總理衙門。(2-2)

年代 (西元)	資本額
1890	2,915
1895	4,634
1900	11,388
1905	16,201

30. 穎莎說道：「遼東半島最後並未被割讓，日本控制東北地區的企圖也因此被破壞了，使日本懷恨在心，奠下日後日本與俄國之間的衝突。」請問：遼東半島未被割讓的原因為何？
(A)俄國引發戰爭威脅日本 (B)清朝改割讓其他地方 (C)遼東半島的民眾群起抗議 (D)三國干涉還遼。(2-3)
31. 伯萊特是一位法國的傳教士，他在 19 世紀來到中國遊玩，一路沿著長江沿岸一帶的江寧、九江、漢口……四處觀光，一面繼續宣傳天主教思想，他覺得中國真是個風景秀麗的國家。請問：伯萊特最有可能是什麼時候來到中國的？
(A)乾隆年間 (B)英法聯軍以後 (C)英法聯軍爆發以前 (D)鴉片戰爭前。(1-3)
32. 海參崴(今名：伏拉迪沃斯托克)位於烏蘇里江以東，三面臨海，有優良的港灣，是俄羅斯在遠東地區最大的

城市，也是俄羅斯太平洋艦隊司令部所在地。但這個地區原本是中國的領土，卻在下列哪個條約中，割讓給俄國？
(A)《南京條約》 (B)《天津條約》 (C)《璦琿條約》 (D)《北京條約》。(1-4)

33. 昀儒在複習歷史時，做了某次改革内容的整理，如附表所示。請問：由表中的内容可知是哪場改革運動？
(A)自強運動 (B)大化革新 (C)戊戌變法 (D)皇民化運動。(2-4)

項目	內容
政治上	精簡政府的機構，鼓勵臣民評論時政。
經濟上	提倡工商業。
教育上	廢除八股考試，建立京師大學堂等新式學堂。

34. 中國在自強運動期間，陸續遭遇幾場外來勢力的挑戰，使中國逐漸喪失對周圍藩屬的宗主權，下列有關侵略國與掠奪藩屬的配對，何者是正確的？
(A)英國——琉球 (B)日本——朝鮮 (C)法國——緬甸 (D)德國——越南。(2-1)
35. 根據水果日報報導：「隨著智慧型手機的普及化，許多汽機車駕駛人常邊駕駛邊玩手機，或是等紅綠燈時滑手機，造成交通秩序混亂。為改善此現象，政府修訂相關法律條文加以規範。」上文敘述最能體現下列哪種觀念？
(A)人民須遵守法律 (B)政府要依法行政 (C)法律內容必須與時俱進 (D)法律是最低限度的道德。(CH1)
36. 星星大學畢業後，決定到英國旅遊三個月，回台灣再找工作。請問：星星出國旅遊是屬於《憲法》保障人民的何種自由權？
(A)表現自由 (B)人身自由 (C)集會及結社自由 (D)居住及遷徙自由。(CH2)
37. 我國《憲法》規定了人民的基本義務，下列何人的行為顯示盡到人民的「基本義務」？
(A)花花就讀花花國中八年級 (B)文文經常在個人臉書表達對政府政策的看法 (C)霖霖向當地區公所請領低收入戶生活補助金 (D)小小通過國家考試，擔任公職人員。(CH2)
38. 政府制定《廢棄物清理法》，以有效清除及處理廢棄物，除了(甲)可以改善環境衛生，也是為了(乙)維護國民健康的權利。根據内容判斷，甲、乙依序是指法律的哪種「功能」？
(A)保障人民權利、促進社會進步 (B)促進社會進步、保障人民權利 (C)維護社會秩序、促進社會進步 (D)維護社會秩序、保障人民權利。(CH1)
39. 小獎是某航空公司空服員，為了爭取自己的權益，號召同事聚集在公司大樓前表達他們的訴求。上述空服員的行為符合《憲法》保障的哪些基本權利？
(A)意見自由、參政權 (B)集會自由、受益權 (C)人身自由、受益權 (D)集會自由、平等權。(CH2)

40. 「誹謗」是指散布足以毀損他人名譽的事情。所以誹謗他人並不在言論自由保障的範圍內。這是基於下列何種情況可以依據【憲法】第23條規定，限制人民的基本權利？(A)防止妨礙他人自由(B)增進公共利益(C)維持社會秩序(D)避免緊急危難。(CH2)
41. 下列有關法律層級的配對，兩者的層級是「不相同」的？(A)《中華民國憲法》→《中華民國憲法增修條文》(B)《國民教育法》→《地方稅法通則》(C)《勞工請假規則》→《人民團體獎勵辦法》(D)《全國原住民族運動會舉辦準則》→《電影法》。(CH1)
42. 日前「愛的迫降」和「梨泰院Class」等韓劇火紅，所以有時往往記者會吸引讀者和提升收視率，常會發生跟拍某位藝人，但藝人認為記者的行為已侵害個人權益，而報警處理。然而，記者往往認為其具有採訪的權益，不應被處罰，決定聲請釋憲。」上述新聞凸顯出下列何種「權利衝突」？(A)媒體的自由權與藝人的平等權(B)媒體的自由權與藝人的隱私權(C)媒體的平等權與藝人的受益權(D)媒體的工作權與藝人的生存權。(CH2)
43. 憲法的修改必須慎重與周延，因此修改程序最為嚴謹，由制憲國民大會制訂，修正由立法院提案，公民投票複決。請問：這是憲法的何種「特性」？(A)原則性(B)普遍性(C)最高性(D)固定性。(CH1)
44. 盈盈大學畢業後通過公務人員考試及格，目前在新北市政府機關擔任行政人員。上述盈盈的行為是行使下列哪項人民的「基本權利」？(A)參政權(B)受益權(C)平等權(D)自由權。(CH2)
45. 言言具有低收入戶資格，依法規定低收入戶可以向戶籍所在地直轄市、縣(市)主管機關申請生活扶助。請問：此項規定主要是落實《憲法》保障人民的何種基本權利？(A)工作權(B)參政權(C)生存權(D)財產權。(CH2)
46. 花花國中校園中哪一個處室的公告內容，有利達成「實質平等」？
(A)體育組：班際排球比賽，各班速交參賽選手名單(B)註冊組：低收入戶需檢附文件，才能給予學雜費補助(C)輔導室：對技藝教育有興趣的同學，請即早來報名(D)訓育組：欲投稿校刊者，請務必尊重智慧財產權相關規定。(CH2)

城城是花花國中八年級學生，父親因中風無法工作，家中經濟重擔全靠母親打零工維生，城城的哥哥領有身心障礙手冊，所以平時只有他能夠分擔家務及照顧弟妹，假日還得打工賺錢，最難能可貴的是他的成績及體育專長都表現優異。他希望將來可以參加公職考試，獲得一份穩定的工作減輕母親的負擔。

47. 城城不忍母親辛苦，曾一度打算休學工作幫助家計卻被老師勸退。老師說如果他休學就會違法。請問：下列何人的情況跟城城休學所違反的法律規定是「相同」的？
(A)歡歡就讀大二，卻因故休學(B)加加因忙著工作選舉時沒有去投票(C)安安收到兵役通知書，但藉故不去報

到(D)憲憲是一名教師，卻沒有參加教師會。

48. 城城對政治事務非常關心，未來想投入公職人員的選舉，這是行使人民哪一項基本權利？
(A)自由權(B)受益權(C)平等權(D)參政權。(CH2)

新冠肺炎(COVID-19)疫情持續升溫，根據中央流行疫情指揮中心，具感染風險者分為3類，配合方式、限制有所不同。其中一類為「居家隔離」，指曾與新冠肺炎確診病例接觸者，需進行14天的居家隔離。由衛生主管機關開立「居家隔離通知書」，進行每日2次的健康追蹤，並以手機電子監控。隔離者需留在家中或指定地點不外出、不得搭乘大眾交通運輸工具、不得出境或出國。

49. 每當國內發生重大疫情時，為防止疫情擴散，政府得依法限制相關權利，例如不得出境或出國，民眾不得拒絕和違反。這是對《憲法》哪項基本權利的限制？(A)平等權(B)受益權(C)自由權(D)參政權。(CH2)
50. 政府是基於下列哪一項理由下令「居家隔離」？
(A)防止妨礙他人自由(B)維持社會秩序(C)避免緊急危難(D)增進公共利益。(CH2)