

【讀卡科目請依規定畫卡，若有違反畫卡規定而影響讀卡作業之情事，一律扣總分五分。】

一、選擇題(每題2分，共100分)

1. 某考生參加大學學測考試，在應試數學A科目時，因未於答題卷「確認後考生簽名」欄簽名，遭大考中心依違規處理辦法扣減科目考試成績1級分，實得級分為9級分，該生及其父母父母不服，經提起(甲)遭教育部駁回後，提起(乙)。請問，根據上文內容，(甲)、(乙)依序應為下列何者?(P.183)
(A)請願、刑事訴訟
(B)訴願、民事訴訟
(C)請願、行政訴訟
(D)訴願、行政訴訟
2. 壽司店推出諧音活動，引發「鮭魚之亂」掀起改名風潮，全台逾330位民眾搶著改名，依《姓名條例》規定，申請改名，以三次為限。但未成年人第二次改名，應於成年後始得為之。請問下列何者與《姓名條例》屬於同屬性的法律？(P.178-179)
(A)《刑法》
(B)《民法》
(C)《槍砲彈藥刀械管制條例》
(D)《社會秩序維護法》
3. 行政院環境保護署為鼓勵消費者養成「自備、重複、少用」的綠色消費好習慣，規定自2022年7月1日起，飲料店、便利商店、速食店及超級市場等四類連鎖業者，應提供消費者自備飲料杯折扣至少5元價差優惠，促使消費者自備環保杯減少一次性用品產生量。若未依規定執行的門市，將依某法規定處1,200元以上、6,000元以下罰款。根據上文內容，下列敘述何者正確？(P.178-181)
(A)某法為《廢棄物清理法》
(B)最高可處新臺幣6,000元為罰金
(C)環保署針對業者應提出的優惠屬於「行政罰」
(D)某門市因為依規定受罰，負起民事責任
4. 民間團體指出，約有11%的15歲少年進入工地工作，遠高於16~18歲的年齡層，代表著此年齡的少年因經濟需求而去找工作，但求職管道與技能不足等原因，容易落入高風險職場。關於未成年勞動問題的敘述，下列何者正確？(P.191-193)
(A)畫線部分應遵守《兒童及少年福利與權益保障法》
(B)畫線處提及的少年，未達童工的法定年齡
(C)雇主將因違法讓少年從事危險性工作而受罰
(D)少年的同事會被視為是性剝削行為的加害人
5. 小蘭升上國中後人際關係適應不良，因此沉溺於交友軟體中，八年級時結識了已成年網友小新，彼此互動頻繁，還以老公、老婆互稱對方。某日小新希望小蘭能自拍



裸照並透過通訊軟體傳送給他看，隨即將裸照轉傳IG，讓小蘭陷入恐慌。針對上述情況，下列哪一項敘述最為正確？(P.191-193)

- (A)小新行為已經違法，涉及《兒童及少年性剝削防制條例》
(B)小蘭可依《家庭暴力防治法》聲請核發保護令
(C)若小蘭經過思考後的自願行為，就不涉及法律問題
(D)小新違反《兒童及少年福利與權益保障法》，將科處罰鍰。
6. 2023年4月20日某17歲少年在當舖前，從背包內拿出槍枝對著當舖掃射51槍，開完槍後直接坐回計程車，並跟司機表示要前往派出所準備攜槍投案。警方偵訊約12小時後，依法將少年先移送新北地檢署複訊，隨後才送新北地院少年法庭，建請收容。依據上文，該名少年最不可能面臨下列何種處罰？(P.194-195)
(A)有期徒刑
(B)判處拘留
(C)科處罰金
(D)保護處分
7. 父母放任少年抽菸、飲酒或出入酒家等有害身心健康的場所，可能面臨下列哪些處罰？(甲)有期徒刑(乙)罰鍰(丙)接受親職教育輔導(丁)罰金(戊)拘役(P.191-193)
(A)甲乙
(B)乙丙
(C)丙丁
(D)丁戊
8. (承上題)該父母的行為，明顯違反下列何項法律的規定？(P.191-193)
(A)《兒童及少年性剝削防制條例》
(B)《刑法》
(C)《少年事件處理法》
(D)《兒童及少年福利及權益保障法》
9. 美麗的公民老師要求學生以「行政法和人民的生活」撰寫專題報告，同學們因此到圖書館尋找相關參考書籍和資料。下列何組書籍資料最有可能符合同學們的需求？(P.178~179)
(A)《兒童及少年性剝削防制條例》、《戶籍法》、《公職人員選舉罷免法》
(B)《集會遊行法》、《道路交通管理處罰條例》、《所得稅法》
(C)《少年事件處理法》、《性別平等教育法》、《刑事訴訟法》
(D)《刑法》、《勞動基準法》、《全民健康保險法》
10. 國民教育法第13條：「國民小學及國民中學學生修業期滿，成績及格，由學校發給畢業證書」，是屬於何種概念？(P.180-181)

新北市立中正國民中學112學年度第二學期八年級社會科第三次段考試題

範圍：公民 B4L5~6、歷史 B4L5~6、地理 B4L5~6 班級：_____ 座號：____ 姓名：_____

(A)行政責任 (B)行政罰 (C)行政處分 (D)行政管制

11. 依敘述，將下列四位同學的年齡由小到大排列，正確為何？(P.191-195)

甲、胖虎求女友復合不成當場縱火，依法不得減輕處罰

乙、妮妮剛好符合《勞動基準法》的童工年紀

丙、小花明年將不受《兒童及少年福利與權益保障法》所保護的對象

丁、正男與鄰居發生口角，持刀殺死鄰居，依《少年事件處理法》移送法辦，判處保護處分

(A)甲丙丁乙

(B)丁乙丙甲

(C)乙丙丁甲

(D)乙丁丙甲

12. 近年來常發生行人遭車輛撞擊的重大交通事故，為洗刷臺灣「行人地獄」的污名，立法院修改部分條文，加重汽、機車駕駛不禮讓行人的罰則，而警方也加強取締未禮讓行人等違規行為。請問未禮讓行人的駕駛所需負起的責任類型，與下列何者相同？(P.180-181)

(A)早餐店與雞蛋供應商預訂雞蛋，供應商未如期交貨

(B)駭客侵入企業的系統，取得其商業機密並外流洩漏

(C)排隊名店未開立發票，遭國稅局勒令停業一個星期

(D)大雄一群人在空地打棒球，不慎將鄰居的玻璃打破

※13至14題為題組，閱讀下列圖文後回答問題：

司法院大法官公布釋字第805號解釋，指出《少年事件處理法》第36條及其他少年保護事件之相關條文，均未明文規範被害人(及其法定代理人)於少年保護事件處理程序中得到庭陳述意見，不符憲法正當法律程序原則之要求，有違憲法保障被害人程序參與權之意旨而違憲。

13. 下列哪一項案件在分類時，不會以少年保護事件的方式處理？(P.194-195)

(A)17歲少年持水果刀抵住超商店員的頸部，喝令店員打開收銀機，並將收銀機內的現金搜括一空

(B)16歲少年無正當理由攜帶危險器械到校，並秀出給同學看

(C)14歲少年偷拿走同學放在書包的金錢，並立刻去合作社花掉

(D)14歲少年因不滿同學調侃其段考成績，且對方還不斷動手巴頭，讓少年忍無可忍，直接拿出美工刀朝同學揮砍，導致同學當場血流如注

14. 在保護處分種類中，何者屬於「把少年安置到兒童及少年福利、教養、醫療機構、執行過渡性教育措施或其他適當措施之處所生活，由機構照顧輔導」？(P.194-195)

(A)假日生活輔導

(B)保護管束

(C)安置輔導

(D)感化教育

15. 「少年刑事案件」係指少年行為時年滿14未滿18歲，再加上有下列何種情況者？(P.194-195)

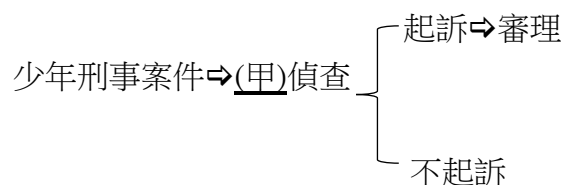
(A)最重本刑為5年以上有期徒刑之罪

(B)最重本刑為10年以下有期徒刑之罪

(C)最輕本刑為10年以上有期徒刑之罪

(D)最輕本刑為5年以上有期徒刑之罪

16. 下圖為公民老師繪製在黑板上，有關少年事件的部分處理程序：



其中「甲」機關不具有以下何種職責？(P.194-195)

(A)負責執行少年刑事案件中的刑罰

(B)負責偵查少年是否有犯罪行為

(C)對有觸法行為的少年提起公訴

(D)訊問犯罪當事人做出保護處分

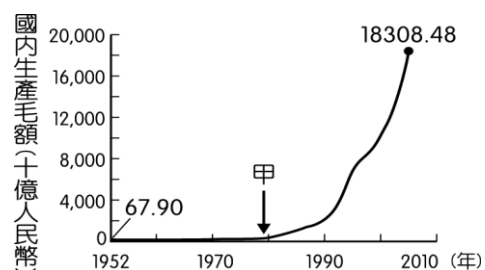
17. 下圖呈現中國 1952 年至 2005 年國內生產毛額的數據資料。圖中曲線從甲處後有明顯變動的情況，最可能與下列何者有關？(P.116)

(A)利用韓戰爆發契機，提高進口關稅

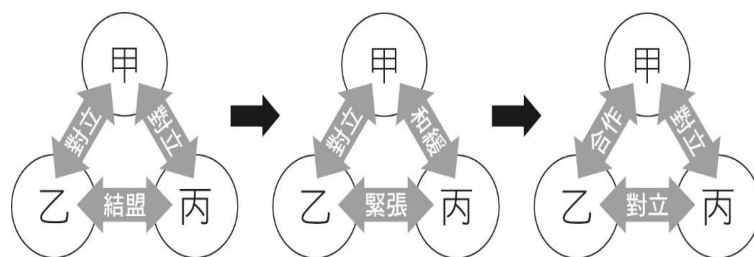
(B)大躍進提倡生產，民眾盡全力煉鋼

(C)發動文化大革命，進行全面的改造

(D)實施改革開放政策，引進外來資金



18. 國際關係錯綜複雜，今日的朋友也許是明日的對手。下圖是 1950 至 1970 年代三個國家間關係的變化過程，請你判斷圖中甲、乙、丙依序應為哪一國家？(P.126)



(A)中共、美國、蘇聯

(B)美國、中共、蘇聯

(C)蘇聯、美國、中共

(D)蘇聯、中共、美國

後面尚有試題，請繼續作答

19. 鄧小平去世時，中共高層發布悼詞：「1980年代末、1990年代初，國內外發生政治風波，黨和政府鄧小平同志與其他老同志堅決有力的支援下，依靠人民，旗幟鮮明地堅持四項基本原則，堅決維護國家的獨立、尊嚴、安全和穩定……。」請問：悼詞中的「國內外發生政治風波」包括下列哪一事件？(P.118)

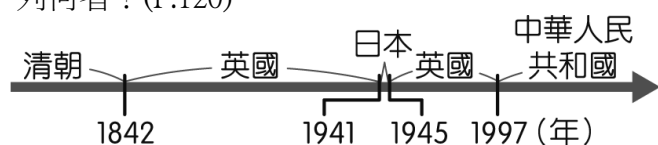
(A)文化大革命
(B)國共內戰
(C)大躍進
(D)六四天安門事件

20. 1950年代，美國為了圍堵亞洲共產國家的強盛，因此仿效歐洲北大西洋公約國家組織，也積極在亞洲推動反共組織的成立。但因為後來世界大國不再提供經濟援助，與會會員國自身政局不穩，或實力不足，再加上其他東南亞國家不願捲入美蘇主導的世局，最後這個反共組織在1977年宣布解散。

請問：該組織主要是為了圍堵哪個國家而成立？(P.127)

(A)中華人民共和國
(B)中華民國
(C)大韓民國
(D)菲律賓

21. 下圖呈現的是某地不同時期統治者的演變情況，此地最可能是下列何者？(P.120)



(A)琉球 (B)香港 (C)澳門 (D)臺灣

22. 下列幾項事件發生在毛澤東逝世(1976年)後？(P.121)

(甲)大躍進
(乙)六四天安門事件
(丙)深圳設置經濟特區
(丁)文化大革命
(戊)澳門回歸中國

(A)1項 (B)3項 (C)4項 (D)5項

23. 《紅十字～女人的入伍令》是2015年日本TBS電視為紀念第二次世界大戰後70周年而拍攝的日劇，劇中描述一位日本女孩決定到滿洲國當護士，之後成為解放軍，並前往朝鮮半島支援戰爭，最終得以回到日本的故事。請問：劇中女主角為何會在解放軍的帶領下進入朝鮮半島？(P.124)

(A)八年抗戰攻打日本 (B)國共內戰攻打國民黨
(C)抗美援朝攻打美軍 (D)西安事變攻打國軍

24. 佳佳誤打誤撞來到了1980年代中國，請問她可能會看到什麼事情？(P.126)

(A)中國與蘇聯因為邊界糾紛爆發衝突
(B)美國總統尼克森訪華，是中、美關係正常化的開始
(C)蘇聯領導人戈巴契夫訪問中國，雙方恢復正常交往
(D)以上皆有可能看到

25. 下表是1996年，中國大陸沿海地區與內陸地區「平均每人GDP」(平均國民所得，單位：美元)的統計資料。請問造成表中數字差異的主要因素是？

(P.116~P.117)

(A)經濟特區的設置
(B)民工的人口移動
(C)四項現代化建設
(D)公共食堂的興衰

26. 西元1987年中國大陸的糧食產量較西元1978年大幅增加，從糧食進口轉變成世界重要的糧食出口國。此種現象與中華人民共和國實施的哪一項政策關係最密切？(P.119)

(A)推動經濟責任制，敦促國營企業收購農漁牧產品
(B)整合農、林、漁、牧業共同管理，提供農民補助
(C)改革農村，開放農產品市場，農民耕種意願提高
(D)開放外國企業投資農產品，並直接外銷世界各國

27. 1950至1960年代，聯合國與西方世界主要國家尚未承認中華人民共和國的政權。當時中華人民共和國在國際上主要的盟友是哪一個國家？(P.124、P.126)

(A)日本，因為中日均為亞洲主要國家
(B)韓國，因為中韓尋求合作對抗日本
(C)越南，因為中越同為共產主義國家
(D)蘇聯，因為中蘇結盟一起對抗美國

28. 電影「阿甘正傳」中有一個橋段是桌球高手阿甘被選赴中國大陸進行比賽，使他「和共產黨交手的方式，從在越南用步槍，變成在中國用球拍」。請問這段情節描述的歷史背景為何？(P.126)

(A)美國決定與中華民國斷交
(B)中華人民共和國欲藉此提升在國際運動賽事的表現
(C)美國和中華人民共和國試圖搭起友誼的橋樑
(D)中華人民共和國同時與蘇聯和美國友好，將有助其發展外交關係

29. 右圖為菲律賓在1950年代廣為宣傳的海報，圖中有一名持刀的菲律賓人對著某樣東西揮舞。請問：由圖可知，當時的菲律賓，應該和下列哪一個國家較為友好？(P.127)

(A)北韓
(B)中華人民共和國
(C)蘇聯
(D)美國



背面尚有試題，請翻頁繼續作答

第 30 題、第 31 題為題組，請根據文章內容回答問題：

「從形式來看，1989 年的天安門事件很像 70 年前的五四運動，都是以(甲)為中心，然後擴向全國各大城市；也都是以(乙)為中心，然後吸引社會其他各階層參加。……事件的發生，是兩個因素的互動所致。一方面是鄧小平改革政策的內在矛盾；另一方面則是中共內部的繼承人問題，不同的繼承人對(乙)運動有不同的看法；有主張強硬鎮壓的，也有主張溫和互動的……。」
引自：陳永發《中國共產革命七十年》

30. 請問：上文中的(甲)是指哪一個城市？(P.118)
(A)南京 (B)北京 (C)上海 (D)西安
31. 上文中的(乙)是指哪一種身分的人？(P.118)
(A)軍人 (B)商人 (C)農民 (D)學生

第 32 題至第 33 題為題組，請根據文章內容回答問題：

2020 年 9 月 9 日，某個國際組織會員國的外交部長展開線上高峰會，會議上討論的議題有：中國對南海和平的威脅、美中競逐下與會會員國該如何自保、南海主權歸屬(北京方面宣稱擁有南海主權，但與會國的越南、菲律賓、馬來西亞也擁有南海主權)、朝鮮半島逐漸升溫的緊張關係對經濟的影響。另外會議上越南作為主席，也提醒與會國，新冠肺炎疫情會奪走各國好不容易發展起來的經濟果實。

32. 請問：該國際組織應該是下列何者？(P.128)
(A)APEC (B)SEATO (C)ASEAN (D)UN
33. 目前該組織積極與鄰近的三大經濟體合作，不包括下列何者？(P.128) (A)中國 (B)日本 (C)南韓 (D)臺灣
34. 廣為人知的古埃及文明為世界四大古文明之一，然而在非洲的其他地區當時卻少為人知。阻隔古埃及文明傳播至非洲各處的原因最可能為何者？(P.58)
(A)廣大高原 (B)陡峭海岸
(C)裂谷橫貫 (D)浩瀚沙漠
35. 分層設色圖是在地形圖上，以不同顏色表示不同高度，下列何地理區在小範圍內顏色變化最為明顯？(P.59)
(A)剛果盆地 (B)東非大裂谷
(C)尼羅河三角洲 (D)撒哈拉盆地
36. 有關漠南非洲多數地區的人口特徵，何者最符合事實？(P.70)
(A)勞動力嚴重不足 (B)移入率大於移出率
(C)貧窮人口比例較高 (D)低出生率、高死亡率
37. 右圖為公平貿易標章，圖樣呈現了一個人在藍天綠地中揮手歡呼的意象，此組織主要是想幫助非洲農民解決何項問題？(P.74)
(A)農業收入微薄
(B)飲用水不潔
(C)糧食作物缺乏
(D)電力設備不足
38. 國際影視串流平台 Netflix 表示，自 2016 年以來在非洲已投資 1.6 億歐元，未來將持續擴大在非洲的投資項目，且深信能為未來的營收帶來重大貢獻。Netflix 大力投資



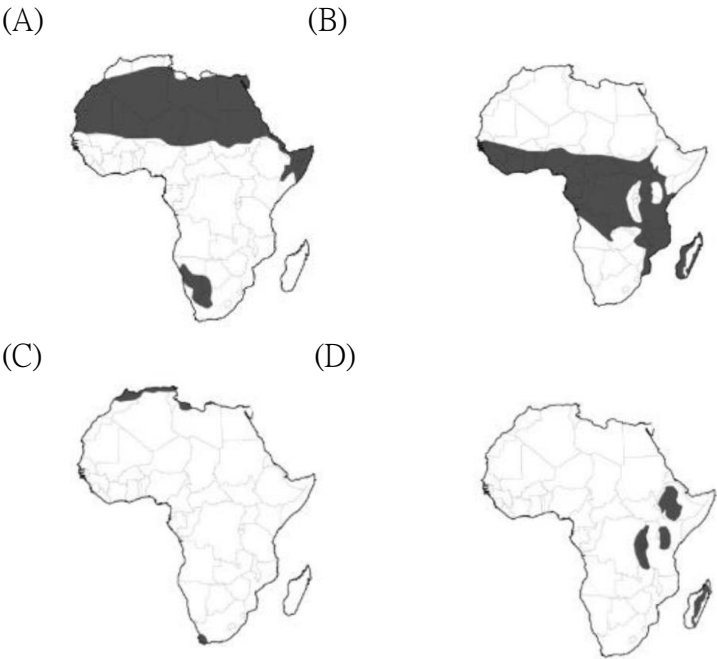
非洲市場，主要是看上其具有何項優勢？(P.70)

- (A)自然資源豐富 (B)潛在消費市場
(C)充足糧食供應 (D)完善基礎建設
39. 「此國在漠南為經濟發展較佳的國家，但卻有一段黑暗的過去，白人政府在1948年實行種族隔離制度，當時占多數的黑人沒有行動、居住、就業的自由，黑人進入白人專屬的公共區域，一律受到懲罰，最後連聯合國也譴責此項政策，慘遭國際經濟制裁，此現象才有所改變。」上文所描述的國家可能是何國？(P.72)
(A)南非 (B)剛果
(C)衣索比亞 (D)肯亞
40. 下表為某四個國家主要的出口品項清單，請由表中資料判斷，何者最可能位在漠南非洲？(P.69)

國家	出口主要品項
甲	電腦、黃麻、紡織品、軟體
乙	小麥、汽車、石油、牛肉
丙	咖啡、可可、石油、天然氣
丁	甘蔗、稻米、煤礦、茶葉

41. 非洲各地有多起國內與國際衝突，例如非洲的盧安達在1994年爆發種族大屠殺，造成至少一百萬人遇害，造成上述問題的主因與何者密切相關？(P.67)
(A)爭奪水資源 (B)爭奪宗教聖地
(C)爭奪運河的航行權 (D)殖民時國界劃分不當
42. 全球45%的可可來自西非國家象牙海岸，然而可可農場年收入僅有1,900美元(新台幣約59,000元)，童工對農場老闆而言是最廉價的非法勞動力。迄今仍有數百萬貧困孩童被迫從事開墾雨林、噴灑農藥、搬運重達四十幾公斤的可可豆等粗重工作。《衛報》報導8名兒時在象牙海岸可可農場遭奴役的年輕人，在美國非營利人權機構協助下，雀巢(Nestlé)、好時(Hershey)等巧克力大廠提起集體訴訟，指控它們協助與教唆供應鏈中的可可農場非法奴役成千上萬孩童。上述報導突顯熱帶栽培業具有哪一特性？(P.68)
(A)西方列強的殖民歷史背景
(B)農作物產量大且單一
(C)適合種植於熱帶溼潤氣候
(D)需要大量且廉價的勞工
43. 下列關於非洲國家的敘述何者正確？(P.72)
(A)安哥拉擁有豐富的太陽能資源，在歐美技術協助下已培訓專業人才
(B)南非目前以科技研發為主，擁有非洲最大的行動通訊市場
(C)衣索比亞為非洲最大的咖啡生產國，並將著名咖啡產地申請商標
(D)剛果致力發展沙漠生態旅遊，但因運送物資港口特別發達，造成城鄉差距懸殊

44. 游耕是人類最早的農耕型態之一，估計已有一萬年的歷史又稱遷移農業，是耕地與住所均不固定的一種原始農業類型，哪一張圖最能呈現游耕的分布範圍？(P.62)



45. 漠南非洲多數居民所從事的維生活動，在部分人眼中，似乎是「落後且產量低」，但從漠南非洲的自然環境看來，卻是合乎生態平衡原則，下列經濟活動中，那些對自然環境的干擾最小？最符合生態平衡？(甲)採集(乙)漁獵(丙)採礦(丁)熱帶栽培業，正確的為何？(P.62)

- (A)甲乙 (B)甲丙
- (C)乙丙 (D)丙丁

46. 電影《血鑽石》講述的是衝突鑽石在非洲獅子山共和國的故事，會被稱為衝突鑽石，是因為這些鑽石是在血腥衝突的爭戰下所採集到的。非洲礦產豐富與當地何種自然特性最有關係？(P.58)

- (A)地質古老陸塊
- (B)氣候乾燥，岩層裸露
- (C)地勢高聳，風力強勁，侵蝕岩層
- (D)火山地形發達，熔岩凝結而成

47. 每31秒一件運動褲，經過成衣產線快速產出，透過海運，最快一週後到歐洲賣場銷售。這條台灣紡織業的產線，由39個工作站組成，每站工人只做一個單純的車縫動作，接著進入下個工作站，以確保成衣生產秒速愈快、成本愈低，愈有競爭力。上述為台灣知名紡織大廠宏遠在衣索比亞工廠的生產流程，宏遠選擇在此設廠的工業區位優勢為何？(P.70)

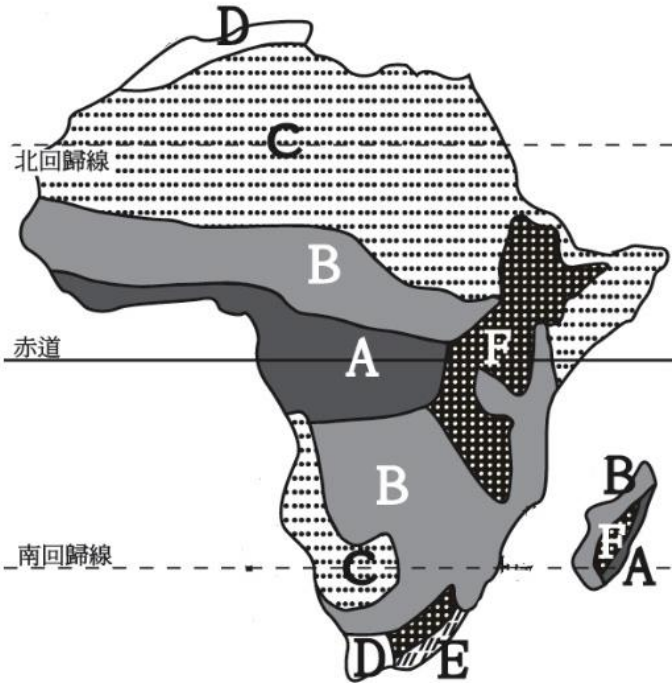
- (A)技術 (B)原料 (C)勞工 (D)交通

48. 青少年生育率是指每千名15至19歲女孩的生育率，青少年生育率對人口增長有著巨大影響，且此年齡段的高生育率也對婦女及子女的健康、經濟、教育潛力產生負面影響，表格中的甲至丁分最可能是哪些國家？(P.70)

- (A)肯亞、中國、日本、美國
- (B)埃及、剛果、美國、法國
- (C)台灣、南非、印尼、衣索比亞
- (D)南韓、印度、英國、以色列

國家	青少年生育率
甲	52胎
乙	119胎
丙	15胎
丁	5胎
亞洲平均	21胎
全球平均	42胎

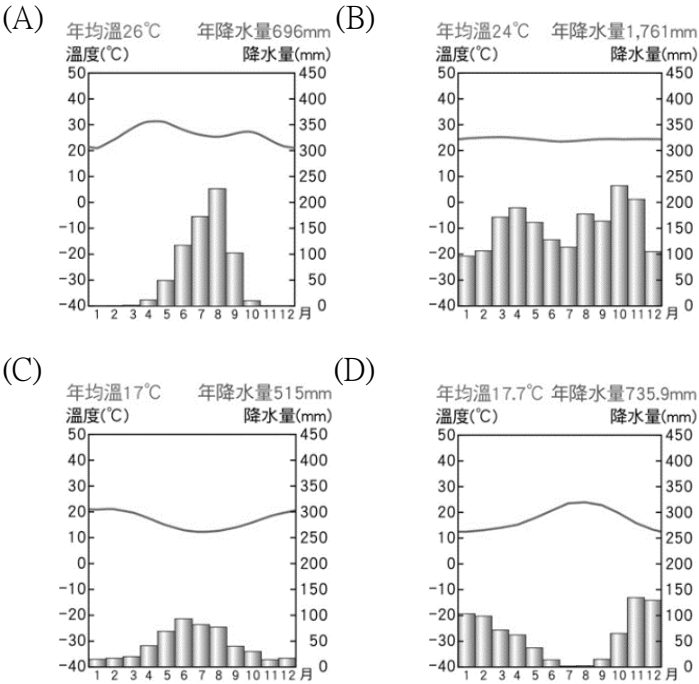
49. 下表為北半球四個地區的降雨天數統計表，根據此表判斷，何者最可能屬於下圖中的B氣候類型？(P.60)



地區	3-5 月	6-8 月	9-11 月	12-2 月	合計
甲	31.0	24.0	30.0	34.0	119.0
乙	19.3	6.8	21.4	26.4	73.9
丙	22.3	26.1	23.7	20.8	92.9
丁	10.0	44.0	17.0	0.0	71.0

- (A)甲 (B)乙 (C)丙 (D)丁

50. 承上題，哪張氣候圖最可能出現在南半球 D 區？(P.60)



試題結束