

新北市立中正國民中學113學年度第一學期七年級社會科第一次段考試題

範圍：公民 B1L1~2、歷史 B1L1~P.98、地理 B1L1~2-1 班級：_____座號：____ 姓名：_____

【讀卡科目請依規定畫卡，若有違反畫卡規定而影響讀卡作業之情事，一律扣總分5分。】

一、選擇題(17-24題每題3分，其餘每題2分，共100分)

※1 至 4 題為題組，閱讀下列圖文後回答問題：

近日有37名死囚質疑死刑違反《甲》規定之平等權、《乙》、比例原則，聲請違憲審查。大法官之間對於死刑存廢具有不同見解，釋憲案可能性較高的結果，有可能要求死刑犯必須符合國際人權公約和最嚴格審理程序才能判死。不過以我國目前司法實務案例來看，近年來幾乎很少判死，法院通常已採限縮性解釋，至於少數支持廢死的大法官，可能以不同意見書對死刑釋憲表示其主張。



- 如上文所述，現代民主國家大多將基本人權的保障規範在《甲》中，並進一步透過法律來落實聯合國各項人權公約。請問《甲》可能是下列何者? P160
(A) 民法(B) 人權法(C) 憲法(D) 世界人權宣言
- 上文中提及大法官有可能要求死刑犯必須符合國際人權公約和最嚴格審理程序才能判死。台灣為落實人權公約的精神，亦通過法律來保障人權，維護人性尊嚴。請問下列哪些是聯合國通過的國際人權公約? P159
(甲) 世界人權宣言 (乙) 少年權利公約
(丙) 兒童權利公約 (丁) 亞洲人權憲章
(A) 乙丙丁 (B) 甲乙丙 (C) 甲乙丙丁 (D) 甲丙
- 請問上文中大法官因重視《乙》權利，彼此之間對於死刑存廢存在不同見解，請問《乙》是哪個權利? P159
(A) 隱私權 (B) 生存權 (C) 參政權 (D) 人身自由權
- 若要落實公約精神，確保人權不受任意侵犯，使人民免於恐懼和憂慮，可以下列何種做法來保障人權? P160
(甲) 國家公權力遵循各項人權公約
(乙) 不分案件都要公開偵查與審理過程
(丙) 規定國家不可用任何理由侵犯人民的權利
(丁) 透過法律或公約施行法來約束政府和人民
(A) 甲丁 (B) 甲丙 (C) 乙丙 (D) 甲乙丙丁

※5至7題為題組，閱讀下列圖文後回答問題：

814 是全球慰安婦紀念日，女權團體特別舉辦悼念記者會，強調台籍的慰安婦阿嬤們，即使都已經離世仍未等到司法的正義，但女權團體仍呼籲各界重視戰爭下女性遭到性暴力的人權議題；不要忘了慰安婦女性這段苦難的歷史，記取戰爭的殘酷。而日本拒絕面對其戰時罪行支付賠償金，一直是日本與鄰國之間緊張關係的源頭



- 二戰時台灣、韓國與菲律賓的平民婦女被從家中帶走，送到軍中成為慰安婦。請問若從人性尊嚴的角度來看，下列敘述何者正確? P158
(A) 身而為人，不應成為他人的工具
(B) 對人性尊嚴的尊重會隨著國家的強弱而有差異
(C) 政府規定讓每個人依其特性享有不同的人性尊嚴
(D) 人性尊嚴的保障會隨著國籍或種族不同而有差異
- 國際慰安婦紀念日，婦女救援基金會發起一人一信行動，要求日本政府正視慰安婦面臨生活困境的議題，同時呼籲台灣政府應與日本協商，還給台灣慰安婦阿嬤們應有道歉與賠償。請問發起此項活動的理由可能為何? P159



- 要求政府去簽署國際人權公約來保障慰安婦的人權
(B) 要求給予受害者生存權與財產權的保障
(C) 禁止本國政府隨意侵害人權
(D) 關懷弱勢群體，保障其工作權
- 上文有關慰安婦議題的關注係基於對人性尊嚴的重視，請問下列關於人權與人性尊嚴的內容，何者說法最為正確? 習作 P41



- (A) 小明、小玉
(B) 小明、小花
(C) 小玉、小花
(D) 小華、小明

※8 至 12 題為題組，閱讀下列圖文後回答問題：

2023 因戲劇《人選之人》經典台詞，「我們不要就這樣算了」展開了台灣 #MeToo 運動的浪潮。女主角鼓勵她的女助理揭露自己遭遇同事的性騷擾，並向上呈報。由受害者經驗可見職場性騷擾缺乏正式的「性騷擾受害者支持系統」，導致求助困難，其中據勞動部 2022 年調查顯示，「職場性騷擾」黑數更是超過七成。在強大的社會壓力下，政府推動了性平三法修正，最值得注目的是增訂了「權勢性騷擾」，且在刑度、罰鍰、賠償全面加重。未來雇主、機關首長涉性騷擾案件，受害者除了一般性賠償外，還能請求最高五倍的「懲罰性賠償」。

勵馨基金會

- MeToo 運動是美國演員 (Milano) 鼓勵曾受到性騷擾或性侵害的女性，勇敢說出自身經驗，讓社會重視性別暴力的問題，獲得全球至少 85 個國家，數百萬人的響應。下列何者是上述「#Me Too」運動所關心的行為? 習作 P44

新北市立中正國民中學113學年度第一學期七年級社會科第一次段考試題

範圍：公民 B1L1~2、歷史 B1L1~P.98、地理 B1L1~2-1 班級：_____座號：____ 姓名：_____

- (A) 男同事故意製造機會碰觸珍珍的身體
(B) 阿嘉因男扮女裝打扮因此被公司開除
(C) 佳佳的薪資始終比相同資歷男同事低
(D) 雇主要求女性上班時必須要穿高跟鞋
9. 劇中女助理在就學時曾遭受學校教授的性騷擾，請問當時她可以何法來保障自己的權利? P168
(A) 性騷擾防治法
(B) 性剝削防治法
(C) 性別平等工作法
(D) 性別平等教育法
10. 呈第 9 題，如果她當時決定提出申訴，請問下列哪項事件處理流程的順序是正確的? P168
(甲) 被害人提出申訴
(乙) 學生事務處受理
(丙) 彙報教育主管機關
(丁) 性別平等教育委員會調查輔導
(A) 甲乙丁丙 (B) 甲丁乙丙
(C) 甲乙丙丁 (D) 甲丁丙乙
11. 請問文中女助理遭遇上司與同事的性騷擾，應以何法來保障自己的權利? P169
(A) 性別平等教育法
(B) 性別平等工作法
(C) 性剝削防治法
(D) 性騷擾防治法
12. 性別暴力的行為在社會中層出不窮，新北板橋一女學生為了占位子練舞，不小心在捷運連通道睡著，被陌生男子觸摸隱私部位，之後該男被板橋地院依照《甲》、刑法強制罪，判處 1 年徒刑。請問《甲》為下列何者? P167
(A) 性別平等教育法 (B) 性別平等工作法
(C) 性剝削防治法 (D) 性騷擾防治法
13. 北市 2016 年男廁設有尿布台比例僅 3%，至 2023 年，男廁設有尿布台比例成長至 6.79%，但增加速度仍太緩慢且數量遠遠不足，較多數的親子廁所是設在女廁；哺乳室和育嬰室多半也禁止男性進入。許多奶爸們想幫小孩換尿布時，常找不到尿布臺。根據上文所述，可推知北市出現下列何種現象？習作 P45



- (A) 性別分工不當才導致男性要帶小孩外出
(B) 性別不平等的現象已獲得大幅度的改善
(C) 性別刻板印象導致公共設施比例的失衡
(D) 公共設施提供不足顯示出政府忽視人權

14. 在台灣，寶寶 3 歲前能夠請最長可達 2 年的育嬰假，爸爸媽媽皆可申請，且 6 個月期間可以領取八成薪水。請問上述規定應屬於哪個法律的內容? P169



- (A) 性別平等教育法
(B) 性別平等工作法
(C) 民法
(D) 憲法
15. 韓國的負面流行語「媽蟲」一開始針對的是追求榮華富貴、天天享樂、帶孩子出門卻沒把小孩管教好的媽媽，後來則延伸到將專職育兒的媽媽貶低為媽蟲，認為他們整日無所事事、悠哉享樂。簡單來說，現在對於「媽蟲」的解釋可以理解為：「小孩明明已經開始上學，仍像吸血蟲一樣靠先生薪水過活的女性。」。文中韓國對全職家庭主婦的看法屬於下列何種性別不平等的現象? P166
(A) 性別偏見
(B) 性別歧視
(C) 性別刻板印象
(D) 社會性別
16. #Bluegirl 是指一位 Sahar 的伊朗女子，她因喬裝混入球場而被識破被捕，最後因而引火自焚，以死明志。她生前喜歡的球隊為藍色球衣，因此被稱為「藍色女孩」。請問伊朗禁止女性入場觀賽的規定屬於下列哪一個性別不平等的現象? P166
(A) 性別偏見
(B) 性別刻板印象
(C) 性別歧視
(D) 性騷擾防治

請翻頁繼續作答

新北市立中正國民中學113學年度第一學期七年級社會科第一次段考試題

範圍：公民 B1L1~2、歷史 B1L1~P.98、地理 B1L1~2-1 班級：_____座號：____ 姓名：_____

17. 時間的觀念對歷史研究非常重要，不同的族群使用不同的紀年方法，以便記錄事件發生的時間。請問：下列何者是以中國古代皇帝的年號來紀年？(P.83)

(A) 令和 (B) 西元 (C) 康熙 (D) 干支

18. 臺北國際花卉博覽會的展覽中，有臺北地區考古遺址的介紹，而附圖是其中的解說。依說明內容判斷，這個考古遺址應是下列何者？(P.88)

遺址中發現成堆的貝殼，稱為貝塚。其成因是由於當時人們在水邊撈貝，食用後，將殼丟棄，久而成塚。貝塚的貝殼種類以半淡水的貝類(如烏蜆)為主，也有少數的蜷螺、牡蠣。……

(A) 大坌坑文化 (B) 圓山文化
(C) 卑南文化 (D) 長濱文化

19. 珠珠對臺灣考古研究相當感興趣，她將研究到的臺灣考古遺址概略整理如下表。從表中內容判斷，珠珠所整理的內容應是哪一地區的考古遺址？(P.88)

(A) 甲 (B) 乙 (C) 丙 (D) 丁

年代	距今 5300~2300 年前，其中又以距今 3500~2300 年前最為興盛
面積	約 100 公頃，是目前臺灣所發現最大的史前聚落
文化特徵	出土了許多石板棺以及棺內精美的玉器，是環太平洋地區規模最大的石板棺墓葬群遺址
意義	是臺灣第一個考古遺址公園，園區面積約 30 公頃



20. 十三行文化遺址出土了金、銀、銅等外來金屬器物，由此最可能顯示何種文化特色？(P.89)

(A) 屬於自給自足的農村經濟
(B) 金屬礦產是當地最重要的資源
(C) 商業是當地主要的經濟活動
(D) 對外貿易、交流頻繁

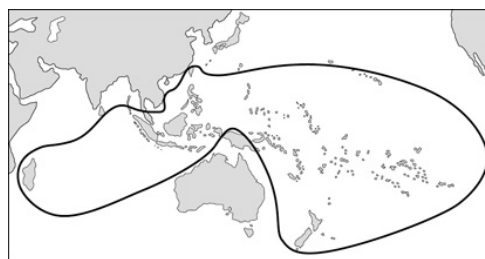
21. 《東番記》於西元1603年為中國明朝儒生陳第著作。西元1602年將領沈有容為了平定日本海盜，特別邀他前往閩南。不料於搭船期間，遇到颱風，飄到了臺灣

。事後，他根據居住臺灣將近一年的經驗寫成《東番記》。全文一千四百餘字，記述臺灣西南部沿海的原住民部落生活習俗與地理風光，為最早描繪臺灣原住民族生活的著作。《東番記》中提到的原住民部落應為下列何者？(P.91)

(A) 凱達格蘭族 (B) 貓霧揀族
(C) 噶瑪蘭族 (D) 西拉雅族

22. 宜真在作業中參考附圖，完成某一主題的研究。請問：她所研究的主題最有可能為何？(P.90)

(A) 中國沿海地形研究 (B) 臺灣原住民族的起源
(C) 太平洋的暗礁分布 (D) 史前人類分布



23. 請問布農族洪水傳說對於研究布農族歷史最主要的意義是什麼？(P.90)

(A) 提供精確的歷史事件時間軸
(B) 揭露布農族祖先的真實姓名
(C) 反映布農族人對自然環境的觀察與理解
(D) 紀錄布農族人與其他族群的戰爭史

24. 清代將原住民族區分為「生番」及「熟番」，其分類的標準為何？(習作P.22改題)

(A) 以居住地區的不同加以區分，住平地為「熟番」，住山上的是「生番」
(B) 以生活方式不同加以區分，農業維生的是「熟番」，打獵維生的是「生番」
(C) 以漢化程度及是否服勞役為區分標準，漢化較深的為「熟番」，反之為「生番」
(D) 以種族加以區分，具有漢人血統的稱「熟番」，純粹原住民血統的為「生番」

25. 清廷第一任的臺灣府諸羅縣知縣是季麒光，他曾說：「(臺灣)自海寇顏思齊踞有其地，始稱臺灣。」可見顏思齊在臺灣史上的重要性。下列關於顏思齊的說明，何者正確？(P.96)

(A) 顏思齊曾經帶領漢人開墾臺灣的雲林和嘉義地區
(B) 顏思齊的出現代表中國明朝從未實施過海禁政策
(C) 顏思齊曾經占領過臺灣並建立「臺灣高山王國」
(D) 顏思齊的出現代表臺灣進入有文字的金屬器時代

請翻頁繼續作答

新北市立中正國民中學113學年度第一學期七年級社會科第一次段考試題

範圍：公民 B1L1~2、歷史 B1L1~P.98、地理 B1L1~2-1 班級：_____座號：____ 姓名：_____

26. 明末，臺灣曾遭荷蘭與西班牙占領，當時兩國分別是以附圖中的哪兩個地區為據點，遂行其殖民亞洲的野心？(P.97)

(A) 甲乙 (B) 乙丙 (C) 丙丁 (D) 甲丁



27. 小軒去參觀歷史博物館，在「異文化相遇—十七世紀的臺灣」展區中，看到一本記錄臺灣事務的日記。請問：作者寫這篇日記的時空背景為何？(習作P.25改題)

10月7日

今天指揮官召開議會做出決議，一旦天氣許可，就要帶軍隊出發去淡水，遵照在大員的長官命令，在那裡尋找一個適當地方以興建城堡。又遵照總督閣下與東印度議會的指令，要把所有西班牙人屬下的人員，全部送去大員。……議會結束後，指揮官命令被俘虜的西班牙人與其他人，要他們立刻去小船那裡，在傍晚以前都運上船。

- (A) 西元1624年，西班牙人被沈有容趕出澎湖後，轉往臺灣北部
(B) 西元1642年，荷蘭人從大員北上，將西班牙人趕出臺灣北部
(C) 西元1664年，日本政府開始鎖國後，西班牙人被迫離開臺灣
(D) 西元1626年，西班牙與葡萄牙爭奪澳門失利，改往淡水發展
28. 目前被列為國家一級古蹟的赤崁樓，歷經大航海時代、清帝國統治時期與日治時期的變革，已不復見最初的樣貌，今日文昌閣下方的城基即為荷蘭人在臺時期原物，但有更多的舊城體仍埋藏於地底中。請問：赤崁樓的前身原為荷蘭人興建的哪一座城堡，曾為全臺灣島的商業中心？(P.98)
- (A) 熱蘭遮城 (B) 安平古堡
(C) 聖多明哥城 (D) 普羅民遮城
29. 小華欲到東北角海岸遊玩，事先查了一下著名景點三貂角的相關資料：「西元1626年，最早經營北臺灣的□□的船艦抵達臺灣東北角海域，準備進占北臺灣，經過三貂角時，為方便記載於航海日誌，用拉丁文將此地命名為San Diego (聖地牙哥)。後來漢人以閩南

語發音，將此地稱為『三貂』，又因位於臺灣最東邊的岬角，故稱『三貂角』。」請問：資料中的□□應為何者？(P.98)

(A) 荷蘭 (B) 西班牙 (C) 葡萄牙 (D) 日本

30. 十七世紀時，荷蘭和日本的貿易關係密切，甚至荷蘭還是在日本頒布鎖國政策之後，少數能到日本本土貿易的外國人。然而這並不代表雙方完全沒有衝突，伴隨著荷蘭人到臺灣殖民並逐步強化對臺控制，早就在臺灣活動的日本商人對於必須被後來者課稅感到不滿，雙方多次發生衝突，日本甚至一度禁止荷船赴日貿易。請問：下列敘述何者正確？(P.98)

(A) 日本從十八世紀初開始鎖國
(B) 荷蘭人當時在台的統治中心為聖多明哥城，位於今天的臺南市安平區
(C) 十六世紀後期，日本曾派人要求「高山國」進貢，結果無功而返。當時日本人稱臺灣為「高山國」
(D) 日本鎖國政策下，另一個能赴日貿易的是西班牙人

請翻頁繼續作答

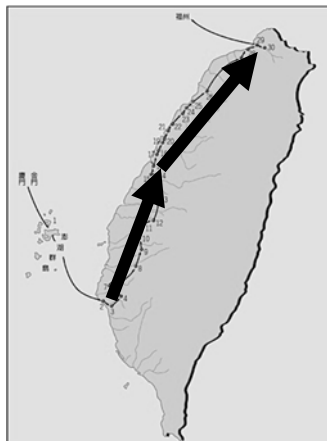
新北市立中正國民中學113學年度第一學期七年級社會科第一次段考試題

範圍：公民 B1L1~2、歷史 B1L1~P.98、地理 B1L1~2-1 班級：_____座號：____ 姓名：_____

31. 韓寒與家人中秋連假開車出遊，途中使用電子地圖導航，發現地圖上國道三號50公里到70公里處，相距10公分。請問：此時，螢幕上所顯示的比例尺最接近下列何者？(P.13)

(A)1:200(B)1:2000(C)1:20000(D)1:200000

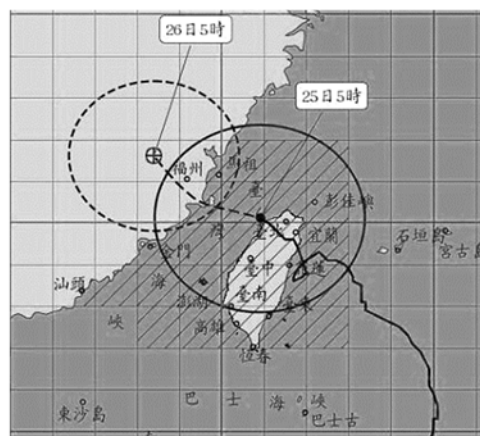
32. 清朝，郁永河從中國東南沿海出發自台南上岸，為了開採硫磺，郁永河親自率隊向台北北投的硫磺礦山採礦，路線如圖所示。郁永河在台灣島上的路線，其經緯度變化為何？



(P.23)

- (A) 緯度增加、經度增加
(B) 緯度減少、經度增加
(C) 緯度增加、經度減少
(D) 緯度減少、經度減少

33. 附圖為 113 年 7 月 25 日五時 30 分颱風凱米報告。依據附圖資料，下述何者正確？(P.23)



- (A) 7 月 26 日時颱風中心在台北的東北方

- (B) 凱米從宜蘭登陸逐漸往西北方移動

- (C) 7 月 26 日凱米颱風對全台的影响最大

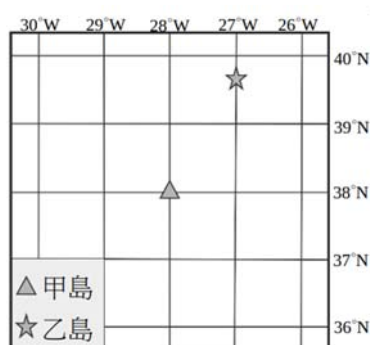
- (D) 圖中每一方格邊長為實際距離 10 公里

34. 米飛利用週末時間和一家人到木柵動物園玩，米飛在捷運站的旅客服務處，拿到兩張地圖分別是（甲）台北市觀光旅遊地圖（乙）木柵動物園導覽地圖，在兩張地圖圖紙都一樣大的前提之下，關於這兩張地圖的描述何者正確？(P.13)

- (A)甲地圖的比例尺比較大(B)乙地圖的比例尺比較小

- (C)乙地圖涵蓋的範圍較大(D)甲地圖的內容較為簡略

35. 丞丞在大西洋的甲島附近發現了一個乙島，他製作了地圖標示乙島的位置。請問甲島位於乙島的哪一方向？(P.11)



- (A)西北方

- (B)東北方

- (C)西南方

- (D)西北方

36. 接到中正國中入學通知的毛利，準備前往學校參加新生訓練。入學通知單寫上到學校的方式：

（甲）中正國中位於地方法院旁邊

（乙）搭乘捷運從海山捷運站下車，從三號出口出來

步行 10 分鐘

（丙）搭乘公車於站下車，即在學校校門口

（丁）中正國中位於金城路二段 247 號

以上說明何者屬於絕對位置？(P.11)

(A)甲(B)乙(C)丙(D)丁

37. 關於台灣與鄰國相對位置的描述，下列哪一個正確？(P.25)

(A) 台灣位於越南的東北方(B)台灣位於菲律賓的南方

(C) 中國位於台灣的東南方(D)日本位於台灣的西北方

38. 輕輕想一圓環繞世界的夢想，於是對應著世界地圖模擬開著飛機從台灣出發，沿著北回歸線往西繞行地球一周。請問輕輕依序會經過哪些洲？(P.25)

(A) 亞洲、歐洲、北美洲、非洲

(B) 中南美洲、非洲、亞洲、大洋洲

(C) 大洋洲、中、南美洲、歐洲、亞洲

(D) 亞洲、非洲、中南美洲、大洋洲

39. 右圖為全球氣候帶劃分示意圖。

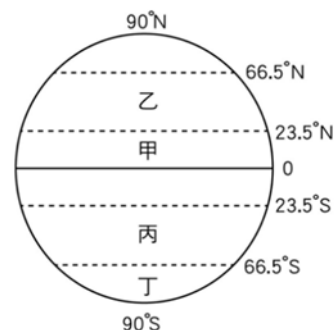
關於圖中資訊下面敘述何者正確？(P.20)

(A) 分隔甲、乙氣候帶的為北極圈

(B) 乙、丙氣候帶為熱帶氣候區

(C) 台灣位於甲、乙氣候區

(D) 丁為溫帶氣候區



40. 9/10晚間20時48分國搜中心接獲國防部通報，幻象戰鬥機在座標位置(24°42'N,120°35'E)

，疑因發動機喪

失動力，1名飛行

員於20:35跳傘逃

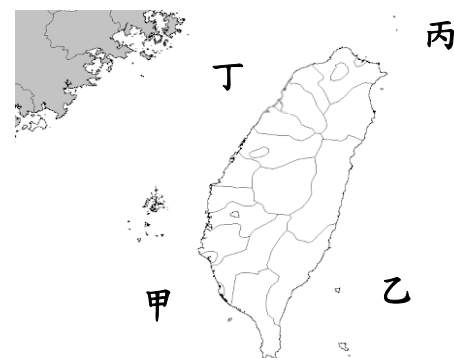
生。根據其座標

位置，最有可能是落於圖中的何

處？(P.23)

(A)甲(B)乙

(C)丙(D)丁



41. 承上題，距離該飛行員落海最近的縣市為何？

(A)宜蘭縣(B)嘉義縣(C)新竹縣(D)台東縣(P.23)

42. 聯合報整理出來

全世界有名的五

大跨年煙火勝

地，如附圖。如

果大壯想收看圖

中各城市的跨年

煙火直播秀，則他觀看的順序應該為何？(P.18)

(A) 丙—戊—甲—丁—乙

(B) 戊—甲—乙—丁—丙

(C) 甲—戊—乙—丁—丙

(D) 乙—丁—丙—乙—甲

(甲) 雪梨歌劇院 151°E
(乙) 杜拜哈里發塔 60°E
(丙) 紐約時代廣場 75°W
(丁) 英國倫敦泰晤士河岸
(戊) 台北 101

背面尚有試題，請翻面繼續作答

新北市立中正國民中學113學年度第一學期七年級社會科第一次段考試題

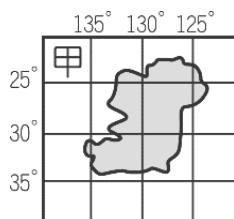
範圍：公民 B1L1~2、歷史 B1L1~P.98、地理 B1L1~2-1 班級：_____座號：____ 姓名：_____

43. 經、緯線為標示地球表面地理位置的假想線，下列關於經、緯線描述何者正確？(P.17)

- (A) 連接南、北極點的半圓弧線為緯線
- (B) 經線皆等長，皆各有 180°
- (C) 經線為赤道及與赤道平行的圓弧線
- (D) 緯線皆等長，各有 180

44. 附圖中的甲島，位於哪兩個半球？(P.16)

- (A)東、北半球(B)西、北半球
- (C)西、南半球(D)東、南半球



45. 地球表面分為海洋和陸地兩部分，

而海洋可分為三大洋，陸地則有七大洲，海陸分布不均。請問：下列何者是全球海陸分佈的特性之一？

(P.23)

- (A)海洋部分佔全球面積約 29%
- (B)全球多數陸地都位於南半球
- (C)全球一半以上的海洋位於北半球
- (D)太平洋是全世界面積最大的海洋

46. 法國為 2024

年奧運主辦

國，附圖為法國

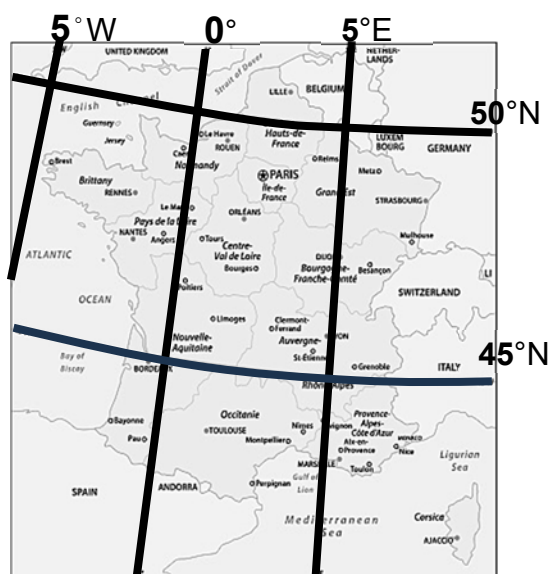
的經緯度，

關於法國的描

述何者正確？

(P.16)

- (A) 法國和台灣都是屬於西半球國家
- (B) 法國跟台灣都是屬於熱帶氣候區
- (C) 台灣晚上八點，法國為中午12點
- (D) 法國位南半球，季節與台灣相反



試題結束