

# 新北市立中正國民中學112學年度第二學期七年級社會科第二次段考試題

範圍：公民 B2L3~4、歷史 B2L3~4、地理 B2L3~4 班級：\_\_\_\_\_座號：\_\_\_\_ 姓名：\_\_\_\_\_

【讀卡科目請依規定畫卡，若有違反畫卡規定而影響讀卡作業之情事，一律扣總分 5 分。】

1. 圖(1)內容是民眾在台北市政府公共政策網路參與平台的提案，市政府提供此平台有助於匯整民眾意見的功能，這是發揮公共意見的哪一項特性？(P.154-155)



(圖 1)

- (A)公開性  
(B)影響性  
(C)差異性  
(D)不穩定性。

2. 政達設計一款桌遊，遊戲參賽者抽到各種公共意見特色的提示卡後，必須說出與提示卡相應的描述才能得分，若以圖(2)提示卡為例，應選擇下列哪一項敘述？(P.154-155)

差異性 → ???

(圖 2)

- (A)民眾在公聽會表示，是否調漲電價應付諸投票  
(B)關於核能重啟商轉，支持者與反對者各有立場  
(C)民間團體舉辦遊行，希望民眾能重視勞工議題  
(D)由於人民持續抗議，政府暫緩實施數位身分證。

3. 在民主國家，政府通常會聽取人民意見做為執政參考。根據圖(3)情境判斷，主編及同事甲、乙，正在對某種管道所蒐集到的訊息進行交流及整理，請問：此管道指的是下列何者？(P.153)



(圖 3)

- (A)政策會議  
(B)民意調查  
(C)媒體投書  
(D)遊行抗議。

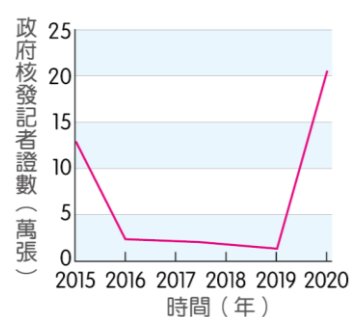
4. 在民主法治的社會，有許多表達公共意見的方式。請問：若心字的行業要受到保障，以下何項作法，最可能可以達成她的願望？(P.152-153)



(圖 4)

- (A)向政府要求落實保障言論自由權  
(B)單一意見能有效影響政府的決策  
(C)透過組織或民意代表向政府施壓  
(D)由工會制定法律保護心字的行業。

5. 甲國政府自2019年起，要求記者須通過國家領袖思想考試，才能取得記者證。圖(5)是近年該國政府核發記者證數量的變化，而表(1)則是無國界記者組織提出的全球新聞自由指數報告中，該國近年的排名狀況，排名愈前面代表新聞自由程度愈高。根據相關資訊判斷，關於甲國政府的此項作法，下列敘述何者最合理？(改寫習作



(圖 5)

時間(年)	新聞自由指數排名
2015	全球倒數第5
2016	全球倒數第5
2017	全球倒數第5
2018	全球倒數第5
2019	全球倒數第4
2020	全球倒數第4

(表 1)

P.51)

- (A)政府藉由立法，完善保障記者的新聞自由  
(B)政府管控記者報導內容，影響閱聽人思想  
(C)政府削減記者人數，管控媒體報導的內容  
(D)政府立法獎勵，具有自我監督機制的記者。
6. 日本311大地震後，造成人們對於是否持續使用核能進行思考，請問：圖(6)的情境，可以說明公共意見的何項特性？(P.154-155)



(圖 6)

- (A)公開性 (B)影響性  
(C)差異性 (D)不穩定性。

7. 台電將於今年4月1日調高電價的新聞受到相當多的關注，使得與電價相關的訊息在網路上廣泛流傳，圖(7)是芳華在網路上看到的訊息，由於她具有媒體識讀的概念，所以到台灣事實查核中心網站進行查詢，發現圖(7)的訊息與事實有差距。請問：此事顯示出媒體的行為，可能發生什麼樣的影響性？(P.156-157)

網傳「台電回饋金採登錄制，6/30前要登入，7/1截止申請，每月補貼504元」

(圖 7)

- (A)閱聽人接收多元訊息，對媒體提升信任  
(B)媒體提供錯誤訊息，造成閱聽人的誤判  
(C)政府施政受到媒體影響，導致效能低落  
(D)只有持特定立場的媒體，報導較為可信。

背面尚有試題，請繼續作答

# 新北市立中正國民中學112學年度第二學期七年級社會科第二次段考試題

範圍：公民 B2L3~4、歷史 B2L3~4、地理 B2L3~4 班級：\_\_\_\_\_座號：\_\_\_\_ 姓名：\_\_\_\_\_

8. 在資訊傳播速度極快的時代，民眾可以自由在社群網路上提供訊息或發表看法，然而訊息的正確性也隨著過於快速，而時常與事實有極大出入，甚至有些訊息內容是由人為故意造假，作為閱聽人辨識媒體訊息的方式，以下何者正確？(P.157)
- (A)確認資料來源  
(B)只看文章標題  
(C)接收單一訊息  
(D)摒除客觀訊息。
9. 今年4月3日大地震後造成花蓮多處大樓倒塌、建物龜裂與民眾傷亡，慈濟基金會號召志工前往花蓮，關懷與提供有需要者必要之幫助。請問：慈濟基金會在地震後的行動，符合志願結社的哪一個特徵？(P.146-147)
- (A)民間性  
(B)自主性  
(C)非營利性  
(D)組織性。
10. 「蒲公英希望基金會」以致力陪伴個人心靈、培育兒少及青年生命品格為宗旨。該會於2022年獲得英國國際社會價值協會的認證，該認證指出「此會募得每1元的捐款，對社會可產生16.81元的價值」。從「蒲公英希望基金會」獲得英國的協會認證的具體原因，顯示出該會具有何項志願結社的特徵？(P.146-147)
- (A)民間性  
(B)自主性  
(C)非營利性  
(D)組織性。
11. 「志願結社」則是人民基於自由意願，為實現長期的特定目標，共同結合成一獨立運作的組織。下列有關「志願結社」的敘述，何者正確？(P.146)
- (A)志願結社所形成的團體是在政府控制領導下成立  
(B)志願結社的權利一般容易出現在威權專制的國家  
(C)志願結社是《憲法》保障人民自發組成團體的權利  
(D)志願結社的收入會平均分配給組織內會員或員工。
12. 某政黨是「由一群關心台灣整體利益的民眾所組成」，希望民主、自由、多元、開放、法治、人權、關懷弱勢、永續經營之普世價值在台灣得以具體實現。請判斷引號內的敘述為志願結社的哪項特徵？(P.146-147)
- (A)民間性  
(B)組織性  
(C)自主性  
(D)非營利性。
13. 四位同學正在討論對團體的看法，下列哪個人的觀念較為正確？(改編習作P.46)
- (A)小芬：「國中生由於未滿20歲還不能加入團體。」  
(B)小珊：「加入幫派是法律賦予人民的權利保障。」  
(C)小威：「為促進個人成長，唯有參與公益團體。」  
(D)小君：「團體可凝聚眾人力量，影響政府決策。」

14. 根據圖(8)中的對話情境，小如耗費時間與心力參加的團體最可能是下列何者？(P.144)



(圖 8)

15. 有關中華職棒球員工會重視的工作事項，舉例如下：一、協助會員於參賽及集訓期間的保險。二、在賽事有衍生收益時，若收益為球員直接相關，則應分配球員或球員工會。請依據上述內容判斷，此工會成立的目的？(P.145)
- (A)保障勞工權益為主  
(B)是資方組成的團體  
(C)預防勞工遲到卸責  
(D)促進同業間的競爭。
16. 參與學校的社團活動，成為國中生參與團體的難忘經驗與人生記憶。下列四位學生談論到參加社團對自己的影響，何者是以達成共同目標為目的？(改寫習作P.46)
- (A)雅筑：「我參加國樂社，發現自己愈來愈積極練習，在那個環境裡，因為大家都很厲害，讓我有提升自我的動力。」  
(B)宜德：「我參加管樂團時，曾與社團學長姊起過衝突，那次經驗讓我學習到化解矛盾的方法。」  
(C)丞傑：「我國一參加攝影社、國二參加烹飪社。因為我不是很喜歡念書，所以想藉由社團活動來探索興趣，了解自己。」  
(D)怡甄：「在籃球隊裡，我們會一起為了下次能進入全國比賽的資格而勤加練習。」

下頁尚有試題，請繼續作答

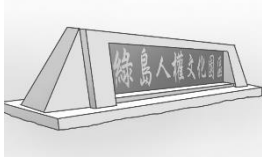
# 新北市立中正國民中學112學年度第二學期七年級社會科第二次段考試題

範圍：公民 B2L3~4、歷史 B2L3~4、地理 B2L3~4 班級：\_\_\_\_\_座號：\_\_\_\_ 姓名：\_\_\_\_\_

17. 臺灣某大學於1955年訪問一位出生於1885年的原住民長老。訪問途中，研究者發現長老說話經常參雜了三種語言。下列三種語言，長老一生中學習的順序為何？  
甲、日語；乙、國語；丙、族語。(P.86,98)

(A)甲乙丙  
(B)丙甲乙  
(C)甲丙乙  
(D)丙乙甲

18. 小孟到綠島旅行時，參觀如附圖的「人權文化園區」。這座紀念園區的設置，是在提醒大家不要遺忘民國四十、五十年代的白色恐怖。當時政府是以什麼理由製造白色恐怖的？(P.98)



(A)打倒美國  
(B)對抗日本殖民政府  
(C)反共防共  
(D)消滅黨外勢力

19. 1944年，臺灣兒童就學率已超過70%，這個數字顯示政府當時正在推動何項政策，才能達到如此水準？(P.86)

(A)推動家庭計畫  
(B)推動農業改良  
(C)推動義務教育  
(D)推動經濟建設

20. 中華民國政府遷臺後的原住民政策，對原住民的生活造成許多影響。下列何者最有可能是生活於民國七十年代前，臺灣原住民的心聲？(P.98)

(A)皓皓：我們族裡的祭典完全沒有傳承危機  
(B)康康：我們具有原住民族身分，權益獲得一定程度保障  
(C)阿鈺：我們的土地並沒有被政府、企業侵占  
(D)阿元：我與其他族人被迫使用漢名。

21. 「這次二二八事件的發生，我們的目標在肅清貪官汙吏，爭取本省政治的改革，不是要排斥外省同胞，我們歡迎你們來參加這次改革本省政治的工作，以使臺灣政治的明朗，早日達成……。」上文的發表者應為下列何者？(P.96)

(A)陳儀  
(B)陳誠  
(C)臺灣總督府  
(D)二二八事件處理委員會

※22至24題為題組，請根據文章內容回答問題：

《一九九五閏八月》是一部臺灣電影，描述西元1950~1995年的中華民國，故事的主角——宋中華，小時候因為家中貧窮，所以常常吃不飽。因此他會與朋友一起上教堂，因為教堂有外國人的物資供給，不但可以吃到糖果，有時甚至可以獲得麵粉、奶粉，是當時國民重要的食物來源。

有一次，督學前來學校，詢問大家「有沒有人在校園散播謠言」，事實上，大家平常都以沉默為行事準則，避免惹上不必要的麻煩以及懷疑，畢竟在那個年代，批評政府可是觸犯法律的重罪。

時間來到宋中華的成年時期，他在服完兵役後四處找工作，但非常不順利。其中有一次，他與朋友合夥一起開設歌舞餐廳，卻沒料到碰上了國家領導人過世，國家宣布停止娛樂場所營業，以示全民哀悼，導致宋中華賠本收掉生意。

從宋中華的成長歷程，我們可以看到臺灣從民國四十年代到八十年代的社會縮影，從而體會當時的政治、社會、文化等面向，對求溫飽的老百姓所造成的影響。電影停在西元1995年，既是臺灣民主化歷程關鍵性的一年，也是兩岸關係緊張的一年。兩岸究竟何去何從，至今仍是一個難解的問題。

22. 電影情節中提到，宋中華的學生時代大家避談政治，這是怕觸犯哪一款法律？(P.97)

(A)《動員戡亂臨時條款》  
(B)《臺灣關係法》  
(C)《戒嚴令》  
(D)《刑法》

23. 電影中提到，宋中華遇到國家領導人逝世，而這位國家領導人過世之前，已經連任五屆的總統，堪稱是前無古人後無來者的紀錄。會有以上現象，是當時的政府凍結憲法，解除對總統的限制。請問：以下哪一事件之後，《中華民國憲法》才完全恢復其應有的功能？(P.100)

(A)解嚴  
(B)民意代表補選  
(C)實行地方自治  
(D)廢除《動員戡亂時期臨時條款》

24. 本片片名的由來，是因西元1995年時，我國正準備在來年進行一場重大的政治活動，而中共為表達抗議，實施大規模軍事演習，連帶使我國提高軍事戒備，形成「臺海危機」。請問：依照時間點，當時我國要進行的政治活動應是下列何者？(P.100)

(A)解嚴  
(B)總統直接民選  
(C)民主進步黨成立  
(D)廢除《動員戡亂時期臨時條款》

背面尚有試題，請繼續作答



# 新北市立中正國民中學112學年度第二學期七年級社會科第二次段考試題

範圍：公民 B2L3~4、歷史 B2L3~4、地理 B2L3~4 班級：\_\_\_\_\_座號：\_\_\_\_ 姓名：\_\_\_\_\_

※25至28題為題組，請根據文章內容回答問題：

以下三則資料是阿豪去圖書館收集而來，請根據以下資料回答下列問題：

【資料一】(甲)雜誌的〈創刊詞〉中敘述說：「……我們處在今日的台灣社會，……實在非趕緊創設民眾的言論機關，以助社會教育，並喚醒民生不可了。……所以這回新刊本報，專用平易的漢文，滿載民眾的知識，宗旨不外欲啟發我島文化，振起同胞的元氣，以謀台灣之幸福。」……最後該雜誌因戰爭爆發而逐漸沒落。

【資料二】「就拿本刊(乙)來說，批評時政的文字不僅隨著可批評的事項之增多而增多，而且也比以前批評得更直率、更嚴厲、更深入……，1957年8月到1958年2月本刊發表一系列『今日的問題』的社論以後，……我們又被戴上一頂『反共無望論』的帽子，接著又有所謂『賣國主義者』、『亡國主義者』等等罪名。除了這些文字上公開的攻擊、謾罵、構陷以外，還有或明或暗或重或輕的恫嚇與利誘……。」……最後該雜誌在1960被停辦。

【資料三】(丙)雜誌發刊詞表示：「玉山蒼蒼，碧海茫茫，婆娑之洋，美麗之島，是我們生長的家鄉。我們深愛這片土地及啜飲其乳汁長大的子民，更關懷我們未來共同的命運。同時我們相信，決定我們未來道路和命運，不再是任何政權和這政權所豢養之文人的權利，而是我們所有人民大眾的權利。」之後該雜誌在創辦的同年帶領群眾在12/10國際人權日走上街頭抗議，卻因發生警民衝突而多人被捕入獄……。

25. 請問關於(甲)雜誌的敘述何者是完全正確的？(P.88)
- (A)發行這個報紙的機構應為文化協會
  - (B)該雜誌是〈自由中國〉，積極爭取台灣社會的民主
  - (C)謀台灣幸福的方式是爭取參政權
  - (D)當時政府是台灣行政長官公署
26. 請問關於(乙)雜誌的敘述何者正確？(P.99)
- (A)當時社會推行皇民化運動
  - (B)創辦人為蔣渭水
  - (C)被停辦原因是違反戒嚴令
  - (D)評論引發的事件是美麗島事件
27. 請問這些雜誌在台灣歷史出現的先後順序應為下列何者？(P.88,99)
- (A)甲乙丙
  - (B)乙丙甲
  - (C)丙乙甲
  - (D)甲丙乙
28. 阿豪想要對三則資料進行評比，請問哪一項敘述是完全正確的？(P.88,99)
- (A)甲和丙雜誌的成員後來都有籌組政黨監督政府
  - (B)甲和乙雜誌的宗旨皆以喚起台灣人民族意識為主
  - (C)乙和丙雜誌面對的總統都是蔣中正
  - (D)三個雜誌的時代背景都在二二八事件之後

※29至33題為題組，請根據文章內容回答問題：

雯雯出生於西元1925年的臺南，小時候她跟裏著小腳阿媽住在榻榻米的房間，放學後常跪坐在和式桌旁寫功課，睡覺前必須先鋪好床墊才能就寢。長大後雯雯選擇念師範學校，畢業後就能去教書了，她平時按照學校的鐘聲上下課，作息很規律；雯雯的叔叔在臺北就讀醫學校，曾因為參加家鄉蔗農反抗事件而在法院受審入獄，當時雯雯跟阿媽還到媽祖廟拜拜，祈求叔叔平安。叔叔出獄後為了實現政治理想，還曾參加了議員選舉，到處拜票……。

雯雯有天到臺北西門町找她的好友芳子，芳子盡地主之誼，招待她到處去參訪著名景點。雯雯發現日本統治下的臺灣環境衛生做得相當好，那時警察除了宣布政令，還挨家挨戶巡視環境清潔、要求保甲居民抓老鼠、清水溝、垃圾清運等工作。當時沒有人敢隨地吐痰或亂丟垃圾……種種作為使得臺灣人口數量激增，成為當時世界人口數增加最多的地方之一。

29. 對於衛生、治安的改善，有賴總督府推行相關的制度與措施。關於日治時期總督府的相關措施，下列何者錯誤？(P.90,91)
- (A)辦理預防注射和接種
  - (B)規畫自來水系統
  - (C)宣傳守法守時的觀念
  - (D)尊重纏足辮髮以攏絡臺人
30. 芳子帶領雯雯到臺北參觀的景點，下列何者不在她們的參訪名單中？(P.92)
- (A)新公園
  - (B)林百貨
  - (C)菊元商行
  - (D)波麗路餐廳
31. 雯雯長大後最可能到下列哪種學校教書呢？(P.87)
- (A)高雄第一小學校
  - (B)艋舺公學校
  - (C)角板山蕃童教育所
  - (D)臺北帝國大學
32. 雯雯的叔叔曾加入某個政治組織，並參與臺南新化蔗農反抗警察事件而在法院受審，請問：雯雯的叔叔最可能參加的政治組織為何？(P.89)
- (A)臺灣民眾黨
  - (B)臺灣議會
  - (C)臺南街庄協議會
  - (D)臺灣地方自治聯盟
33. 日治時期雯雯的叔叔為了實現政治理念，曾經參加選舉活動，應該是在下列哪一年？(P.89)
- (A)1908年
  - (B)1915年
  - (C)1928年
  - (D)1935年

下頁尚有試題，請繼續作答

新北市立中正國民中學112學年度第二學期七年級社會科第二次段考試題

範圍：公民 B2L3~4、歷史 B2L3~4、地理 B2L3~4 班級：\_\_\_\_\_座號：\_\_\_\_ 姓名：\_\_\_\_\_

34. 下表是4個班級家長從事的產業活動，哪個班級家長主要從事服務業？(P.28)

(A)701 (B)702 (C)703 (D)704

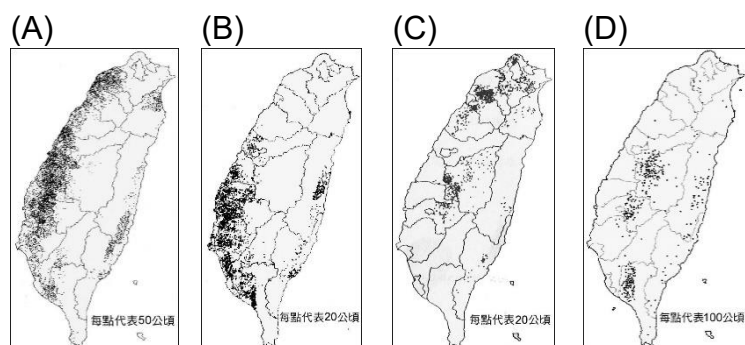
班級	行業統計
701	種植稻米20人、養殖草蝦10人、紡織廠20人
702	開旅館10人、食品加工廠20人、飼養乳牛20人
703	鋼鐵廠20人、貨運15人、餐飲店15人
704	軍公教10人、種植茶葉25人、公務員15人

35. 下圖是康師瀏覽某個政府機關的官網，根據內容，最可能屬於下列哪個行政單位？(P.28)

(A)經濟部國際貿易署 (B)經濟部能源署  
(C)行政院數位發展部 (D)行政院農業部



36. 「茶葉是我國三大農產品之一，適合種植在氣候溼潤且排水良好的丘陵上，包括北部的丘陵、臺地和中部的山地及丘陵。」根據敘述，下列哪個圖示可正確顯示茶葉的產地？(P.29)



37. 阿里山自日治時期開始擁有興盛的「甲產業」，1906年起多條鐵道深入山區輸出天然資源，集散資源的嘉義市成為當年臺灣的第四大城市。由於資源消耗與水土保持觀念的興起，民國五十年代上述產業日漸沒落。根據敘述，上述的甲產業是什麼？(P.29)

(A)砍伐森林 (B)種植水蜜桃  
(C)養殖牡蠣 (D)開採石油

38. 鮪魚是我國重要的漁獲，但產量不穩定。下列是關於增進鮪魚漁獲量的新方式，根據內容，近年增進鮪魚產量的方式是什麼？(P.30~31)

(A)將捕撈範圍擴大至公海 (B)在陸地以養殖池飼養  
(C)增加漁船在陸棚捕撈 (D)在沿海利用箱網養殖

我國近海缺少黑鮪魚的幼魚，但黃鰭鮪的幼魚資源豐富，水產試驗所將釣獲的小魚圈養在圓框式網子1~2年，魚群可在數公里範圍的海域活動，養出富含油脂、適宜做生魚片的鮪魚，具有市場潛力。

39. 瑞穗牧場位在花東縱谷平原中段，原本從事木瓜種植，民國74年的颱風使果樹傾倒無法收成，農場轉型為專門種植青草、飼養乳牛的牧場，將此地出產的鮮乳以「瑞穗」為品牌獨立經營，獲得極大的成功。請問：上述是哪一種產業活動的經營狀況？(P.31~32)

(A)傳統農業 (B)商品化農業  
(C)酪農業 (D)欄牧業

40. 我國持續推動工業轉型，近年以發展資訊工業、生物科技產業為主要方向，這2類產業都具有下列哪一項發展條件？(P.36)

(A)需大量研發資金  
(B)技術門檻較低  
(C)產品體積大、重量重  
(D)需要大量廉價勞動力

41. 台積電(TSMC，臺灣積體電路製造公司)是全球最大的晶圓代工製造商，至今在世界各地設有26座工廠，最新的4座工廠位於日本、美國，設廠的考量條件如下表。根據表格內容，到日本、美國設廠「同時」符合下列哪一項區位條件？(P.39)

(A)原料 (B)市場  
(C)交通 (D)政策

【日本設廠的特色】

- 1.直接使用日本的先進材料與像感測技術
- 2.日本員工可接受長工時
- 3.日本政府提供9千億日圓補貼

【美國設廠的特色】

- 1.採購晶片的3大廠商均為美國企業
- 2.美國員工薪資高、工時短
- 3.美國政府提供66億美元補助，近設廠成本1/10

42. 臺灣在民國50年代擁有發達的「甲產業」，擁有數千人的工廠樂於搶下歐美公司的訂單，將大量產品輸出海外。近年許多「甲產業」的廠商紛紛轉移到中國或東南亞，未能及時外移或提升產品價值的廠商，多以倒閉收場。上述的甲產業最可能包括下列哪一項？(P.37~39)

(A)蔗糖製造 (B)飲料生產  
(C)成衣製造 (D)鋼鐵生產

43. 「此地」擁有良好的交通條件，民國六十年代進行十大建設時設立鋼鐵、造船、石油化學等重工業，就近使用來自海外的煤、鐵、石油，減少原料運輸距離，使經濟產值大幅提升。上述的地點是何處？(P.40)

(A)臺北市 (B)高雄市  
(C)臺南市 (D)花蓮縣

44. 臺灣相較世界其他國家有極高的「依賴國際貿易程度」，意謂國際貿易進出口總額占國內產毛額(GDP)比例較大，需進口、出口大量商品，以維持國家經濟。臺灣主要進口與出口的商品，分別是什麼？(P.42)

(A)糧食、礦產 (B)機械、晶片  
(C)木材、鋼鐵 (D)礦產、工業產品

背面尚有試題，請繼續作答



# 新北市立中正國民中學112學年度第二學期七年級社會科第二次段考試題

範圍：公民 B2L3~4、歷史 B2L3~4、地理 B2L3~4 班級：\_\_\_\_\_座號：\_\_\_\_ 姓名：\_\_\_\_\_

45. 右圖是我國2022年的主要經貿伙伴與進、出口貿易值比例圖，由圖示內容可得知下列哪一項事實？(P.41)

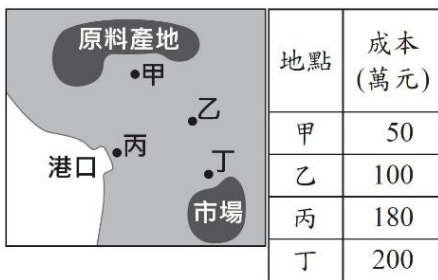
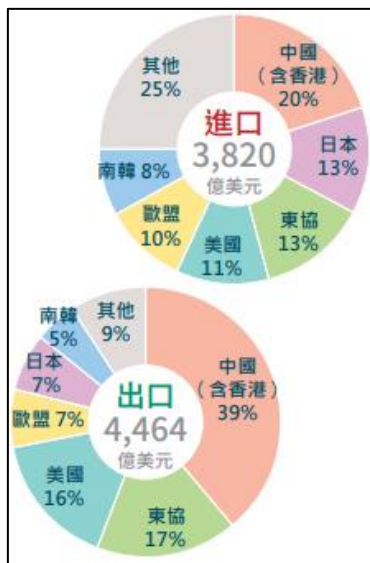
(A)貿易伙伴主要位在歐洲  
(B)日本是貿易出超的對象  
(C)對中國的出口多於進口  
(D)由美國進口晶片、出口糧食

46. 我國於民國91年加入世界貿易組織，為了落實公平競爭的貿易政策，必須開放「甲產品」的進口。由於甲產品是數萬人生計所繫，且有維持國家安全的角色，即使國外的甲產品價格僅有本地的三分之一，政府仍盡力保持在本土生產。上述的甲產品最可能是什麼？(P.44)

(A)石油 (B)稻米  
(C)成衣 (D)資訊產品

47. 王先生計畫在右圖中的甲、乙、丙、丁選擇一地開設工廠，右表呈現不同地點設廠的生產成本。根據圖示內容，王先生最可能設立下列哪一種工廠？(P.)

(A)糖廠 (B)玻璃製造  
(C)汽車組裝 (D)高科技產品



※48至50題為題組，閱讀下列圖文後回答問題：

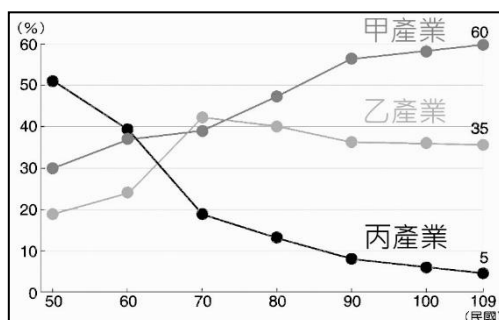
「漁電共生」是將太陽能電廠蓋在魚塢的土堤上，養殖為主、發電為輔，新的異業合作模式，不僅增加土地利用效率，且幫助漁民減輕負擔。

不過漁民憂心光電業把魚塢搶光，也擔心魚塢被填平，養殖漁業會受到衝擊，所以政府訂定「養殖漁業經營結合綠能設施專案計畫審查作業要點」，規定魚塢上太陽能板覆蓋面積必須在40%以下，且不得改變原有的養殖物種，並且要能維持70%以上的漁獲量，開發前要先取得地主及養殖戶的同意才能進行，以保障漁民的權益。

太陽能板具有冬季擋寒風降低寒害，夏季遮太陽減少池水蒸發的功效，故漁民對漁電共生的接受度愈來愈高。部分企業也有意願購買再生能源，例如：Google彰濱資料中心，目前預計將使用臺南七股漁電共生的電能。

48. 在開發漁電共生時，最可能受到衝擊的產業，屬於右圖(歷年3級產業就業人口比例)中的哪一類產業？(P.28)

(A)甲產業  
(B)乙產業  
(C)丙產業。



49. 根據上述短文，臺灣發展漁電共生的地點，主要位在哪2個區域的沿海？(P.34)

(A)北部、中部 (B)中部、南部  
(C)南部、東部 (D)東部、離島

50. 「漁電共生」的經營模式可在維持漁業經營的前提下，同時引進利潤更高的新產業，增加土地利用效率。上述的經營模式符合下列哪一項轉型經營的策略？(P.33)

(A)提升產品品質 (B)創建自有品牌  
(C)用網路自產自銷 (D)多角化經營

試題結束