

【讀卡科目請依規定畫卡，若有違反畫卡規定而影響讀卡作業之情事，一律扣總分 5 分。】

一、選擇題

※1至2題為題組，閱讀下列圖文後回答問題

知名台灣旅美設計師吳季剛和相戀十年的同性伴侶選擇至墨西哥舉行浪漫的海濱婚禮，因墨國最高法院曾裁決僅限異性婚結婚的規定違憲，並允許同性伴侶在墨國合法結婚。他曾為美國第一夫人蜜雪兒與 Lady GaGa 設計晚禮服，在設計風格上融合中西文化的精華，西式禮服巧妙融入了中國潑墨山水和東方剪紙藝術，令人眼睛為之一亮！

1. 吳季剛融合中西方元素的時尚設計十分令人驚艷，請問此種設計呈現了哪種文化意涵？(P.178)

(A) 文化傳承
(B) 文化創新
(C) 文化衝突
(D) 文化變異



2. 世界各國本皆只允許異性婚，但20世紀至21世紀，人們

的想法從開始的歧視偏見，慢慢改變為尊重與包容。社會對同志的想法也慢慢地由認為他們患了疾病，轉變為認為這是一種個人人格特質。請問這是文化哪一種特徵的展現？(P.174)

(A) 普遍性 (B) 差異性
(C) 制約性 (D) 累積性

※3至5題為題組，閱讀下列圖文後回答問題：

德國的合法結婚年齡是 18 歲，經過特別允許才可以在 16 歲結婚。但一位 14 歲的敘利亞難民與其 21 歲表哥在敘利亞已結婚，當兩人來到德國時，政府因他們違反德國法律而不承認其婚姻，並把女孩的監護權交給地方法院。男方因此向法院提出上訴，由於其婚姻符合敘利亞的法律，最後法院判定他們的婚姻有效。

3. 兒童新娘的婚姻在敘利亞有效，但在德國可能無效的原因是哪兩種社會規範的衝突？(習52)

(A) 敘利亞法律規範vs.德國法律規範
(B) 敘利亞法律規範vs.德國倫理道德
(C) 敘利亞宗教信仰vs.德國風俗習慣
(D) 敘利亞風俗習慣vs.德國風俗習慣

4. 兒童新娘的婚姻在敘利亞符合該國法律規定，並為常見的風俗習慣，請問這兩種社會規範在制裁效果方面有何差異？(P.187)

(A) 前者規範外在行為及良心；後者僅規範個人內在良心
(B) 前者國家會以公權力加以制裁；後者受到他人責備批評
(C) 前者基於良心約束產生制裁力；後者基於公權力產生
(D) 前者為非正式規範；後者為正式規範



5. 德國法院以其婚姻符合敘利亞的法律，最後判定文中男女的婚姻有效。請問下列針對法律的敘述，何者正確？

(P.186)

(A) 執政者依自己的政見即可改變法律
(B) 人民可以行使罷免權來改變法律
(C) 法律是非正式規範，具有強制力
(D) 法律的內容會隨著社會變遷而改變

※6至8題為題組，閱讀下列圖文後回答問題

霹靂布袋戲首次跨足電子音樂圈，首創的偶戲電子派對「幻境霹靂 Huan Jing PILI」登場！以環繞投影方式呈現霹靂布袋戲經典場景，帶領民眾深入霹靂宇宙，並以電子音樂元素改編霹靂經典歌曲，重塑融入霹靂戲偶表演，視覺與聲光融為一體，讓觀眾完全的沉浸在霹靂流動宇宙中。



6. 如上文，霹靂布袋戲從事掌中戲藝術多年，並參加各項活動，讓下一代能更加了解台灣特有的布袋戲文化。請問這是哪種文化意涵的展現？(P.178)

(A) 文化交流
(B) 文化斷層
(C) 文化傳承
(D) 文化創新



7. 霹靂布袋戲在台灣

很受歡迎，在西門町也常看到有民眾cosplay其中的角色。請問:cosplay文化（角色扮演）係哪種文化意涵的展現？(P.175)

(A) 主流文化 (B) 過氣文化
(C) 次文化 (D) 文化衝突

布袋戲-黃俊雄

公告日期：中華民國 98 年 11 月 24 日

發文字號：府文資字第 0982402593 號

主旨：公告登錄本縣「布袋戲」為本縣「傳統藝術」。

依據：XXXXX 法第 59 條暨傳統藝術民俗及有關文物登錄指定及廢止審查辦法第 6 條規定辦理。

8. 上圖為雲林縣文化局核准保存布袋戲為「傳統藝術」的公文，請問此公文的依據應是下列何法？(P.178)

(A) 文化資產保存法 (B) 傳統藝術保存法
(C) 古蹟保護條例 (D) 憲法

後面尚有試題，請繼續作答

新北市立中正國民中學113學年度第二學期七年級社會科第二次段考試題

範圍：公民 B2L3~4、歷史 B2L3~4、地理 B2L3~4 班級：_____座號：____姓名：_____

9. 因在電扶梯走動常發生跌倒受傷或推擠的意外，北捷近日發布新聞稿指出「手扶梯兩側皆可站立」，並會加強宣導「#緊握扶手、站穩踏階」8字訣。希望能維持良好的乘車文化，宣導正確及安全地使用電扶梯，並快速紓解人潮。請問下列敘述何者「錯誤」？



(P.185)

- (A) 民眾在電扶梯自動靠右站立是一種風俗習慣
- (B) 社會規範非一成不變，但要改變需立法院修改法律
- (C) 遵守規定不在電扶梯走動符合群己倫理
- (D) 許多人靠右站立的理由是因為大家都這麼做的從眾行為，屬於文化的制約性

※10-11題為題組，閱讀下列圖文後回答問題


「國語家庭」的認定制度是從1937年（昭和12年）開始實施，條件有二：一為全家人都使用日語，二為過著「皇民式」的生活，包括奉祀神宮大麻（祭拜日本天皇祖先天照大神）、改善廳堂（廢棄傳統信仰）、改穿和服。「國語家庭」不只是一種榮耀，更可享受許多的優惠，如考慮准其子女進小學校或中等學校。國民政府來台後也大力推動國語政策，在學校禁用方言



10. 國語家庭制度認為說母語者較低俗，用國語者則較優秀，要廢棄傳統信仰，改祭拜日本天皇祖先。請問國語家庭制度屬於下列何者？(P.176)

- (A) 文化交流
- (B) 弱勢文化的展現
- (C) 文化傳承
- (D) 文化位階

11. 客家人在1988年12月28日發動「還我母語運動」遊行，當期的「客家風雲」以戴上「X」口罩的孫文當封面人物，諷刺若孫文還活著的話，也不能在台灣講母語。請問這屬於哪一種文化現象？(P.177)



- (A) 文化衝突
- (B) 文化傳承
- (C) 次文化
- (D) 文化創新

12. 為了落實平等，法律規定「中央教育主管機關應於國民基本教育各階段，將國家語言列為部定課程。」請問應是下列何法？(P.179)

- (A) 憲法
- (B) 文化資產保存法
- (C) 國家語言發展法
- (D) 文化創意產業發展法



13. 某女子在網路上認識一名男子，贈送對方多項禮物並提供金錢資助，不料交往一段時間後，男子移情別戀，女子控告男子「感情詐欺」，但檢察官以欺騙感情不構成詐欺罪，而做出不起訴處分。請問：若從社會規範的角度，上文最適合用來說明下列何者？(習51)

- (A) 維護社會秩序不能僅靠單一規範
- (B) 法律與倫理道德的規範模糊不清
- (C) 法律的價值遠高於其他社會規範
- (D) 倫理道德的規範與法律互相牴觸



※14-16題為題組，閱讀下列圖文後回答問題

某影星過世後原本家人打算遵從她生前心願舉行樹葬，但最後仍因捨不得深愛的家人回歸塵土，希望還是有個獨立空間可以憑弔探望、祭拜而進行塔葬，引發諸多討論。民政局指出，自2014年推行樹葬以來，申請件數大幅成長，增幅高達8.3倍。自然葬園區提供全國民眾免費申請，讓先人安息於綠意盎然的環境中，同時落實生態永續與心靈環保的理念。

14. 請問上文中的喪葬禮俗係屬於下列哪一種社會規範？(P.185)

- (A) 風俗習慣
- (B) 倫理道德
- (C) 宗教信仰
- (D) 法律



15. 《殯葬管理條例》規定，土葬只限公墓並禁止撿骨後土葬，入土7至10年後就必須撿骨放入納骨塔，並且全力推廣樹葬，落實生態永續。請問下列敘述何者正確？(P.188)

- (A) 社會規範不會互相影響
- (B) 很多不同的國家都開始推廣樹葬是文化的差異性
- (C) 國家會透過正式規範來改變不合時宜的非正式規範
- (D) 新的社會規範很容易產生

16. 該影星原本的想法係以樹葬的方式走完人生的最後一哩路，請問實行樹葬乃屬於下列哪一種倫理的展現？(P.185)

- (A) 群己倫理
- (B) 公德
- (C) 五倫
- (D) 環境倫理

後面尚有試題，請繼續作答

新北市立中正國民中學113學年度第二學期七年級社會科第二次段考試題

範圍：公民 B2L3~4、歷史 B2L3~4、地理 B2L3~4 班級：_____座號：____姓名：_____

【讀卡科目請依規定畫卡，若有違反畫卡規定而影響讀卡作業之情事，一律扣總分 5 分。】

17. 在日治時期，台灣總督府為了加強其統治並推行現代化建設，在教育方面採取了多項措施。請問下列哪一項最能體現日治初期總督府欲藉由教育來達到統治目的之策略？(P104-105)

(A) 中等教育以實用為原則，總督府設立台中中學校。
(B) 設立小學校、公學校對不同族群的採取差別待遇。
(C) 設立臺北帝國大學，使台灣人能接受高等教育。
(D) 實施六年義務教育，提升了台灣人的日語普及率。

18. 西元 1920 年代以後，台灣的知識分子，透過組織政治團體向日本殖民政府爭取權益。請問下列哪一項活動最能代表此時期知識分子的努力方向？(P106)

(A) 參與總督府舉辦的台灣博覽會，展現台灣的進步。
(B) 響應總督府推行的皇民化運動，努力學習日本文。
(C) 發起台灣議會設置請願運動，要求設立民選議會。
(D) 鼓勵台灣人進入醫學校等職業學校，培養實用技能。

19. 容容的阿嬤生活在日治時期，她回憶：「小時候有設自來水、公立醫院，還有每年定期大掃除，鼠疫、霍亂等傳染病都近乎絕跡。」請問關於容容的阿嬤兒時經歷，下列何者有誤？(P108)

(A) 假日跟姊姊一起去台北新公園郊遊
(B) 家中長輩吸食鴉片需要政府許可證
(C) 可以搭乘鐵路觀光前往北投泡溫泉
(D) 和姊姊必須纏足且無法去學校讀書

※第20題~第21題為題組，請閱讀以下文章後回答問題：

1920年代，臺灣知識分子為啟迪民智，組成「美臺團」下鄉巡迴放映具教育意義的電影。由於當時電影為默片，因此在放映時需要「辯士」進行口頭解說。

其中某部電影，描述一位撫養子女的寡婦，孩子們不捨母親辛勞而偷偷幫忙。辯士在解說時藉此機會強調教育的重要性「無知識就要永遠做帝國主義的奴隸...」。

「美臺團」在放映時常有警察監視，有時甚至因觀眾情緒激昂而下令停止。儘管如此「美臺團」仍透過電影，在臺灣社會推廣文化啟蒙。

20. 請問「美臺團」透過這些電影，最主要希望對當時的臺灣社會產生何種影響？(P106)

(A) 提升臺灣本土電影的製作技術與藝術水平。
(B) 宣傳日本的進步建設使臺灣人認同日本政府。
(C) 啟發台灣民眾的知識水平，提倡教育的重要性。
(D) 提供休閒的機會，排解高壓統治下的不滿情緒。

21. 請問警察對「美臺團」的電影放映活動進行干預的主要原因最可能為何？(P106、P107)

(A) 憂慮辯士的解說內容批評政府的言論。
(B) 認為電影這種新興娛樂方式會腐蝕人心。
(C) 擔心電影播放場地容易發生治安事件。
(D) 認為多為外國影片不符合台灣社會需求。

定而影響讀卡作業之情事，一律扣總分 5 分。】

※第22題~第24題為題組，請根據以下示意圖回答問題：

22. 下列是臺灣社會變遷的示意圖。由圖1演變到圖3，其中所呈現的意義是什麼？(習作)



(A) 臺灣的民主政治經過人民長期努力，不斷進步
(B) 臺灣的經濟改革對於政治發展具有重要影響力
(C) 臺灣的社會秩序需透過法律的約束才得以穩定
(D) 臺灣的原住民族不斷反抗，終於獲得平等地位

23. 承上題，圖一中的「自由中國」雜誌是因為什麼原因而遭到政府禁止，並且負責人遭到逮捕？(P120)

(A) 公開支持三月學運，批評政府戒嚴令
(B) 籌組民主進步黨，違反規定成立政黨
(C) 反抗權威鼓吹民主自由，批評政府弊端
(D) 批評共產黨迫害中國百姓，堅持反共

24. 關於圖三中「開放報禁」，下列同學的解釋何者有誤？(P121)

(A) 彤彤：民國76年政府開放報禁的同時也開放黨禁。
(B) 阿霖：由於解除戒嚴，政府保障人民集會結社自由。
(C) 博宇：戒嚴是為了防止共產黨滲透，傳播共產思想。
(D) 阿君：李登輝總統因應台灣社會追求民主解除戒嚴。

25. 阿揚哥看到《新竹州鄉土誌》上記載著一件事：「臺灣戲劇受到禁演令的限制，西元1936年還在演出了八千一百多場，兩年後由於政治與社會運動受到嚴重干預，戲劇出演的場次減少到一千八百多場。」請問：以上紀錄是關於下列哪一個時期的史事？(P107)

(A) 民族自決風潮
(B) 皇民化運動
(C) 白色恐怖時期
(D) 二二八事件後。

26. 民國36年的中華民國憲法規定總統任期一屆6年，且連選得連任一次，但受後續法令頒行的影響，蔣中正於民國49年第三次當選總統，明顯與憲法原有規定不同。請問：上述的「後續法令」指的是哪一項法令？(習作)

(A) 動員戡亂時期臨時條款
(B) 戒嚴令
(C) 六三法
(D) 中華民國憲法增修條文

新北市立中正國民中學113學年度第二學期七年級社會科第二次段考試題

範圍：公民 B2L3~4、歷史 B2L3~4、地理 B2L3~4 班級：_____座號：____ 姓名：_____

27. 一篇報導如下：「昭和10年11月22日上午8點，這場破天荒的選戰揭幕，選的是各市議會及各街庄的協議會員……，最終全臺投票率更高達九成以上。」關於報導內容的相關論述，下列何者正確？(P107)
- (A)臺灣議會設置請願運動的最終成果
(B)臺灣地方自治聯盟請願與鼓吹達成
(C)證明臺人獲得與日人平等政治地位
(D)市議會及各街庄協議會員全數民選
28. 台灣在 1945 年結束日本統治，由中華民國政府接收。然而，戰後初期台灣人民對於「祖國」的到來，卻從原本的歡欣鼓舞轉為失望。請問下列哪一項不是造成此轉變的原因？(P116)
- (A)部分官員貪汙、濫用特權、經濟政策失當等因素。
(B)行政長官掌握軍政大權，臺籍菁英未獲政府重視。
(C)台灣人民普遍不習慣說國語，與來自中國大陸的官員溝通困難。
(D)政府在台灣實施地方自治，給予黨外人士發展機會。

※第29題~第31題為題組，請閱讀以下文章後回答問題：

〈綠島「新生訓導處」政治犯除了教書還開刀〉

綠島的「新生訓導處」專門負責「感訓」政治犯，當中收容了匪俘、思想犯、叛亂犯等「新生」。上課科目有國父遺教、領袖言行、三民主義、共匪暴行、共產主義批判。

綠島居民：「我們不覺得他們是壞人」

綠島人民對「新生」另一個普遍的記憶是「醫療」。綠島地區的醫療品質向來貧乏。如果有人得了盲腸炎，而不幸引發腹膜炎的話，就唯有等死了。由「新生」所組成的醫療團隊，給醫療資源嚴重匱乏的綠島帶來最及時且準確的診治；因此，無論是綠島居民或是新生訓導處官兵及家屬，「新生」醫療團隊都是他們第一選擇的醫護資源。

「新生」當老師教國英數，提升綠島教育水準與升學率

為了改善綠島教育資源貧乏的問題，新生訓導處曾設有課業補習班，由「新生」來擔任課業輔導的老師；因為，當年來到綠島的「新生」有許多是學養豐富的知識份子。這個課業輔導計畫讓許多綠島的孩子受惠，讓他們可以繼續升學，後來甚至成為老師或醫師，也讓綠島成為臺東教育文化水準最高的鄉鎮之一。

29. 上文中提到的綠島「新生訓導處」，最可能是因應下列哪一事件的發生所延伸出來的機構？(P119)
- (A)第二次世界大戰
(B)白色恐怖時期
(C)民族自決風潮
(D)二二八事件。
30. 這些被稱為「新生」的臺灣人才，最可能是因為下列何種原因而被送往綠島接受「感訓」？(P119)
- (A)以「為匪宣傳」等藉口逮捕異議份子。
(B)日治時期曾擔任重要官員，有親日思想。
(C)國共大規模軍事衝突，派遣至綠島前線。
(D)成立台灣民眾黨，積極參與農工運動。

31. 根據上文提及的時空背景，下列關於同學們的發言與解釋何者正確？(P119)

(A)阿侑：當時台灣最高統治機構為「行政長官公署」。
(B)齊齊：政府運用保甲嚴密監控社會，協助宣達政令。
(C)安安：政治犯皆本省人，外省與原住民不會被逮捕。
(D)欣欣：使得台灣人畏懼參與政治，不願意談論國事。

32. 戒嚴時期，黨外人士在高雄舉辦遊行活動，以紀念國際人權日，不料竟演變警民衝突事件，造成多人被捕入獄。請問：這是臺灣史上的哪一個事件？(P120)

(A)二二八事件
(B)余清芳事件
(C)雷震事件
(D)美麗島事件。

33. 曉喬在閱讀臺灣史相關書籍時看見如右方的圖片，描繪出日治時期的火車站樣貌，車站的高處還設有時鐘。請問：當時設立時鐘的主要目的為何？(習作)



(A)提醒搭乘環島火車的乘客必須準時
(B)方便人們知道時間，養成守時習慣
(C)以時鐘教導臺灣人時區的劃分方式
(D)以圓形時鐘裝飾火車站，美觀大方

後面尚有試題，請繼續作答

新北市立中正國民中學113學年度第二學期七年級社會科第二次段考試題

範圍：公民 B2L3~4、歷史 B2L3~4、地理 B2L3~4 班級：_____座號：____ 姓名：_____

【讀卡科目請依規定畫卡，若有違反畫卡規定而影響讀卡作業之情事，一律扣總分 5 分。】

34. 受自然環境影響，臺灣適合多種作物的栽種。右圖是民國108年某一作物的種植面積分布圖，由主要的分布區域判斷，該作物最可能是下列何者？

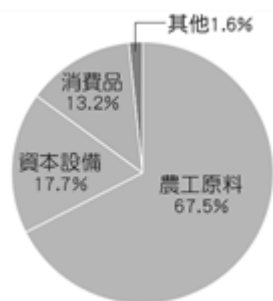
(習P.7)

- (A)甘蔗 (B)玉米
(C)水稻 (D)茶葉



35. 右圖是民國112年臺灣的進口品項比例，其中農工原料占比最高，主要與臺灣的何項地理環境因素有關？(習P.11)

- (A)台灣的國內市場規模小
(B)台灣面積小，缺乏資源
(C)台灣四面環海，海岸長
(D)第一級產業的勞力老化



36. 近年來，鳳梨酥成為國人及外國遊客喜愛的伴手禮之一，產值逐年上升。附圖為鳳梨酥產銷過程的示意圖，圖中的甲、乙、丙、丁若照產業分類，下列排序何者正確？(課 P.30)



(A)

第一級產業	第二級產業	第三級產業
甲、乙	丙	丁

(B)

第一級產業	第二級產業	第三級產業
甲	乙、丙	丁

(C)

第一級產業	第二級產業	第三級產業
甲	丙	乙、丁

(D)

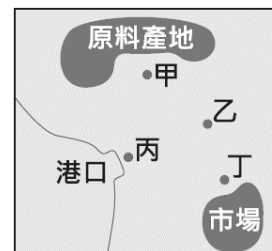
第一級產業	第二級產業	第三級產業
乙	甲、丙	丁

37. 田尾鄉位於彰化縣的南部，因鄰近河川的灌溉渠道遍布，昔日是臺灣重要的水稻栽培區。民國六十年代起，隨著都市化的發展及交通運輸系統的改善，當地逐漸轉型為以公路花園著名之花卉生產專業區，花卉年產量與品項高居全臺之冠，是眾所皆知的「花的故鄉」。從水稻栽培區轉為花的故鄉，最主要是受到下列哪一因素影響？(課P.34)

- (A)鄰近重工業工業區排放廢水，汙染農田
(B)民眾飲食習慣改變，使得稻米生產過剩
(C)農業生產成本過低，稻米多從國外進口
(D)受全球暖化的影響，導致稻米產量下降

38. 王先生計畫在附圖中的甲、乙、丙、丁選擇一地開設工廠，附表呈現選擇不同地點設廠的生產成本。若不同設廠地點的成本差異僅來自運輸成本，則相較於原料，該工廠的產品具有下列何種特性？(課P.41-42)

- (A)易腐敗(B)重量減少
(C)體積變小 (D)易保存



地點	成本(萬元)
甲	250
乙	200
丙	150
丁	100

39. 台灣曾有「香蕉王國」的美稱，但隨著許多熱帶國家大規模生產的低價產品進入國際市場，台灣的香蕉出口逐漸喪失優勢，而其他水果也面臨相似的困境。考量我國農業的現況，下列何者是增加台灣水果競爭力最為可行且成效最大的策略？(課P.33)

- (A)退出世界貿易組織，減少外國農產品的競爭
(B)輔導農夫轉型，將休耕的稻田全面改種香蕉
(C)鼓勵推行粗放農業，以提高單位面積的產量
(D)政府與農民們合作品種培育，精進栽培技術

40. 「有許多紡織廠因為生產成本上漲，而選擇外移，但仍有公司將台灣作為接單、研發的中心，生產基地分散到中國、東南亞和非洲等地。公司的技術具有專利，且針對市場需求開發新的紡織品，如開發彈性機能性布料。最近還與高科技廠商合作，發展居家照護智慧衣和尿溼偵測床單等，顯示紡織業還是很有競爭優勢。」關於上述的描述推論，下列何者正確？(課 P.48)

- (A)國內市場小，產品需大量外銷
(B)國內傳統產業積極研發與創新
(C)台灣勞工薪資高，需引進移工
(D)傳統的紡織業為技術密集產業。

41. 臺灣某一時期，經濟政策朝向發展技術、資本密集且具有高附加價值的高科技產業，政府成立資策會，大量延攬海內外學人，將資訊、光電及生物科技等列為發展重點，擬定國家科技發展計畫，帶動近年來高科技產業的發展。為配合此政策，政府還推行了下述政策：(甲)實施十大建設、(乙)推動農產品加工、(丙)設置加工出口區、(丁)成立新竹科學工業園區。若按照台灣工業發展歷程，下列何者排序正確？(課 P.43)

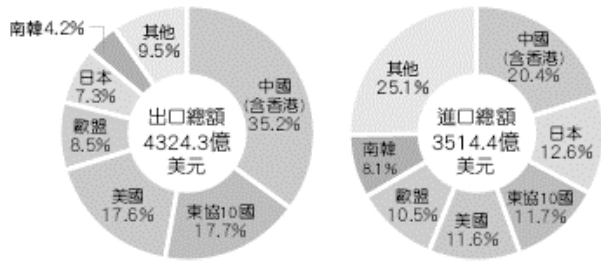
- (A)甲→乙→丙→丁
(B)乙→丙→甲→丁
(C)丙→甲→丁→乙
(D)丁→乙→甲→丙

後面尚有試題，請繼續作答

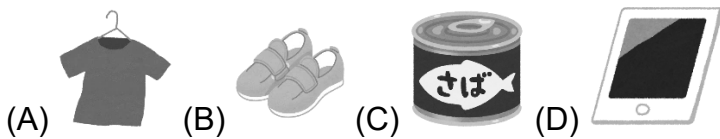
新北市立中正國民中學113學年度第二學期七年級社會科第二次段考試題

範圍：公民 B2L3~4、歷史 B2L3~4、地理 B2L3~4 班級：_____ 座號：____ 姓名：_____

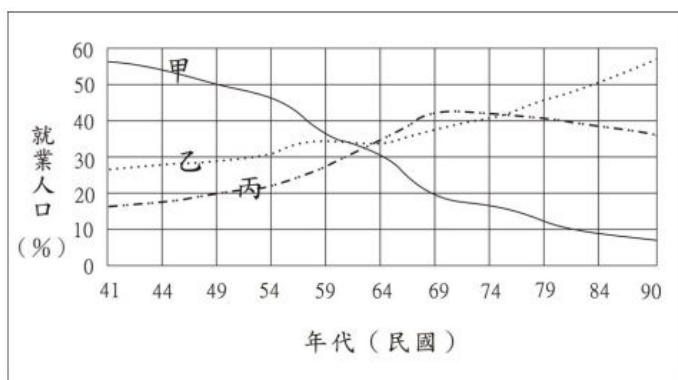
42. 下圖為台灣的國際貿易特徵，民國112年的貿易總額達到7,838.7億美元。這表明台灣在國際貿易具有何種特徵？(課P.45-46)



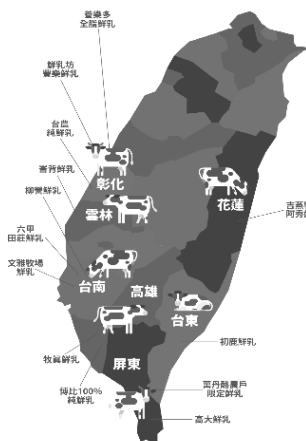
- (A) 112年的貿易額呈現出超的情況
(B) 112年的出口國集中在歐美地區
(C) 對美國主要是以農業產品為出口
(D)進出口總額前三名的國家皆相同
43. 承上題，台灣的主要貿易對象中，在出口總額中，中國（含香港）佔有 35.2%的比例，這反映了什麼樣的貿易特點？(課 P.46)
- (A)台灣具有依賴單一市場的風險
(B)中國（含香港）對農產品的需求增加
(C)中國（含香港）的國際貿易競爭力高
(D)台灣的出口主要依賴歐洲市場
44. 工業區位是指工廠為了降低生產成本、增加利潤而選擇最有利的地點。下列哪項產品的區位條件與其他三者不同？(課 P.41-42)



45. 為了落實能源轉型，台灣政府持續推動綠能科技產業創新，並且帶動相關產業發展，並達成「2050 淨零排放」的目標。附圖是臺灣三級產業就業人口比例的變化圖，圖中甲、乙、丙代表各級產業就業人口比例的變化曲線。請問：上述所提及的相關產業，最有可能為圖中的哪一條曲線？(課 P.31)



- (A)甲 (B)乙 (C)丙 (D)無法判斷
46. 某連鎖商店自 2019 年起便開始在門市內設立「小農專區」，專門標示出來自各地的小農鮮乳品牌，如鮮乳坊、高大、初鹿牧場、吉蒸等，超過 18 個小農品牌。附圖是該連鎖商店有販售的小農鮮乳分布圖。從圖中資訊可以判讀出台灣的畜牧業有何者特色？(課 P.38)



- (A)畜牧活動多為農家經營的副業
(B)台灣牧場多分布於西南部縣市
(C)台灣的畜牧型態多以放牧為主
(D)擁有現代化設備及專業化管理

※47至48為題組，閱讀下列圖文後回答問題

節自 2025-03-11 聯合報

「白米炸彈客」楊儒門出獄後持續關注台灣農業問題，質疑農業補貼政策。

陳保基認為，應提高收購稻米的品質，「公糧品質沒提升，農民一直收補貼，再一直種，這是不對的。」他認為，農業補助應是獎勵強項，但的確很難做到不補助弱勢老農。

「農業政策無法往前就會削弱農業競爭力，台灣農業應發展強項。」徐世勳認為，台灣農業被綁在「生產型農業」，以花生醬為例，台灣為了保護花生農而不准大陸進口花生原料，但美國知名花生醬品牌卻是在山東青島設廠製造，台灣也應走這樣的「供應鏈型農業」；時代在變，台灣不要為了種植稻米而將可發展的附加價值產業抹滅掉。

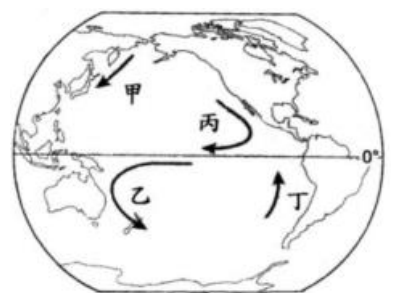
47. 針對台灣農業補助政策的質疑，陳保基教授認為農業補助應該如何運用以提升農業競爭力？(課 P.34)
- (A)繼續大規模補助收購所有農產品
(B)僅針對有潛力的農產品進行獎勵
(C)降低補助促使農民自我能力提升
(D)拒絕所有對農產相關的政策補助
48. 徐世勳建議台灣農業的發展方向，主要目的和下列何者最為相似？(課 P.34)
- (A)推動地方公共設施興建
(B)增加農地單位面積產量
(C)降低農產品出口的關稅
(D)提高農產品的附加價值

※49 至 50 為題組，閱讀下列圖文後回答問題

節自 2025-01-17 農傳媒

第 11 次「台日漁業委員會」於 14 至 16 日在日本東京召開，臺日雙方就《台日漁業協議》適用海域（八重山以北倒三角形海域）漁船作業規則達成共識，雙方易產生爭議的重疊海域以東經 124 度劃分作業方式。農業部漁業署表示，我國爭取到 124 度以東 3 分的緩衝區，漁業署將指導漁業團體訂定自律公約，避免漁具流出東經 124 度 2 分以東。漁業署表示，這個水域我國漁船每年 4 到 7 月捕撈可黑魷魚，其他季節捕撈黃魷魚、鬼頭刀及旗魚類等漁獲。

49. 文中所提及的重疊海域，以漁業的種類與作業範圍區分，最有可能是下列何者？(課 P.37)
- (A)近海漁業 (B)沿岸漁業
(C)遠洋漁業 (D)養殖漁業
50. 台灣每年 4-7 月可在此處捕撈的黑魷魚，主要是隨著黑潮流經台灣以及日本，附圖中何者洋流性質與黑潮相似？(課 P.36)
- (A)甲(B)乙 (C)丙 (D)丁



試題結束