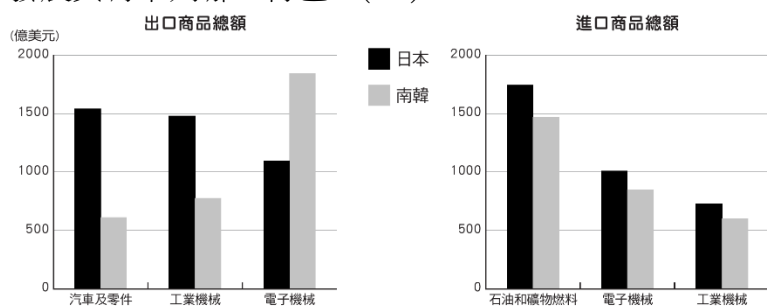


【讀卡科目請依規定畫卡，若有違反畫卡規定而影響讀卡作業之情事，一律扣總分五分。】
【手寫答案卷需確實寫上班級、座號、姓名，違者一律扣總分五分。】
【手寫答案卷需用藍色或黑色墨水筆書寫，違者一律扣總分五分，使用鉛筆書寫扣五分。】

選擇題

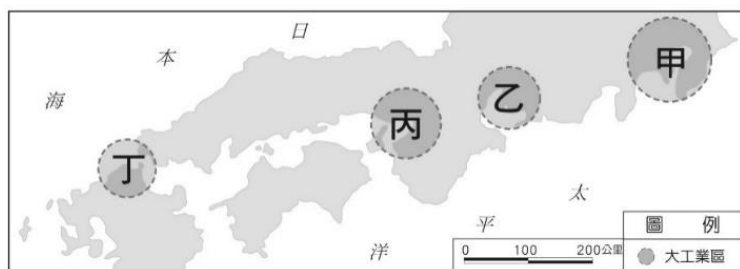
01. 2021 年日本正式開始實施《改正高年齡者雇傭安定法》，該法核心內容為延後退休年齡，企業員工 65 歲時可自主選擇退休或者再繼續工作 5 年。請問此法的制定最可能與下列哪些日本社會發展現況有關？(A)出生率偏高(B)勞動力老化(C)晚婚人口多(D)失業率升高 (2-1)
02. 2021 年日本提供多達 420 萬劑疫苗使台灣能快速提高施打率，讓「台日友好」一詞再度登上社群媒體關鍵字熱搜。但其實這個名詞源自於 2011 年 3 月 11 日日本近海發生芮氏規模 9.0 的地震，台灣除了超過 250 億日幣的捐款之外，賑災物資的提供、緊急救難隊的派遣等，為日本東北地區的復興提供了許多援助。請問日本地質不穩定的因素，與下列哪一項最有關係？(1-1)
(A)地質古老，歷經長期侵蝕 (B)位於季風氣候區，多颱風雨侵蝕劇烈 (C)位於大陸板塊與海洋板塊的接觸帶 (D)多流水侵蝕的高山高原，火山容易爆發。
03. 南韓為二十國集團(G20)成員之一的世界主要經濟體，是擁有完善市場經濟制度的已開發國家。近年來，南韓致力發展的主要產業類型，不包括下列何者？(A)文化產業 (B)汽車工業 (C)消費性電子工業 (D)紡織工業。(2-2)
04. 日本使用年號來紀年的方式仿自於中國；而在南韓，農曆過年、端午、中秋則並列為年度三大節日，歲時節慶與中國相似。此外，中、日、韓三國的人們為了適應各自不同的自然環境，也發展出各具特色的住屋形式與設施。請問上述國家在文化、制度上相仿或相似的原因為下列何者？ (A)地理位置相近 (B)地形種類相同 (C)氣候條件相似 (D)人民種族相同。(1-2)
05. 根據 2018 年資料顯示，日本外匯儲備排名世界第二，工業總產值約占國內生產總額的 28%，下圖為日本及南韓國際貿易前三大進出口商品總額，可以推論日本的工業發展具有下列哪一特色？(2-1)



- (A)農、工原料依賴進口，產品大量輸出
(B)陸上交通以鐵路為主，客貨運輸繁忙
(C)海岸曲折多灣澳，擁有眾多良好漁場
(D)都市化程度高，跨國企業擴展快速。
06. 南韓就業網站「Saramin」發布最新調查報告顯示，南韓電子企業龍頭「三星電子」為南韓求職者最嚮往的企業。因南韓大小企業薪資差距甚大，三星電子面試不僅要通過面試、筆試、性向測驗等關卡，競爭如此激烈的環境下，不少南韓畢業生爭相參加求職補習班，從中獲得考進大企業的技巧，甚至還有人住進「考試村」苦

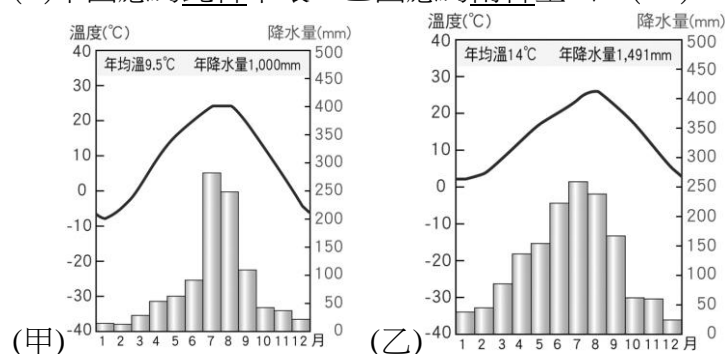
讀。這段敘述反映南韓經濟快速發展的背後可能有哪些隱憂？(A)南北韓政治高度緊張對峙 (B)高科技代工技術不如臺灣 (C)國家經濟集中在少數大型企業 (D)娛樂影視產業外銷全球。(2-2)

07. 南韓韓劇〈愛的迫降〉，女主角從南韓搭乘滑翔翼越過北緯 38 度邊境遇到北韓軍人，開始一段跨越國界的愛情故事。請問若當時搭乘滑翔翼是受到季風影響，請問最有可能是受到哪個季節的季風影響？(1-1)
(A)夏天，西南季風 (B)夏天，東南季風
(C)冬天，東北季風 (D)冬天，西北季風。
08. 2021 年南韓泡菜(Kimchi)四川泡菜(PAOCAI)發生混淆與爭議事件，南韓文體部表示根據「公共術語的外語譯名規範」修正，將韓語泡菜(Kimchi)的中文譯名變更為「辛奇」。泡菜是南韓餐桌上的常備菜，傳統的泡菜製作會利用大自然的低溫環境，每年 11 月到隔年 2 月這段時間，地表土壤溫度維持在 0℃到-1℃左右，最適合泡菜乳酸菌的發酵，韓國人會把泡菜裝在罎子中埋進土地裡進行保管。請問這種習俗主要是配合南韓何項環境特色而形成？(A)梅雨季長，食物保存不易 (B)冬季嚴寒，缺乏新鮮蔬菜 (C)降水量稀少，無法種植蔬菜 (D)夏季酷熱，食物容易敗壞。(1-2)
09. 日本黑潮大蛇行 2021 年再度出現，指的是原本應該大致平行日本本州島海岸流動的黑潮，因不明原因出現波動。首次出現於 2004 年 7 月發生，因為黑潮主流路徑改變，影響洄游性魚類的洄游路徑，導致日本吻仔魚漁獲量減到只剩下往年的 3 成。請問日本黑潮的性質與下列哪個洋流相同？(1-2)
(A)親潮 (B)中國沿岸流 (C)西澳涼流 (D)東澳暖流。
10. 日本為了提升競爭力，自一九八〇年代中期開始，將企業的勞力密集產業大量遷移海外，造成國內生產衰退，國內失業率提高，此狀況稱為「產業空洞化」。請問日本此舉動主要目的為何？(A)提升國際形象 (B)降低生產成本 (C)實施經濟侵略 (D)提高就業機會。(2-1)
11. 2016 年出版書籍《為了活下去》是一本脫離北韓的女孩朴研美以自傳的口吻描述在金氏政權控制下的朝鮮生活，從出生、成長及逃脫北韓的歷程。書中提到：「上學途中看見屍體躺在路邊、肚子餓到只能吃野生植物果腹」、「研美十三歲那年，飢荒再加上父親入獄，迫使她們一家人不得不冒著生命危險，橫越結冰的鴨綠江，從北韓逃到中國。然而，到了中國之後，她才發現自己已經落入中國人口販子的手中。」請問北韓的飢荒問題主要與其何項環境特性影響所致？(A)梅雨侵襲，水患頻繁 (B)降水量少，年溫差大 (C)平原狹小，緯度偏高 (D)火山頻繁，災害慘重。(2-2)
12. 日本是世界七大工業國家，其工業實力為亞洲之首，下圖為該國主要工業區的分布情形。請問日本的工業區呈現此一空間分布的主要原因為何？(2-1)

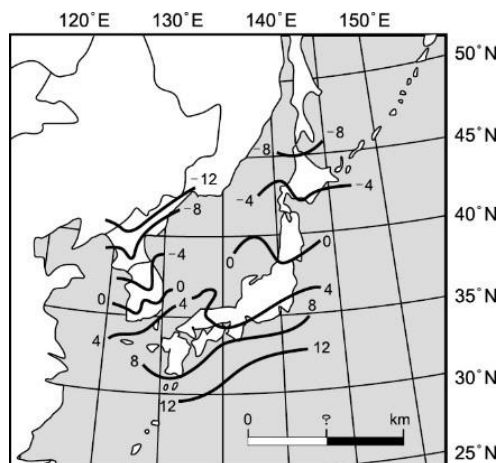


(A)原料充足 (B)交通便利 (C)動力充足 (D)廉價勞力。

13. 下圖為朝鮮半島上北韓平壤、南韓釜山兩地的氣候圖。請問：關於兩地氣候圖的解釋，何者正確？ (A)甲圖年溫差較大，代表緯度較低 (B)乙圖乾溼季較甲圖明顯，雨季集中在夏季 (C)乙圖年均溫較高，代表緯度較高 (D)甲圖應為北韓平壤、乙圖應為南韓釜山。(1-1)



14. 從右圖可得知同在北緯 40 度的日本群島與朝鮮半島，冬季氣溫相差較大。形成這種差異的主因，可能為下列何者？(1-1)



(A)日本群島地勢較朝鮮半島高
(B)日本群島緯度較朝鮮半島高
(C)朝鮮半島受到大陸高壓影響
(D)朝鮮半島受冬季季風影響低。

15. 右圖為南韓工業區分布圖，由圖可看出朝鮮半島的東部工業區分布明顯少於西、南部，其主要原因受限於東部哪一項地理因素？



(甲)海運不便 (乙)地勢崎嶇 (丙)氣候嚴寒 (丁)缺乏礦產

(A)甲丙 (B)乙丙 (C)甲丁 (D)甲乙。(1-1, 2-2)

16. 受到新冠疫情影響，居家健身成了熱門關鍵字之一，任天堂本家的居家健身遊戲《健身環大冒險》與健身環，自 2019 年 10 月銷售至今累積銷量突破 1000 萬套。「健身環」(Ring-Con)，環內有擠壓感測器以感測玩家的動作，玩家需要將任天堂 Switch 的控制器 Joy-Con 拆下並分別安裝到 Ring-Con 和腿部固定帶上，並通過玩家自身的運動在遊戲中打敗怪獸。請問健身環是屬於下列哪個性質的產業？(A)原料密集 (B)勞力密集 (C)動力密集

(D)技術密集。(2-1)

17. 日本大多數農產品都擁有高身價，如青森蘋果、山形櫻桃、北海道夕張哈密瓜等。請問：若不考量其他因素，以農業耕作來看，日本農產品價格較貴的主要原因為何？(A)可耕地少，勞動力成本高 (B)氣候寒冷，運用溫室栽培 (C)水源缺乏，抽取灌溉用水 (D)政策限制，總生產量較低。(2-1)
18. 慧喬在圖書館翻閱到一本書，書中提到：「古來時常吃人，我也還記得，可是不甚清楚。我翻開歷史一查，這歷史沒有年代，歪歪斜斜的每頁上都寫著『仁義道德』幾個字。我橫豎睡不著，仔細看了半夜，才從字縫裡看出字來，滿本都寫著兩個字是『吃人』。」請問：下列敘述何者正確？(A)此書的內容與當時挑戰儒家學說的思想運動相互矛盾 (B)作者的寫作風格是受到當時辛亥革命成功所影響 (C)此書應是在民初時期的作品，諷刺「仁義道德」皆是「吃人」的禮教 (D)此書應是清末革命派的言論，諷刺清帝國的腐敗會「吃人」。(2-1)
19. 《新青年》雜誌中，陳獨秀認為「德先生」與「賽先生」是近代歐洲國家富強的基礎，希望藉由引進這兩個觀念，讓中國早日脫離貧弱處境。請問：「德先生」和「賽先生」，分別是指哪個觀念？(A)民族、民主 (B)民主、民生 (C)民生、科學 (D)民主、科學。(2-1)
20. 民國 8 年，上海報紙刊報導：「現在日本在萬國和會要求併吞青島、管理山東一切權利，就要成功了。……所以，我們學界要求各國出來維持公理，務望全國同胞工商各界，一律起來設法開國民大會，外爭主權、內除國賊。中國存亡就在此一舉。」關於上述事件，下列何者錯誤？(A)北京政府在列強壓力下，被迫簽下條約 (B)因學生在 5 月 4 日，發起示威遊行，故又稱「五四運動」 (C)發生在軍閥統治時期 (D)這場愛國運動，加深對國家民族的認同。(1-3)
21. 《國父們》一書中敘述：「孫文擅長嘴砲演講煽動人心；黃興擅長軍事；宋教仁擅長組織地下活動策畫行動；汪精衛擅長寫文章鼓舞人心，這些人在清末策畫了一場又一場的反叛行動，最終在 1911 年革命成功，建立新中國。」請問：根據書中內容可得知下列何者？(A)中華民國的建立是匯集多方力量的結果 (B)孫文的貢獻最大 (C)新中國奠定君主立憲的基礎 (D)只憑反叛行動就成功建立新中國。(1-1)
22. 庚子事變後，中國在日本的留學生數量急遽增加，這些離鄉背井的留學生，都是關懷國家未來前途的熱血青年。因此孫中山遂在日本，聯合其他革命團體共組同盟會，以團結革命力量。同盟會的綱領，已具有三民主義的思想。請問：下列何者是屬於民生主義？(A)驅除韃虜 (B)平均地權 (C)創立民國 (D)恢復中華。(1-1)
23. 敘俊在歷史劇中看到以下劇情：「皇帝悶悶不樂地坐在一旁，旁邊的太監七嘴八舌說道：『怎麼樣也想不到，他竟然會狠下心腸，把咱們主子拉下臺，當年老佛爺多麼倚重他，給他練新軍，讓他變成最有軍權的人，結果他竟然夥同革命黨，背叛皇帝。』」請問：上述太監討論的人物是誰？(A)溥儀 (B)黎元洪 (C)袁世凱 (D)孫中山。(1-2)
24. 福建人林覺民，西元 1907 年到日本攻讀哲學，後來受革命風潮的影響，加入革命組織。西元 1911 年，林覺民得到黃興通知，回國參加革命，事發前三天，寫給妻子著名的《與妻訣別書》。革命當天，林覺民與同伴率

- 先襲擊總督衙門，受傷被捕，從容就義。此場革命雖然失敗，卻也讓民眾關注革命。請問：有關這次革命的敘述，何者正確？(A)這次革命的目的，是想促使清廷實施君主立憲 (B)此場革命發生的地點在廣州 (C)為紀念此場革命犧牲的烈士，政府將3月29日訂為軍人節 (D)這場革命，奠定日後保路運動成功的基礎。(1-1)
25. 五四運動前，鼓吹西方文化雜誌只有《新青年》等數種，到民國8年以後，新出現的刊物愈來愈多，全力宣揚各種新潮思想，由這種成長速度可以看出，五四運動為中國社會帶來什麼樣的改變？(A)大家開始懷念儒家思想 (B)新文化運動影響的層面及範圍愈來愈大 (C)君主立憲制加速進展 (D)軍事國防力量愈來愈強大。(1-3)
26. 一位學者於西元1915年所發表的文章節錄如下：中國將來必因總統繼承問題「釀成禍亂」……如一時不立即撲滅禍亂，可能導致敗壞中國之獨立……中國如用君主制，較共和制為宜，此殆無可疑者也。請問：此篇文章發表後有利於何種政治情勢的出現？(A)武昌起義成功 (B)爆發二次革命 (C)溥儀重新擔任皇帝 (D)出現洪憲帝制。(1-2)
27. 敏惠今年準備申請大學，在搜尋亞洲著名大學時，看到一所大學介紹如下：「本校創辦於1898年，是中國第一所國立綜合大學，也是當時中國最高教育行政機關……此大學是新文化運動重要的發展重鎮。」關於上述學校，下列何者敘述**錯誤**？(A)民國6年時，胡適擔任校長 (B)初名「京師大學堂」，後更名為「北京大學」(C)成立於戊戌變法時期 (D)民國8年，此學校學生不滿山東歸屬問題，發起學生運動。(2-1)
28. 民國初年，陳獨秀創辦《新青年》雜誌(原名《青年》)，主張文學不但要改革，還需要革命，掀起一場「中國的啟蒙運動」。陳獨秀在《新青年》創刊號上發表〈敬告青年〉，文中指出：「認為只有青年自覺奮鬥，視腐朽為仇敵，排而去之，才能挽救將亡的中國社會。」請問：《新青年》雜誌中，**不可能**出現哪一篇文章？(A)《民主主義在中國》(B)《儒家文化思想精要》(C)《共產主義的世界革命》(D)《現代科技與社會改造》。(2-1)
29. 民初，中國學者翻譯挪威劇作家，易卜生的《玩偶之家》，該劇講述女主角娜拉從愛護丈夫，到與丈夫決裂、甚至離家出走的故事。後來，魯迅在和女子學校學生，發表「娜拉走後怎樣」的演講時，強調學生切莫忘記他們身處社會的現實。女性或許能掙脫家庭及婚姻的枷鎖，但除非她們能做到經濟獨立，否則她們爭取到的自由只是一場空。請問：上述內容與下列敘述，何者最相關？(A)新文化運動時期，女性地位有逐漸提升，但女性仍然承受不小的社會壓力 (B)新文化運動時期，新知識分子挑戰儒家思想的權威地位 (C)新文化運動時期，鼓吹白話文運動 (D)新文化運動時期，「德先生」與「賽先生」等西方思想被帶到中國。(2-2)
30. 袁世凱死後，帝制化為泡影，民主制度雖然漸為大眾所接受，然而國家卻沒有因此安寧，各地各自為政，政局仍舊動盪不安。請問：此時期國內政局仍舊動盪不安的主因為何？(A)列強侵略 (B)中共興起 (C)軍閥亂政 (D)天災四起。(1-2)
31. 根據下文的對話，判斷何者敘述正確？學者黃侃在大學授課時，曾諷刺說：「如果胡適的太太死了，他的家人會

這樣給胡適發電報：『你的太太死了，趕快回來啊!』，而文言文只用四個字『妻喪速歸』，多省電報費呀。」胡適說：「不一定吧，前幾天，行政院邀我去做秘書，如用文言文打電報：『才學疏淺，恐難勝任，恕不從命。』，但用白話文只要『幹不了，謝謝!』。」

(A)文言文是種省時，且進步的文體 (B)民初所有學者，皆支持推行白話文 (C)文言文與白話文，各有支持的學者 (D)胡適提倡文言文，黃侃推行白話文。(2-1)

32. 關於清末發生的「保路運動」，請問下列敘述何者正確？(A)起因是政府要徵收土地興建鐵路，但人民反對 (B)使清廷加強控制地方，間接扼殺並逐漸控制革命的力量 (C)當中尤以廣東省的保路行動最為激烈，甚至爆發官民的流血衝突 (D)革命黨人趁清廷調動湖北省新軍鎮壓保路運動時在武昌起事。(1-1)

33. 袁世凱死後，有人如此評價：「公生則人民死，公死則人民生，生死循環，互為因果。」請問，有關於袁世凱的所作所為，以下何者正確？(甲)為中華民國第一任正式大總統(乙)主動參與第一次世界大戰爭取列強支持(丙)將臨時政府由廣州遷往北京(丁)壓制五四運動，對天安門前抗議學生進行武力鎮壓(戊)改民國五年為洪憲元年，改國號為中華帝國(己)民國四年接受日本「二十一條要求」，並割讓山東半島。(A)甲己 (B)乙己 (C)丙丁 (D)甲戊。(1-2, 1-3)

34. 《民報》為同盟會創辦之報紙，清末《民報》與《新民叢報》等改革派報紙進行筆戰，宣揚革命思想。請問：以《民報》的內容來看，其主要宣傳的主張為何？(A)推翻滿清專制政體，實現三民主義(B)提倡君主立憲，使國家建立憲政基礎(C)打倒歐美等帝國主義國家，維護中國主權(D)改革專制政府的體制，力求國家富強。(1-1)

35. 下列哪位行為人的年齡，符合我國現行《民法》所規定的「成年」，意即其所從事的法律行為，在法律上有完全的效力？(Ch1)(A)從今天起必須上學接受義務教育的丁丁 (B)年齡一滿就立刻去考機車駕照的小波 (C)高中畢業，順利成為大學新鮮人的拉拉 (D)18歲就與女友結婚的迪西。

36. 中國「无印良品 Natural Mill」(如下圖所示)，2015年控告日本日用品品牌「無印良品」(MUJI)侵犯(甲)，2019年判決出爐，日本良品計畫敗訴，不僅須發布聲明，且要賠償62.6萬元人民幣(約新台幣270萬元)。中國山寨貨告贏日本無印良品，當時引發各界熱議。2021年又傳出，中國山寨無印良品再次提告，認為日本無印良品涉嫌「商業詆毀不正當競爭」，對此許多中國網民看不下去，紛紛對此舉表達諷刺。請問，(甲)應填上何種權？(A)著作權(B)專利權(C)商標權(D)生存權。



(Ch2)

37. (承上題)下列所述的行為當中，何者與上題所違反的法律，是相同的？

- (A) 淑靜在網路上隨意抄襲他人發表的文章
(B) 曉彥在網路上販售正版的運動手環，但由於拍照技術不佳，自行下載官方網站上的圖片作為自己網拍頁面的圖片
(C) 某知名餐飲業者為其連鎖火鍋店取名『台糖白甘蔗涮涮屋』，被台糖公司告上法院，要求業者拿掉台糖兩字並登報聲明與台糖公司並無任何關係
(D) 某手機製造商拆解他牌手機，將對方的獨家散熱技術應用在自己品牌的手機製造上。(Ch2)

38. 下圖中，小夫和大雄的行為在法律上屬於何種行為？



- (A) 侵權行為 (B) 買賣行為 (C) 契約不履行 (D) 霸凌行為。(Ch2)
39. (承上題)此一不小心打破鄰居家的窗戶，鄰居可以依照《民法》要求他們負起何種法律責任？(A)法院強制執行(B)損害賠償(C)解除契約(D)剝奪權利。(Ch2)
40. (承上題)對於目前還在讀國小三年級的小夫和大雄來說，他們該如何負起責任？(A)他們是限制行為能力人，須由法定代理人負擔連帶責任 (B)他們是完全行為能力人，須由法定代理人負擔連帶責任 (C)他們為無行為能力人，不須負任何責任 (D)他們是無行為能力人，須由法定代理人負擔連帶責任。(Ch1)
41. 請根據敘述，將三個人的年齡，由大至小排列：
小丸子：在未獲得父母的同意之下，私自與房東簽下房屋租賃契約，決定搬出去住，不過此契約並不具有法律效力。
小玉：不須獲得父母同意的情況下，自己與通訊行簽下手機門號的租賃契約，且這份合約有法律效力。
花輪：跟爸爸在便利商店挑選商品時，連買瓶飲料和零食都要經過爸爸的同意才能購買。
(A)小丸子>小玉>花輪 (B)花輪>小丸子>小玉
(C)小玉>小丸子>花輪 (D)小玉>花輪>小丸子。(Ch1)
42. 莊孝維向梅麗借了一輛跑車去參加派對，他為了炫耀自己的開車技術，不慎將梅麗的車子撞凹。梅麗一狀告上法院，莊孝維將會承擔哪種法律責任及處罰？
(A)民事責任——損害賠償 (B)行政責任——罰鍰
(C)民事責任——解除契約 (D)因為是不慎所造成，所以不須負擔任何法律責任。(Ch2)
43. (承上題) 莊孝維和梅麗雙方進入訴訟程序後，梅麗覺得訴訟實在麻煩，雙方於是答應由法官從旁協調，最後在法官面前達成共識。請問：他們最後選擇了哪一種解決糾紛的方式？(A)調解(B)私下和解(C)由法官判決(D)訴訟上的和解。(Ch2)
44. 小咪開車不小心撞傷趕著過馬路的小新，為了節省金錢和時間，兩人決定到調解委員會調解。上述調解如果達

成協議，是否具有法律效力？ (A)有效，可做為法官判決之參考 (B)有效，與法院判決具有相同效力 (C)無效，達成調解後，一樣可進行法律訴訟 (D)無效，但可做為是否提出法律訴訟的參考。(Ch2)

45. (承上題)下列是小咪在網路上看到的網頁訊息。(Ch2)

調解委員會
受理調解聲請時間：週一至週五
• 早上 8：30～11：30
• 下午 13：30～16：30

請問：此網頁最有可能是設立在下列哪一個單位？

- (A)鄉公所 (B)行政院 (C)法院 (D)里民服務處。
46. 全球資訊網(www)發明人伯納李，關心如何讓全球資訊網公有共享，因此自己放棄申請專利，進而促成今日國際網路資訊的蓬勃發展。伯納李的做法會對社會造成下列哪種影響？(A)增進人民公共參與(B)提升電腦生產技術(C)鼓勵個人創新發明(D)促進知識流通共享。(Ch2)
47. 花媽在網路上預訂某間民宿，入住時發現民宿實景與網頁照片差距甚大，環境不甚清潔且設施老舊，因此向民宿業者投訴。民宿業者的銷售手法不符合《民法》規定的何項權利行使原則？(A)契約自由原則 (B)誠實信用原則 (C)消滅時效 (D)權利濫用禁止原則。(Ch1)
48. (承上題)民宿業者自知理虧，表明願意退費，但旅客不堪受騙，要求業者賠償20倍的住宿費用，雙方無法達成協議，因此鬧上警局。請問：雖然民宿業者的作法可議，但旅客對業者的要求也違反了《民法》規定的何項權利行使原則？(A)權利濫用禁止原則 (B)消滅時效 (C)誠實信用原則 (D)契約自由原則。(Ch1)
49. 下方是一對姐妹的通訊內容，根據兩人對話，下列說明何者「錯誤」？(Ch1)

小妹：姐，急需用錢，請借我十萬元。(訊息已讀)
大姐：OK，已經匯到妳的戶頭囉！(訊息已讀)

(A)兩人存在借貸關係 (B)兩人行為屬《民法》當中的財產關係 (C)小妹是債權人，有借用金錢的權利 (D)大姐有取得還款的權利。

50. 同學們在課堂上以演戲的方式來理解訴訟程序，下列哪一個人是扮演「原告」的角色？(Ch2)

| | |
|---|---|
| <p>(A)</p> <p>我是負責掌理案件審判職務的人員。</p> <p>阿慶</p> | <p>(B)</p> <p>我是首先提起訴訟的當事人。</p> <p>阿俞</p> |
| <p>(C)</p> <p>我接受當事人委託以協助其進行訴訟。</p> <p>阿晃</p> | <p>(D)</p> <p>我代表國家實施偵查、追訴犯罪。</p> <p>阿壯</p> |