

# 新北市立中正國民中學112學年度第二學期八年級社會科第二次段考試題

範圍：公民 B4L3~4、歷史 B4L3~4、地理 B4L3~4 班級：\_\_\_\_\_座號：\_\_\_\_ 姓名：\_\_\_\_\_

【讀卡科目請依規定畫卡，若有違反畫卡規定而影響讀卡作業之情事，一律扣總分 5 分。】

## 一、選擇題

1. 老師在公民課堂上正進行分組討論，請各組同學必須解讀下圖資料，判斷張釋之這段話的意義與何種概念相同。下列各組的回答何者「正確」？（第 3 課）
- (A) 權利濫用禁止原則
  - (B) 罪刑法定原則
  - (C) 誠實信用原則
  - (D) 以牙還牙、以眼還眼

有人從橋下跑出，驚嚇到西漢文帝所乘坐的車馬，該人被送交當時的法官張釋之處理。但張釋之只判那個人違反交通規定的處罰，此事讓文帝非常生氣而質問張釋之。張釋之當時回答的內容如下：「法者，天子所與天下公共也。今法如此而更重之，是法不信於民也。……今既下廷尉，廷尉，天下之平也，一傾而天下用法皆為輕重，民安所錯其手足？唯陛下察之。」

2. 有些行為對社會秩序或人民權利傷害很大，必須由動用「刑罰權」，用強制力對行為人加以制裁，才能伸張正義。下列關於「刑罰權」的敘述，何者「正確」？（第 3 課）
- (A) 是指國家採用刑罰處罰犯罪行為人的權力
  - (B) 如果國家濫用刑罰權，受害人民可提起「訴願」以維護自己的權利
  - (C) 只要是人民犯法的行為皆可用刑罰加以處分
  - (D) 刑罰權的行使，可由行政機關自行做成決定。
3. 小花在網路平台提問如下圖的法律問題，下列哪一位網友回答是「正確」的？（第 3 課）
- (A) 阿恩：是剝奪參政權的處罰，不能擔任公務員和公職候選人
  - (B) 小雨：是違反《刑法》犯罪行為的從刑，可以單獨科處
  - (C) 阿華：屬於剝奪自由的刑罰。
  - (D) 小潘：是刑法的主刑，不可以單獨科處。

看板>法律 Laws

作者：小花 Lesley

標題：我的朋友阿強被褫奪公權，這是什麼意思啊？

4. 水果日報報導一名 75 歲的老太太酒駕，被警方攔下後，不僅以言語辱罵對方，還出手攻擊臨檢的員警，事後老太太解釋當時因為喝醉酒而神智不清，所以完全沒有辨識能力，才導致行為不當，但警方仍將他移送法辦。關於老太太所應負擔刑事責任的說明，下列何者「正確」？（第 3 課）
- (A) 因已經高齡 75 歲，為限制責任能力人，依法得減輕其刑
  - (B) 因為當時有精神障礙，已沒有辨識能力，不需負擔刑責
  - (C) 其當時已有心智缺陷，只需負擔部分責任並可減輕刑責
  - (D) 雖酒醉但無精神障礙或心智缺陷，須承擔完全刑事責任

5. 某天晚上，庭庭在開車回家的路上，因為大雨視線不良，不小心把一位闖紅燈的老先生撞成重傷，經過調查後，檢察官依過失重傷罪將庭庭起訴，因此庭庭便委託律師進行辯護。請依上文判斷，下列敘述何者「正確」？（第 4 課）
- (A) 檢察官在本案的身分是原告
  - (B) 對庭庭提起訴訟的人是法官
  - (C) 庭庭的律師在法庭上擔任的角色是代表被告
  - (D) 最後決定庭庭是否應負刑事責任的人是書記官
6. 中正國中校慶時，有一場模擬法庭的表演，下列是同學們所扮演的角色，其中扮演「檢察官」的是何人？喬喬：「我的職務是掌理案件審判，依法獨立審判」魯魯：「我負責提解犯人、警衛事務」娜娜：「我代表國家偵查犯罪，在必要時對被告提起公訴」隆隆：「我受被告委託，協助被告進行訴訟」。（第 4 課）
- (A) 喬喬
  - (B) 魯魯
  - (C) 娜娜
  - (D) 隆隆
7. 以下是發生在中正國中 8 年 20 班學生身上的事，請判斷這些行為人應負的法律責任，並選出「正確」的配對。（第 3 課）
- (A) 在學校附近買午餐的劉小彤，拿到餐點後直接離開、未付午餐錢—刑事責任
  - (B) 江小澤因沒打掃而被衛生股長糾正，一氣之下毆打衛生股長成立傷害罪—民事責任
  - (C) 小晴放在抽屜的班費 800 元不翼而飛，偷錢者須負的法律責任—刑事責任
  - (D) 小寒向大大借用腳踏車，約定三天後返還，三天過去小寒忘記此事—行政責任
8. 挪威的巴斯托伊監獄(Bastoy Prison)有「全世界最好的監獄」之稱。囚犯們同住一起，有自己的臥室和共同設施，冬天越野滑雪，夏季水邊垂釣。挪威當局認為在獄中的生活應盡可能和外面生活相似，因為從監禁到自由的轉化過程越平順漸進，防止再犯的機率就越高。根據統計，在北歐國家中，挪威是再犯率最低的。不過，巴斯托伊並不是囚犯一開始服刑的地點，他們必須在傳統的監獄裡待上一段時間，如果表現良好，當局相信他們會洗心革面後，才有機會被調至這座「天堂島」！請問：挪威巴斯托伊監獄的措施，最能實踐下列何項目的？（第 3 課）
- (A) 報復犯罪
  - (B) 預防犯罪
  - (C) 制裁犯罪
  - (D) 矯正犯罪

後面尚有試題

# 新北市立中正國民中學112學年度第二學期八年級社會科第二次段考試題

範圍：公民 B4L3~4、歷史 B4L3~4、地理 B4L3~4 班級：\_\_\_\_\_座號：\_\_\_\_ 姓名：\_\_\_\_\_

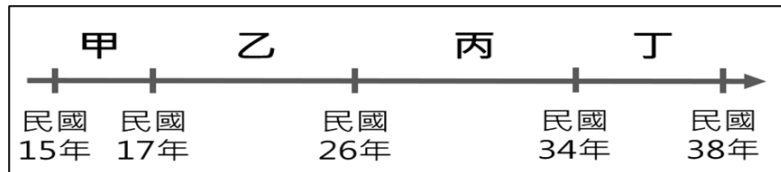
9. 制定《刑法》的目的在避免為國家對人民的利益不受非法侵犯，下列哪些敘述是「正確」的？(甲)《刑法》只能維持最低的道德標準；(乙)《刑法》可以制裁所有的違法行為；(丙)《刑法》是所有法律中最生活化的法律；(丁)刑罰是未能有效防制不法行為時的最後手段。（第3課）
- (A) 乙丙  
(B) 甲乙  
(C) 甲丁  
(D) 丙丁
10. 刑法是規定何種行為構成犯罪，以及犯罪之後如何處罰的法律。而觸犯刑法應透過司法審判程序，接受刑罰的制裁，下列相關敘述何者「正確」？（第3課）
- (A) 民行為觸犯刑法時，必須經由法官宣判刑罰後，才能加以處罰  
(B) 罰金是一種依法剝奪犯罪者財產的處罰，是不能單獨科處的刑罰  
(C) 刑罰有主刑與從刑的分別，從刑必須附隨主刑才能科處，如沒收  
(D) 無期徒刑、有期徒刑、拘役、罰金等，都是屬於剝奪自由的刑罰
11. 大名和小明因故互毆，導致小明右眼球破裂摘除難以恢復。請問小明應該要採取什麼行動比較能維護自身權益？（第4課）
- (A) 找其他兄弟私下痛毆大名，讓他付出代價  
(B) 私下和解，雙方都能接受就可以  
(C) 申請調解委員會，既免費又可強制執行  
(D) 委任律師提起自訴，交由司法審判
12. 日常生活中，人與人之間難免會發生糾紛，導致權利受到不法侵害，關於以下幾種權利救濟的方式，哪一種是「不具有」強制執行力？（第4課）
- (A) 訴訟外和解  
(B) 訴訟上和解  
(C) 交由法院核定後的調解書  
(D) 訴訟後的判決
13. 調解是由公正的第三人居間協調以解決紛爭的程序。以下的幾個案件，哪個是可以申請調解的？（第4課）
- (A) 董哥欠了陳董 100 萬一直不還  
(B) 正杰犯了殺人罪  
(C) 偉哥偷了鄰居家的黃金金條  
(D) 阿祥用情不專一，同時劈腿多名女子
14. 以下關於「告訴乃論」與「非告訴乃論」的敘述何者「正確」？（第4課）
- (A) 非告訴乃論通常是屬於情節較輕微的罪  
(B) 一般而言，民事案件大多屬於告訴乃論  
(C) 竊盜罪屬於非告訴乃論  
(D) 非告訴乃論的刑事案件大多是調解不成才會透過刑事訴訟來解決
15. 大仁上公民課時所做的筆記錯誤百出，以下是筆記的內容，下列何者「正確」？（第4課）
- (A) 小花目睹有人被搶，馬上到警局報案---自首  
(B) 小婷不甘被男友毆打成傷，自行委任律師向法院提出訴訟---告發  
(C) 檢察官偵辦公務員貪汙案，發現方姓嫌疑犯情節重大，向法院提起---公訴  
(D) 小菲在網路上受到言語霸凌，選擇到檢察署按鈴提告---自訴
16. 28 歲的小建在開車回家的路上，不小心把一位闖紅燈的 13 歲國中生撞成重傷，經過調查後，「甲」依過失重傷罪將建國起訴，因此小建便委託律師進行辯護。請依上文判斷，下列敘述何者「正確」？（第4課）
- (A) 小建是完全行為能力和限制責任能力人  
(B) 文中的「甲」應該是警察  
(C) 小建被判決的結果應該是死刑  
(D) 受重傷的國中生是限制行為能力和無責任能力

後面尚有試題

# 新北市立中正國民中學112學年度第二學期八年級社會科第二次段考試題


範圍：公民 B4L3~4、歷史 B4L3~4、地理 B4L3~4 班級：\_\_\_\_\_座號：\_\_\_\_ 姓名：\_\_\_\_\_

※請回答題組 17~19 題目



表一

17. 中華民國大學院審定的供初小學生使用的三民主義教育課本。其中討論到「關稅被不公平的條約所束縛」的問題，最早會在哪階段被解除？(P.96)  
(A)甲 (B)乙 (C)丙 (D)丁。
18. 小魚兒在筆記上寫下三個關鍵詞「動員戡亂時期」、「國民大會通過中華民國憲法」、「實施憲政」，請問：他在複習表一時，是哪階段的歷史內容呢？(P.108)  
(A)甲 (B)乙 (C)丙 (D)丁。
19. 下圖是一幅宣傳海報，宣揚軍民合作下的滿洲國，是一片樂土。請問這張宣傳海報最早可能出現在表一何時、何處？(P.97)



- (A) 甲階段的北京  
(B) 乙階段的長春  
(C) 丙階段的南京  
(D) 丁階段的臺北。
20. 「1900 年，慈禧太后默許民眾包圍北京的外國使館後，美軍第十五步兵團首次被派遣至中國保護僑民。清朝滅亡後，步兵團為確保美國人在華利益，長期駐守天津。多年之後，當日本在河北省附近發動侵華的軍事行動，與中國爆發戰爭，美國政府不願捲入戰局，因此決定撤離第十五步兵團，結束多年的派駐。」根據上文，民國 26 年美國決定在中國全面對日抗戰之後撤離第十五步兵團，最可能與下列何者有關？(P.99)  
(A) 九一八事變  
(B) 一二八事變  
(C) 盧溝橋事變  
(D) 珍珠港事變。
21. 下表為西元 1921~1949 年中共黨員人數的統計表。請根據自己的所學，選出下列錯誤的選項：(P.96~110)  
(A) 西元 1921 年到 1927 年間，中共黨員人數增加受益於國民黨的包容  
(B) 西元 1927 年初到年底，中共黨員總數銳減是因為蔣中正實施清黨

- (C) 西元 1937 年起，中共展開兩萬五千里長征，黨員人數逐漸減少  
(D) 西元 1949 年國共內戰進入尾聲，中共成立中華人民共和國。

時間(西元)	中共黨員總數
1921 年 7 月	57 人
1927 年 4 月	5 萬 7 千人
1927 年底	1 萬人
1934 年夏	30 萬人
1937 年初	4 萬人
1945 年 4 月	121 萬人
1949 年 10 月	448 萬人


22. 中共建國後，某時期的口號為：「人有多大膽，地有多大產」、「吃飯不花錢，努力搞生產」、「你躍我更躍，你高我更高，你騎千里馬，我搭火箭炮」等，農民更是潛力無窮，農業脫胎換骨，發揮神功，如：「稻粒賽玉米，黃豆像南瓜，花生像山芋，山芋趕南瓜」人可勝天。請問，上述是哪個時期的口號？(P.111)  
(A) 土地改革  
(B) 思想改造  
(C) 大躍進  
(D) 文化大革命。
23. 老師在課堂上以「中日戰爭」這段時期的歷史為背景，進行寶可夢角色扮演。下列哪個寶可夢應是扮演當時「中華民國」的角色？(P.99)  
(A) 超夢：「為了結束戰爭，我們在當地投下原子彈造成了重大傷亡。」  
(B) 皮卡丘：「我們利用這場戰爭壯大勢力，最後終於取得中國的政權。」  
(C) 夢幻：「這次戰爭使我們建立大東亞共榮圈的理想破滅，最後宣布投降。」  
(D) 炎兔兒：「這場戰爭讓我們與各國另訂平等新約，各國紛紛放棄特權。」
24. 電影「夕霧花園」馬來西亞籍的女主角，求教日本籍庭園大師，想建造一座花園來紀念受到日軍欺凌擔任慰安婦的已故妹妹，女主角與庭園大師兩人相知相惜，卻也擺脫不了大時代下的國仇家恨。請問上述電影情節的時空背景下，最早是在哪件事情發生之後？(P.100-101)  
(A) 太平洋戰爭爆發  
(B) 美軍投下原子彈  
(C) 國民政府宣布「動員戡亂」  
(D) 中共與國民政府開始爭奪日軍佔領區。

後面尚有試題

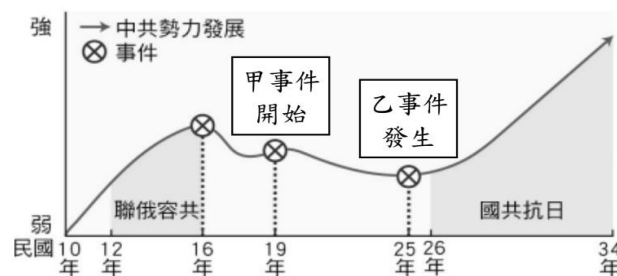
# 新北市立中正國民中學112學年度第二學期八年級社會科第二次段考試題

範圍：公民 B4L3~4、歷史 B4L3~4、地理 B4L3~4 班級：\_\_\_\_\_座號：\_\_\_\_姓名：\_\_\_\_\_

25. 右圖是 1945 年中日雙方交接臺灣主權漫畫圖。請問：太平洋戰爭期間商討反攻日本與戰後安排，促成日本將臺澎歸還給中華民國是哪一項決議？(P.100)



- (A) 開羅會議  
(B) 平等新約  
(C) 雅爾達會議  
(D) 巴黎和會。
26. 法國巴黎政治學院的世界知名漢學家白夏教授，在一則專訪中提到：「西元 1968 年……，學生抗議政府的教學體制改革，100 多名學生占領了校長的辦公室，當時，誰也沒有預想到這一事件會引發如此巨大的社會風暴。但是，學生占領辦公室事件顯示當時的教學危機已經非常嚴重。……我當時 18 歲，我也認為造反有理，當時我們根本不了解中國正在發生的事是怎麼回事。我們又年輕，又不懂中文，對中國與他的領導人一點兒也不了解。……只是知道造反有理，年輕人站起來了，等等類似的標語，覺得非常有吸引力。」(節錄自法國廣播電臺中文網頁)  
請問：上述法國的學運現象正是受中國哪一事件的影響？(P.113)
- (A) 大躍進  
(B) 國共內戰  
(C) 黃金十年  
(D) 十年浩劫。
27. 國民政府抗戰勝利後，不到四年便在國共內戰中戰敗，遷到臺灣，其失敗原因錯綜複雜。下列何者是國民政府失敗的原因？(甲)物價飛漲，通貨膨脹嚴重 (乙)官員貪污腐化，大失民心 (丙)施行土地改革，引發農民的不滿 (丁)堅持不施行憲法。(P.109)
- (A)甲乙丙丁 (B)甲乙 (C)乙丙丁 (D)丙丁。
28. 1975 年，蔣中正去世後，張學良曾寫了一副「關懷之殷，情同骨肉；政見之爭，宛若仇讎」輓聯悼蔣，並稱蔣對他是「白粉知己」，兩人的情誼最後卻因對何事看法不同而鬧翻，從此宛若仇讎（敵人）？(P.98)
- (A)聯俄容共 (B)安內攘外 (C)以華制華 (D)速戰速決。
29. 中國國民黨與中國共產黨的分合示意圖(見圖一)，兩黨的發展影響著現代中國的歷史走向，其中「甲」事件開始使得中共勢力縮減，直到「乙」事件發生才使中共轉危為安。請問：「甲」與「乙」事件分別為何？(P.96、98)



【圖一】中國國民黨與中國共產黨的分合示意圖

- (A) 「甲」九一八事變、「乙」聯共抗日  
(B) 「甲」北伐軍閥、「乙」清黨  
(C) 「甲」開始剿共、「乙」西安事變  
(D) 「甲」萬里長征、「乙」七七事變。
30. 一封家書中寫道：「父母親大人膝下平安，烽火三月，家書抵萬金，兒一切平安勿掛懷……，日本軍隊不堪石油禁運，資源不足，襲擊美國軍事基地，企圖併吞英美殖民地，美國已正式對日宣戰，與我國共同合作，相信勝利已在不遠處。兒衷心期盼戰爭早日結束，好讓我們重返家園團聚，承歡膝下。」寫此封家書應為何國人？(P.100)
- (A)中國國軍 (B)美國空軍 (C)德國陸軍 (D)日本皇軍。
31. 日本裕仁天皇(1926 年 12 月 25 日~1989 年 1 月 7 在位)，年號昭和，統治期間經歷了國內軍事政變以及對外侵略戰爭，日軍甚至犯下屠殺、細菌戰等多條殘酷的戰爭罪行。1929 年的經濟大蕭條進一步促進日本軍國主義和擴張主義的政策，請問下列何者「不是」受到上述政策影響而採取的行動？(P.97-100)
- (A)併吞琉球 (B)南京大屠殺 (C)九一八事變 (D)太平洋戰爭。
32. 國民政府在「十年建設」期間，以有限的財力推動各項現代化措施，提升了國家的實力與信心，奠定了日後國家抗戰的基礎。請問：下列何者是國民政府在這十年期間達成的重大成就？(P.96)
- (A) 參加開羅會議，收回部分主權  
(B) 創辦陸軍軍官學校，提升軍隊實力  
(C) 參加聯合國，成為常任理事國  
(D) 發行法幣，統一混亂幣制。
33. 以下內容出自於一位臺灣老兵的受訪紀錄：「在那個時代，我先是接受政府徵調當了日本軍，到重慶去打仗，隨著戰爭的結束，我又當了中國兵，跑到東北打共產黨，但這都不是自己的選擇，是時代的悲哀。」這位臺灣老兵所描述的，應是他在下列何時的遭遇？(P.99~100)
- (A)1910 年代 (B)1920 年代  
(C)1930 年代 (D)1940 年代。

後面尚有試題



新北市立中正國民中學112學年度第二學期八年級社會科第二次段考試題

範圍：公民 B4L3~4、歷史 B4L3~4、地理 B4L3~4 班級：\_\_\_\_\_座號：\_\_\_\_ 姓名：\_\_\_\_\_

34. 離開家鄉前往異國工作的米飛，利用穆斯林應用軟體的指北針指出麥加的方向，如圖所示。請問，米飛前往工作的國家最有可能為下列何地？(P.42)
 

(A) 日本(B) 斯里蘭卡  
(C) 摩洛哥(D) 土耳其
35. 嚴格遵守教義的穆斯林常給人一種保守、堅忍、團結和強悍的印象，這種文化特色的形成原因眾多，其中哪一個自然因素與此特色關係最密切？(P.42)
 

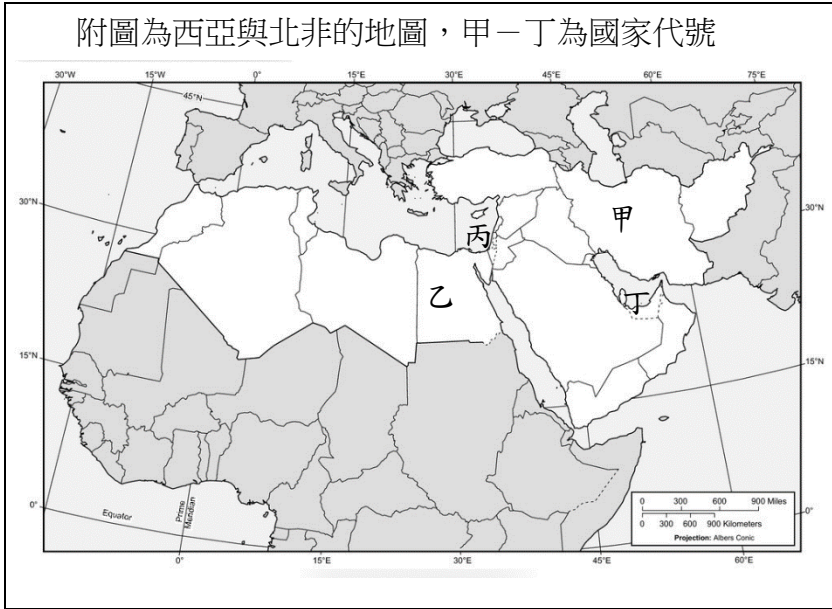
(A) 位於歐、亞、非三大洲交接帶  
(B) 板塊擠壓帶多位於本區的北部  
(C) 山坡與平原交接處可發現水源  
(D) 年降水量較少使生活資源缺乏
36. 右圖為以色列的氣候圖，由圖中資料判斷下列何者錯誤？(P.37)
 

(A) 以色列為溫帶地中海型氣候  
(B) 夏季少雨是受距海遠近影響  
(C) 七月少雨成因同撒哈拉沙漠  
(D) 冬季降雨主要是因西風吹拂
37. 某宗教的全球年度大型集會活動在2017年約有235萬人參加。下表中資料為該年參與者的來源國及其人數，該宗教信仰最有可能為何？(P.36)
 

(A) 道教(B) 天主教(C) 印度教(D) 伊斯蘭教

國家	人數	國家	人數
沙烏地阿拉伯	600,108	伊朗	86,500
印尼	221,000	土耳其	79,000
巴基斯坦	179,210	奈及利亞	79,000
印度	170,000	阿爾及利亞	36,000
孟加拉	127,198	摩洛哥	31,000
埃及	108,000	其他	635,106

※38至41題為題組，閱讀下列圖文後回答問題：



38. 該地區作為同一文化區，主要是依據哪一項人文環境的同質性？(P.36)
 

(A) 經濟發展程度 (B) 主要宗教信仰  
(C) 建築景觀特色 (D) 各國官方語言
39. 附圖所出現的水源利用方式，最有可能出現在圖中何處？(P.40)
 

(A) 甲(B) 乙  
(C) 丙(D) 丁
40. 承上題，此地的氣候圖最有可能為下列何者 (P.40)
 

(A) 年均溫-15.2℃ 年降水量171mm  
(B) 年均溫31.0℃ 年降水量110mm  
(C) 年均溫26.0℃ 年降水量696mm  
(D) 年均溫26.7℃ 年降水量2,150mm
41. □□□自古即是阿拉伯半島地中海沿岸最重要的政經、文化中心，雖舊城區面積僅 0.9 平方公里，卻分為四個宗教文化區。上述中的□□□，為圖中的哪一地區？(P.47)
 

(A) 丙-麥加(B) 丙-耶路撒冷  
(C) 乙-麥加(D) 乙-耶路撒冷
42. 西元 2022年在卡達舉辦世界杯足球賽，比賽於當地時間11月21日13時正式開戰，這是第一次在北半球冬季進行的世界杯比賽。這次世界杯足球賽選擇在冬季開賽最主要的原因為何？(P.38)
 

(A) 避免炎熱高溫的氣候(B) 配合南半球國家季節  
(C) 石油銷售淡季的期間(D) 擴大參賽國家的數量

後面尚有試題

新北市立中正國民中學112學年度第二學期八年級社會科第二次段考試題

範圍：公民 B4L3~4、歷史 B4L3~4、地理 B4L3~4 班級：\_\_\_\_\_座號：\_\_\_\_ 姓名：\_\_\_\_\_

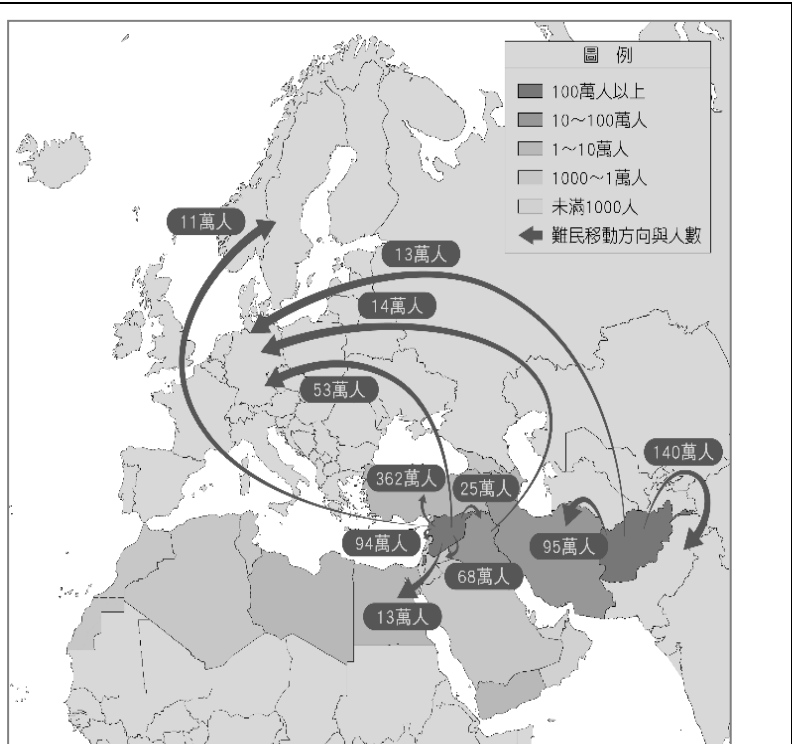
※43至45題為題組，閱讀下列圖文後回答問題：

1990年，土耳其在幼發拉底河的上游建造西亞最大的水壩——阿塔圖克水壩，而阿塔圖克，正是土耳其國父的名字。該水壩的完工不僅每年可供應大量的電能，也讓土耳其東部至敘利亞的邊境一帶獲得水資源，其中，哈爾蘭平原和周邊的土地從原本荒蕪的沙漠，到如今四處可見耕作中的農田。雖然阿塔圖克水壩帶動附近地區經濟、農業甚至觀光的发展，但築壩攔水的結果導致下游國家的抗議，由於流域內的國家都各自宣稱有其用水權，導致水資源爭奪成為國際衝突的導火線。

43. 根據該地區的氣候判斷，當地最適合種植的經濟作物為何？(P.40)  
(A) 棉花(B) 橡膠(C) 咖啡(D) 黃麻
44. 文章中，因為築壩攔水而起衝突的國家最有可能為下列何者？(P.48)  
(甲)敘利亞(乙)伊拉克(丙)阿富汗(丁)沙烏地阿拉伯  
(A)甲乙(B)乙丙(C)丙丁(D)甲丁
45. 西亞地區除了上述水源問題之外，尚有許多紛爭出現，下列何者國與國之間的紛爭問題分類錯誤(P.50)

(A) 石油衝突	(B) 領土衝突	(C) 宗教衝突	(D) 民族衝突
伊拉克	敘利亞	以色列	庫德族
科威特	土耳其	阿拉伯	阿拉伯人

※46至48題為題組，閱讀下列圖文後回答問題：



附圖西亞與北非各國的難民概況，與難民移動方向。請回答下列問題。

46. 附圖顯示西亞與北非各國難民移動的主要方向為何？(P.51)  
(A)從北非移至西亞 (B)從西亞、北非移至歐洲  
(C)從西亞移至北非 (D)從歐洲移至西亞、北非
47. 根據西亞與北非各國難民移動的主要方向判斷，若要以海路方式逃亡，會選擇渡越下列哪一海域？(P.51)  
(A) 地中海(B) 大西洋(C) 紅海(D) 裏海
48. 造成附圖移動現象的主要因素應為下列何者？(P.51)  
(A) 因移出區經濟發展條件差，尋求更佳環境  
(B) 因他國石油開採經濟起飛，需要大量勞力  
(C) 因移出區政治局勢動盪不安，需尋求庇護  
(D) 因移出區多四季乾燥少雨，氣候條件不佳
49. 近期台灣的連鎖量販店開始出現帶有清真認證標誌的食物，此標誌是意味該食物內不含又下列何者成分？(P.42)  
(A)牛肉 (B)豬肉  
(C)羊肉 (D)魚肉
50. 關於掌握全球主要石油開採與蘊藏的石油輸出國家組織（opec），下列敘述何者正確？(P.49)  
(A)目的在於壟斷全球的石油生產、控制價格  
(B)協調會員國石油政策，控制產量穩定價格  
(C)主要國家有利比亞、伊拉克、俄羅斯等國  
(D)每日輸出量占全球石油輸出數量90%以上



試題結束