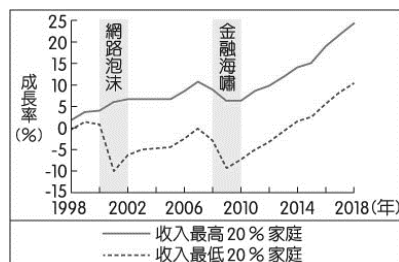


【讀卡科目請依規定畫卡，若有違反畫卡規定而影響讀卡作業之情事，一律扣總分5分。】

### 一、選擇題(每題2分，共100分)

1. 圖(1)呈現我國1998至2018

年間，收入最高20%家庭與收入最低20%家庭的可支配所得成長率變化，其中灰階區塊是曾發生經濟成長率大幅衰退的兩段時間。以下有關兩個灰階區塊，對社會產生的影響，



(圖 1)

何者與此圖呈現的現象相符合？(習作P.53改題)

- (A)由於網路泡沫造成區域間發展不均
- (B)由於金融海嘯反而縮小了貧富差距
- (C)收入較低者的生活皆受到嚴重衝擊
- (D)收入較高者的財富皆受到嚴重減損

2. 許多父母要求孩子傾盡全力專注於課業，甚至自己縮衣節食也甘願，只希望小孩長大以後可以有比自己更好的生活。請問：父母希望孩子未來，可以比自己在經濟上或獲得資源上更容易一些的想法與下列何項概念最為相關？(P.162-164)

- (A)社會階級
- (B)社會流動
- (C)國民責任
- (D)國民教育

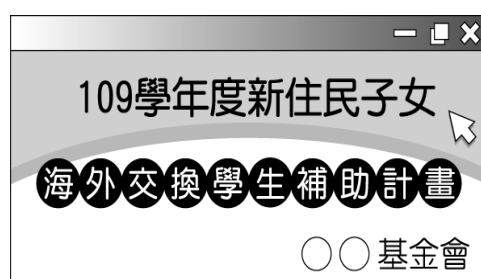
3. 圖(2)有兩位爸爸正在就他們所煩惱的事情進行分享，從他們煩惱的事情，可以看出社會中哪一方面的不公平？



(圖 2)

- (A)貢獻程度
- (B)責任負擔
- (C)需求滿足
- (D)利益分配(P.164-165)

4. 在許多學術的研究上都發現個人成年後的社會地位與家庭背景有極大的相關，圖(3)的某基金會是在改善社會中哪一方面的不公平現象？



(圖 3)

- (P.152-153)
- (A)貢獻程度
- (B)責任負擔
- (C)需求滿足
- (D)利益分配(P.164-165)

5. 根據圖(4)芳瑜的說法，可知全民健康保險制度，具有達成以下何項目標的作用？(P170)

- (A)保障人性尊嚴
- (B)保障人生自由
- (C)保障社會安全
- (D)保障言論自由



(圖 4)

6. 圖(5)是某地方政府根據長者年齡給予不同金額的敬老金規定，請問：此種敬老金的發放制度是以下何種社會福利？(習作P.57改題)

重陽敬老禮金發放對象	金額
65~89 歲長者 (含 55 歲以上原住民)	2,000 元
90~94 歲長者	3,000 元
95~99 歲長者	5,000 元
100 歲以上長者	10,000 元

(圖 5)

- (A)社會救助
- (B)就業安全
- (C)社會津貼
- (D)福利服務

7. 天賜在鄉公所

當課長，圖(6)是他公開向地方居民宣傳的內容，請問：牡丹鄉公所在七年中所從事的工作是社會福利措施中的哪一部分？



(圖 6)

(P.172-174)

- (A)福利服務
- (B)社會救助
- (C)就業安全
- (D)社區營造

8. 「美國運通百夫長卡服務號稱只要是合法的事都可以使命必達，其申辦條件為邀請制，只有經過審核有一定財力且具有足夠社經地位者才能獲邀申辦」上述這段話凸顯了以下哪一項現實面？(P.162-167)

- (A)社會地位會影響個人取得資源的能力與機會
- (B)能力高的人沒有資源不足或分配不公的問題
- (C)社會地位無法改變個人在社會上的遭遇處境
- (D)政府的補貼無法改變資源缺乏或不公的現象

9. 圖(7)是一對夫妻在共同生活中的對話。依據對話內容，兩人準備利用以下何種社會福利措施，滿足生活所需？(P.172-174)



(圖 7)

- (A)社會保險
- (B)居住正義

# 新北市立中正國民中學112學年度第二學期七年級社會科第三次段考試題

範圍：公民 B3L5~6、歷史 B3L5~6、地理 B3L5~6 班級：\_\_\_\_\_座號：\_\_\_\_姓名：\_\_\_\_\_

- (C)社會救助  
(D)福利服務
10. 星宇航空董事長張國煒在一場演講中回應網路民眾關於「還不是靠老爸遺產」的評論，直言「我跟各位講，沒有錯，我一點也不覺得這有甚麼不對，我就是靠我老爸的遺產才成立星宇航空的」，請問在他的言語中代表了什麼對他的影響? (P.162-163)
- (A)社會流動  
(B)性別角色  
(C)公平正義  
(D)家庭資源
11. 台北市政府城市導引員計畫使無家者成為推展萬華區城市觀光的第一線人員。無家者工作半天的薪資為500元，他們分別會在捷運龍山寺1號、2號出口、西園路與廣州街口等處舉牌，牌上印有多國語言的標示，提供觀光客在萬華車站、剝皮寮史街區等地標的指示。許多參加這個計畫的無家者表示，這個短期銜接的工作，使他們開始主動希望尋找更好的工作職缺。請問：政府推動此計畫，具有達成以下何項社會福利政策的作用?
- (A)就業安全  
(B)公共安全  
(C)社會保險  
(D)社會津貼 (P.171-173)
12. 新型冠狀病毒疫情期間，為照顧生活不能自理之受隔離或檢疫者，因為請假，或無法從事工作致使收入受影響者，政府依據《嚴重特殊傳染性肺炎防治及紓困振興特別條例》給予防疫補償。請問：此防疫補償的規定是屬於以下何種社會福利?(習作P.57改題)
- (A)社會津貼  
(B)社會保險  
(C)社會救助  
(D)福利服務
13. 下列有關社會安全的敘述，何者正確? (P.171)
- (A)政府有公權力需擔負起全部的社會安全責任  
(B)社會安全重視遭遇困境的人能維持基本生活  
(C)宗教團體提供的物資不屬於社會安全的一種  
(D)推行社會安全制度引起勞資對立、貧富差距
14. 社會安全的基本是「社會互助、共同承擔風險」請問下列何者「不屬於」社會安全中的社會保險?(P.170)
- (A)貝兒從出生就開始強制納保的「全民健康保險」  
(B)艾莉兒從入學就開始獲得的「學生平安保險」  
(C)花木蘭從就業後開始加入的「勞工保險」  
(D)仙杜瑞拉退休後才能領的「老人年金」
15. 行政院去年6月通過「拉近公私立學校學雜費差距及其配套措施方案」，今年2月實施，提供超過60萬私立大專學生，每學年3.5萬元的學雜費補助，經濟弱勢學生還有另外加碼1.5萬到2萬元。請問：行政院推行此方案，對於社會可能帶來哪一方面的助益? (P.171)
- (A)追求公平正義  
(B)避免任何歧視  
(C)提高招生數量  
(D)減緩城鄉差距
16. 碧姬航空是一間新的航空公司，為了凸顯特色，公司規定空服員需穿上粉紅色公主服裝的制服，在徵才面試中發生了問題，請問基於公平正義原則，下列何者敘述較為正確?
- (A)庫巴堅持烏龜殼是他的個人特色，因此堅持要在制服外背上他的龜殼，且公司不能因此拒絕錄取  
(B)馬力歐認為他可以用跳躍的方式，達到關閉座位上方行李箱的任務，公司應該要錄取他  
(C)黛西公主認為他是碧姬公主的好朋友，可以不用經過面試就被錄取  
(D)路易吉認為雖然他穿公主服裝會露出毛毛腿，但其他各項表現都比其他競爭者好，公司不能以這個理由拒絕錄取他 (P.166-167)
17. 某位中共領導人曾說：「我們都是中國人，三十六計，和為上計。金門戰鬥，屬於懲罰性質。……臺、澎、金、馬是中國的一部分，不是另一個國家。世界上只有一個中國，……你們領導人與美國人訂立軍事協定，是片面的，我們不承認，應予廢除。……13萬金門軍民，供應缺乏，飢寒交迫，難為久計。……我已命令福建前線，……暫以七天為期，停止砲擊，你們可以充分地、自由地運輸供應品……。」(P.105、P.106)
- 請問：根據上述資料內容，以下何者正確?
- (A)「你們領導人與美國人訂立軍事協定」指的是臺灣關係法的制定  
(B)此時兩岸情勢應屬「政治對峙」階段  
(C)從金門戰鬥、停止砲擊可以推論此時是八二三炮戰  
(D)以上說法皆正確
18. 黃春明的兒子的大玩偶、王拓的金水孀等是民國60年代左右，一些作家以臺灣的鄉土民情為題材，關注農民、勞工等小人物的遭遇，所創作出來的作品。如何稱呼這些強調鄉土情感，關懷本地人民生活的作品(P.116)
- (A)懷舊文學  
(B)國語文學  
(C)鄉土文學  
(D)世界文學
19. 研討會有一篇學術論文的標題為《從一國兩制到三民主義：試析兩岸分治下對中國統一問題的研究》。請同學依據臺灣史的常識判斷，關於該論文所敘述的內容，下列何者正確? (P.107)
- (A)三民主義統一中國是兩岸分治之初由中共提出  
(B)一國兩制的國指的是中華民國  
(C)中華民國的官民均支持一國兩制  
(D)一國兩制與三民主義統一中國幾乎是同時期提出的政治概念

後面尚有試題，請繼續作答



# 新北市立中正國民中學112學年度第二學期七年級社會科第三次段考試題

範圍：公民 B3L5~6、歷史 B3L5~6、地理 B3L5~6 班級：\_\_\_\_\_ 座號：\_\_\_\_\_ 姓名：\_\_\_\_\_

20. ICRT 是目前臺灣頗富知名度的電臺，其播放的熱門音樂，為喜愛美國流行文化的人士所熱愛。ICRT 的前身為美軍在臺電臺，反映其成立時，我國與美國有著緊密的官方軍事合作。請問：ICRT 最早有可能何時即存在？(P.104)

(A)光復初期 (B)韓戰爆發後  
(C)我國解除戒嚴後 (D)我國退出聯合國後

21. 請將以下事件按時間先後次序排列：(P.112~P.113)

(甲)進口替代  
(乙)十大建設  
(丙)出口導向  
(丁)產業升級

(A)甲乙丙丁 (B)甲丙丁乙  
(C)乙甲丙丁 (D)甲丙乙丁

22. 學者針對臺灣 1950 年代某政策的看法如下：幾乎在一夜之間，臺灣鄉下不再受一小撮大地主壓迫，而是由一大群小規模自耕農當家。到了 1973 年，80%的農民是自耕農，另外 10%是半耕農，只有 6%的農家所得要繳給地主或放貸者，這使得臺灣的所得分配遠比其他國家更為平均。請問：上述政策指的是下列何者？(P.112)

(A)土地改革 (B)出口導向  
(C)十大建設 (D)產業升級

23. 阿章暑假去某外島旅遊，並拍下了圖一的兩張照片。根據照片內容推論，阿章應是去圖二中哪一地點？(P.106)

(A)甲 (B)乙 (C)丙 (D)丁



24. 西元 1988 年 12 月 28 日，在臺北市有一場大規模示威遊行，抗議《廣播電視法》對方言節目處處限制，要求電視臺製播客語節目，重建多元化、開放的新語言政策。遊行者戴著口罩並高舉孫中山遺照，由孫中山擔任名譽總領隊，遊行文宣為：「如果國父孫中山還活著的話，他上電視也不能說自己的客家話。」

請問：這個遊行在爭取什麼權益？(P.115)

(A)孫中山上電視的機會  
(B)客家族群上電視的機會  
(C)客家話在公開媒體的使用  
(D)要求電視臺播放孫中山相關節目

25. 1970 年代初期，中東爆發戰爭，沙烏地阿拉伯領導主要石油輸出國發動石油禁運，報復支持以色列的西方國家，石油價格因此在短期內大漲，造成全球性的經濟危機。當時臺灣推動下列哪一項措施，降低了此危機對國內經濟的衝擊？(P.112~P.113)

(A)加入國際組織 (B)設立科學園區  
(C)實施十大建設 (D)推行土地改革

26. 有一張高雄愛河的老照片說明如下：「照片中河的對岸是著名的玫瑰聖母聖殿主教座堂，教堂前的馬路有吉普車、載滿貨物的卡車、自行車，但少見小客車，還依稀可見海軍(駐臺美軍)的身影。」

根據題幹，請問照片拍攝的背景最可能是下列何時？

(P.112~P.113)

(A)1860 年代，清末開港通商後的繁榮高雄  
(B)1910 年代，日本總督府完成西部公路建設  
(C)1960 年代，臺灣實施經濟改革，發展出口導向時期  
(D)1980 年代，十大建設發展交通、鋼鐵等重工業

沛蓉翻閱兩岸外交關係發展史，當中有四段文字，請根據文字內容回答第 27 題至第 30 題：

- (甲)恢復中華人民共和國的一切權利，承認他的政府之代表為中國在聯合國組織的唯一合法代表，並立即把蔣中立的代表從它在聯合國組織及其所屬一切機構中所非法占據的席位上驅逐出去。  
(乙)美國為防堵共產勢力擴張，派遣第七艦隊巡防臺灣海峽，確保臺海安全。  
(丙)不再堅持中華民國是代表中國的唯一合法政府，強調兩岸是分裂分治的對等政治實體。  
(丁)臺灣人民拿著「卡特無恥」的抗議標語，群聚在臺北松山機場外，朝著來訪的美國代表團車輛，激憤的丟擲雞蛋……，四周不斷的傳出民眾憤怒的抗議聲……。

- 27.(甲)事件對臺灣造成的影響是？(P.105)

(A)中共對臺灣發動武力進犯  
(B)我國正式進入務實外交階段  
(C)臺灣以三不政策回應中共  
(D)邦交國逐漸減少

28. (乙)事件對臺灣造成的直接影響為何？(P.104)

(A)臺灣正式成為西太平洋反共防禦體系之一環  
(B)美援協助臺灣發展直至中美斷交  
(C)美國頒布臺灣關係法，提供臺灣軍事、經濟援助  
(D)臺灣成立海基會與中國大陸進行協商

29. (丁)事件對海峽兩岸的關係造成何種影響？(P.107)

(A)中共對臺灣改採和平統戰策略  
(B)中共發動八二三炮戰，進攻金門  
(C)中共對臺灣提出三不政策  
(D)美國協助中共，以武力促使臺灣與中共統一

30. 請將上述四段文字依時間先後順序排列，正確順序應為何者？(P.104、P.105、P.107)

(A)甲乙丁丙  
(B)乙甲丁丙  
(C)乙丁甲丙  
(D)丁乙丙甲

背面尚有試題，請翻頁繼續作答

# 新北市立中正國民中學112學年度第二學期七年級社會科第三次段考試題

範圍：公民 B3L5~6、歷史 B3L5~6、地理 B3L5~6 班級：\_\_\_\_\_座號：\_\_\_\_ 姓名：\_\_\_\_\_

請根據兩則資料，回答第 31 題至第 33 題：

資料一：

第 40 屆「國際民用航空組織」(ICAO)大會訂於民國 108 年 9 月 24 日在加拿大蒙特婁 ICAO 總部開議，我國今年雖然再度因為政治因素而未能受邀與會，令人深感遺憾，但是我案在國際上所獲得的支持更甚於 105 年，充分顯示將臺灣納入 ICAO 的必要性及急迫性，已獲得國際社會普遍的認同，各國並以多元的方式表達支持，有助我案持續穩定向前邁進，外交部對此表示誠摯感謝之意。

資料二：

「國際刑警組織」(INTERPOL)第 88 屆大會於民國 108 年 10 月 18 日閉幕。外交部今天表示，雖然臺灣再因政治因素而未能獲邀以觀察員身分與會，不過，有 6 個友邦與會代表在大會為臺執言，呼籲應將臺灣納入。

31. 上述兩則資料反映臺灣的外交困境，造成此現象的原因，主要與哪個國家的打壓有關？(P.105)

(A)英國 (B)日本 (C)北韓 (D)中華人民共和國

32. 承第 31 題，該國於民國 68 年與美國建交後，對臺灣的政策有所改變。下列哪一個是其採取的對臺政策？(P.107)

(A)承認臺灣獨立 (B)採取一國兩制  
(C)合作對抗列強 (D)完全斷絕聯絡

33. 在面對此外交困境下，目前臺灣的應對政策為何？(P.105~P.107)

(A)堅持一個中國主張  
(B)以政治民主化的成果積極參與國際組織與活動  
(C)推動三不政策  
(D)強調三民主義統一中國

※34至35題為題組，閱讀下列文章後回答問題：

0403花蓮地震，花蓮成為重災區。小芳整理了過去蘇澳到花蓮的山區路段改善計畫如下：

「蘇花改計畫分為蘇澳到東澳、南澳到和平以及和中到大清水三個路段，是國內第一座長隧道群之省道公路。已於西元2020年1月6日開放全線通車，提供宜蘭與花蓮居民一條安全、可靠及環境永續的道路。」

34. 蘇花改因穿越山勢陡峭的地區，故為一特殊設有長隧道群的省道公路。根據文中所述與所學知識判斷，蘇花改所經過的「山區」為下列哪一座山脈？(P.50)

(A)阿里山山脈 (B)海岸山脈  
(C)中央山脈 (D)雪山山脈

35. 從文中提到的蘇花改路段特性可知，公路與鐵路相較，具有下列優點？(P.50)

(A)運載量大 (B)適應地形能力較佳  
(C)無交通阻塞 (D)較為適合長程

36. (甲)人口密度較高(乙)高樓大廈較多(丙)人口總數較多(丁)從事第一級產業比例較高。台北市若與宜蘭、花蓮縣的聚落相較，具有那些特徵？(P.48)

(A)甲乙丙  
(B)甲丙丁  
(C)甲乙丁  
(D)乙丙丁

37. 觀光局推出探索圖(一)中十個島嶼的活動。小芳的外國朋友想來臺灣進行島嶼旅遊，她為友人規畫了下列行程：「先浮潛、欣賞當地原住民的地下屋及品嘗飛魚料理；接著前往欣賞柱狀玄武岩及石滬景觀；最後參觀保存最完整；遇見最美的浪湧「藍眼淚」行程。」上述行程依序應為圖中哪些島嶼？(P.64)



(A) ③→⑤→⑧  
(B) ③→⑤→⑩  
(C) ②→⑦→⑨  
(D) ④→⑥→⑩

38. 阿正從雲林北上工作，選擇住在新北市土城區，每天選擇大眾運輸工具代步，往返於臺北市工作，假日也會到桃園市遊玩。請問：這種都市範圍不斷擴張，使得都市和鄰近大小市鎮在經濟上、生活上緊密地結合在一起，構成一個不可分割的複合體區域，此一區域稱為下列何者？(P.53)

(A)中心商業區  
(B)都會區  
(C)郊區  
(D)農業園藝區

39. 台灣因開發先後、地理環境等不同條件，在經濟發展、資源分配上存在區域差異。以下有兩項相關資料統計表：(P.59)

2021年臺灣四個行政區的部分設施、機關、產業統計資料			
行政區	急救責任醫院數	大專院校	便利商店
(甲)臺北市	17	26	2215
(乙)雲林縣	4	3	414
(丙)苗栗縣	4	3	522
(丁)臺東縣	2	2	169
「某行政區」的三級產業就業人口比例			
第一級產業	第二級產業	第三級產業	
0.2%	18.8%	81.0%	

請問：「某行政區」最有可能是哪一個行政區？

(A)甲 (B)乙  
(C)丙 (D)丁

後面尚有試題，請繼續作答



# 新北市立中正國民中學112學年度第二學期七年級社會科第三次段考試題

範圍：公民 B3L5~6、歷史 B3L5~6、地理 B3L5~6 班級：\_\_\_\_\_座號：\_\_\_\_\_姓名：\_\_\_\_\_

40. 圖(二)為臺灣習慣上的地理分區，若歐亞板塊與太平洋板塊接觸帶有發生海嘯的可能時，圖(二)中哪一區域的沿海居民受到的威脅相對最小？(P.56)

(A)甲  
(B)乙  
(C)丙  
(D)丁

(圖二)



41. 「頭城古稱「頭圍」，由清嘉慶年間(1796年)，福建漳州人吳沙率領漳、泉、粵流民拓墾蘭陽平原，進入平原後，築起土圍建立的第一個據點。」請問：頭城聚落早期形成的原因？(P.48)

(A)開採礦產  
(B)防禦需求  
(C)軍屯政策  
(D)對外貿易

42. 小芳利用寒假環島旅行，他對其中一段旅程的紀錄為：「我在這片全臺灣原住民族人數最多的後山，看到多元族群互動，感受了多元文化的交流……」若以國土發展計畫中，對各區域的規畫來看，紀錄中所提到這個地方的規畫，應為下列何者？(P.61)

(A)發展高科技與文創軟實力  
(B)維護生物多樣性，保護國家珍稀資源  
(C)重視海洋資產的保護  
(D)發展成適宜居住的優質生活產業帶

43. 「浪漫臺三線」是政府於2016年起規畫推動的政策，主要是希望帶動臺三線沿線的客家鄉鎮的發展。2023年更舉辦「臺三線藝術季」以「客家小鎮」為展場，讓民眾認識經典客家文化。請問：該計畫屬於下列哪一個軸帶的範圍？(P.61)

(A)東部優質生活產業軸  
(B)離島生態觀光區  
(C)西部創新發展軸  
(D)中央山脈保育軸

44. 承上題，「2023臺三線藝術季」主要分布在某一區地形區？(P.61)

(A)彰化平原  
(B)嘉南平原  
(C)八卦台地  
(D)竹苗丘陵

※45至46題為題組，閱讀下列圖文後回答問題：

民國六十年代，當時台灣在外交上遭受嚴重的挫折，形勢孤立，因此政府決定發展重工業以造就自立的經濟體系，推動「十大建設」，造就了很多就業機會，國內產業也從農業逐漸轉為工業社會。都市化快速發展，很多鄉村青年大量遷移至都市就業。以民國64年為例，當時台灣人口約為1600萬人，而都市人口約為

900萬人，都市人口遠遠超過鄉村人口；政府也必須解決城鄉差距擴大與區域發展差異。

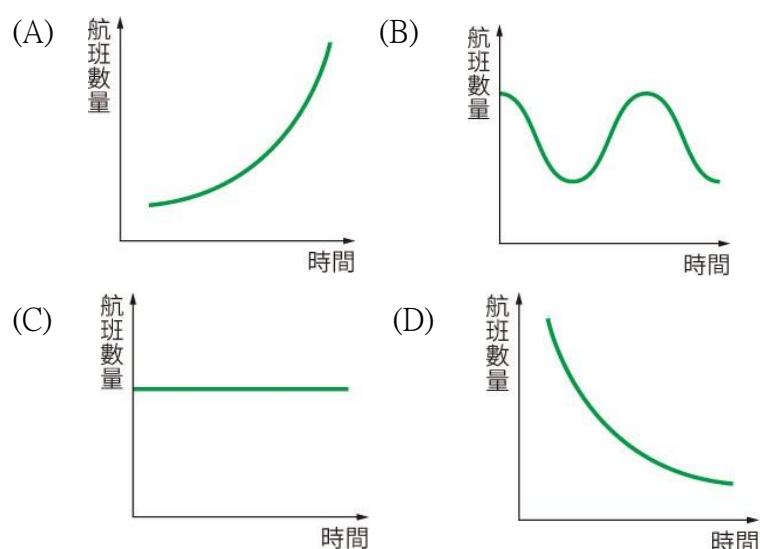
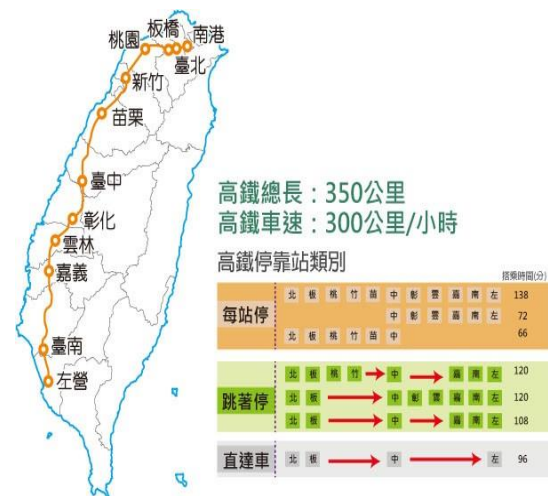
45. 臺灣四面環海，國際貿易是臺灣經濟發展的命脈，故海運為十大建設重大交通項目之一，這與海運的哪項特性有關？(P.51)

(A)運輸速度快 (B)運費低廉  
(C)維修成本低 (D)機動性高

46. 在臺灣經濟轉型的過程中，由於都市的便利性高、就業機會多，導致臺灣走向都市化發展。根據文章內容，在民國64年，臺灣的都市化程度為何？(P.48)

(A)50% (B)60%  
(C)56% (D)75%

47. 根據圖(三)「高鐵停靠站分布圖」。2007年高鐵通車以來，大幅縮短臺灣南北的交通往來時間，達成「北高生活一日圈」的。在區域均衡發展架構下，交通部於2019年啟動高鐵延伸宜蘭計畫。並於2022年啟動高鐵南延屏東六塊厝站，高鐵延伸有利帶動科技等相關產業發展。請問：下列何者最可能為2007年高鐵通車後，臺灣本島西部空運航班數量的變化圖？(P.50)



背面尚有試題，請翻頁繼續作答

新北市立中正國民中學112學年度第二學期七年級社會科第三次段考試題

範圍：公民 B3L5~6、歷史 B3L5~6、地理 B3L5~6 班級：\_\_\_\_\_座號：\_\_\_\_ 姓名：\_\_\_\_\_

48. 承上題，住在新北的小鈞，時常搭乘高鐵往返臺中看棒球比賽。假設高鐵延伸至屏東、宜蘭後，參考圖(三)小鈞搭乘高鐵時，會有下列哪些發現？(P.50)

- (甲)臺北至臺中路段途經的高鐵站點變多
  - (乙)返程時，直達車到達臺北的行車時間不變
  - (丙)從臺北出發時，發現車廂內有從宜蘭上車的乘客
  - (丁)臺北至臺中路段，「跳著停」
- 的車次行駛時間變長

- (A)甲乙 (B)甲丙
- (C)乙丙 (D)丙丁

49. 有網友近期發文，表示臉書好友分享如右圖(四)以「臺灣切西瓜」貫通南北路線的方式，由新北市的富貴角一路開到屏東縣的鵝鑾鼻，完成另類壯舉，看路線就感到很困難，而貼文一出後，不少網友也分享經驗，並表示這比環島還要累人。請問：有關附圖路線經過的地點，下列哪一敘述正確？(P.56)

- (A)經過的聚落大多為都市
- (B)必經過臺灣五大山脈
- (C)沿途可能會經過彰化縣
- (D)可能因地形影響通訊品質

50. 承上題，此切西瓜直線環臺路線若以國土發展計畫中，對各區域的規畫來看，圖中所規畫的路線，應為下列何者？(P.56)

- (A)強調都市與創新產業發展
- (B)發展成適宜居住的優質生活產業帶
- (C)維護生物多樣性，以生態環境資源保育為重心
- (D)重視海洋資產的保護

