

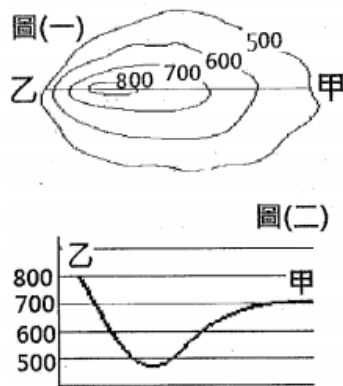
【讀卡科目請依規定畫卡，若有違反畫卡規定而影響讀卡作業之情事，一律扣總分五分。】

【手寫答案卷需確實寫上班級、座號、姓名，違者一律扣總分五分。】

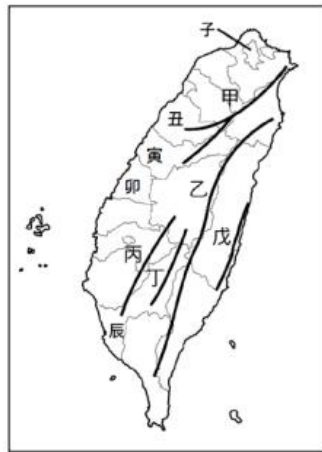
【手寫答案卷需用藍色或黑色墨水筆書寫，違者一律扣總分五分，使用鉛筆書寫扣五分。】

一、選擇題

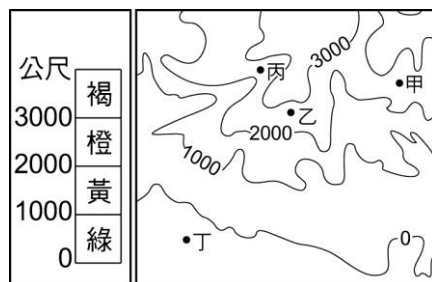
1. 有關圖（一）甲、乙兩點間的地表型態，下列何者說明正確？（A）靠近甲處的路段，坡度較為陡峭（B）甲、乙兩點間的地形剖面圖如圖（二）所示（C）甲、乙兩點間的最高處可達 950 公尺（D）甲、乙兩點間所呈現的地表景觀為丘陵地貌(p.39)



2. 丁丁暑假計畫與朋友外出旅遊，行程中將規劃經過下列地形區：（甲）大肚台地（乙）嘉南平原（丙）苗栗丘陵（丁）濁水溪沖積平原。若由南而北排列，則正確的順序是下列何者？（A）乙丁甲丙（B）乙甲丁丙（C）丁乙甲丙（D）丁甲乙丙(p.36)
3. 芳芳在新聞報導中看到世界各處所發生的地理現象，下列何者的地形作用力與其它三者不同？（A）南加州的斷層受到地震的影響而逐漸活躍，不排除引發規模八以上的強震（B）基隆河上游遇到堅硬的岩石而形成十分寮瀑布（C）喜馬拉雅山周遭的板塊運動持續進行中，高度仍有增加的可能（D）巴布亞紐幾內亞火山爆發，迫使近日剛重返家園的居民再度撤離(p.33)
4. 煒竣正在紀錄與家人從花蓮到臺東旅途中的所見所聞，其中一段為：「蜿蜒的公路上，美麗的风景盡收眼底，不遠處欣見山海之奇，當中我們還在右側山脈附近店家喝咖啡、品嚐美食，日子真是愜意……。」請問：「右側山脈」應是指右圖的何處？（A）乙（B）丙（C）丁（D）戊(p.36)

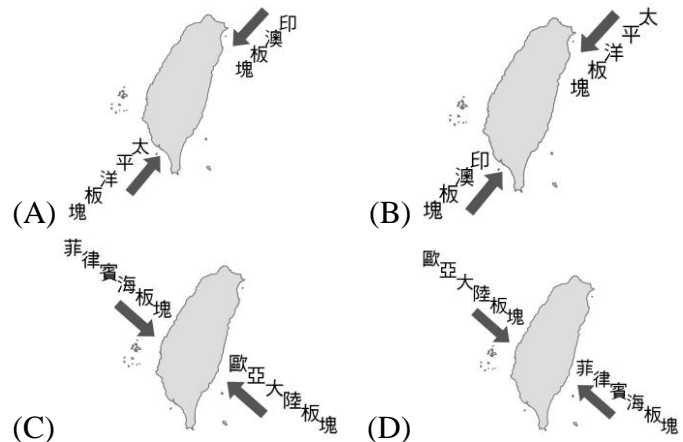


◎ 地理老師在課堂中繪製一張等高線地形圖，如右圖所示。請根據此圖，回答5-6題：

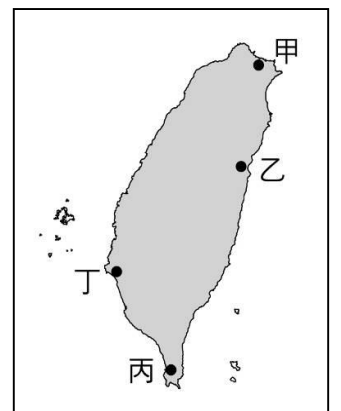


5. 若按圖中的高度表來繪製分層設色圖時，請問：甲地應塗上何種顏色？（A）綠色（B）黃色（C）橙色（D）褐色(p.39)
6. 根據圖中四處的等高線分布狀況判斷，請問：哪一地點最可能是河谷所在？（A）甲（B）乙（C）丙（D）丁(p.39)

7. 上地理課時，老師請四位同學上台繪製臺灣板塊示意圖，當中只有一位同學完全表達正確，請問應為下列哪一張圖所示？(p.33)



8. 承佑利用寒假期間開車前往臺東縣考察。他計劃從臺南市出發，不久後就會進入山區，走到底就到目的地了。請問：從承佑的描述中，我們可以知道，他必須穿過下列哪座山脈，才能從臺灣西部到達東部？（A）中央山脈（B）雪山山脈（C）海岸山脈（D）阿里山山脈(p.36)
9. 「○○島距離臺灣相當遙遠，故在此駐軍非常辛苦，除國防戰略需保護外，還要維護珊瑚礁的自然生態。」根據上述，請問：○○島應指下列何者？（A）金門列嶼（B）太平島（C）龜山島（D）釣魚臺列嶼(p.54-p.55)
10. 中正旅行社為柏勳一家人設計了幾組國內旅遊的沿海行程，請問：下列哪個方案的設計可能有誤？（A）搭乘牛車遊蚵田－西部海岸之旅（B）驚嘆北海岸－參觀深澳岬角之行（C）探訪壯麗珊瑚美景－墾丁龍坑生態保護區之行（D）沙灘排球PK賽－稱霸東海岸之旅(p.50)
11. 以下是聖恩在課堂上對（甲）金門列嶼、（乙）太平島、（丙）澎湖群島三個外島的比較，請問：下列敘述何者正確？（A）甲為珊瑚礁島（B）乙擁有罕見的海底溫泉（C）三者的形成原因皆不同（D）由北而南依序為甲乙丙(p.54-p.55)
12. 育帆一家人打算利用週末從高雄港坐船前往金門烈嶼參觀戰地史蹟，請問：船隻航行的方向應為下列何者？（A）西北方（B）西南方（C）東北方（D）東南方(p.54-p.55)
13. 右圖為臺灣海岸分布圖，請問：「乙」、「丁」海岸線雖然景觀大不相同，但卻具有下列哪項共同特色？（A）皆由珊瑚礁構成（B）皆多懸崖峭壁（C）皆多沙洲、潟湖（D）海岸線接較平直(p.50)



14. 下列關於目前臺灣海域範圍的敘述，何者**正確**？(A) 依據《海洋法公約》，經濟海域可視為國土的一部分 (B) 臺灣與菲律賓不會發生漁事糾紛 (C) 我國領海只包含本島的領海基線向外12浬範圍 (D) 臺灣與中國、日本對於釣魚臺列嶼的主權問題始終爭議不斷(p.52-p.53)

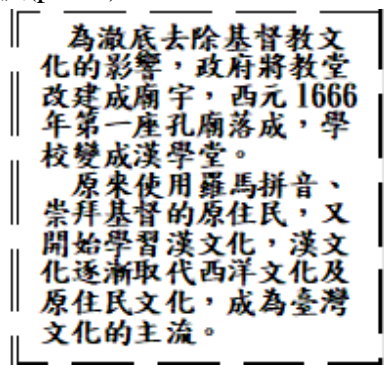
◎ 請根據下圖，回答15-16題：

15. 明宜回憶起與朋友去綠島朝日溫泉的景觀：「夜晚可仰望星空，觀海聽濤，晨間可迎接曙光……，真是愜意的溫泉之旅。」請問：明宜所至的地點應於圖中何處？(A) 丁 (B) 己 (C) 庚 (D) 辛(p.54-p.55)



16. 承上題，此處溫泉的成因可能為何？(A) 大陸棚廣大 (B) 珊瑚礁廣布 (C) 寒暖流交會 (D) 位於板塊接觸帶上(p.33)
17. 亮宇家在一個叫「內海仔」的地方，由地名可猜想，此種地形像是一種被包圍的海域範圍。依據地名判斷，請問：亮宇家所在的地方最可能是何種地形？(A) 沙洲 (B) 瀉湖 (C) 岬角 (D) 灣澳(p.50)
18. 荷蘭治臺時期，在臺灣的荷蘭統治當局會將刻有荷蘭聯合東印度公司標幟的藤杖，授予原住民部落中有地位的人士，這些人每年集會一次，在會中宣誓效忠荷蘭，並報告各轄區內的情形。請問：上述「有地位的人士」應是指下列何者？(A) 長老 (B) 傳教士 (C) 巫師 (D) 漢人官員(p.110)
19. 在人類學的調查中，發現許多部落社會，常以「游耕」方式維持生活。請問：這種耕作方式具有下列何種特色？(A) 已知道灌溉，所以可以大量栽種水稻 (B) 可以在一個地點長期耕作，保持土地肥力 (C) 屬於一種較為進步的耕作方式，生產力極高 (D) 此耕作方式經常需要更換耕作地，連帶居住部落可能也要遷徙(p.110)
20. 臺灣西部平原地區早期有許多平埔族人居住，當時臺南地區的平埔族是下列何者？(A) 凱達格蘭族 (B) 邵族 (C) 西拉雅族 (D) 噶瑪蘭族(p.110)

21. 安琪在書中看到如右圖中的一段文字。請問：這本書應該是在介紹臺灣哪一段歷史的內容？(A) 荷蘭在臺時期 (B) 鄭氏在臺時期 (C) 清帝國統治時期 (D) 西班牙在臺時期(p.113)



22. 在國際法當中，將「未成為國家的部落集團居住之地」視為「無主地」，十七世紀時的臺灣即在此原則下被認定是「無主地」，可以直接被合法占有。但事實上，當時的臺灣中部已有近似於王國的跨部落聯盟組織，一直是荷蘭人與鄭氏政權想要控制全臺的阻礙。請問：上述的部落聯盟指的是下列何者？(A) 卑南王國 (B) 馬賽王國 (C) 新港王國 (D) 大肚王國(p.113)
23. 鄭克塽降清後，朝廷中有兩派人馬爭論不休，其中一派

主張放棄臺灣，另一派則認為應該要保留臺灣，令當時的統治者大為困擾。請問：持留臺論者，其主要理由為何？(A) 保留臺灣不會增加國家財政的負擔 (B) 臺灣為未開發的彈丸小島，應積極派人拓墾 (C) 臺灣人口眾多，土地已開墾完畢 (D) 臺灣物產豐富，且戰略價值高(p.116)

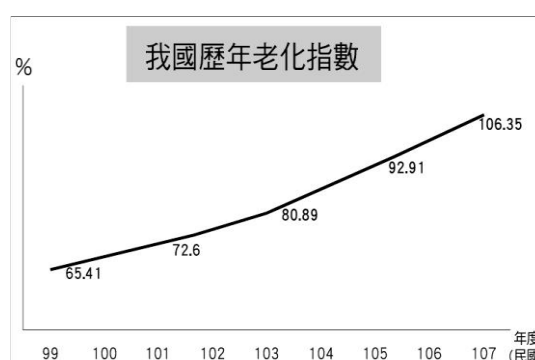
24. 中國大陸史學界對施琅有頗多研究，評價也很兩極。過去將他定位為背叛明朝，投降滿清的漢奸；之後為了宣揚「兩岸一家親」，則肯定施琅建議將臺灣納入版圖的事蹟，稱其功業有助於完成兩岸的統一。上述所提及施琅的功業，應是哪位皇帝在位期間的史事？(A) 順治皇帝 (B) 康熙皇帝 (C) 雍正皇帝 (D) 乾隆皇帝(p.116)
25. 下列何者為渡臺禁令的影響？(甲) 來臺漢人男女人口比例失衡 (乙) 羅漢腳充斥 (丙) 民間偷渡情形已不復見 (丁) 漢人與原住民從此和平共處。(A) 甲乙 (B) 甲丙 (C) 乙丁 (D) 丙丁(p.117)
26. 清朝統治臺灣初期，採取「為防臺而治臺」政策，政策之一包括「番界」的設立。請問：番界設立的目的主要為何？(A) 避免漢人與原住民的衝突 (B) 保護原住民的傳統文化 (C) 加強漢人與原住民的合作 (D) 教導原住民拓墾的技能(p.117)
27. 歷史老師上課時，在黑板上畫出臺灣地圖並標上土牛紅線，說明這條線於清代稱為「土牛線」、「土牛溝」，而土牛溝也俗稱臺灣的「萬里長城」。請問：今天歷史老師上課的主題最可能是下列何者？(A) 漢原隔離政策 (B) 水利灌溉建設 (C) 寓兵於農政策 (D) 軍事海防政策(p.117)
28. 阿銘到礁溪泡溫泉，路過名人故居，是一座逾百年之三合院，門外對聯寫著：「真成拓土無雙士、正是開蘭第一人」。為感念這位名人對宜蘭開墾的貢獻，這裡未來將規畫成紀念館。請問：上述的名人是誰？(A) 施琅 (B) 吳沙 (C) 鄭成功 (D) 劉銘傳(p.118)
29. 康熙末年，臺灣官吏文貪武嬉，政亂刑繁，民心謀反思變。起義軍很快地集結了一千多人，起義的旗幟上寫「大元帥朱」、「大明重興」、「清天奪國」等字樣，以示「反清復明」、「光復故國」。請問：此次事件應為下列何者？(A) 郭懷一事件 (B) 鄭經出兵中國 (C) 施琅攻臺 (D) 朱一貴事件(p.118)

30. 右圖是一張臺灣地區的行政區劃圖，由臺灣開發的方向加以判斷，哪一個行政區劃的設置時間最晚？(A) 嘉義縣 (B) 彰化縣 (C) 淡水廳 (D) 噶瑪蘭廳(p.118)



31. 清同治末年，日本以「懲辦凶手」為藉口，出兵攻打臺灣。請問：這是指下列哪一歷史事件？(A) 台灣開港通商 (B) 牡丹社事件 (C) 清法戰爭 (D) 朱一貴事件(p.119)
32. 劉銘傳在淡水修建「滬尾炮臺」，並在城樓親題「北門鎖鑰」，顯示淡水在海防上的重要地位。關於修建滬尾

- 炮臺的歷史背景，下列哪一敘述正確？(A) 劉銘傳加強臺灣國防設施是源自於日軍侵臺 (B) 牡丹社事件促使劉銘傳來臺督軍 (C) 清法戰爭爆發時劉銘傳在臺督辦軍事防禦 (D) 荷蘭與西班牙欲在臺競逐，故強化國防(p.120)
33. 西元 2018 年底，政府推出「暖冬旅遊補助」，主要是為了振興各地的觀光產業，包括景致宜人的「後山」地區。最早由官方主導修築通往「後山」(東部地區)的三條道路，並且廢除劃界封山政策，是在下列何人的主導下？(A) 沈葆楨 (B) 沈有容 (C) 陳永華 (D) 施琅(p.120)
34. 右圖是清帝國時期臺灣的行政區域變遷。請問：這個變化與下列哪個歷史事件有關？(A) 朱一貴事件 (B) 台灣開港通商 (C) 牡丹社事件 (D) 清法戰爭(p.121)
- 
35. 構成社會最小也是最重要的基本單位是下列何者？(A) 個人 (B) 學校 (C) 社團 (D) 家庭(p.166)
36. 朱昱與年紀相仿的哥哥興趣相投，時常利用假日相約打籃球，感情十分和睦。請問：朱昱與他的哥哥是屬於何種親屬關係？(A) 旁系血親 (B) 直系血親 (C) 姻親 (D) 法定血親(p.167)
37. 小彤和家人在玩桌遊時抽到 4 張字卡，下列哪一張字卡人物彼此之間屬於血親關係？(A) 舅舅、姑姑 (B) 叔叔、伯父 (C) 孀孀、伯父 (D) 公婆、媳婦(p.167)
38. 阿莉的家裡住有爺爺奶奶、爸爸媽媽、姑姑、叔叔孀孀與堂妹，每到晚上開飯時間，總是特別熱鬧。上述阿策的家庭，應是屬於何種家庭型態？(A) 大家庭 (B) 三代家庭 (C) 核心家庭 (D) 小家庭(p.169)
39. 我國《兒童及少年福利與權益保障法》針對深夜在外遊蕩、出入不良場所的少年之父母親或監護人，予以處罰或公布其姓名。此項規定的目的是在加強家庭對子女的哪種功能？(A) 經濟 (B) 生育 (C) 情感支持 (D) 保護與照顧(p.173)
40. 小樺抄寫了一篇筆記：「隨著社會的快速變遷，家庭功能也產生了變化，許多人忙於工作，□□補充了部分家庭的保護與照顧功能。」上述漏抄□□指的應是下列何者？(A) 便利商店 (B) 安養中心 (C) 百貨公司 (D) 傳播媒體(p.169)
41. 格林童話「灰姑娘」中，灰姑娘總是遭到繼母及繼母的兩位親生女兒的欺負，長年在外工作的父親卻一無所知

- 。由上判斷，灰姑娘一家的家庭型態應為下列何者？(A) 隔代教養家庭 (B) 大家庭 (C) 折衷家庭 (D) 重組家庭(p.170)
42. 受到人口結構價值觀轉變的影響，使得家庭關係與結構逐漸產生變化，家庭的組成方式也產生轉變。據上所述，以下哪些敘述是正確的？(A) 儘管自由風氣日盛，婚姻仍是生命必經的選擇 (B) 傳宗接代的觀念是華人社會文化恆久不變的價值 (C) 不再局限單一居住與就業場域，兩地家庭現象增加 (D) 女性就業比例提高，保有男主外女主內的工作分配(p.171)
43. 各縣市政府成立婦幼保護專線，提供受暴力侵害的被害人協談與諮詢，下列何者為其電話號碼？(A) 113 (B) 110 (C) 104 (D) 119(p.181)
44. 根據聯合國世界衛生組織的定義，當一個國家幾歲以上的老年人口比例超過7%以上時，就是「高齡化社會」？(A) 60歲 (B) 65歲 (C) 70歲 (D) 75歲(p.182)
45. 我國政府為了解決現代父母的生養難題，已開始擬訂各項政策因應。下列何者是目前我國政府已實施的因應方案？(甲) 實施育嬰假 (乙) 提供育兒津貼 (丙) 發放生育給付 (丁) 規定生養子女數的下限。(A) 甲乙丁 (B) 甲乙丙 (C) 甲丙丁 (D) 乙丙丁(p.182)
46. 根據臺灣地區統計資料，預估於西元2050年，總人口數將下降7%，勞動力大幅降低，勢必嚴重影響國家競爭力，據此，政府應該實施以下哪一政策較能有效解決此問題？(A) 提倡三代同堂觀念 (B) 開辦新住民識字班 (C) 提高幼兒托育補助 (D) 推動長照福利政策(p.182)
47. 為推動家庭平權，政府修訂《民法》相關條文，下列關於《民法》修訂後的家庭權利義務敘述何者正確？(A) 婚後妻子須冠夫姓 (B) 子女皆有扶養年老父母的義務 (C) 夫妻婚後財產由丈夫支配 (D) 子女姓氏由父親決定(p.180)
48. 右圖是我國內政部統計處歷年老化指數圖。根據圖中資訊，政府提供應哪一措施因應此趨勢？(A) 開設生活適應班 (B) 辦理第二專長就業輔導 (C) 發放育兒津貼 (D) 增設老人日托中心，老人安養服中心(p.182)
- 
49. 我國《家庭暴力防治法》將同居關係納入家庭暴力保護的適用範圍。從這項法律的修訂，可以看出下列哪項意涵？(A) 鼓勵戀愛中的男女組成家庭 (B) 維護父權體制的價值觀念 (C) 尊重不同家庭型態的選擇 (D) 改變傳統的家庭價值(p.181)
50. 依據《家庭暴力防治法》規定，家庭暴力是指「家庭成員間實施身體、精神或經濟上之騷擾、控制、脅迫或其他不法侵害之行為」，下列有關《家庭暴力防治法》的敘述何者正確？(A) 被害人親屬亦可代替被害人向家暴防治中心通報 (B) 被害人可直接向警察機關聲請保

護令（C）該法所指的家庭成員須具備《民法》上的親
屬關係（D）被害人只能撥打113保護專線，其他專線不
受理(p.181)