

# 新北市立中正國民中學113學年度第一學期八年級社會科第一次段考試題

範圍：公民 B3L1~2、歷史 B3L1~2-1、地理 B3L1~2-1 班級：\_\_\_\_\_座號：\_\_\_\_ 姓名：\_\_\_\_\_





【讀卡科目請依規定畫卡，若有違反畫卡規定而影響讀卡作業之情事，一律扣總分 5 分。】

## 一、選擇題 共40題，每題2.5分

1. 現在的聯合國海洋法公約是在西元1982年時歷經3次會議後，所正式通過的公約，此公約對於(甲)領陸、(乙)領海、(丙)領空、(丁)經濟海域有相關的規定，請依據以上敘述的內容，選出屬於國家領土範圍的區域？

- (A)甲乙丙
- (B)甲乙丁
- (C)甲丙丁
- (D)甲乙丙丁(P.152)

2. 安迪在暑假時去美國遊玩，他使用了許多圖案跟全班同學介紹他的所見所聞，他還把所見所聞與公民課的觀念加以結合，請問：以下何者是國家的組成要素？(P.152)

- (A)  美國國旗
- (B)  美國護照
- (C)  美國國歌
- (D)  自由女神像

3. 國家和政府在我们的生活中扮演重要角色。請問：以下哪一個選項正確地說明了國家和政府的差別？(P.154)

- (A)國家和政府是完全相同的意思
- (B)國家和政府都擁有相同的權力
- (C)國家是由四個要素所組成，而政府僅是國家的一部分
- (D)政府權力來自於國家的持續性，並不受人民選舉影響

4. 主權是國家最高的統治權力，由全體國民所賦予，具有決策的權力。請問：以下哪一個選項符合主權對內的最高性？(P.152)

- (A)每一個國家都不可以自行決定是否要加入國際組織
- (B)每一個國家都可以自行制定自己國內的法律和政策
- (C)國家對其領土上的一切事務必須經過其他國家同意
- (D)國家在領土內的權力受到其他國家直接監督與干涉

5. 政府是管理國家與執行政策的機構，必須根據民意來制定政策，並對施政結果負責。此外，政府的每一項政策與行動都必須在法律的框架內進行。以上這些管理國家的方式，使政府具有合法性與正當性。根據上述的內容，以下哪一項最能說明「法治政治」的概念？(P.156)

- (A)政府制定政策時必須遵守法律
- (B)政府根據人民的意見修改法律
- (C)政府制定政策須依據領導者意志
- (D)政府制定政策不需要人民的支持

6. 2024年美國總統選舉中，民意的影響再次成為焦點，尤其在最近的辯論中，兩位主要候選人分別針對選民的經濟、移民等關鍵問題表態。請問：以下哪一個選項正確地說明了「民意政治」在選舉中的作用？(P.156)

- (A)候選人應避免提及民眾關心的議題，專注於攻擊對手
- (B)民意政治鼓勵領導者忽視選民需求，專注於鞏固權力
- (C)政府無需考慮多數選民的意見，由領導者決定即可
- (D)選舉是民意政治關鍵，通過選舉能夠影響政府政策

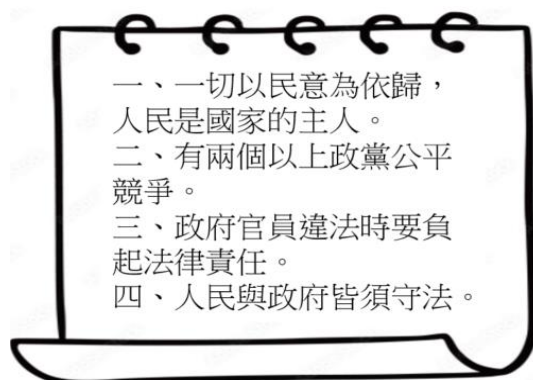
7. (圖1) 是小禾和小東針對國家和政府的二者關係，進行討論的部分對話內容。若小禾要進一步回答小東的疑問，則下列何項回答正確？(P.154)



(圖 1)

- (A)國家不會因為選舉而被取代或滅亡
- (B)實現國家的功能需要政府執行政策
- (C)政府會受到政權轉移而改變或取代
- (D)國家是具有穩定性及持續性的實體

8. 認真的萱亭在段考前將公民課本的內容製作成圖(2)的筆記，但她不小心漏寫了標題，請問：以下何者較適合做為圖(2)的標題？(P.156)



(圖 2)

- (A)國家與政府之間的差異
- (B)國家提供的福利與權益
- (C)獨裁國家應具備的特色
- (D)民主國家應具備的特色

9. 法治社會強調法律的至高無上，並透過憲法、法律和命令的位階來保障人民的權利與限制政府的權力。請問：下列何者較能正確描述法治社會的特徵？(P.162)

- (A)政府能隨意更改法律，無需顧慮人民權利
- (B)法律的位階無需分層，所有法律效力相同
- (C)憲法位階最高，法律和命令不得違反憲法
- (D)人治社會與法治社會之間沒有明顯的差別

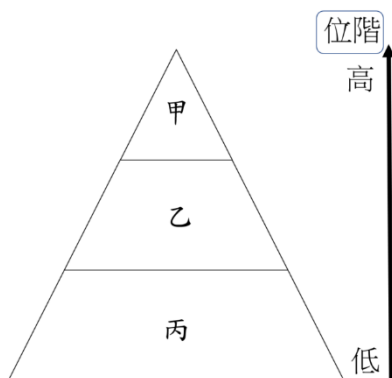
# 新北市立中正國民中學113學年度第一學期八年級社會科第一次段考試題

範圍：公民 B3L1~2、歷史 B3L1~2-1、地理 B3L1~2-1 班級：\_\_\_\_\_ 座號：\_\_\_\_ 姓名：\_\_\_\_\_

10. 小明居住在工業區旁邊，某天，他發現居住的社區因政府計劃要將工業區改造成科學園區而被徵收，居民們必須遷出。面對這種情況，以下是小明與鄰居的對話內容，請問：下列的敘述何者正確？(P.162)

- (A) 居民有權拒絕政府的徵收計劃，因為居民的權利高於政府的權力
- (B) 政府徵收土地時可以隨意決定遷移時間，無需考慮居民的權利
- (C) 政府對於人民無需任何補償，因為政府的權力高於居民的權利
- (D) 政府有權力依法徵收居民的 land，但也須依法保障居民的權利

11. 圖(3)是法律的位階圖，嚴老師為了確認同學們是否已經熟悉與此位階圖相關的法律概念，以下是有關圖(3)中甲、乙、丙的敘述，以下何者正確？(改題自習作P.45)



(圖 3)

- (A) 丙所指的法律須經過公民投票複決
  - (B) 丙所指的法律必須經總統公布施行
  - (C) 甲所指的法律內容多為原則性規範
  - (D) 乙位階的法律得牴觸甲位階的法律
12. 我國於民國111年舉行史上第一次憲法修正案公民複決第1案，圖(4)是翔平參加此次公民投票複決時，到投票所領到的公投票，請問：若此公投要順利通過，必須依據以下何項法律之規定？(P.164)

<div style="text-align: center;"><b>1</b></div> <div style="text-align: center;"><b>憲法修正案複決公投票</b> (簽閱防)</div> <div style="text-align: right;">○○縣(市)選舉委員會印製</div>	圈選	
	同意	不同意
	<b>1</b>	
	<p>中華民國憲法增修條文增訂第一條之一條文修正案： 第一條之一 中華民國國民年滿十八歲者，有依法選舉、罷免、創制、複決及參加公民投票之權。除本憲法及法律別有規定者外，年滿十八歲者，有依法被選舉之權。 憲法第一百三十三條之規定，停止適用。</p>	

(圖 4)

- (A) 《中央法規標準法》
- (B) 《中華民國憲法》
- (C) 《中華民國憲法修正條文》
- (D) 《大憲章》

13. 憲法作為國家的根本大法，具有多項重要特性。請根據圖(5)1.~3.的描述，判斷出其相應的憲法特性。請選出以下順序完全正確者？(改題自習作P.45)

1. 憲法規定的內容通常為國家基本政策與人民的基本權利且簡潔明瞭，以便指導其他法律的制定
  2. 憲法在國家法律體系中具有最高地位，所有法律與命令不得與之抵觸
  3. 憲法修正程序嚴格以確保國家穩定，避免頻繁變動

(圖 5)

- (A) 「固定性」，「原則性」，「最高性」
  - (B) 「固定性」，「原則性」，「最高性」
  - (C) 「最高性」，「固定性」，「原則性」
  - (D) 「原則性」，「最高性」，「固定性」
14. 近期，為了改善「行人地獄」的問題，政府根據《道路交通管理處罰條例》加強規範，明定駕駛人必須在行人穿越道前暫停讓行人先行通過。行政機關隨後發布了相關的實施細則，以便具體執行這些規定。根據法律位階與行政命令的概念，下列敘述何者正確？(P.165)
- (A) 《道路交通管理處罰條例》是命令，實施細則是法律
  - (B) 《道路交通管理處罰條例》是法律，實施細則是命令
  - (C) 《道路交通管理處罰條例》是憲法，實施細則是命令
  - (D) 《道路交通管理處罰條例》是法律，實施細則是憲法
15. 近期，有關於將選舉權年齡從20歲下修至18歲的修憲案引發討論。根據憲法的三大特性與修憲程序，請問下列哪一項正確描述了修憲的過程與憲法的特性？(P.163-164)
- (A) 修正憲法須經過立法院的提案，公告半年，由選舉人投票複決，顯示了憲法的固定性，保證不易頻繁改變
  - (B) 憲法的最高性意味著任何法律與命令都必須遵守憲法，且修憲過程較為簡單，只需立法院通過即可
  - (C) 憲法的原則性是指其內容極為具體，所有條文都必須包含詳細的執行方法
  - (D) 憲法修正案立法院通過後，即刻生效，因為憲法高於其他法律
16. 由於某些國家存在的童婚問題近來受到國際關注，有部分國家已有法律禁止童婚，但實際執行卻受到地方權貴或宗教領袖的阻礙，使得法律有無法落實的情況。下列與童婚相關的敘述何者正確？(P.162)
- (A) 地方權貴或宗教領袖干預落實禁止童婚的法律，這是人治社會的特色
  - (B) 決定是否禁止童婚應由地方領袖而非法律規定，這是法治社會的特色
  - (C) 政府應確保法律的實施，保障兒童免受童婚侵害，這是人治社會的特色
  - (D) 在法治社會中，政府應依賴傳統習俗處理童婚問題，無需落實法律規定

後面尚有試題，請繼續作答



# 新北市立中正國民中學113學年度第一學期八年級社會科第一次段考試題

範圍：公民 B3L1~2、歷史 B3L1~2-1、地理 B3L1~2-1 班級：\_\_\_\_\_ 座號：\_\_\_\_ 姓名：\_\_\_\_\_

## 一、選擇題

17. 東周時期，齊桓公率領其他諸侯進攻楚國，楚國詢問齊國發兵的原因。齊國大臣說：「你們楚國沒有準時進貢祭祀用品，延誤周天子祭祀，因此我們國君為此前來問罪。」請問：以上事件反應當時的什麼情況？  
(A)齊國已統一其他諸侯，並且任意擴張  
(B)周天子實力強大，能直接鎮壓各地諸侯  
(C)楚國脫離周天子掌控，並轉為臣服齊國  
(D)東周王室的威嚴下降，諸侯勢力坐大。(P.92)
18. 「達瓦孜」是源自維吾爾族的走鋼絲技藝，意指「空中走大繩」，又有「走索」、「踏軟索」等說法。在張衡描繪長安繁華的《西京賦》中可見「臨回望之廣場，呈角抵之妙戲……跳丸劍之揮霍，走索上而相逢。」的記載。請問：這項雜耍技藝會在中國出現，最有可能與下列何者較為相關？  
(A)張騫出使西域後的文化交流  
(B)北方戰亂導致漢人往南遷徙  
(C)漢武帝主張胡漢通婚的政策  
(D)秦始皇推行的統一文字政策(P.98)
19. 「他們相信神明與祖先掌握著人的禍福安危，因此需要不斷地祭祀和祈求他們的保佑。他們通常使用青銅鑄造的禮器，以象徵自身的身份和地位，也象徵人與神之間的和諧。」請問使用青銅器作為禮器的「他們」最有可能是下列何者？  
(A)商朝的奴隸 (B)商周的貴族 (C)秦朝的平民 (D)魏晉的世族。(P.91)
20. 考古人員在中國湖南省發現秦代的戶籍檔案，上面分為五欄，清楚記載戶主喜甲的出生地、爵位、姓名，還有妻子的名字，小孩及奴隸共有7、8個人。他之後還當上伍長，負責幫鄉里居民跑腿、處理雜事，平時要監管鄰居的行為舉止，鄰居若犯法，周邊的住戶也會受到牽連。請問關於此時期的敘述下列何者正確？  
(A)喜甲如果想到中央當官必須進入太學且熟悉儒學  
(B)當時的君主下令要求喜甲與村民改成漢人的姓氏  
(C)喜甲到外地雖語言不通但可以透過書寫文字交流  
(D)喜甲是虔誠的佛教徒經常出入寺廟與閱讀佛經。(P.93)
21. 絲路作為古代的重要交通要道，也促進了中西的文化交流。漢代商人攜帶絲綢從長安出發到西域貿易，最遠曾到達下列何處？  
(A)吐蕃 (B)大秦 (C)新羅 (D)安息。(P.98)
22. 唐代初年，藉由科舉入仕的平民宰相，所占比例不超過一成；但到了唐代後期，其比例已經超過八成。這個制度對中國歷史的影響，下列何者錯誤？  
(A)此制度沿用至清末 (B)世家大族因此而逐漸沒落  
(C)提升社會階級的流動 (D)形成累世當官的現象。(P.94)

23. 「范雎雖然是庶民出身，但因當時各國戰爭頻繁，併吞激烈，他提出的『遠交近攻』戰略受到秦國國君的賞識得到重用，最終甚至成為了宰相。」根據上文，下列對於當時政治狀況的敘述何者正確？  
(A)國君開始重用有才能的平民參與政治  
(B)為了壓抑世族的勢力改推行科舉考試  
(C)平民無法接受教育因為貴族壟斷知識  
(D)此時期封建制度與宗法制度非常盛行。(P.92)
24. 在進入中原的胡族當中，以「甲」族建立的政權勢力最盛，其推動了漢化政策，對胡漢融合有關鍵性的作用。後來的隋唐帝國，即是承繼了這支民族的文化，締造輝煌的盛世。關於「甲」族的敘述何者錯誤？  
(A)該族君主鼓勵說漢語、穿漢服  
(B)該族君主將首都從平城遷至洛陽  
(C)日本也曾派遣使節學習該族制度  
(D)胡人的飲食習慣也影響到漢人 (P.99)
25. 關於商朝與西周的比較，小桐為了準備段考製作了表格請問下列何者錯誤？ (P.92)

選項	項目	商朝	西周
(A)	發源地	黃河下游	黃河中游
(B)	土地制度	皆有分封土地給地方諸侯	
(C)	與諸侯關係	控制有限關係鬆散	分封親戚與友邦
(D)	社會狀況	貴族掌握禮樂區別身分等級	利用宗法強調血緣關係

## ◎第26-27為題組

世族子弟不論賢愚，皆通過□□進入政府，出任清官。時間既久，代代沿襲，成為固定制度。高高在上的世族子弟從小也就不必努力，其素養日益低落，談不上政治能力。例如南朝劉宋時期，王敬弘擔任尚書僕射（約當今行政院副院長），卻從來不看公文。

有一次參加訴訟審理，宋文帝問王敬弘對這案子的看法，王敬弘不回答。宋文帝臉色都變了，問旁人：「為什麼不給王僕射副本？」王敬弘這才說：「臣得到案件副本讀過，就是不了解。」這讓宋文帝很不高興，但他也沒有再說什麼。此後皇帝雖然仍對王敬弘恭恭敬敬，但再也沒有把實際工作交給他。

26. 根據上文請問世族子弟都是透過何項制度當上官員？  
(A)科舉制度 (B)封建制度 (C)察舉制度 (D)九品官人之法。(P.94)
27. 關於王敬弘這些世族子弟的生活下列敘述何者錯誤？  
(A)享有減免賦役的經濟特權  
(B)任官必須符合孝順或清廉  
(C)甚至皇帝也需向世族妥協  
(D)擁有大量土地經濟實力雄厚。(P.94)

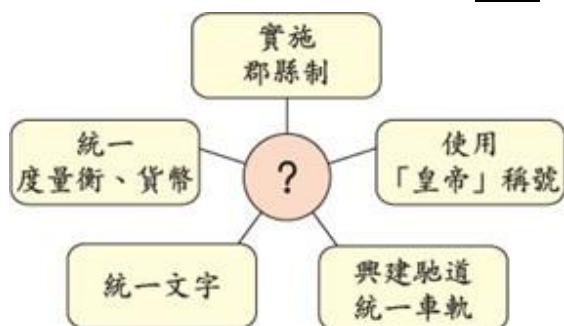
新北市立中正國民中學113學年度第一學期八年級社會科第一次段考試題

範圍：公民 B3L1~2、歷史 B3L1~2-1、地理 B3L1~2-1 班級：\_\_\_\_\_ 座號：\_\_\_\_ 姓名：\_\_\_\_\_

28. 元稹為唐朝著名詩人，其家族顯赫是鮮卑族拓跋氏皇族的後代。請問將姓氏「拓跋」改成「元」的政策是下列何人的政策？

(A)漢武帝 (B)唐太宗 (C)秦始皇 (D)北魏孝文帝  
(P.99)

29. 下圖為阿齊統整的筆記，同學們七嘴八舌的討論，關於此筆記的討論下列哪位同學的說法是正確的？



- (A)小泰：我知道！推行這些政策的皇帝是漢武帝。  
(B)阿宗：這些政策象徵中央集權，不再分封土地。  
(C)琳琳：這個皇帝還設立太學專門教授儒家思想。  
(D)阿紹：這個皇帝滅了東突厥還被尊稱為天可汗。  
(P.93)

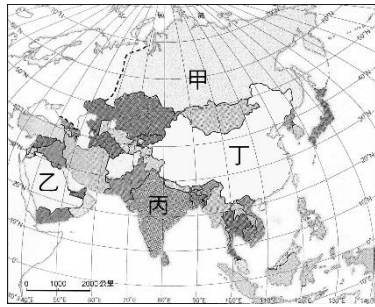
後面尚有試題，請繼續作答

# 新北市立中正國民中學113學年度第一學期八年級社會科第一次段考試題

範圍：公民 B3L1~2、歷史 B3L1~2-1、地理 B3L1~2-1 班級：\_\_\_\_\_ 座號：\_\_\_\_ 姓名：\_\_\_\_\_


30. 右圖為亞洲國家的疆域，中國位在圖中哪個代號的位置？(P.6、7)

(A)甲  
(B)乙  
(C)丙  
(D)丁



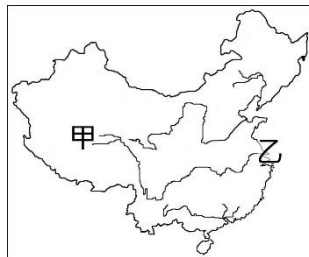
31. 中國擁有五大類種類的地形，其中面積比例較低的丙、戊分別是哪一類地形？(P.8)

(A)高原、山地  
(B)山地、盆地  
(C)平原、丘陵  
(D)盆地、高原



32. 長江是中國最長的河川，長度居世界第三，源於圖中的甲地，下游為乙地。甲、乙分別是哪2個地理區？(P.10、11)

(A)青藏高原、長江中下游平原  
(B)橫斷山脈、珠江三角洲  
(C)黃土高原、華北平原  
(D)內蒙古高原、東北平原

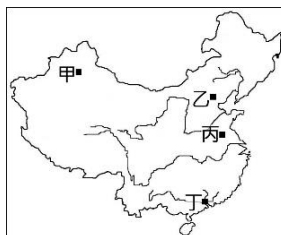


33. 哈爾濱(位在東北的黑龍江省)與三亞(位於華南的海南省)是中國的旅遊勝地，每年冬季有不同的觀光賣點，哈爾濱舉辦冰雕節，遊客穿著厚重冬衣欣賞雪景；同時間三亞仍維持一派熱帶景象，身著輕便衣物玩樂。造成上述兩地冬季氣候差異的因素是什麼？(P.13)


(A)地勢高低 (B)緯度差異  
(C)季風性質 (D)距海遠近

34. 江蘇省淮安市有一座以氣候作為代表的觀光景點—南北地理分界線標誌園，簡介如下表。依據敘述，這個景點位於右圖中何處？(P.13)

(A)甲 (B)乙 (C)丙 (D)丁



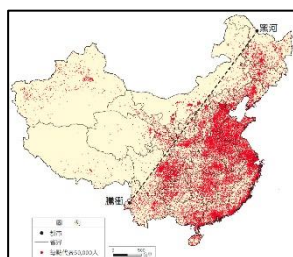
1.代表建築是橫跨淮河的橋樑，橋中央是球型建物—標誌球。



2.橋梁與標誌球由南往北按暖冷色調過渡，藍色代表冷、紅色代表熱，中央的白色代表冬季0度的位置。

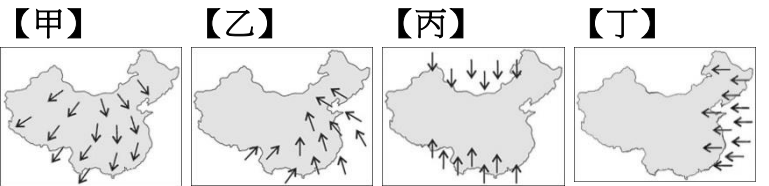
35. 中國擁有14億人口，分布的位置如右圖，在黑河—騰衝連線以東(東側)是人口密集的区域，與連線以西(西側)呈現對比。中國人口集中在東側的環境條件是什麼？(P.15、21、24)

(A)季風吹拂，降水較豐  
(B)山地分布，地勢崎嶇  
(C)距海較近，水氣量少  
(D)終年積雪，氣候嚴寒

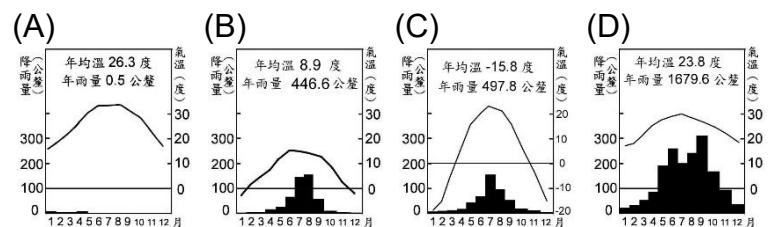


36. 中國傳統的建築物多採「座北朝南」的位置，意思是房屋背朝北，門開在南側，這樣的設計可迎入冬季的陽光、避免「寒風」吹入，夏季則能避免「潮溼的水氣」，避開下午的直射陽光。上述的寒風、潮溼的水氣各來自下列哪一個盛行風？(P.14)

(A)甲、乙 (B)乙、甲  
(C)丙、丁 (D)丁、丙



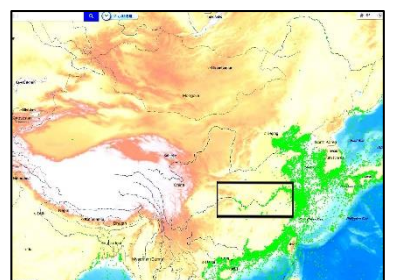
37. 受到氣候的影響，居住在塔里木盆地的維吾爾族傳統生活方式為「游牧」，牧民驅趕綿羊、山羊、駱駝等牲畜逐水草而居。上述維吾爾族居住的區域，具有下列哪個氣候圖代表的自然環境？(P.16、22)



38. 饅頭、包子、湯包等食品均以小麥磨製的麵粉製作，源自盛產小麥的「甲地」，流傳至各地形成地方特色小吃，如臺灣的小籠包源自灌湯包(又稱灌漿饅頭)，採即蒸即食、一口吃掉的吃法，麵皮包著皮凍，蒸製後成為美味的湯汁。上述的甲地最可是何處？(P.22)

(A)秦嶺、淮河以北的華北  
(B)秦嶺、淮河以南的華南  
(C)中國緯度最低的海南省  
(D)中國西南方的西藏

39. 長江河運量居世界之冠，提供流域各地的客貨運輸，經濟發展、人口數量均優於其他流域，右圖方框內的船舶衛星定位，顯示船隻分布與水運方向。請問：長江水運便利的環境條件是什麼？(P.22)



(A)河川經過崎嶇的高原，水運是唯一的交通方式  
(B)流域終年高溫多雨，提供全年不間斷的運輸  
(C)長江由南向北貫穿地形的高階、中階、低階  
(D)降水量多且冬季不結冰，河川可通航的里程長

40. 蒙古包是草原上的民族，因為逐水草而居，經常要搬遷，傳統以毛皮覆蓋木頭支架搭建帳棚，作為生活起居的住所，是適宜乾燥氣燥的民居形式。蒙古包是右圖哪個地點的傳統民居？(P.23)

(A)甲 (B)乙  
(C)丙 (D)丁

